

Užduotys

3 klasei

2019 m. pasaulio pažinimo olimpiada



1. Per kiek laiko Žemė apsisuka apie savo ašį?

A per 24 val.

B per 7 dienas

C per 31 dieną

D per 365 dienas



2. Kuris miestas yra Suvalkijos sostinė?

A Alytus

B Marijampolė

C Panevėžys

D Telšiai



3. Kaip vadinamas šis prietaisas?

- A barometras
- B termometras
- C kompasas
- D anemometras



4. Kuris iš šių paukščių neskraido?

A 1

B 2

C 3

D 4



5. Kurioje šalyje statomi tokie tradiciniai pastatai?

A Australijoje

B Egipte

C Kinijoje

D Prancūzijoje



6. Kaip vadinamas tokio tipo laivas?

A jachta

B kateris

C keltas

D krovininis laivas



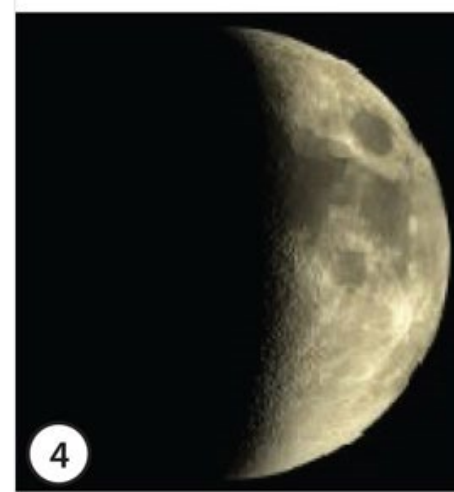
7. Kurioje iš fotografijų užfiksuotas mėnulio priešpilnis?

A 1

B 2

C 3

D 4



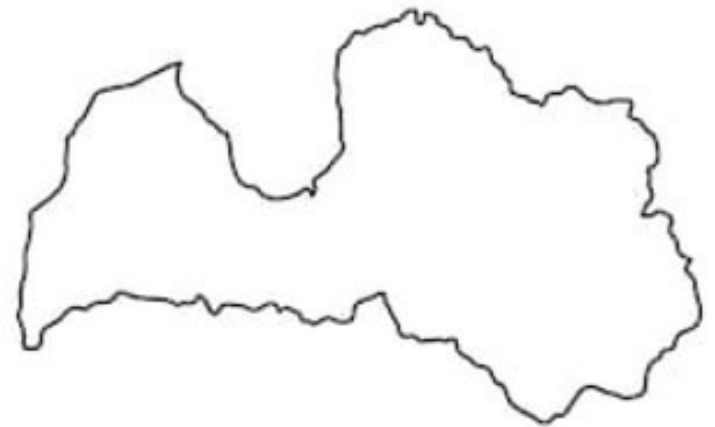
8. Kurios valstybės kontūrai ir vėliava pavaizduoti?

A Estijos

B Baltarusijos

C Latvijos

D Lenkijos



9. Kuris iš gamtos objektų gali padėti susiorientuoti nežinomoje vietoje?

A ežeras

B debesis

C miško takas

D skruzdėlynas

10. Kurioje valstybėje prasideda ilgiausia Lietuvos upė?

A Baltarusijoje

B Estijoje

C Latvijoje

D Lenkijoje



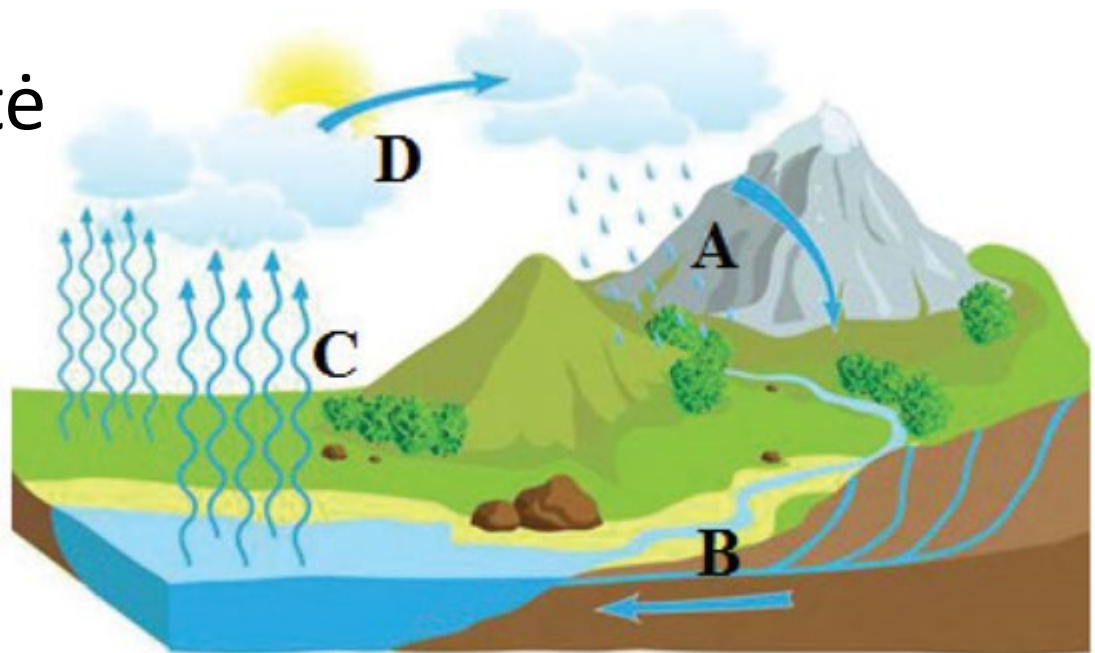
11. Kaip vadinamas procesas, pavaizduotas C raide?

A garavimas

B lydymasis

C kondensacija

D saulės spinduliuotė



12. Koks yra vidutinis Lietuvos aukštis virš jūros lygio?

- A 20 metrų virš jūros lygio
- B 100 metrų virš jūros lygio
- C 500 metrų virš jūros lygio
- D 1000 metrų virš jūros lygio

13. Po kurią jūrą plaukiojo garsusis kapitonas Džekas Sperou?

A Baltijos

B Juodąją

C Karibų

D Viduržemio



14. Kurioje saloje „gyvena“ šie animacinio filmo herojai?

A Kubos

B Madagaskaro

C Sicilijos

D Šri Lankos



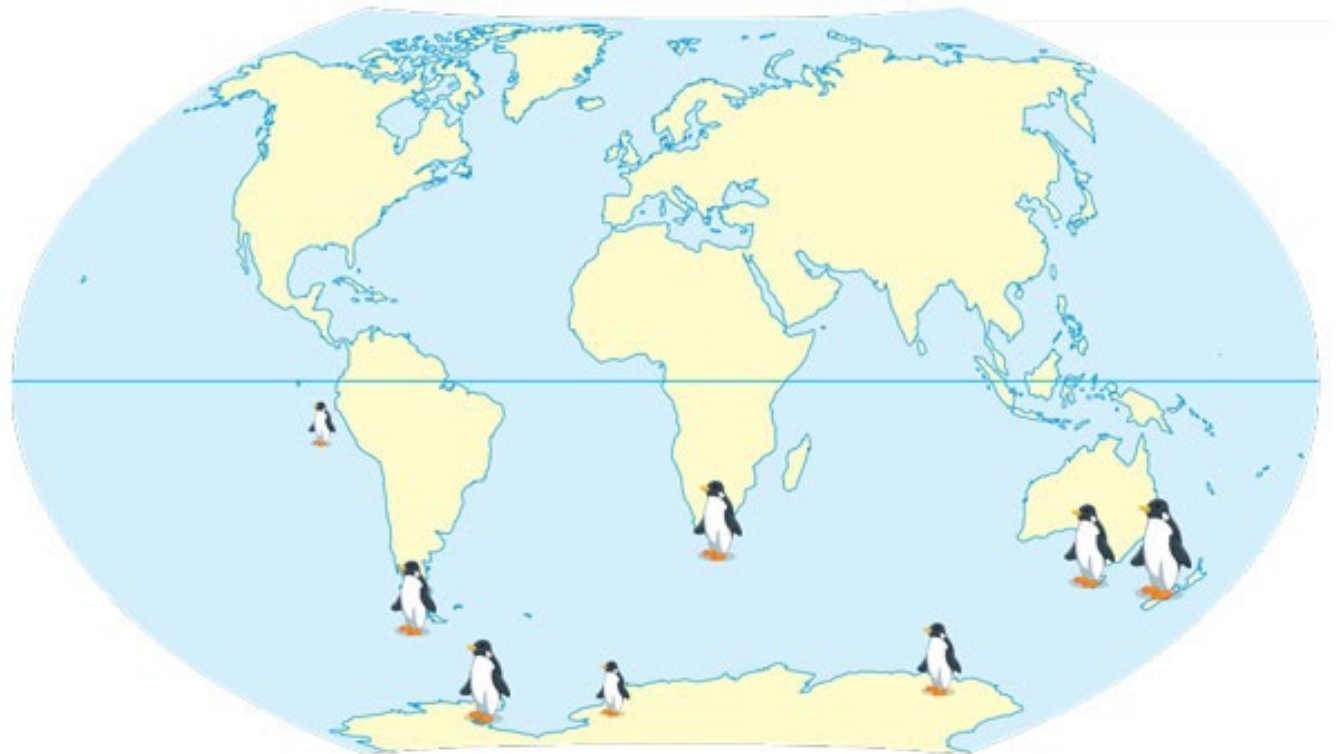
15. Kuriame žemyne negyvena pingvinai?

A Antarktidoje

B Afrikoje

C Australijoje

D Azijoje



16. Kur Lietuvoje yra ši vietovė?

- A Jurbarkė
- B Kaune
- C Kernavėje
- D Trakuose



17. Kurio žemyno kontūras čia pavaizduotas?

A Afrikos

B Antarktidos

C Australijos

D Azijos



18. Kuris gyvūnas nedera prie kitų?

A dramblys

B elnias

C kengūra

D lapė



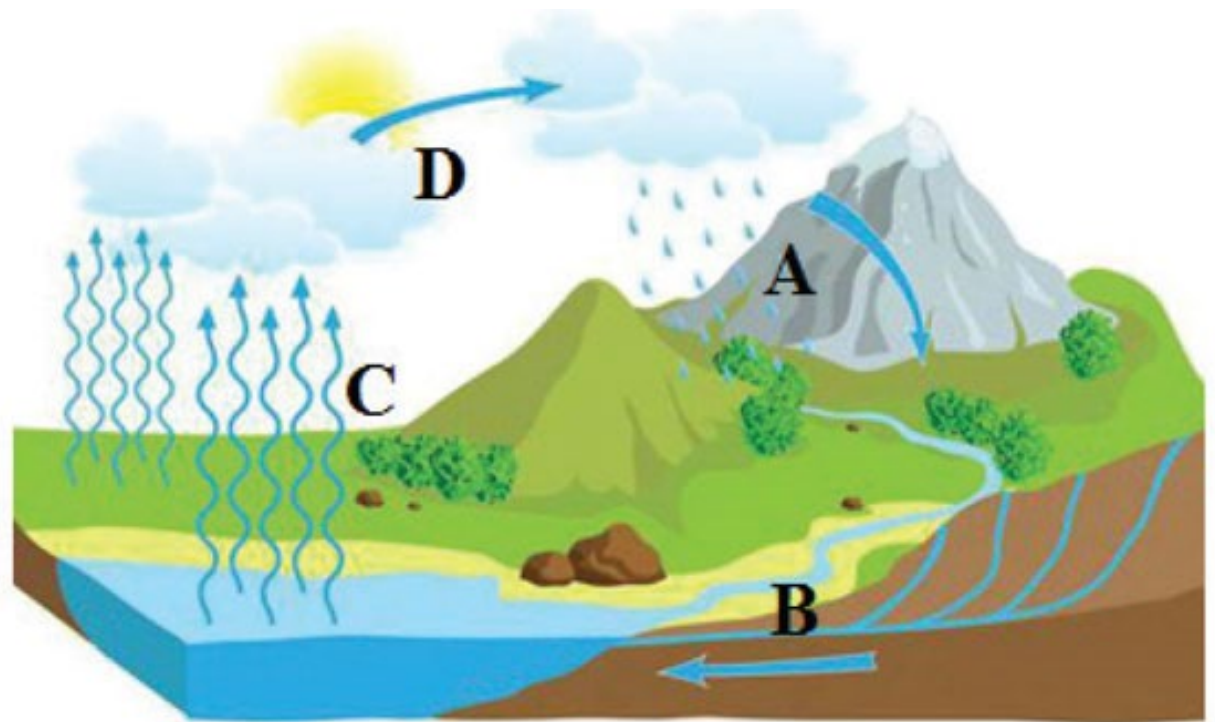
19. Kurioje eilutėje teisingai nurodytas vandens judėjimas Žemėje?

A A, B, C, D

B B, C, D, A

C D, A, B, C

D C, D, A, B



20. Kurioje Lietuvos etnografinėje srityje yra didžiausias Lietuvoje Barstyčių akmuo?

A Aukštaitijoje

B Dzūkijoje

C Suvalkijoje

D Žemaitijoje



Užduotys
4 klasei
2019 m. pasaulio pažinimo
olimpiada



1. Kurioje iš fotografijų užfiksuotas mėnulio priešpilnis?

A 1

B 2

C 3

D 4



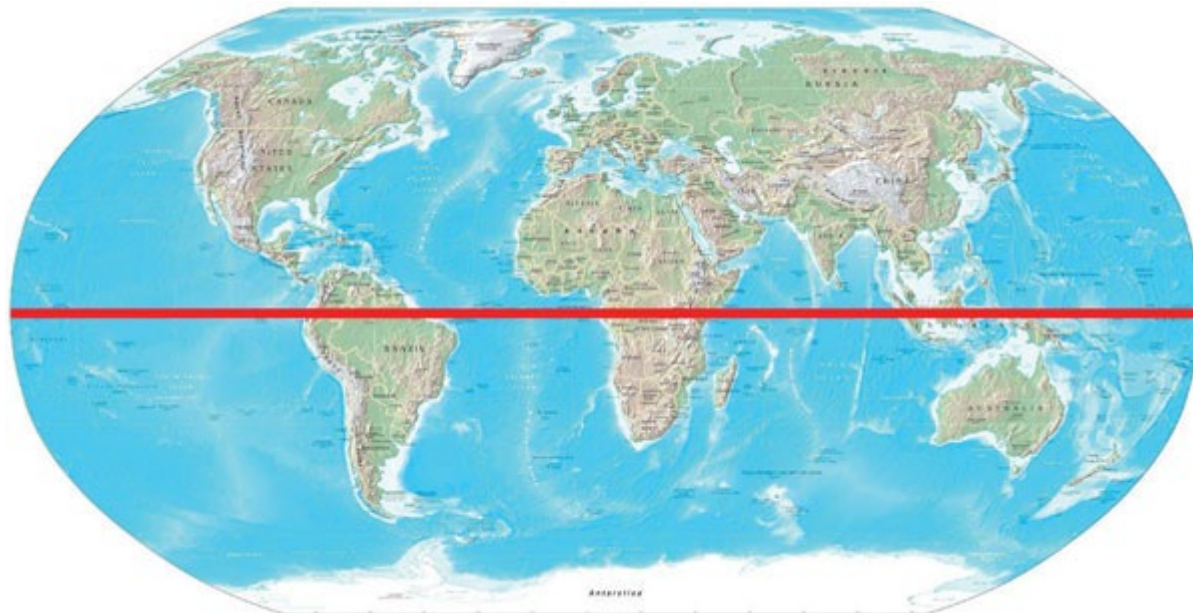
2. Kuriuos žemynus kerta pusiaujas?

A Afriką, Aziją, Australiją

B Pietų Ameriką, Afriką, Aziją

C Pietų Ameriką, Afriką, Australiją

D Šiaurės Ameriką, Pietų Ameriką, Afriką



3. Europos vakarinius krantus skalauja:

A Arkties vandenynas

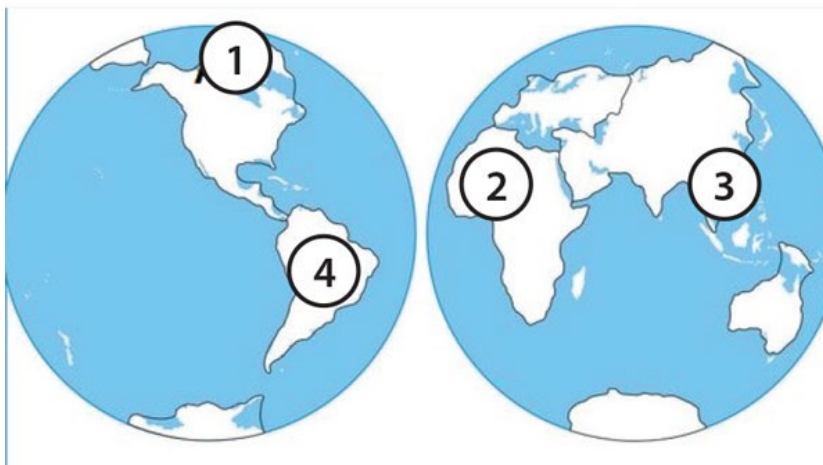
B Atlanto vandenynas

C Indijos vandenynas

D Ramusis vandenynas

4. Kuriuo skaičiumi pažymėtoje pasaulio vietoje tradiciškai statomi tokie nameliai?

- A 1
- B 2
- C 3
- D 4



5. Kada buvo atkurta Lietuvos valstybė?

- A 1253 m. liepos 6 d.
- B 1918 m. vasario 16 d.
- C 1989 m. rugpjūčio 23 d.
- D 1990 m. kovo 11 d.


6. Kuriame atsakyme teisingai eilės tvarka išvardyti medžiai?

A beržas, ąžuolas, eglė, liepa

B gluosnis, kaštonas, ąžuolas, beržas

C beržas, gluosnis, ąžuolas, liepa

D liepa, gluosnis, kaštonas, beržas



7. Į kurį žemyną skrenda žiemoti baltieji gandrai?

A Afriką

B Antarktidadą

C Australiją

D Pietų Ameriką



8. Kuris iš spygliuočių medžių Lietuvoje rudenį meta spyglius?

A eglė

B kadagys

C maumedis

D pušis



9. Kas yra žemėlapių legenda?

- A paaiškinimas, kas sukūrė žemėlapių
- B pasakojimas apie žemėlapių istoriją
- C žemėlapių pavadinimų sąrašas
- D ženklų žemėlapyje paaiškinimas



10. Kuriame žemyne yra tik viena valstybė?

A Afrikoje

B Australijoje

C Europoje

D Šiaurės Amerikoje



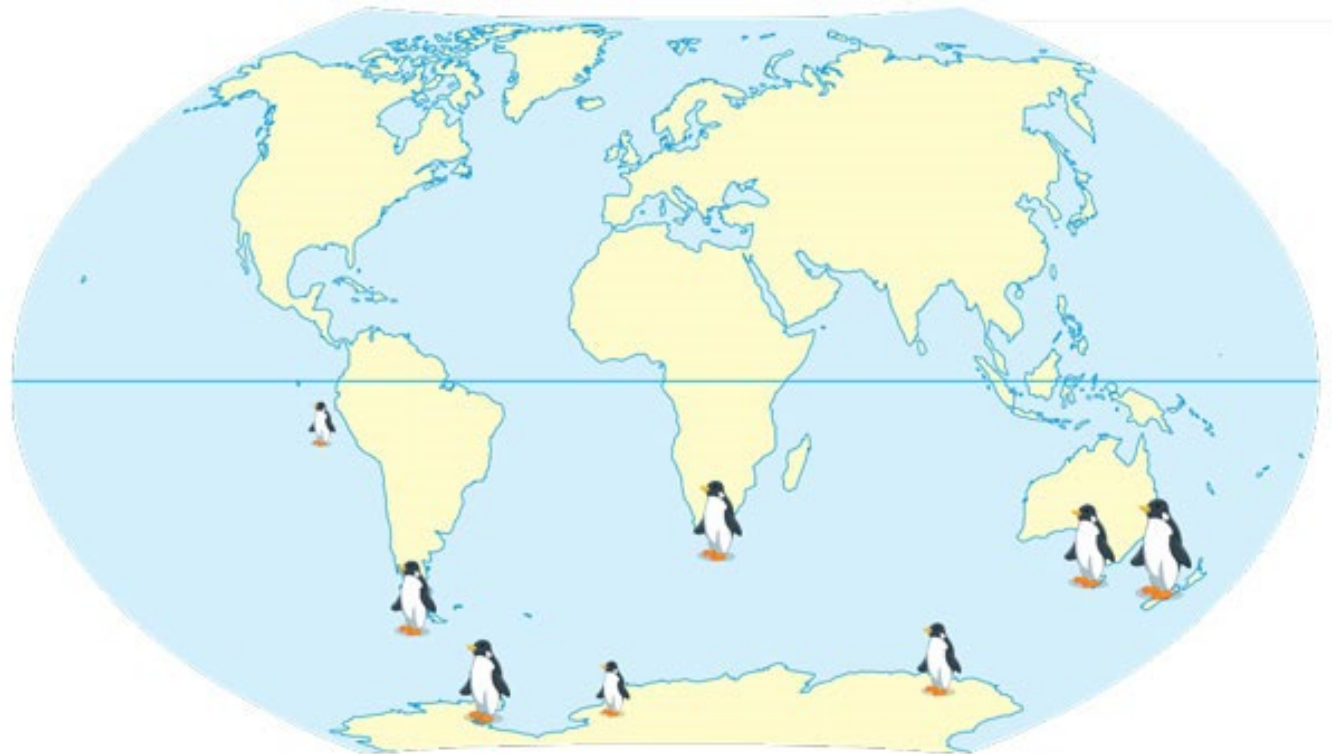
11. Kuriame žemyne negyvena pingvinai?

A Antarktidoje

B Afrikoje

C Australijoje

D Azijoje



12. Kurią vasaros paros valandą žmogaus šešėlis bus ilgiausias?

A apie 11 val.

B apie 15 val.

C apie 19 val.

D apie 24 val.



13. Kaip vadinama jūra, skalaujanti Europos, Azijos ir Afrikos krantus?

- A Baltijos
- B Karibų
- C Raudonoji
- D Viduržemio



14. Kuris vandenynas pasaulyje yra didžiausias?

A Arkties

B Atlanto

C Indijos

D Ramusis

15. Po kurią jūrą plaukiojo garsusis kapitonas Džekas Sperou?

A Baltijos

B Juodąją

C Karibų

D Viduržemio



16. Kurioje saloje „gyvena“ šie animacinio filmo herojai?

A Kubos

B Madagaskaro

C Sicilijos

D Šri Lankos



17. Kuris pasaulio žemynas yra mažiausias?

- A Afrika
- B Australija
- C Azija
- D Europa



18. Kur yra daugiausia gėlo vandens mūsų planetoje?

A požeminiuose vandenyse

B šaltiniuose

C upėse

D ledynuose







19. Kuris Lietuvos paukštis laikomas nacionaliniu?

A balandis

B baltasis gandra

C kregždė

D žvirblis



20. Kurioje eilutėje nurodytos abi planetos mažesnės už Žemę?

- A Marsas ir Merkurijus
- B Saturnas ir Marsas
- C Uranas ir Merkurijus
- D Venera ir Jupiteris



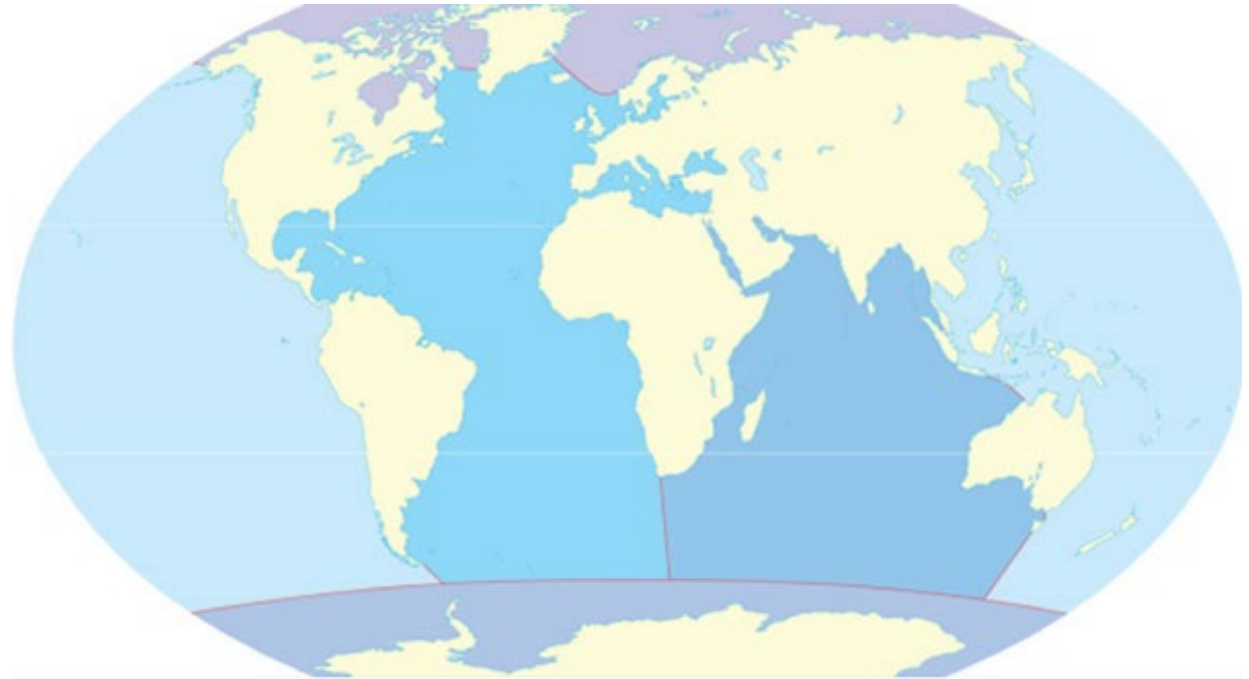
Užduotys 6 klasei

2019 m. geografijos olimpiada



1. Kuris vandenynas skalauja Aziją iš rytų, o Šiaurės Ameriką iš vakarų?

- A Atlanto
- B Indijos
- C Pietų
- D Ramusis



2. Kurią kelionę iliustruoja šie pašto ženklai?

- A Amerigo Vespučio
- B Fernando Magelano
- C Kristupo Kolumbo
- D Vasko da Gamos



3. Kuri laipsnių reikšmė atitinka šiaurės vakarų azimutą?

- A 45°
- B 90°
- C 270°
- D 315°

4. Į kuriuos pusrutulius patenka Australija?

- A Pietų ir Rytų
- B Pietų ir Vakarų
- C Šiaurės ir Rytų
- D Šiaurės ir Vakarų



5. Kurio žemyno nesimato šiame žemėlapyje?

- A Azijos
- B Europos
- C Pietų Amerikos
- D Šiaurės Amerikos



6. Kokios kilmės ežerų Lietuvoje yra daugiausia?

- A dirbtinės
- B karstinės
- C ledyninės
- D upinės


7. Kuriame upės krante yra Olimpiečių gatvė?

- A dešiniajame
- B kairiajame
- C rytiniame
- D vakariniame



8. Kaip vadinamos tokios žemėlapių linijos?

- A aukščio skale
- B horizontalėmis
- C kalnabrūkšniais
- D lygiagretėmis



9. Kuria pasaulio kryptimi šioje nuotraukoje kelmo metinės rievės yra platesnės?

- A pietų
- B rytų
- C šiaurės
- D vakarų




10. Kurių gyvūnų pasiskirstymas pavaizduotas šiame žemėlapyje?

- A banginių
- B erelių
- C pingvinų
- D ruonių



11. Koks prietaisas pavaizduotas iliustracijoje?

- A anemometras
- B barometras
- C nivelyras
- D seismografas



12. Kuria kryptimi plaukia laivas, jei keičiasi tik jo judėjimo platumos kryptis, o ilguma lieka ta pati?

A iš vakarų į rytus

B iš pietų į šiaurę

C iš pietvakarių į šiaurės rytus

D iš šiaurės rytų į pietvakarius

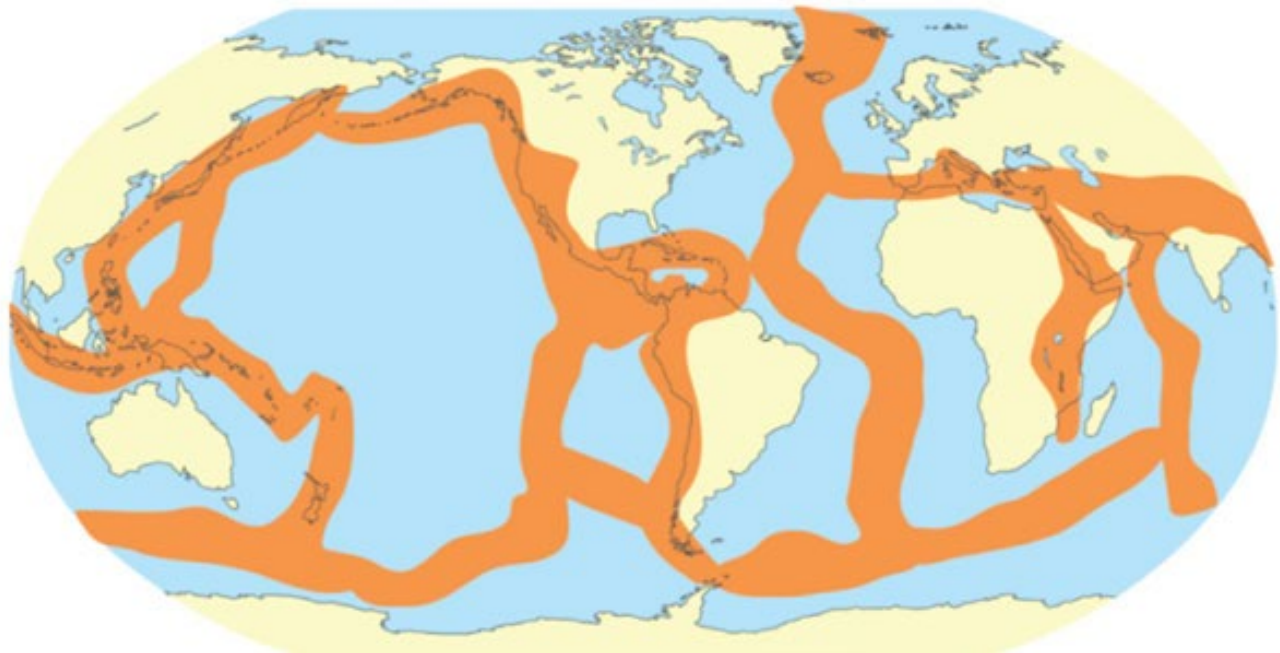
13. Kuriai Lietuvos apskrčiai priklauso ši savivaldybė?

- A Kauno
- B Klaipėdos
- C Marijampolės
- D Tauragės



14. Ką vaizduoja šis žemėlapis?

- A geografines keliones
- B litosferos plokščių pakraščius
- C vandenynų sroves
- D žmonių migracijos srautus



15. Kur pasaulyje daugiausia ugnikalnių?

- A Havajuose
- B Islandijoje
- C Ugnies rate
- D Ugnies žiede

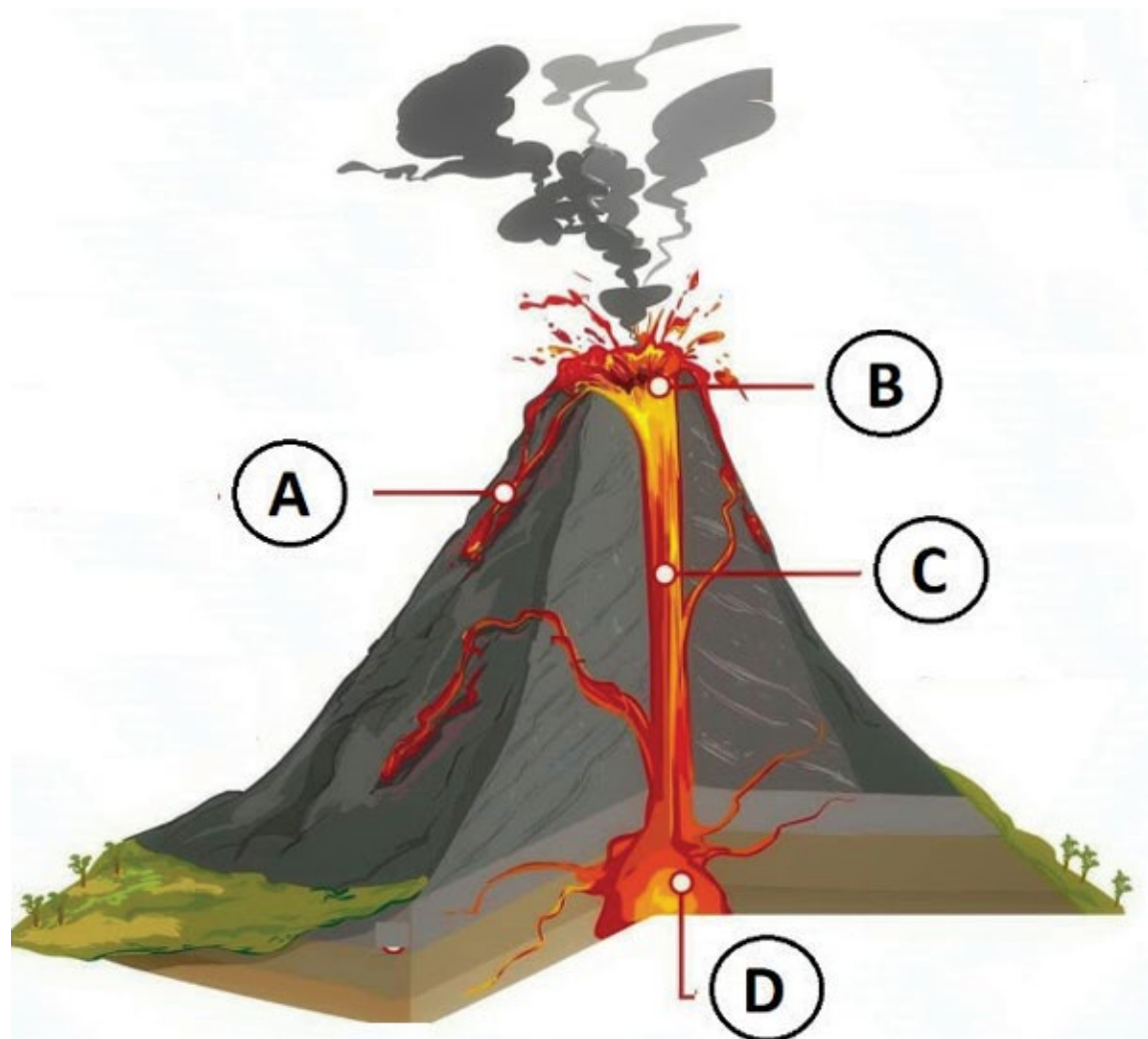
16. Kuria raide pažymėta ugnikalnio stemplė?

A A

B B

C C

D D



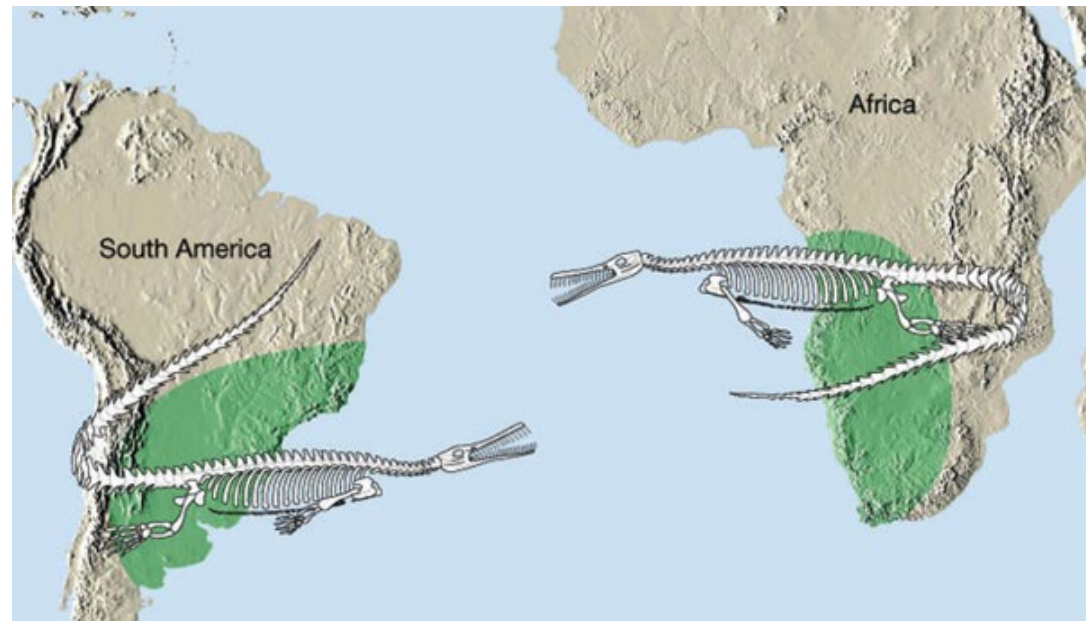
17. 2019 m. gegužės 1 d. Lietuva minės įstojimo į Europos Sąjungą:

- A 5 metų sukaktį
- B 10 metų sukaktį
- C 15 metų sukaktį
- D 20 metų sukaktį



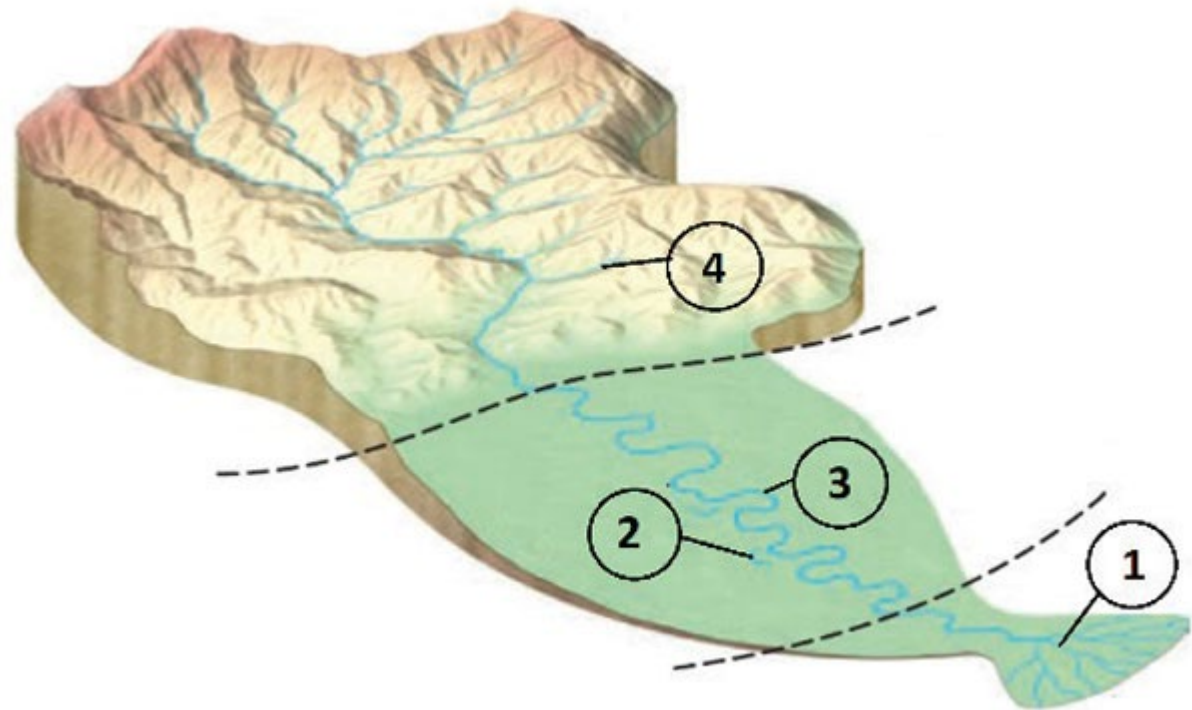
18. Kokią mokslinę teoriją pagrindžia ši iliustracija?

- A dinozaurų išnykimo
- B gyvūnų migracijos
- C reljefo dėsningumų
- D žemynų judėjimo



19. Kuriuo skaičiumi pažymėta delta?

- A 1
- B 2
- C 3
- D 4



20. Vienas žymiausių Senovės Graikijos mokslininkų – matematikas, astronomas, geografas – apytiksliai apskaičiavęs Žemės pusiaujo ilgį ir panaudojęs Žemės aprašymui skirtą žodį „geographem“ (*geo* – Žemė, *grapho* – rašyti) yra:

- A Aristotelis
- B Eratostenas
- C K. Ptolemajas
- D Pitagoras



21. Kuris Europos miestas pristatomas šioje reklaminėje skrajutėje?

- A Amsterdamas
- B Florencija
- C Londonas
- D Paryžius



22. Kuriame rajone yra Lietuvos geografinis vidurys?

- A Jonavos
- B Kaišiadorių
- C Kauno
- D Kėdainių



23. Kuri Lietuvos apskritis yra mažiausia?

- A Kauno
- B Šiaulių
- C Telšių
- D Vilniaus



24. Kurioje valstybėje yra aukščiausias pasaulyje Anhelio krioklys?

- A Argentinoje
- B JAV
- C Kolumbijoje
- D Venesueloje



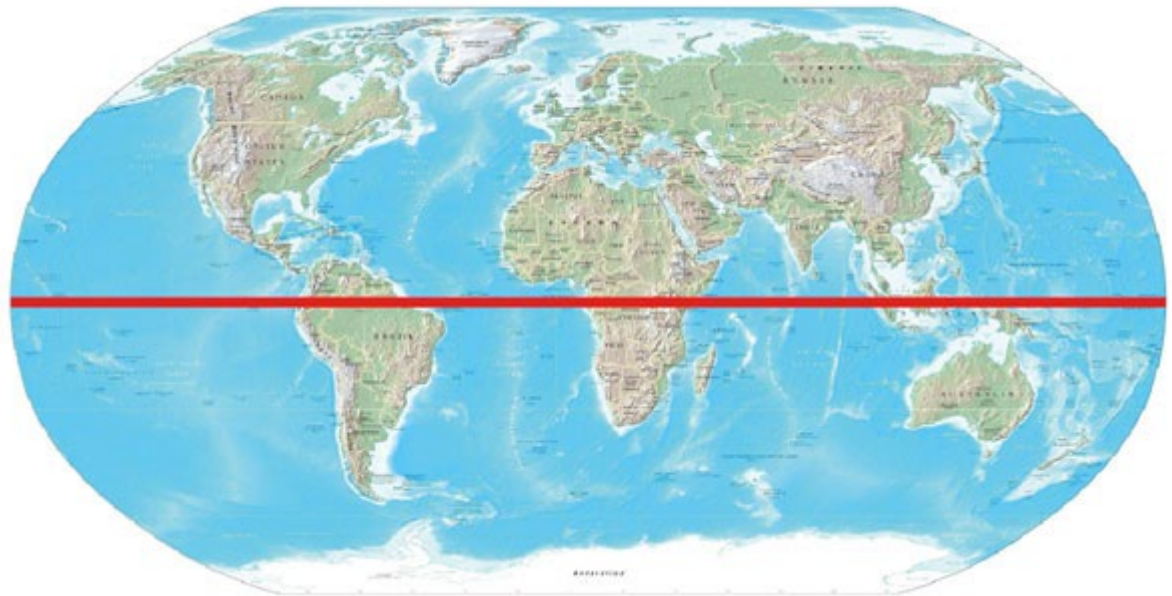
25. Kaip vadinamas palydovinėje nuotraukoje matomas pusiasalis?

- A Apeninų
- B Arabijos
- C Gvinėjos
- D Pirėnų



26. Kurią valstybę kerta pusiaujas?

- A Braziliją
- B Indiją
- C Japoniją
- D Kiniją



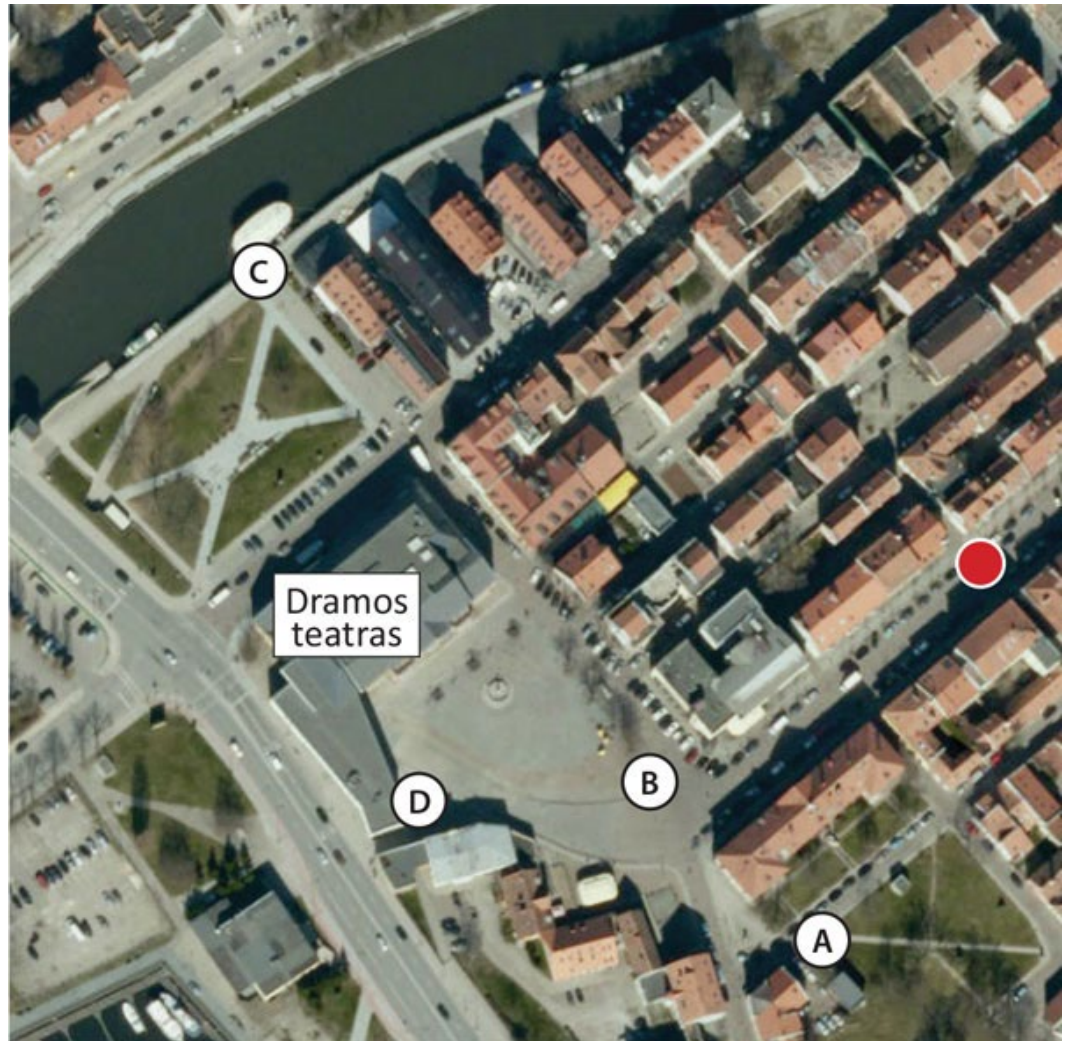
27. Kurių didžiųjų salų kontūrai čia pavaizduoti?

- A Airijos, Borneo, Grenlandijos, Islandijos
- B Britanijos, Madagaskaro, Airijos, Sicilijos
- C Islandijos, Britanijos, Naujosios Gvinėjos, Airijos
- D Madagaskaro, Britanijos, Borneo, Islandijos



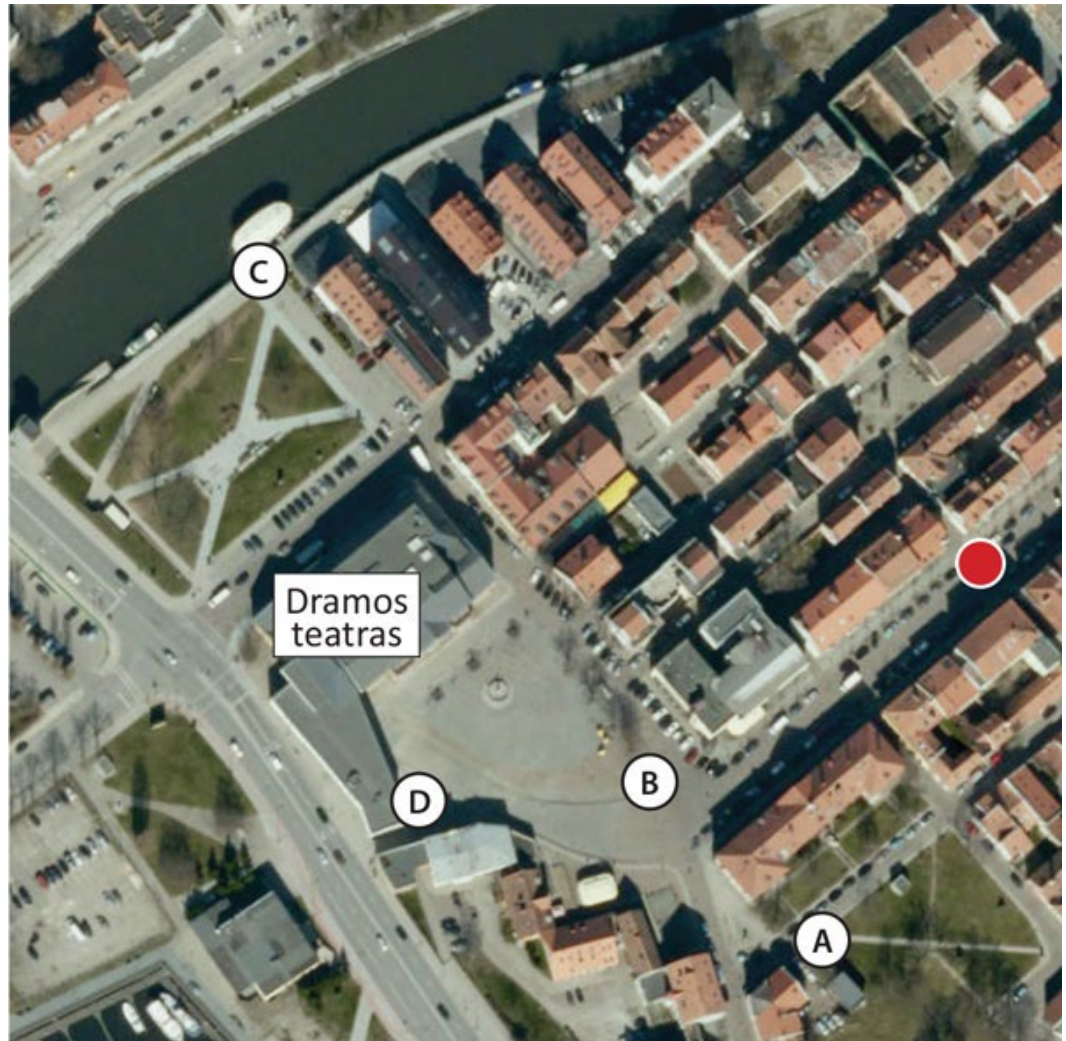
28. Kuriame Danės upės krante yra Dramos teatras? Upė aerofotografijoje teka į pietvakarius.

- A dešiniajame
- B kairiajame
- C pietiniame
- D šiauriniame



29. Kokių azimutu nuo pažymėto raudono taško žemėlapyje yra Klaipėdos dramos teatras?

- A 45°
- B 180°
- C 270°
- D 315°



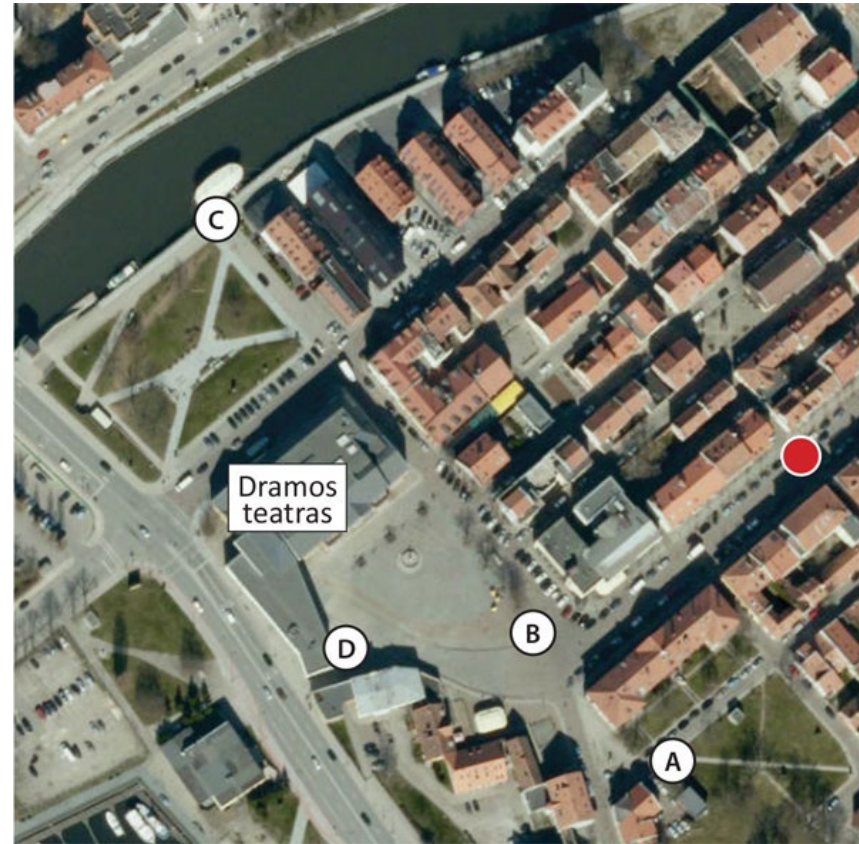
30. Iš kurio žemėlapio taško matomas šis *Google Maps Street View* vaizdas?

A iš A

B iš B

C iš C

D iš D



Užduotys 7 klasei

2019 m. geografijos olimpiada



1. Kurią kelionę iliustruoja šie pašto ženklai?

- A Amerigo Vespučio
- B Fernando Magelano
- C Kristupo Kolumbo
- D Vasko da Gamos




2. Kurio pusrutulio nesimato šiame žemėlapyje?

- A Pietų
- B Rytų
- C Šiaurės
- D Vakarų




3. Kaip vadinamos tokios žemėlapių linijos?

- A aukščio skale
- B horizontalėmis
- C kalnabrūkšniais
- D lygiagretėmis



4. Kuriame vandenyne yra Velykų sala?

- A Atlanto
- B Arkties
- C Indijos
- D Ramiajame



5. Kurios dvi valstybės neturi išėjimo prie jūros?

- A Argentina, Baltarusija
- B Mongolija, Nepalas
- C Naujoji Zelandija, Lenkija
- D Somalis, Suomija



6. Ką parašytumėte po lygybės ženklo?

- A demografinis sproginimas
- B gyventojų skaičius
- C gyventojų tankumas teritorijoje
- D natūralusis gyventojų prieaugis



The diagram shows a mathematical equation on a purple background. On the left, there is an icon of four diverse people (two men and two women) representing population. To the right of the icon is the text "Gyventojų skaičius". A horizontal line with a double equals sign (=) is positioned below the population icon and text. Below the line is an icon of a map representing territory. To the right of the map icon is the text "Teritorijos plotas".

7. Kurių gyvūnų pasiskirstymas pavaizduotas šiame žemėlapyje?

- A banginių
- B erelių
- C pingvinų
- D ruonių



8. Kurio žemyno vaizdas pasikeistų daugiausia, jei ištirptų visi ledynai?

- A Antarktidos
- B Australijos
- C Europos
- D Pietų Amerikos

9. Kaip vadinama pažymėta sritis?

- A Sachara
- B Sachelis
- C samumas
- D savana



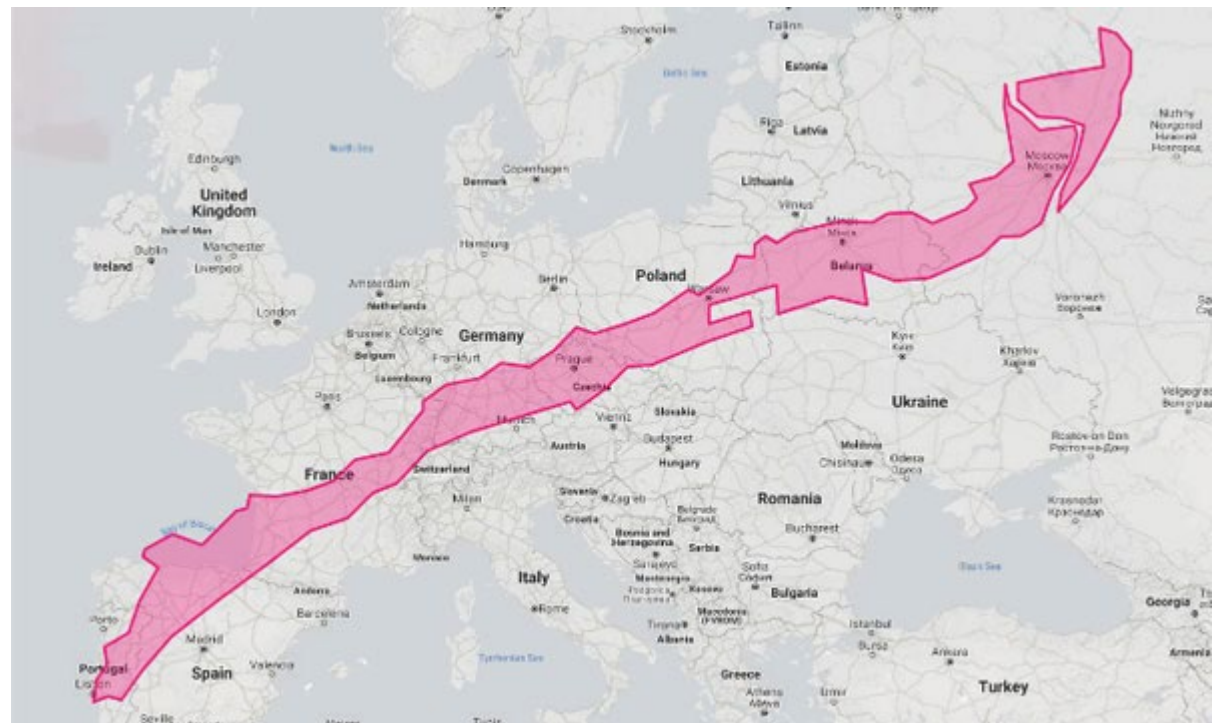
10. Kuri pasaulio valstybė nusitęstų Europoje nuo Lisabonos iki Maskvos?

A Čilė

B Mozambikas

C Norvegija

D Vietnamas



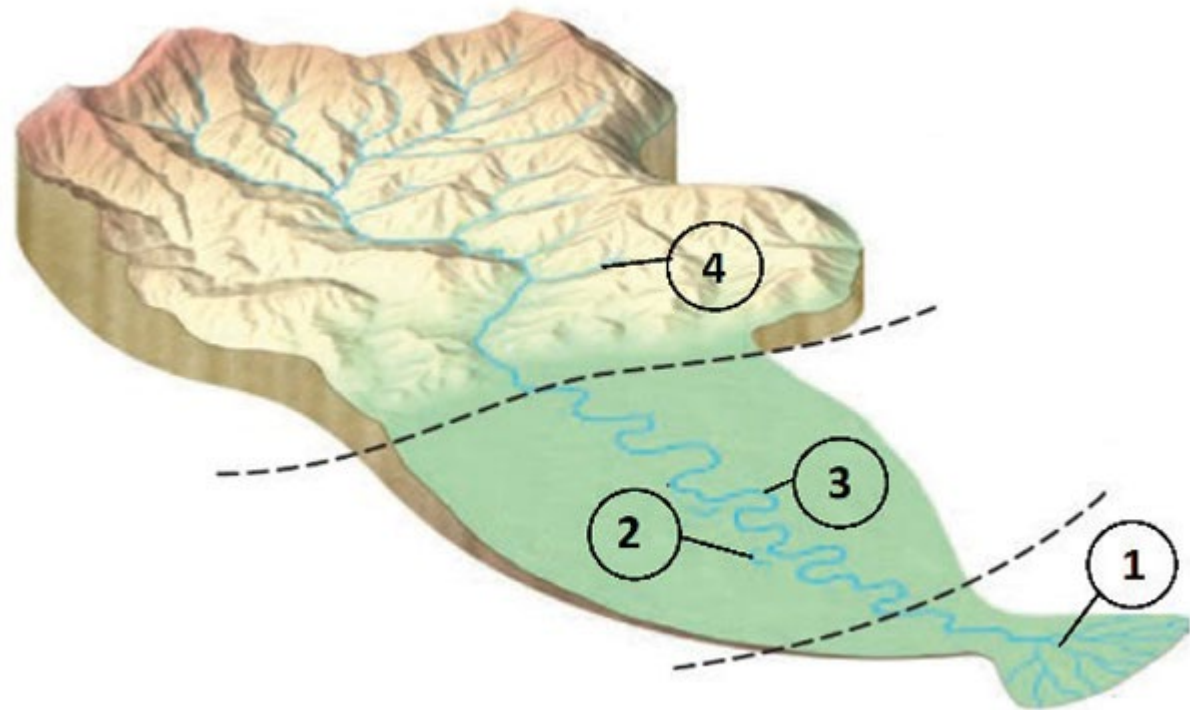
11. Kurioje upės dalyje intensyviausiai vyksta akumuliacija?

A 1

B 2

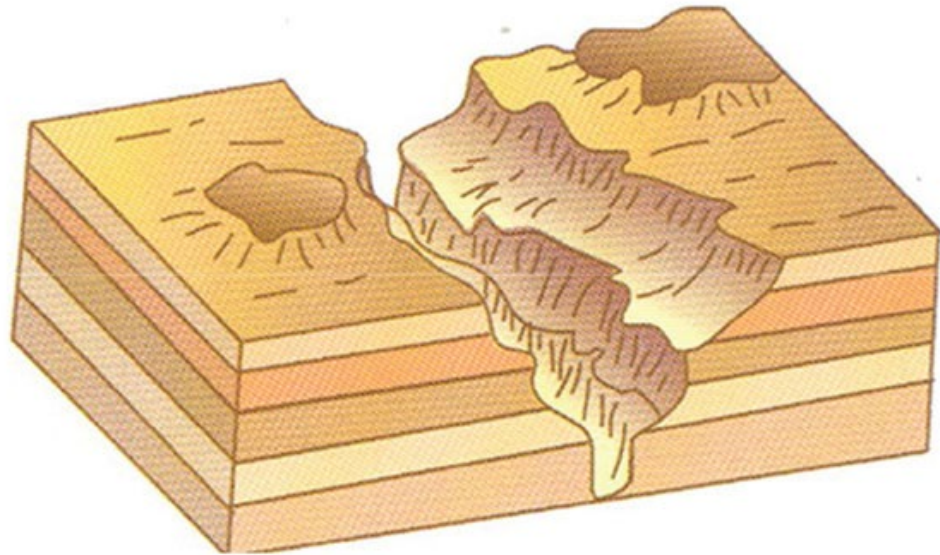
C 3

D 4



12. Koks pagrindinis žemės paviršių keičiantis išorinis procesas suformavo paveiksle pavaizduotą reljefą?

- A dūlėjimas
- B akumuliacija
- C erozija
- D nuošliaužas



13. Kuri geografinė zona pavaizduota žemėlapyje?

A kietalapių retmiškiai bei krūmynai

B plačialapių ir mišrieji miškai

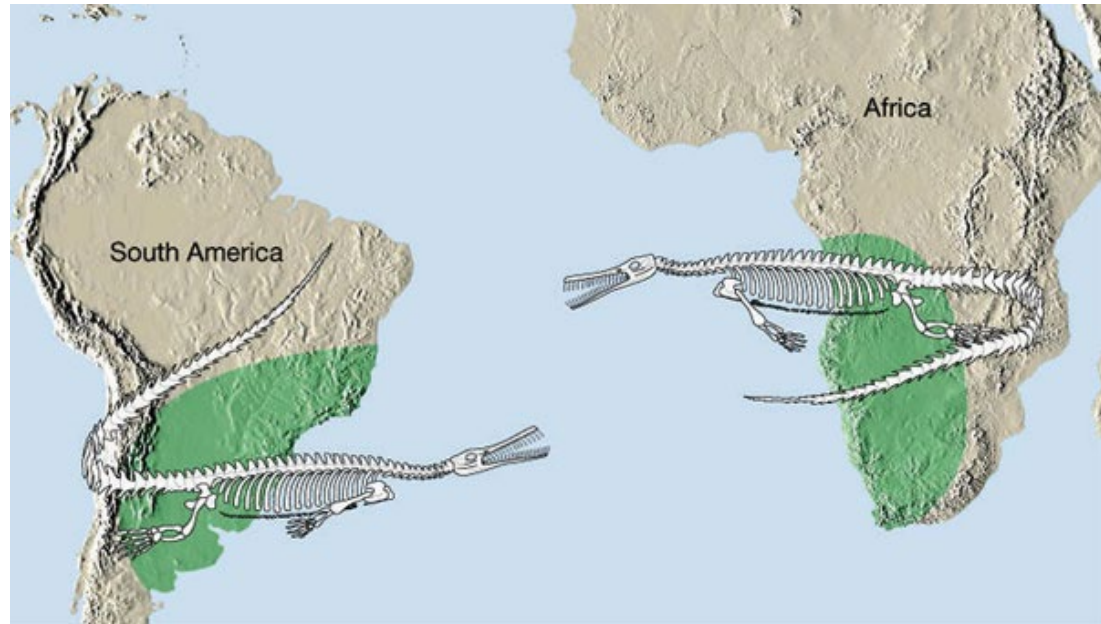
C spygliuočių miškai

D stepės ir miškastepės



14. Kokią mokslinę teoriją pagrindžia ši iliustracija?

- A gyvūnų migracijos
- B reljefo dėsningumų
- C tektoninių plokščių judėjimo
- D uolienų išsidėstymo



15. Tai nuotrauka britų žurnalisto, keliautojo, tyrinėtojo, kuris išgarsėjo kelione į Afriką su tikslu surasti dingusį keliautoją Deividą Livingstoną. Kas šis keliautojas?

- A Abelis Tasmanas
- B Henris Mortonas Stenlis
- C Markas Polas
- D Vitus Jonasenas Beringas



16. Kodėl savanose ten, kur auga baobabai, verta kasti šulinį?

- A gruntinis vanduo slūgso arti paviršiaus
- B čia iškrinta daugiau kritulių
- C medis teikia pavėsį
- D minkštesnis gruntas



17. Kodėl Atlanto vandenyno pakrantėje plyti Namibo dykuma?

- A aukšti kalnai užtveria kelią drėgnoms oro masėms
- B kritulių vanduo išgaruoja nesuspėjęs susigerti į žemę
- C nuo vandenyno atslenka karštas ir sausas oras
- D palei žemyno pakrantę teka šaltoji vandenyno srovė



18. Kurioje geografinėje zonoje auga „galeriniai miškai“?

A atogrąžų miškuose

B savanose

C stepėse

D taigoje

19. Kaip vadinamas žemėlapyje pažymėtas sąsiauris?

- A Baso
- B Gibraltaro
- C Magelano
- D Mozambiko



20. Nuotraukoje pavaizduotas piečiausias Pietų Amerikai priklausančio Ugnies Žemės salyno kyšulys. Kaip jis vadinamas?

- A Adatos
- B Hafūno
- C Horno
- D Mariato



21. Kuriuose kalnuose, kylant nuo papėdės iki viršūnių, vertikaliųjų geografinių zonų bus daugiausia?

- A Anduose
- B Alpėse
- C Pirėnuose
- D Urale

22. Kurios geografinės zonos būdingą gyvūną matote paveikslėlyje?

A arktinių dykumų

B mišriųjų ir plačialapių miškų

C spygliuočių miškų

D tundros



23. Kurioje valstybėje yra aukščiausias pasaulyje Anhelio krioklys?

- A Argentinoje
- B JAV
- C Kolumbijoje
- D Venesueloje

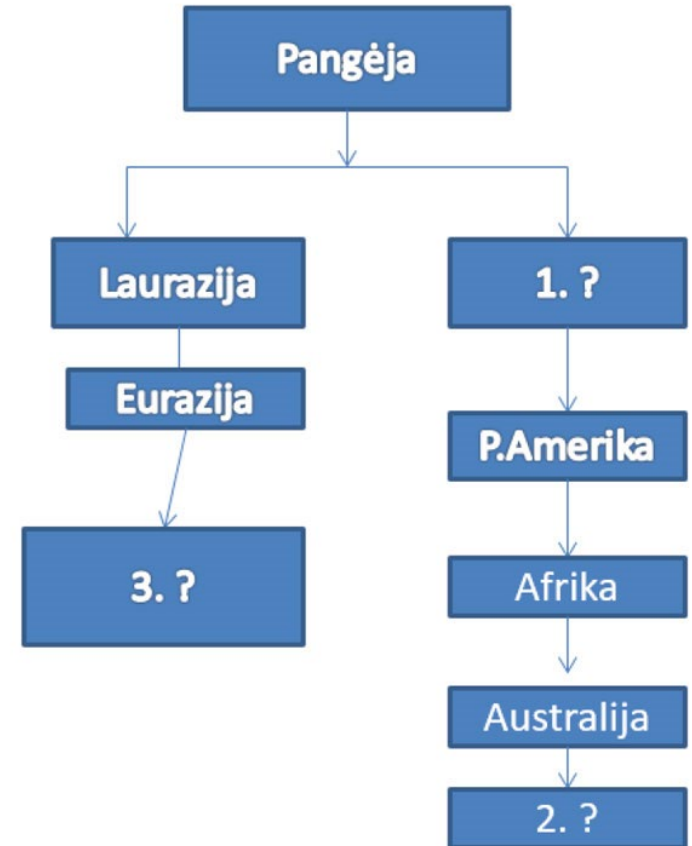


24. Kada musonas pučia nuo sausumos į vandenyną?

- A nuo birželio iki spalio mėn.
- B nuo kovo iki birželio mėn.
- C nuo lapkričio iki sausio mėn.
- D nuo rugpjūčio iki gruodžio mėn.

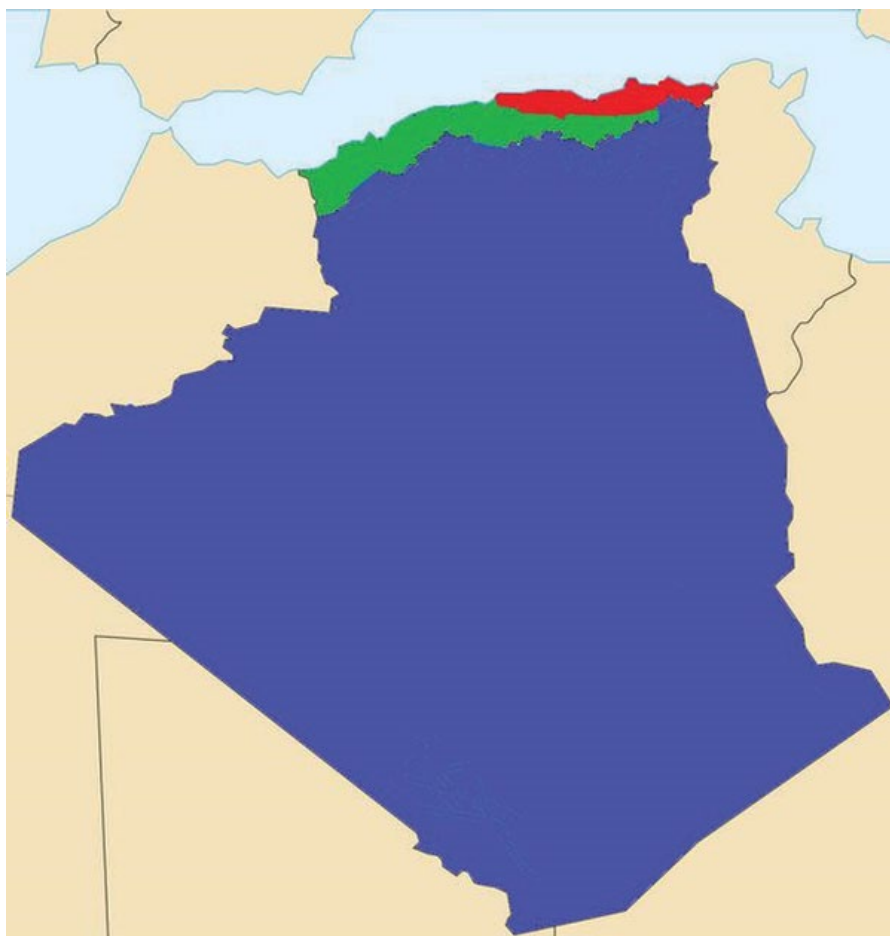
25. Ką įrašytumėte į tuščius langelius?

- A 1. Gondvana, 2. Šiaurės Amerika, 3. Antarktida
- B 1. Gondvana, 2. Antarktida, 3. Šiaurės Amerika
- C 1. Šiaurės Amerika, 2. Gondvana, 3. Antarktida
- D 1. Šiaurės Amerika, 2. Antarktida, 3. Gondvana



**26. Kaip vadinama žemėlapyje pavaizduota šalis?
Dažnai ją vadina „dykumų lape“. Beveik visi jos gyventojai (per 40 mln.) gyvena šiaurinėje šalies dalyje.**

- A Alžyras
- B Čadas
- C Libija
- D Malis



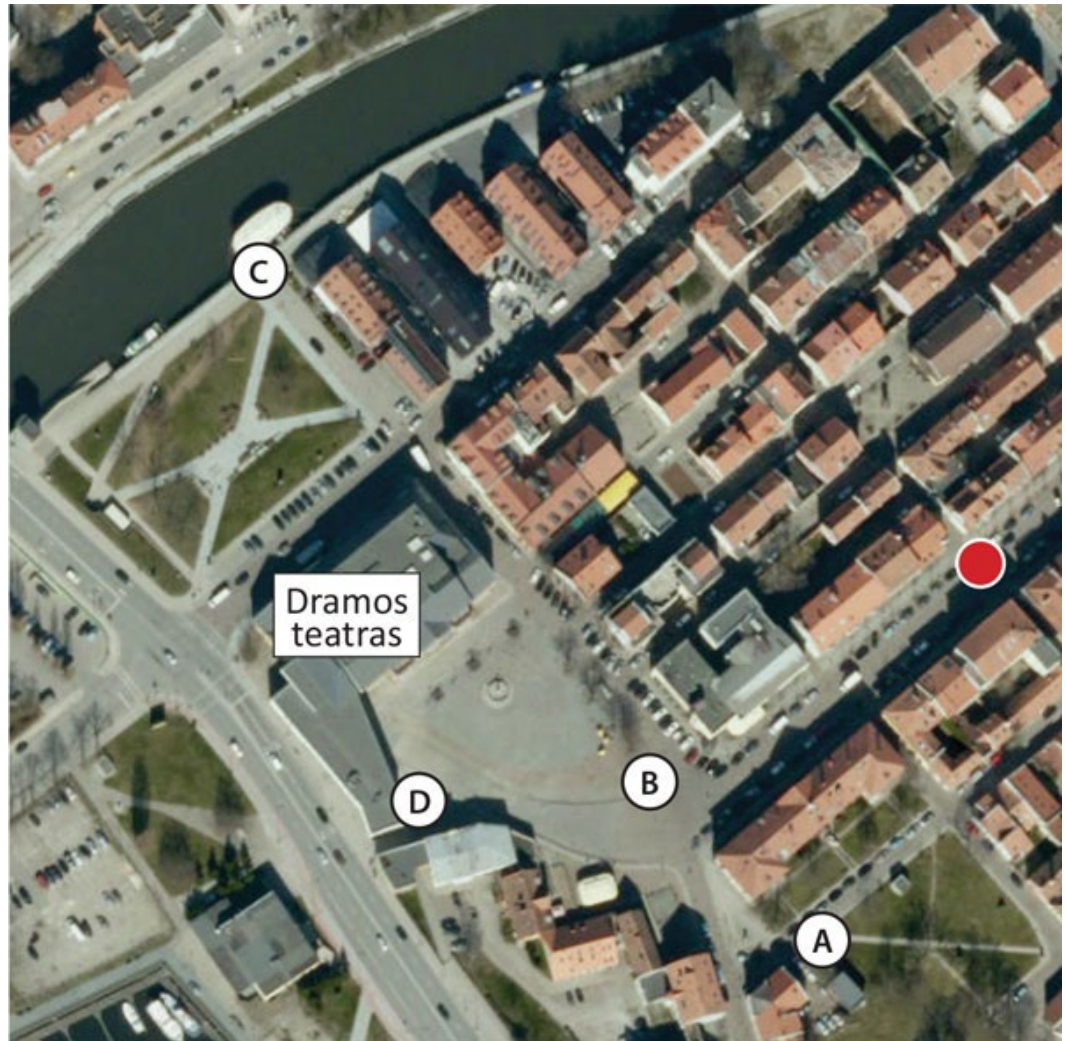
27. Kas ši moteris?

- A Aliaskos eskimė
- B Amerikos indėnė
- C Australijos aborigenė
- D Naujosios Zelandijos maorė



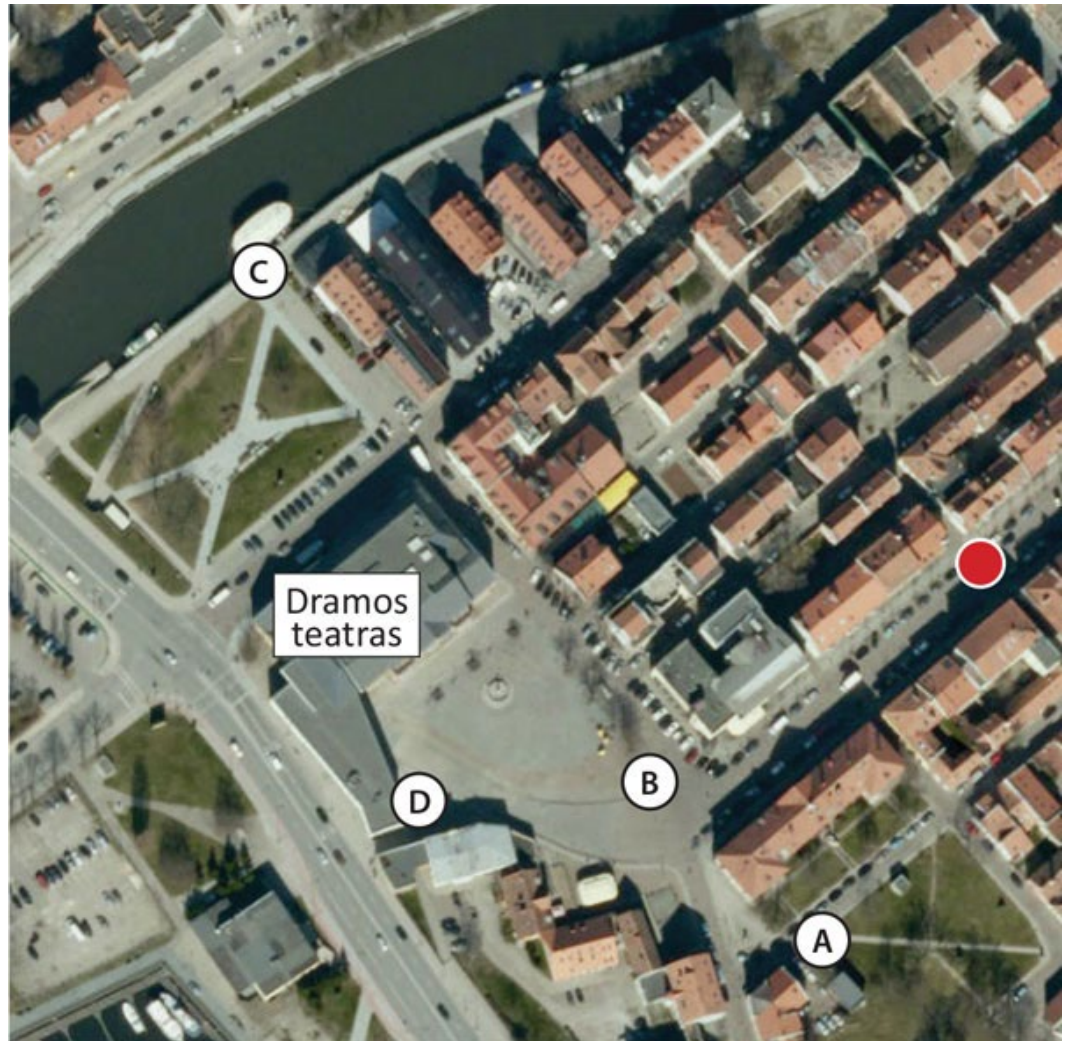
28. Kuriame Danės upės krante yra Dramos teatras? Upė aerofotografijoje teka į pietvakarius.

- A dešiniajame
- B kairiajame
- C pietiniame
- D šiauriniame



29. Kokiu azimutu nuo pažymėto raudono taško žemėlapyje yra Klaipėdos dramos teatras?

- A 45°
- B 180°
- C 270°
- D 315°



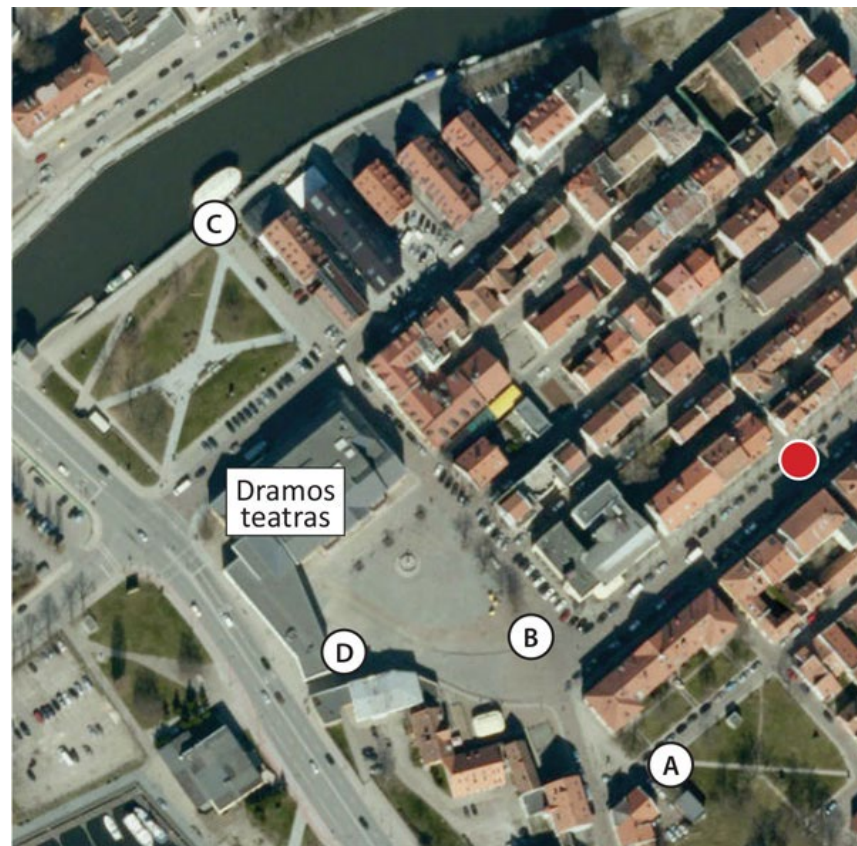
30. Iš kurio žemėlapio taško matomas šis *Google Maps Street View* vaizdas?

A iš A

B iš B

C iš C

D iš D



Užduotys 8 klasei

2019 m. geografijos olimpiada



1. Kur yra ši Europos vieta?

- A Ispanijoje
- B Norvegijoje
- C Portugalijoje
- D Turkijoje



2. Kaip vadinamas nuotraukoje matomas kranto tipas?

A dalmatiškasis

B fjordinis

C šcherinis

D vatinis



3. Didžiausia Viduržemio jūros sala:

- A Kipras
- B Korsika
- C Kreta
- D Sicilija



4. Kurių Europos valstybių pasienyje stūkso Monblano kalnas?

- A Austrijos ir Šveicarijos
- B Prancūzijos ir Italijos
- C Šveicarijos ir Italijos
- D Vokietijos ir Prancūzijos

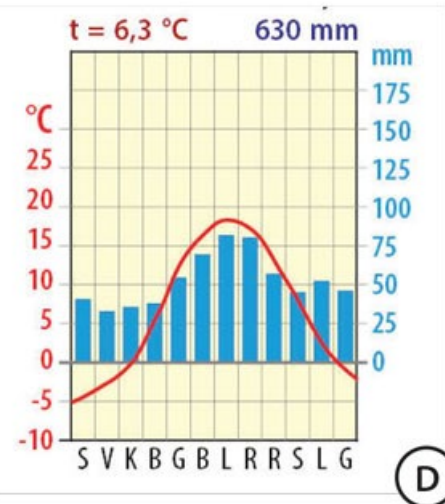
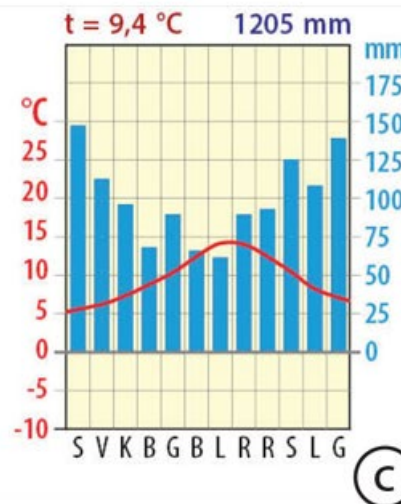
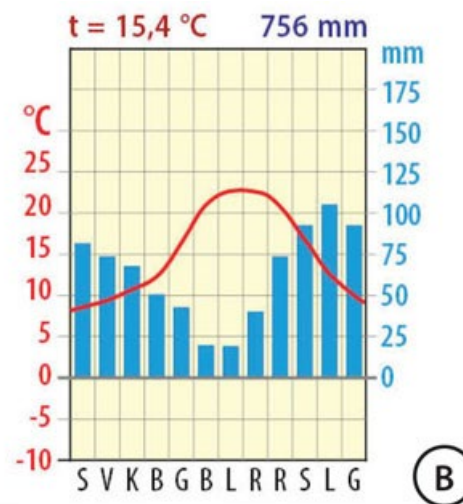
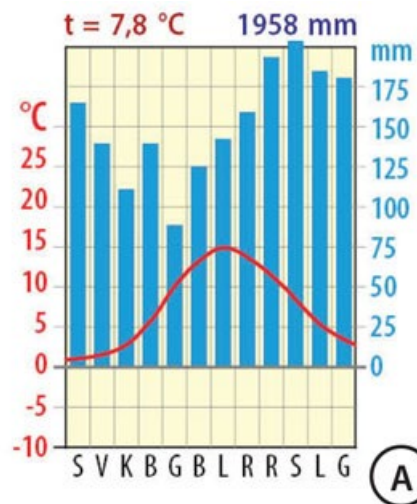
5. Lietuva yra vidutinių platumų pereinamojo klimato juostoje. Kuri klimatograma atitinka Kauno klimatą?

A

B

C

D



6. Kuri geografinė zona pavaizduota žemėlapyje?

- A kietalapių retmiškiai bei krūmynai
- B plačialapių ir mišrieji miškai
- C spygliuočių miškai
- D stepės ir miškastepės



7. Kur yra šios dirbtinės salos?

A Indonezijoje

B Japonijoje

C Jungtinėse Amerikos Valstijose

D Jungtiniuose Arabų Emyratuose



8. Kurių Azijos valstybių šie vaizdai?

- A Japonijos ir Korėjos
- B Japonijos ir Kinijos
- C Kinijos ir Mongolijos
- D Kinijos ir Indijos



9. Kuri upės dalis pavaizduota aerofotografijoje?

- A delta
- B estuarija
- C ištaka
- D vaga



10. Kurios upės delta pavaizduota paveiksle?

- A Jenisiejaus
- B Kolymos
- C Lenos
- D Obės



11. Kurioje saloje galima pamatyti šiuos paukščius?

- A Airijos
- B Islandijos
- C Madagaskaro
- D Sicilijos



12. Kas vienija Suomiją, Estiją ir Vengriją?

- A bendra kalbų grupė
- B panašus plotas
- C religija
- D vėliavų spalvos



13. Kuris Europos miestas pristatomas šioje reklaminėje skrajutėje?

- A Amsterdamas
- B Florencija
- C Londonas
- D Paryžius



14. Kuri upė priklauso vidinio nuotėkio baseinui?

- A Dunojus
- B Mekongas
- C Misisipė
- D Volga

15. Kuris sąsiauris pavaizduotas paveiksle?

- A Bosforo
- B Dardanelų
- C Lamanšo
- D Magelano

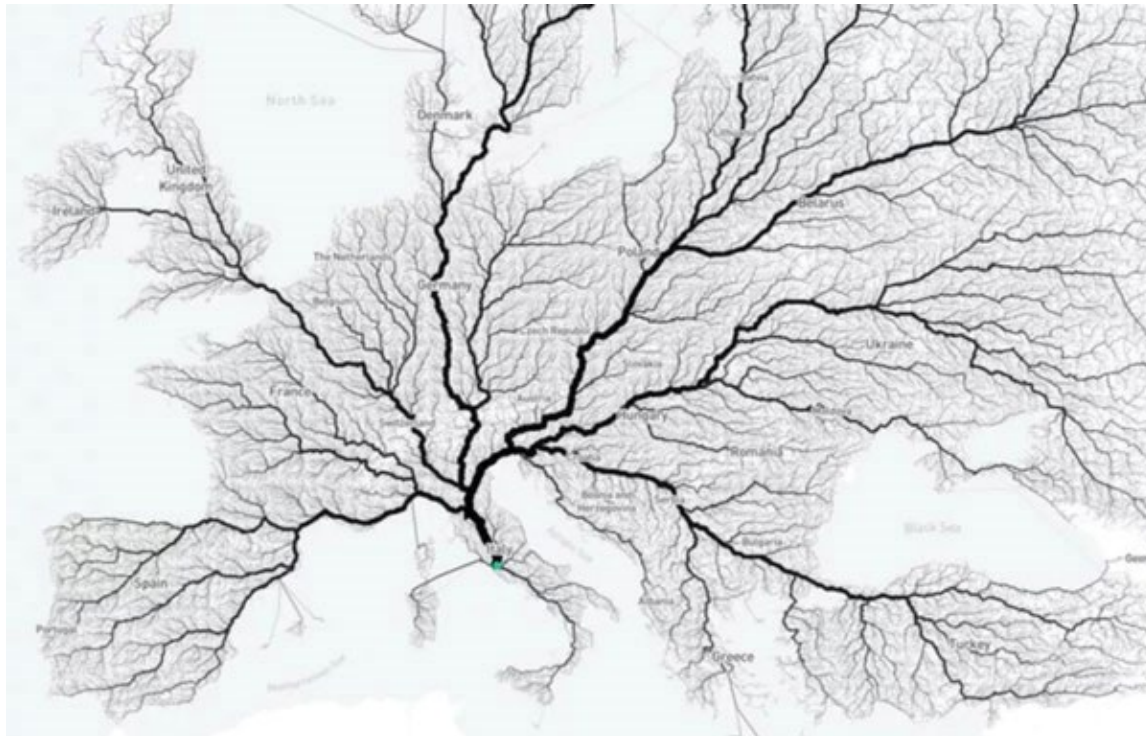


16. Kada musonas pučia nuo sausumos į vandenyną?

- A nuo birželio iki spalio mėn.
- B nuo kovo iki birželio mėn.
- C nuo lapkričio iki sausio mėn.
- D nuo rugpjūčio iki gruodžio mėn.

17. Koks posakis tinka šiam žemėlapiui?

- A Dunojus – Europos upių motina
- B Lietuvos nacionalinės ekspedicijos kelionių medis
- C upės suteikia gyvybę Europos miškams
- D visi keliai veda į Romą



18. Kurios teritorijos sudaro Jungtinę Karalystę?

- A Anglija, Bretanė, Šiaurės Airija, Velsas
- B Šiaurės Airija, Velsas, Škotija, Bretanė
- C Velsas, Škotija, Anglija, Airija
- D Velsas, Škotija, Anglija, Šiaurės Airija




19. Kurioje eilutėje visos valstybės yra Pietvakarių Azijos regione?

- A Indija, Kataras, Jemenas, Turkija
- B Jemenas, Kataras, Turkija, Saudo Arabija
- C Kataras, Saudo Arabija, Indija, Pakistanas
- D Pakistanas, Indija, Jemenas, Butanas

20. Kurioje eilutėje teisingai išvardytos Europos Sąjungos valstybės, kurių vėliavos čia pavaizduotos?

- A Austrija, Slovakija, Čekija, Norvegija
- B Danija, Malta, Lenkija, Slovakija
- C Lenkija, Norvegija, Slovakija, Danija
- D Malta, Danija, Austrija, Lenkija



21. Kurios geografinės zonos būdingą gyvūną matote paveikslėlyje?

- A arktinių dykumų
- B mišriųjų ir plačialapių miškų
- C spygliuočių miškų
- D tundros



22. Kiekviena upė turi savo baseiną ir upyną, bet kartu ji priklauso kažkurio vandenyno baseinui. Kurios upės priklauso Atlanto vandenyno baseinui?

- A Dauguva, Dunojus, Volga
- B Elbė, Luara, Dvina
- C Nemunas, Reinas, Vysla
- D Pečiora, Dniepras, Obė

23. Kaip vadinamas palydovinėje nuotraukoje matomas pusiasalis?

- A Apeninų
- B Arabijos
- C Gvinėjos
- D Pirėnų



24. Apie kokį miestą čia rašoma?

Šio miesto pavadinimas yra toks pat, kaip ir ežero, prie kurio jis įsikūręs. Tai žymus miestas, dar vadinamas „tarptautine sostine“, „pasauliniu miestu“, nes jame įsikūrę Jungtinių Tautų organizacija, Europos ekonomikos komisija, Tarptautinis raudonasis kryžius bei dar apie 200 įvairių organizacijų būstinių.

- A Bernas
- B Budapeštas
- C Marselis
- D Ženeva



25. 2019 m. gegužės 1 d. Lietuva minės įstojimo į Europos Sąjungą:

- A 5 metų sukaktį
- B 10 metų sukaktį
- C 15 metų sukaktį
- D 20 metų sukaktį



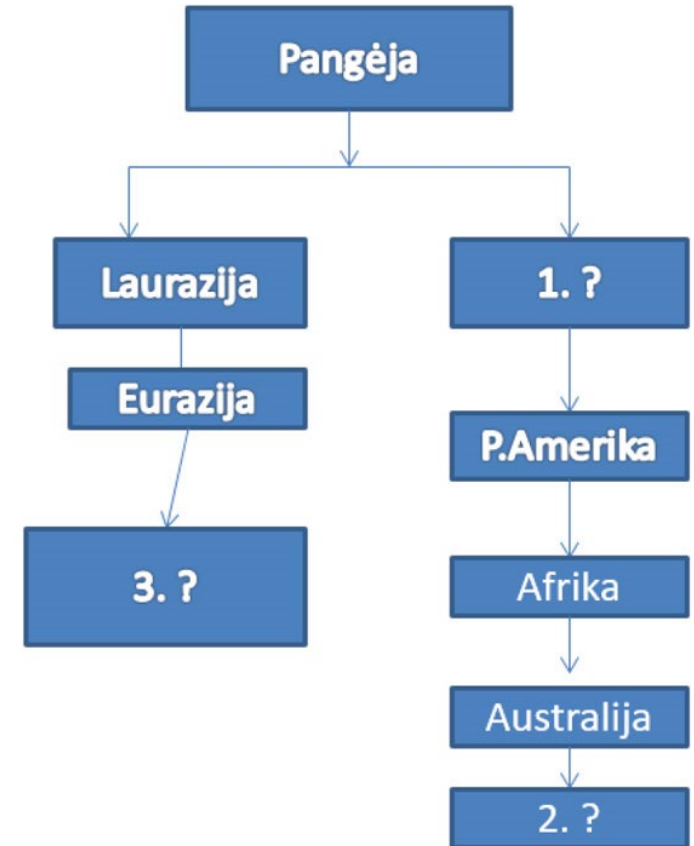
26. Gibraltaro sąsiauris skiria Ispaniją nuo:

- A Alžyro
- B Maroko
- C Monako
- D Tuniso



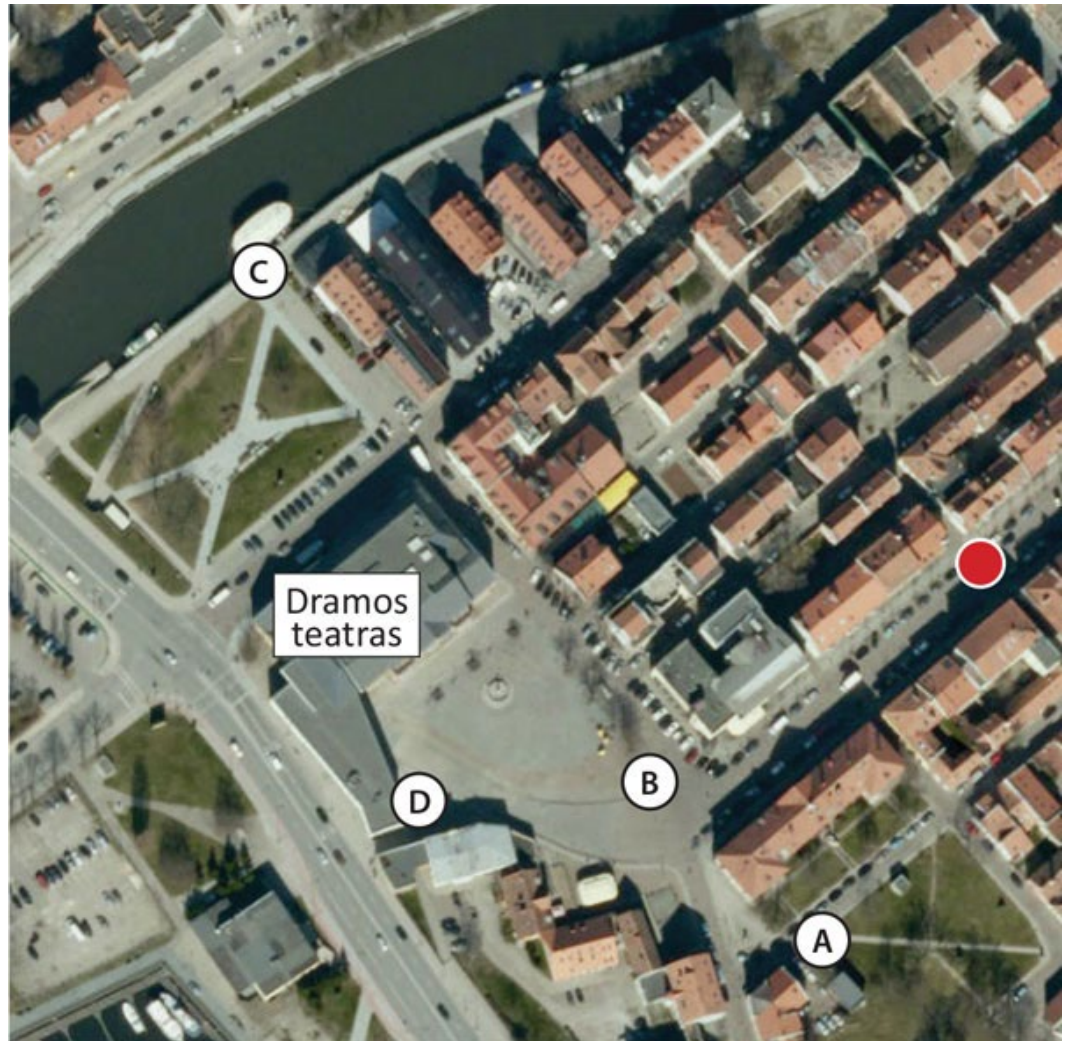
27. Ką įrašytumėte į tuščius langelius?

- A 1. Gondvana, 2. Šiaurės Amerika, 3. Antarktida
- B 1. Gondvana, 2. Antarktida, 3. Šiaurės Amerika
- C 1. Šiaurės Amerika, 2. Gondvana, 3. Antarktida
- D 1. Šiaurės Amerika, 2. Antarktida, 3. Gondvana



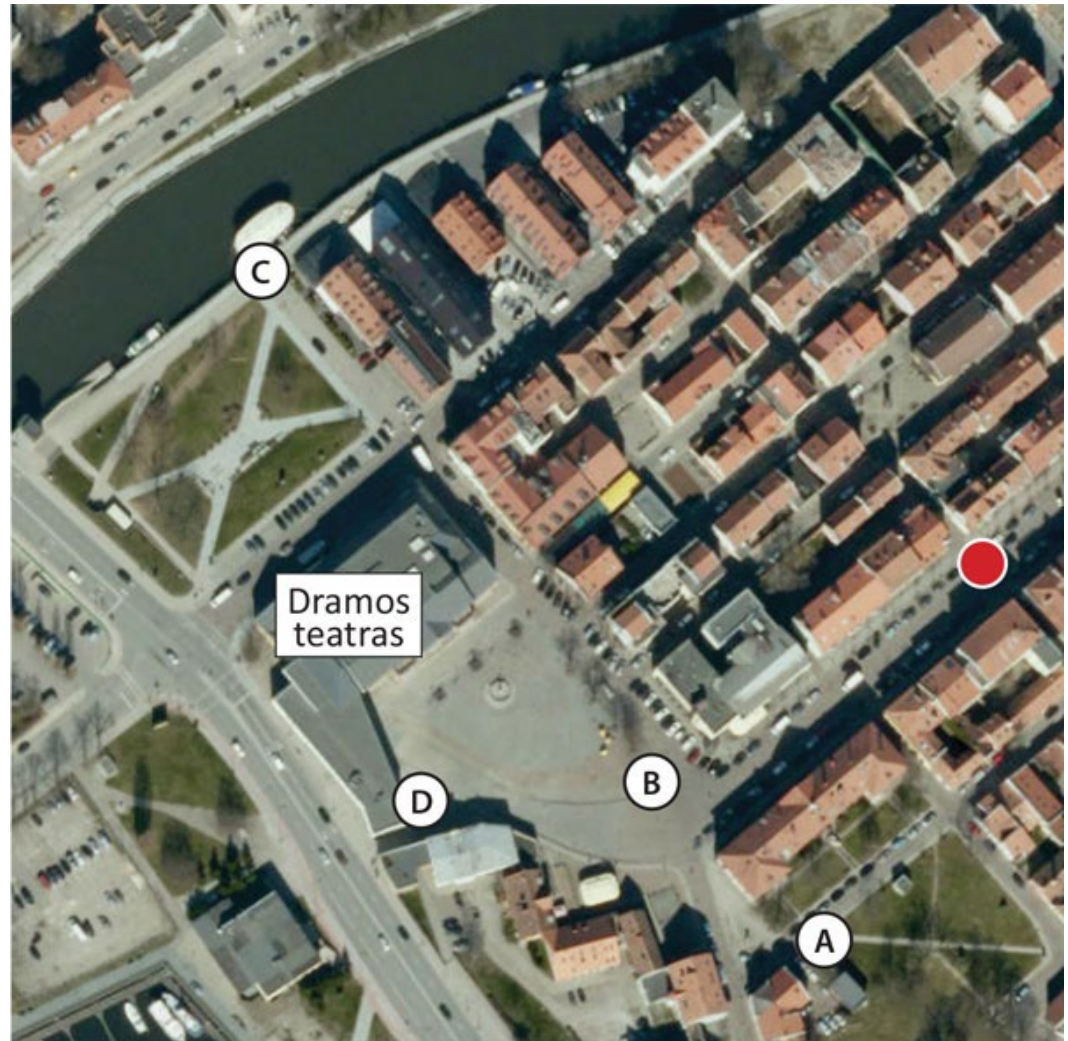
28. Kuriame Danės upės krante yra Dramos teatras? Upė aerofotografijoje teka į pietvakarius.

- A dešiniajame
- B kairiajame
- C pietiniame
- D šiauriniame



29. Kokių azimutu nuo pažymėto raudono taško žemėlapyje yra Klaipėdos dramos teatras?

- A 45°
- B 180°
- C 270°
- D 315°



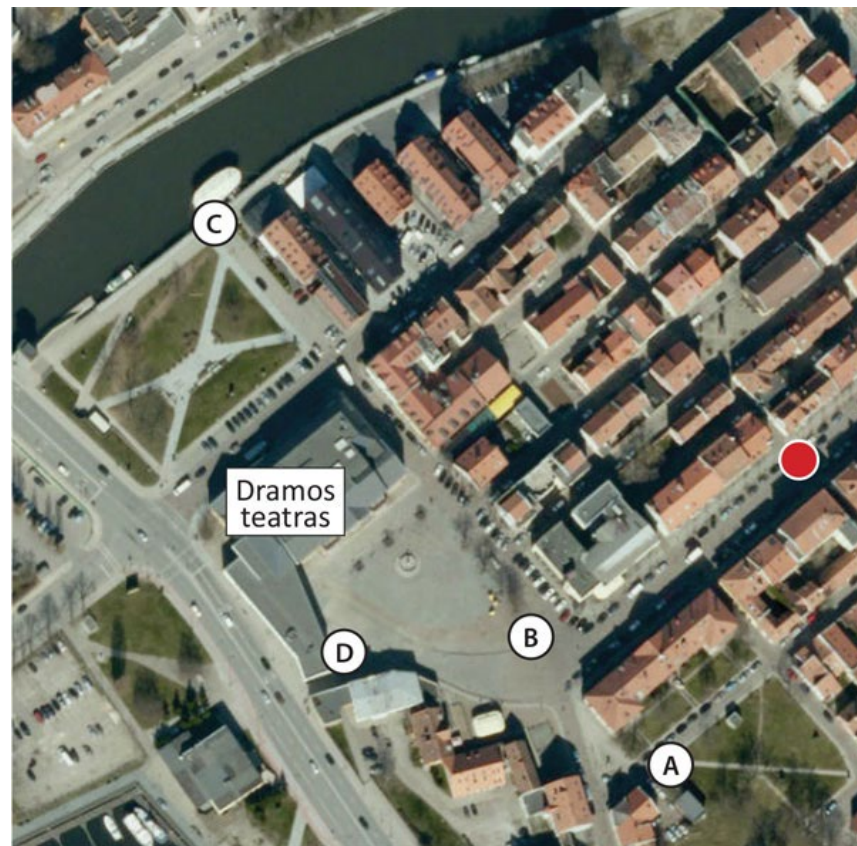
30. Iš kurio žemėlapio taško matomas šis *Google Maps Street View* vaizdas?

A iš A

B iš B

C iš C

D iš D



UŽDUOTYS 10 KLASEI

2019 m. geografijos olimpiada



Dalyvis _____

Surinkti taškai _____

1. Daugelyje besivystančių šalių vyrauja daugiavaikės šeimos. Kuris argumentas už didelę šeimą netinka?

- A vaikai prisideda prie šeimų išlaikymo
- B vaikai padeda tėvams senatvėje
- C didelis vaikų mirtingumas formuoja poreikį turėti daug vaikų
- D didžiulės šeimos yra tradicijų ir mados reikalas

2. Kas vaizduojama žemėlapyje?

- A asfaltuotų kelių tinklas
- B G5 ryšio galimybės pasaulyje
- C Google Street View paplitimas
- D mobiliojo ryšio tinklo paplitimas



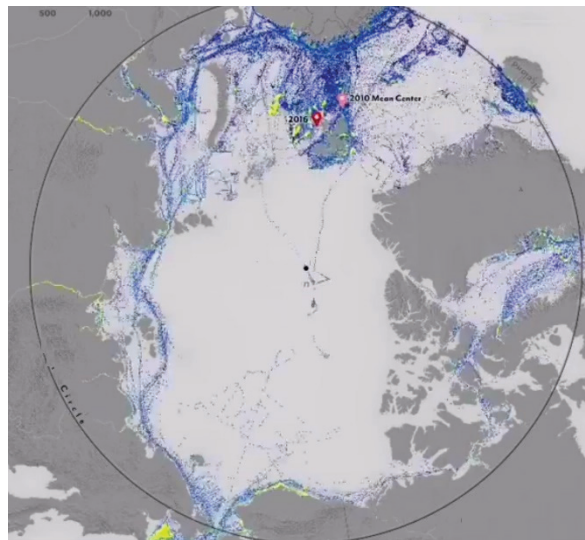
3. Kurios religijos išpažinėjas nepavaizduotas šiame piešinyje?

- A budistas
- B judėjas
- C katalikas
- D musulmonas



4. Šis žemėlapis fiksuoja 2016 metų rugpjūčio mėnesio vaizdą. Kas čia pavaizduota?

- A baltųjų lokių migracijos keliai
- B eskimų prekybos keliai
- C laivybos maršrutų intensyvumas
- D maksimali ledynų išplitimo riba



5. Dėl kokios priežasties mažėja baltųjų lokių paplitimo arealas?

- A atskrendantys paukščiai atneša naujas ligas, kurioms lokiai nėra atsparūs
- B į poliarines sritis lengviau patenka brakonieriai
- C plečiasi žmonių gyvenamosios teritorijos, lokiai naikinami dėl keliamo pavojaus
- D dėl šiltnamio efekto sukeltų padarinių



6. Kuris laivybai ypač svarbus sąsiauris jungia Raudonąją ir Arabijos jūras, skiria Arabijos pusiasalį ir Afriką?

- A Bab el Mandebo
- B Hormūzo
- C Mesinos
- D Mozambiko

7. Kieno ribą žymi balta linija Amazonės miškų palydovinėje nuotraukoje?

- A įsteigtos saugomos teritorijos
- B kitos šalies teritorijos
- C laukinių gyvūnų medžioklės ploto
- D vietos bendruomenių gyvenamosios teritorijos



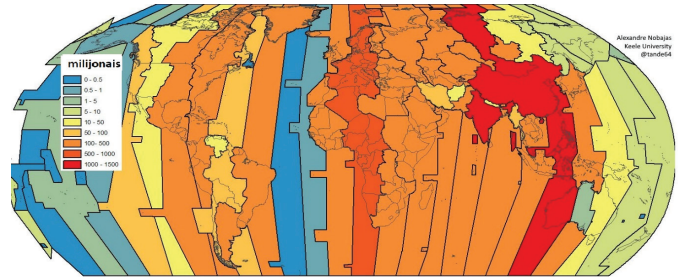
8. Kuris Lietuvos ūkio objektas matomas 3D žemėlapyje?

- A Kruonio hidroakumuliacinė elektrinė
- B Lietuvos elektrinė Elektrėnuose
- C mineralinių trąšų gamybos įmonė Kėdainiuose
- D naftos perdirbimo gamykla Mažeikiuose



9. Žemėlapyje vaizduojamas vieno geografinio rodiklio pasiskirstymas pagal laiko juostas. Koks tai rodiklis?

- A BVP/1 gyventojui
- B gyventojų skaičius
- C pagyvenusių žmonių skaičius
- D paviršiaus aukštis



10. Kuris prekės ženklas Lietuvoje buvo populiariausias 2017 metais?

- A Apple
- B Google
- C Samsung
- C Telia

	Lietuva	Latvija	
	18.4%	<u>Swedbank</u>	14.8%
Facebook	17.5%	Apple	10.5%
<u>Maxima</u>	17.1%	Laima	10.0%
<u>Gmail</u>	15.6%	<u>LMT</u>	9.8%
YouTube	13.7%	Samsung	9.3%

Estija	
Google	15.4%
<u>Kalev</u>	15.2%
<u>Swedbank</u>	13.0%
YouTube	10.9%
<u>Telia</u>	10.3%


11. Ką galėtų simbolizuoti ši schema?

- A augalininkystės rūšis
- B augalų perdirbimą
- C sėjomainą
- D sveikos mitybos eiliškumą



12. Kurios šalies žmonių užimtumas ūkio sektoriuose vaizduojamas diagramoje?

- A Brazilijos
- B Etiopijos
- C Indijos
- D Meksikos



13. Kuris iš rodiklių nėra naudojamas gyvenimo kokybės indeksui (ŽSRI) sudaryti?

- A BVP 1 gyventojui
- B gyvenimo trukmė
- C natūralusis prieaugis
- D raštingumas

14. Kurioje šalyje gyventojų tankumas yra mažiausias?

		Plotas, km ²	Gyv. skaičius, mln.
A	Lietuvoje	65 300	2,793
B	Estijoje	45 228	1,244
C	Švedijoje	450 295	10,041
D	Suomijoje	338 145	5,537

15. Kuris apibūdinimas netinka ypač silpnos ekonomikos valstybėms?

- A didelis bedarbių procentas
- B nepakankama arba menkavertė mityba
- C pakankamai tolygus pajamų pasiskirstymas
- D ūkio priklausomybė nuo kelių eksportuojamų produktų

16. Kuri sąvoka labiausiai tinka karikatūroje vaizduojamai tendencijai?

- A demografinis sprogdimas
- B ekonominis išskaičiavimas
- C gyventojų depopuliacija
- D masinė emigracija

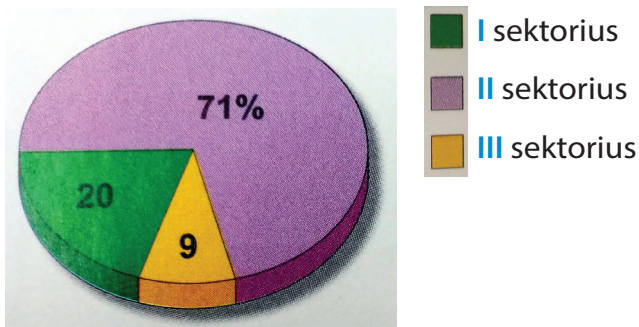


17. Kuris teiginys apie hidroelektrinių pranašumus yra neteisingas?

- A kaupiamas vanduo mažina potvynių riziką elektros
- B pagamintos elektros energijos kaina yra nedidelė
- C pigus ir greitas užtvankų įrengimas, elektros perdavimo linijų tiesimas
- D tekančio vandens energija yra neišsenkanti


18. Kuriais metais Lietuvos bendrojo vidaus produkto pasiskirstymas pagal ūkio sektorius buvo būtent toks?

- A 1991 metais
- B 1998 metais
- C 2005 metais
- D 2018 metais



19. Kuri sąvoka labiausiai tinka karikatūroje vaizduojamai tendencijai?

- A asimiliacija
- B bendroji rinka
- C globalizacija
- D integracija



20. Kuriame iš atsakymų teisingai įvardytos abi valstybės, kuriose daugiau kaip 50 % elektros energijos pagaminama hidroelektrinėse?

- A Australijoje ir Švedijoje
- B Brazilijoje ir Kanadoje
- C Islandijoje ir Lietuvoje
- D Lenkijoje ir Norvegijoje

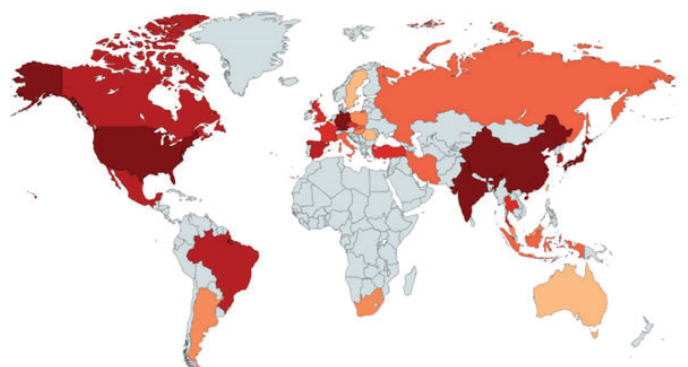
21. Šios moterys darbuojasi ryžių lauke Nepale. Koks apibūdinimas labiausiai tiktų tokiam ūkininkavimo būdai?

- A ekstensyvusis natūrinis
- B intensyvusis prekinis
- C natūrinis intensyvusis
- D prekinis plantacinis



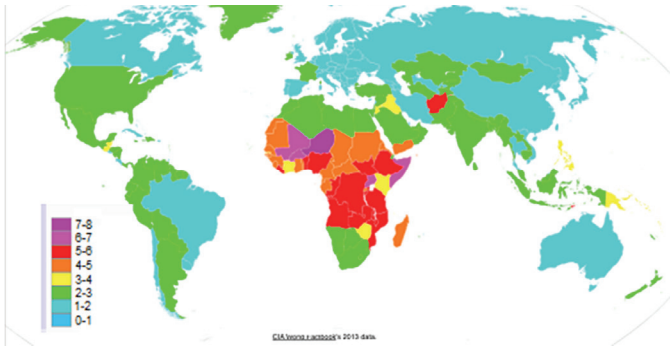
22. Kurios produkcijos gamyba 2016 metais vaizduojama žemėlapyje?

- A automobilių gamyba
- B lazerių gamyba
- C mobiliųjų telefonų gamyba
- D vaistų gamyba



23. Kas vaizduojama šioje kartoschemoje?

- A gimstamumas
- B mirtingumas
- C natūralusis gyventojų prieaugis
- D vaikų skaičius šeimose



24. Kokios naudingosios iškasenos išgaunamos palydovinėje nuotraukoje užfiksuotame telkinyje?

- A akmens anglis
- B deimantai
- C geležies rūda
- D kalio druska



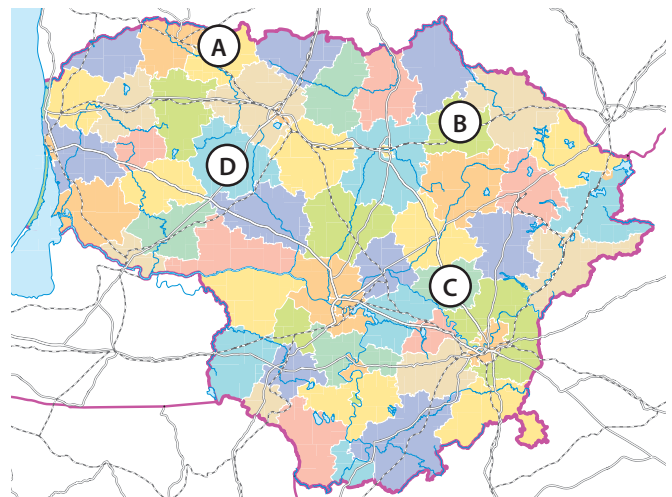
25. Kurio tai Lietuvos miesto fragmento 3D vaizdas?

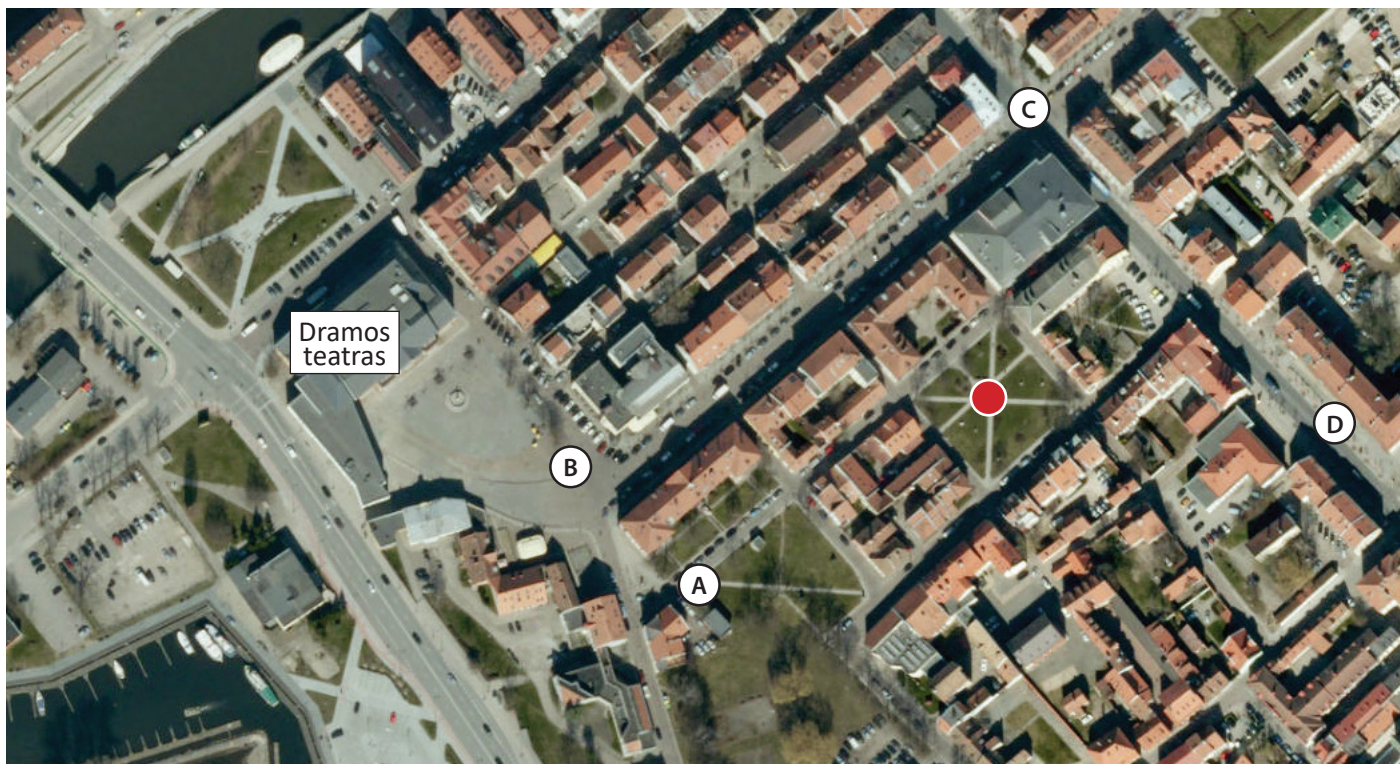
- A Alytaus
- B Kauno
- C Kėdainių
- D Telšių



26. Atpažinkite raidėmis A–D pažymėtas Lietuvos savivaldybes. Pasirinkite teisingą ketvertą.

- A Akmenės, Kupiškio, Širvintų, Kelmės
- B Akmenės, Rokiškio, Ukmergės, Raseinių
- C Mažeikių, Pakruojo, Molėtų, Raseinių
- D Mažeikių, Kupiškio, Molėtų, Kelmės





27. Kurią valandą daryta aerofotografija?

- A 9 val.
- B 12 val.
- C 17 val.
- D 21 val.

28. Kokiais azimutais reikėtų važiuoti iš taško B į tašką D?


- A 45° ir 135°
- B 135°
- C 90°
- D 180 ir 90°

29. Kuria pasaulio kryptimi nėra tako iš žemėlapyje pažymėto raudono taško?

- A P
- B PR
- C PV
- D ŠR

30. Iš kurio žemėlapyje pažymėto taško matomas šis *Google Maps Street View* vaizdas?

- A iš A
- B iš B
- C iš C
- D iš D



UŽDUOTYS 11 KLASEI

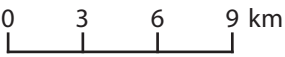
2019 m. geografijos olimpiada



Dalyvis _____

Surinkti taškai _____

1. Kuris iš šių mastelių yra smulkiausias?

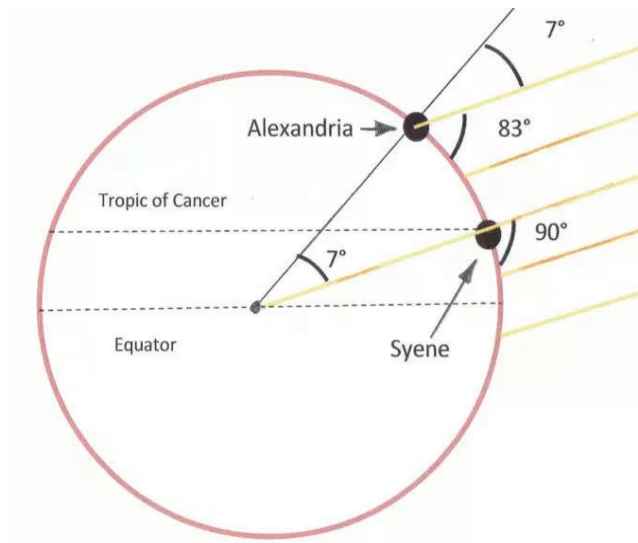
- A 1 cm = 5 km
- B M 1 : 8 000 000
- C 1 cm = 500 m
- D 

2. Kurie duomenys būtini hipsometriniam reljefo profiliui sudaryti?

- A absoliutiniai aukščiai
- B geografinės koordinatės
- C kartografinės projekcijos tipas
- D santykiniai aukščiai

3. Kas pirmasis išmatavo ir apskaičiavo apskritimo, juosiančio Žemę, ilgį?

- A Aristotelis
- B Eratostenas
- C M. Kopernikas
- D Pitagoras



4. Kuri iš šių geografijos mokslo šakų nepriskiriama gamtinei geografijai?

- A geomorfologija
- B glaciologija
- C kartografija
- D okeanografija

5. Koks mėnuo Australijoje, kai yra toks Žemės apšvietimas?

- A birželis
- B kovas
- C rugsėjis
- D sausis



6. Kaip vadinama ši raukšlinių kalnų geologinė forma?

- A antiklina
- B grabenas
- C horstas
- D sinklina




7. Kurio žemyno vaizdas pasikeistų daugiausia, jei ištirptų visi ledynai?

- A Antarktidos
- B Australijos
- C Europos
- D Pietų Amerikos

8. Kuris uolienu formavimosi procesas parodytas paveikslėlyje?

- A lydymasis
- B metamorfizacija
- C raukšlėjimasis
- D sedimentacija



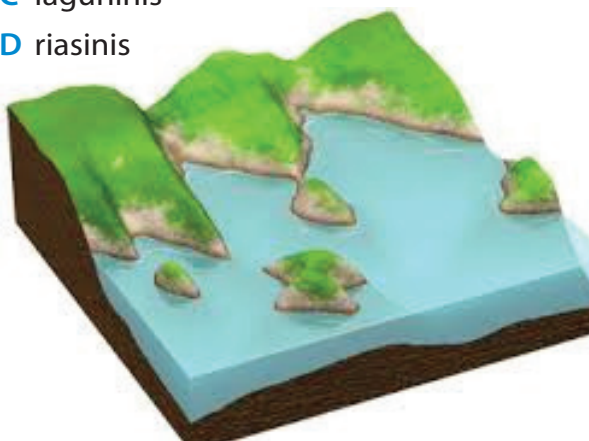
9. Kokia šių įrenginių paskirtis?

- A atskirti viešbučių paplūdimio zonas
- B auginti jūros gėrybes
- C suformuoti polderius
- D sumažinti kranto eroziją



10. Kaip vadinamas šis kranto tipas?

- A dalmatiškasis
- B fjordinis
- C lagūninis
- D riasinis


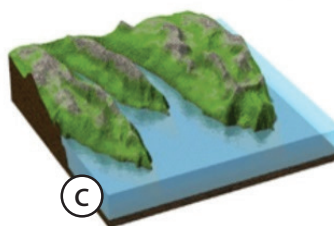

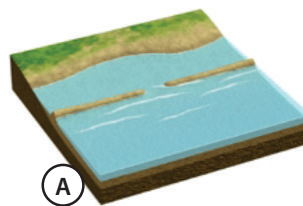


11. Kokiam ledyno suformuotų darinių tipui priklauso nuotraukos tolumoje matomi zandriniai laukai?

- A egzariniam
- B fiuvioglacialiniam
- C limnoglacialiniam
- D moreniniam



12. Kuriame iš krantų tipų akumuliacijos procesas vyksta intensyviausiai?

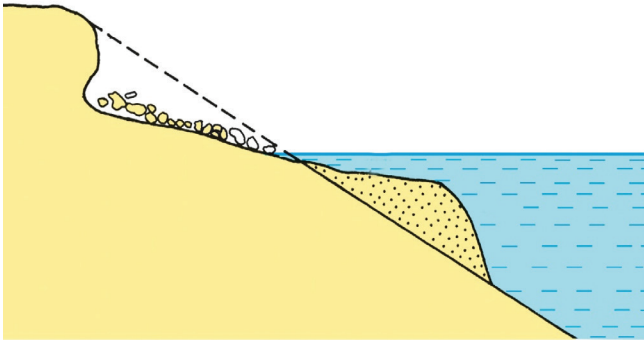


13. Kuri geologinė forma būdinga luistiniam kalnams?

- A antiklina
- B horstas
- C sinklina
- D vulkano kūgis

14. Kuris paveiksle pavaizduotas procesas yra esminis?

- A abrazija
- B denudacija
- C eoliniai procesai
- D nuošliauža



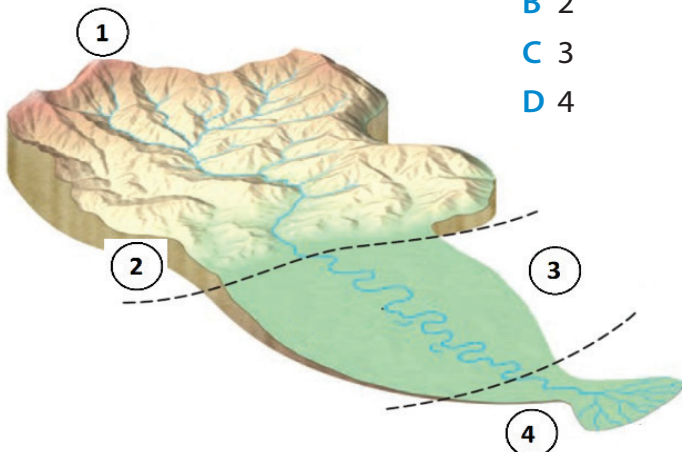
15. Kurioje upėje yra šis krioklys?

- A Huanghės
- B Kongo
- C Mekongo
- D Misisipės



16. Kurioje upės dalyje vyksta intensyviausia šoninė erozija?

- A 1
- B 2
- C 3
- D 4



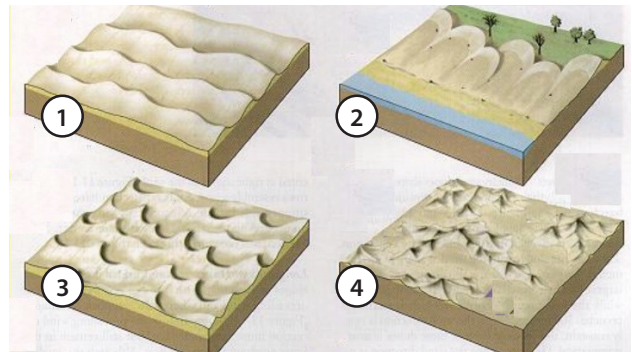
17. Kurį hidrografinį objektą matote šioje aerofotografijoje?

- A delta
- B estuariją
- C fjordą
- D limaną



18. Kurios rūšies kopas suformuoja įvairių krypčių vėjas?

- A 1
- B 2
- C 3
- D 4



19. Ką žymi ši lentelė Norvegijoje?

- A aukštį virš jūros lygio
- B išmatuotą didžiausią kritulių kiekį
- C ledyno pasiektą ribą
- D vandenyno lygį



20. Kas suformavo sluoksnių struktūrą nuotraukoje užfiksuotoje saloje?

- A akumuliacija
- B koralinio atolo augimas
- C potvyniai ir atoslūgiai
- D vulkanizmas



21. Dėl kokios priežasties mažėja baltųjų lokių paplitimo arealas?

- A atskrendantys paukščiai atneša naujas ligas, kurioms lokiai nėra atsparūs
- B į poliarines sritis lengviau patenka brakonieriai
- C plečiasi žmonių gyvenamosios teritorijos, lokiai naikinami dėl keliamo pavojaus
- D dėl šiltnamio efekto sukeltų padarinių



22. Kieno ribą žymi balta linija Amazonės miškų palydovinėje nuotraukoje?

- A įsteigtos saugomos teritorijos
- B kitos šalies teritorijos
- C laukinių gyvūnų medžioklės ploto
- D vietos bendruomenių gyvenamosios teritorijos



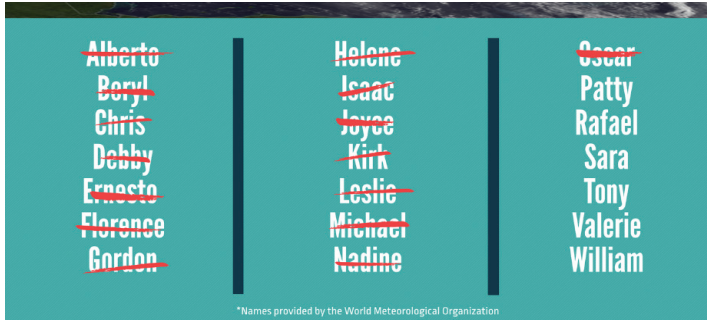
23. Kiek turėtų pakilti Pasaulinio vandenyno lygis, kad susiformuotų toks Europos vaizdas?

- A 50 m
- B 100 m
- C 200 m
- D 500 m



24. Kas išvardyta šiame sąrašė?

- A naujų urbanizuotų teritorijų pavadinimai
- B populiariausi vardai 2018 metais
- C tropinių ciklonų pavadinimai 2018 metais
- D 2018 metais išsiveržusių ugnikalnių pavadinimai



25. Kurioje šalyje galima pamatyti augalijos tipą – garigą?

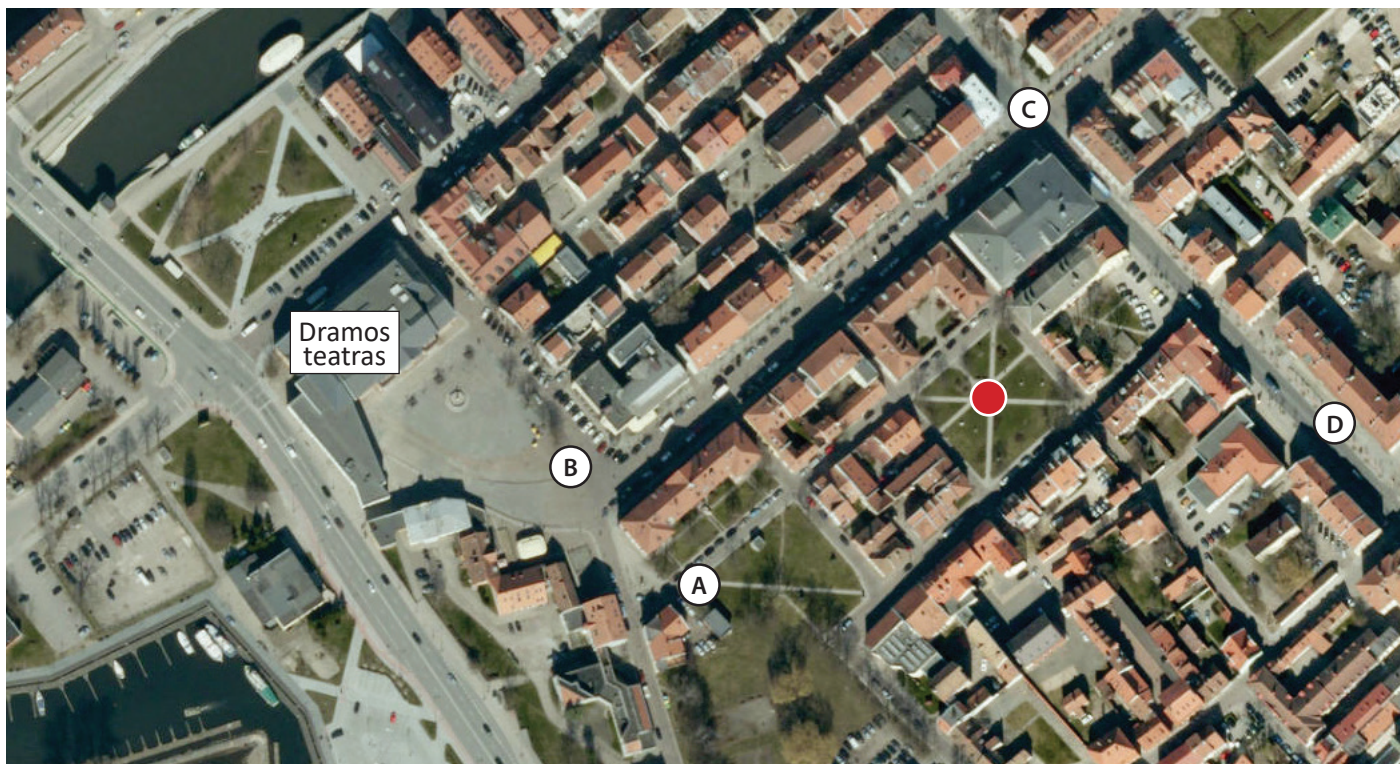
- A Egipte
- B Graikijoje
- C Jungtinėje Karalystėje
- D Zanzibare



26. Kuri geografinė zona pavaizduota šiame žemėlapyje?

- A dykumos
- B kietalapių miškai ir krūmynai
- C plačialapių miškai
- D tundra





27. Kurią valandą daryta aerofotografija?

- A 9 val.
- B 12 val.
- C 17 val.
- D 21 val.

28. Kokiais azimutais reikėtų važiuoti iš taško B į tašką D?


- A 45° ir 135°
- B 135°
- C 90°
- D 180 ir 90°

29. Kuria pasaulio kryptimi nėra tako iš žemėlapyje pažymėto raudono taško?

- A P
- B PR
- C PV
- D ŠR

30. Iš kurio žemėlapyje pažymėto taško matomas šis *Google Maps Street View* vaizdas?

- A iš A
- B iš B
- C iš C
- D iš D



UŽDUOTYS 12 KLASEI

2019 m. geografijos olimpiada

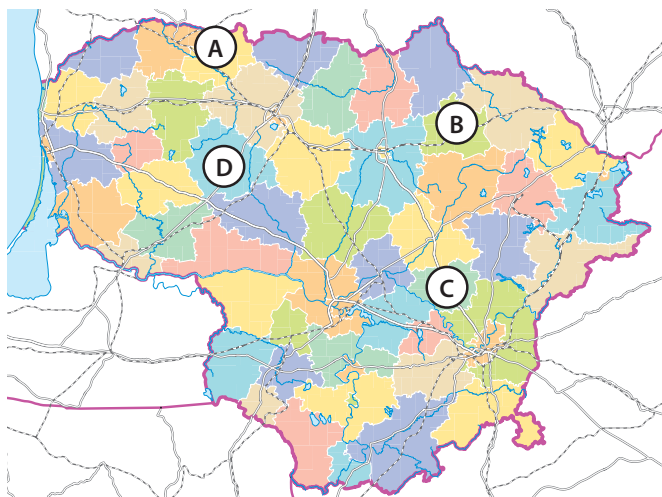


Dalyvis _____

Surinkti taškai _____

1. Atpažinkite raidėmis A–D pažymėtas Lietuvos savivaldybes. Pasirinkite teisingą ketvertą.

- A Akmenės, Kupiškio, Širvintų, Kelmės
- B Akmenės, Rokiškio, Ukmergės, Raseinių
- C Mažeikių, Pakruojo, Molėtų, Raseinių
- D Mažeikių, Kupiškio, Molėtų, Kelmės



2. Kurio uosto raida vaizduojama žemėlapyje?

- A Hamburgo
- B Rygos
- C Roterdamo
- D Stokholmo



3. Kaip vadinamos nuotraukoje matomos daržovės?

- A batatai
- B imbierai
- C maniokai
- D morkos



4. Kuris prekės ženklas Lietuvoje buvo populiariausias 2017 metais?

- A Apple
- B Google
- C Samsung
- C Telia

	Lietuva		Latvija
	18.4%	Swedbank	14.8%
Facebook	17.5%	Apple	10.5%
Maxima	17.1%	Laima	10.0%
Gmail	15.6%	LMT	9.8%
YouTube	13.7%	Samsung	9.3%

Estija	
Google	15.4%
Kalev	15.2%
Swedbank	13.0%
YouTube	10.9%
Telia	10.3%

5. Kuriame iš atsakymų įvardytos žemės ūkio kultūros, daugiausia auginamos vidutinių platumų klimato juostoje?

- A apyniai, bulvės, tabakas, vynuogės
- B bulvės, linai, cukriniai runkeliai, rugiai
- C cukriniai runkeliai, kukurūzai, miežiai, sojos
- D linai, kviečiai, kukurūzai, žemės riešutai

6. Kuriai valstybei priklauso oro linijų bendrovė KLM?

- A Belgijai
- B Jungtinei Karalystei
- C Nyderlandams
- D Švedijai



7. Kuris iš rodiklių nėra naudojamas gyvenimo kokybės indeksui (ŽSRI) nustatyti?

- A BVP 1 gyventojui
- B gyvenimo trukmė
- C natūralusis prieaugis
- D raštingumas

8. Kurio megamiesto ši nuotrauka?

- A Niujorko
- B Los Andželo
- C San Paulo
- D Tokijo



9. Kokių išteklių gavyba užfiksuota šioje aerofotografijoje?

- A aliuminio
- B bromo
- C druskos
- D sieros



10. Kuriame variante teisingai išvardytos perdavimų transporto rūšys?

- A interneto ryšys, paštas, oro balionai
- B tanklaiviai, telefono ryšys, konvejeriai
- C vamzdynai, elektromobiliai, interneto ryšys
- D vamzdynai, elektros laidai, konvejeriai

11. Kuriam pasaulio regionui būdingas toks agrarinis kraštovaizdis?

- A Arabijos pusiasalio drėkinamoms dykumoms
- B Argentinos pampai
- C Australijos drėkinamoms dykumoms
- D Vokietijos šiaurės lygumoms

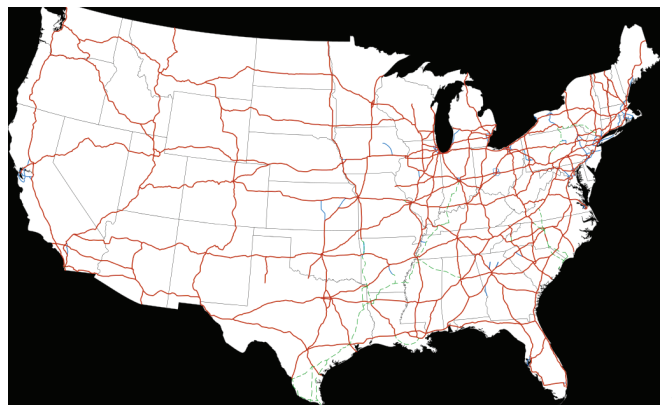


12. Kuris bruožas netinka ypač silpnos ekonomikos valstybėms?

- A didelis bedarbystės procentas
- B nepakankama arba menkavertė mityba
- C pakankamai tolygus pajamų pasiskirstymas
- D ūkio priklausomybė nuo kelių eksportuojamų produktų

13. Ką vaizduoja raudonos linijos šiame JAV žemėlapyje?

- A Amerikos indėnų migracijos kelius
- B greitkelių tinklą
- C laivybai tinkančių upių ir kanalų tinklą
- D magistralinių vamzdynų tinklą

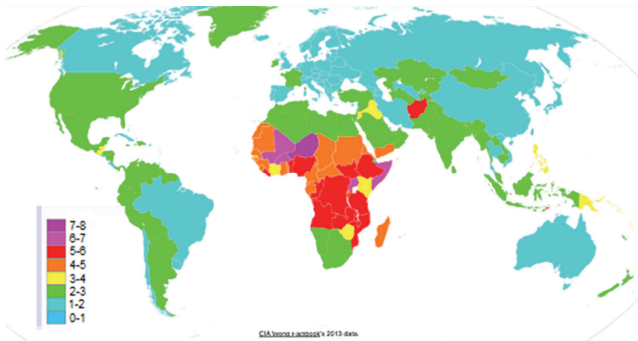


14. Kuri gyvulių rūšis labiausiai tinkama ekstensyviai prekynei gyvulininkystei?

- A avys
- B galvijai
- C kiaulės
- D vištos

15. Kas vaizduojama šioje kartoschemoje?

- A gimstamumas
- B mirtingumas
- C natūralusis gyventojų prieaugis
- D vaikų skaičius šeimose



16. Dėl kokios priežasties mažėja baltųjų lokių paplitimo arealas?

- A atskrendantys paukščiai atneša naujas ligas, kurioms lokiai nėra atsparūs
- B į poliarines sritis lengviau patenka brakonieriai
- C plečiasi žmonių gyvenamosios teritorijos, lokiai naikinami dėl keliamo pavojaus
- D dėl šiltnamio efekto sukeltų padarinių



17. Kuris teiginys apie hidroelektrinių pranašumus yra neteisingas?

- A kaupiamas vanduo mažina potvynių riziką elektros
- B pagamintos elektros energijos kaina yra nedidelė
- C pigus ir greitas užtvankų įrengimas, elektros perdavimo linijų tiesimas
- D tekančio vandens energija yra neišsenkanti

18. Kokios naudingosios iškasenos išgaunamos palydovinėje nuotraukoje užfiksuotame telkinyje?

- A akmens anglis
- B deimantai
- C geležies rūda
- D kalio druska



19. Kokios religijos išpažinėjas nepavaizduotas šiame piešinyje?

- A budistas
- B judėjas
- C katalikas
- D musulmonas



20. Kieno ribą žymi balta linija Amazonės miškų palydovinėje nuotraukoje?

- A įsteigtos saugomos teritorijos
- B kitos šalies teritorijos
- C laukinių gyvūnų medžioklės ploto
- D vietos bendruomenių gyvenamosios teritorijos



21. Kokią ryšių infrastruktūrą vaizduoja žemėlapis?

- A asfaltuotų kelių tinklą
- B Google Street View paplitimą
- C G5 ryšio galimybes pasaulyje
- D mobiliojo ryšio tinklo paplitimą



22. Kuriame iš atsakymų teisingai įvardytos abi valstybės, kuriose daugiau kaip 50 % elektros energijos pagaminama hidroelektrinėse?

- A Australijoje ir Švedijoje
- B Brazilijoje ir Kanadoje
- C Islandijoje ir Lietuvoje
- D Lenkijoje ir Norvegijoje


23. Kiek turėtų pakilti Pasaulinio vandenyno lygis, kad susiformuotų toks Europos vaizdas?

- A 50 m
- B 100 m
- C 200 m
- D 500 m



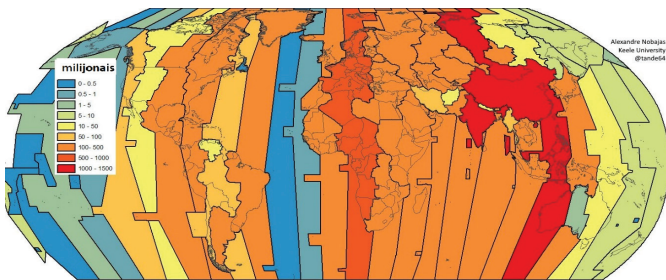
24. Šis žemėlapis fiksuoja 2016 metų rugpjūčio mėnesio vaizdą. Kas čia pavaizduota?

- A baltųjų lokių migracijos keliai
- B eskimų prekybos keliai
- C laivybos maršrutų intensyvumas
- D maksimali ledynų išplitimo riba



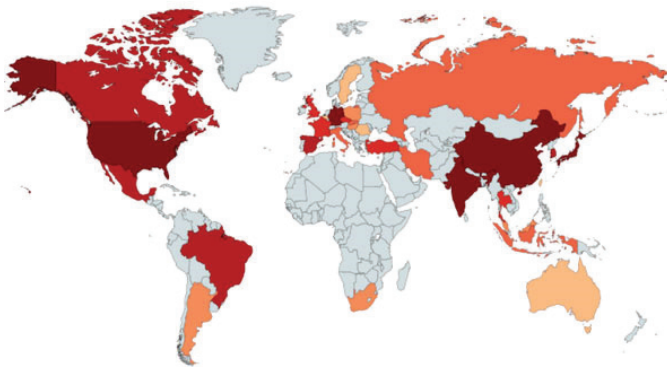
25. Žemėlapyje vaizduojamas vieno geografinio rodiklio pasiskirstymas pagal laiko juostas. Koks tai rodiklis?

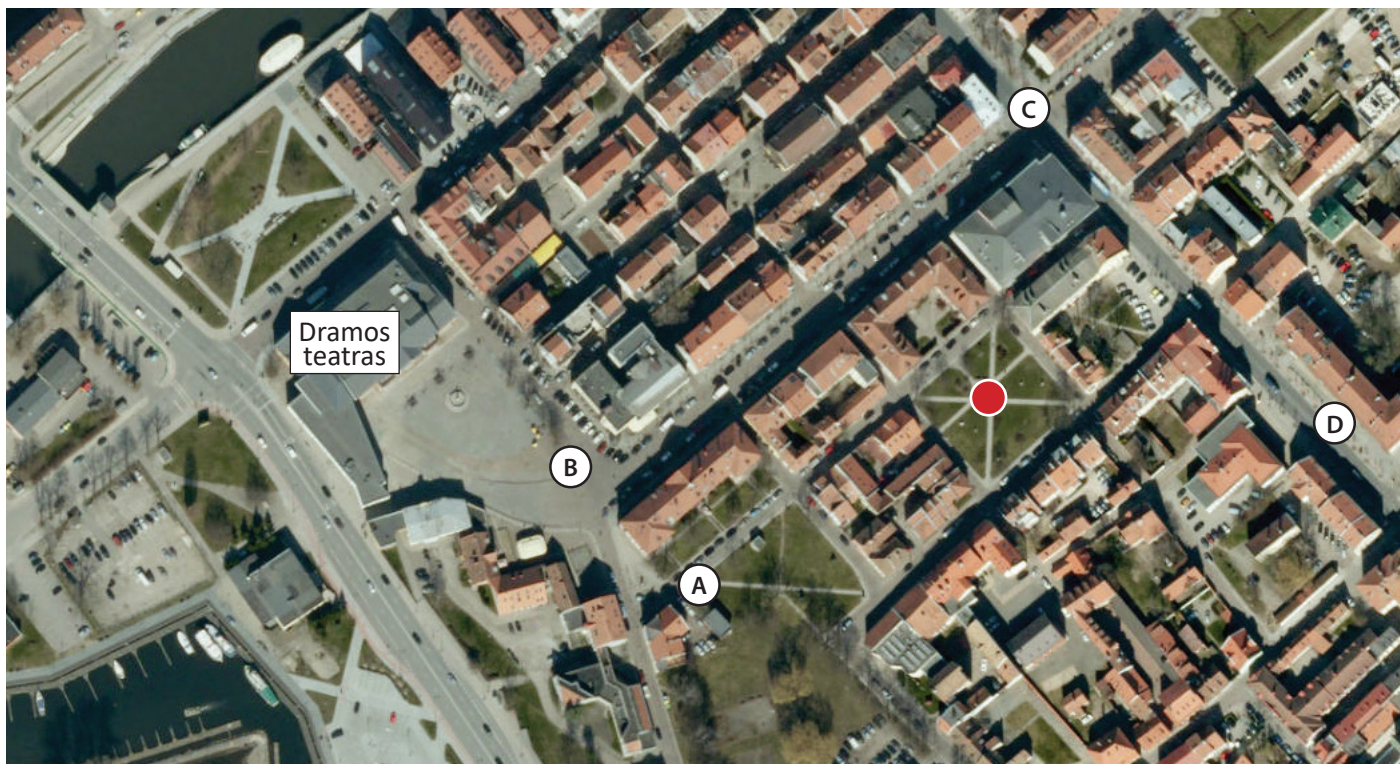
- A BVP 1 gyventojui
- B gyventojų skaičius
- C pagyvenusių žmonių skaičius
- D paviršiaus aukštis



26. Kurios produkcijos gamybą 2016 metais vaizduoja šis žemėlapis?

- A automobilių gamybą
- B lazerių gamybą
- C mobiliųjų telefonų gamybą
- D vaistų gamybą





27. Kurią valandą daryta aerofotografija?

- A 9 val.
- B 12 val.
- C 17 val.
- D 21 val.

28. Kokiais azimutais reikėtų važiuoti iš taško B į tašką D?

- A 45° ir 135°
- B 135°
- C 90°
- D 180 ir 90°

29. Kuria pasaulio kryptimi nėra tako iš žemėlapyje pažymėto raudono taško?

- A P
- B PR
- C PV
- D ŠR

30. Iš kurio žemėlapyje pažymėto taško matomas šis *Google Maps Street View* vaizdas?

- A iš A
- B iš B
- C iš C
- D iš D

