

Užduotys

2 klasei

2020 m. pasaulio pažinimo olimpiada



Olimpiados organizatorius: Lietuvos geografijos mokytojų asociacija

1. Ši nuotrauka labai populiari, kai Lietuva švenčia vasario 16-osios ir kovo 11-osios dienos šventes.

Kuriuo metų laiku daryta ši nuotrauka?

- A. Pavasarį
- B. Rudenį
- C. Vasarą
- D. Žiemą



2. Atpažink šalį pagal ją simbolizuojančius piešinukus.

Tai yra:

- A. Australija
- B. Egiptas
- C. Japonija
- D. Rusija



3. Kam oro balione naudojamas karštas oras?

- A. Dėl geresnio matomumo
- B. Kad nesusaltų keleiviai
- C. Padeda nusileisti
- D. Padeda pakilti



4. Iš ko gaminami guminiai batai?

- A. Iš akmens anglies
- B. Iš durpių
- C. Iš molio
- D. Iš naftos



5. Kurioje nuotraukoje yra klevo žiedai?

A.

B.

C.

D.



A



B



C



D

6. Kuris Lietuvos paukštis žiemoti skrenda žemėlapyje parodytu maršrutu?

- A. Balandis
- B. Gandras
- C. Šarka
- D. Zylė



7. Šiems keliautojams teko iškęsti 80 laipsnių šaltį. Kuriame žemyne jie lankėsi?

A. Antarktidoje

B. Pietų Amerikoje

C. Azijoje

D. Šiaurės Amerikoje




8. Kurią iš šių daržovių valgome pilnai nesunokusia?

- A. 1
- B. 2
- C. 3
- D. 4



1



2



3



4

9. Kaip vadinami šie krituliai?

- A. Lietus
- B. Rasa
- C. Sniegas
- D. Šerkšnas



10. Kuris iš šių gyvūnų turi kailį?

- A.
- B.
- C.
- D.



A



B



C



D

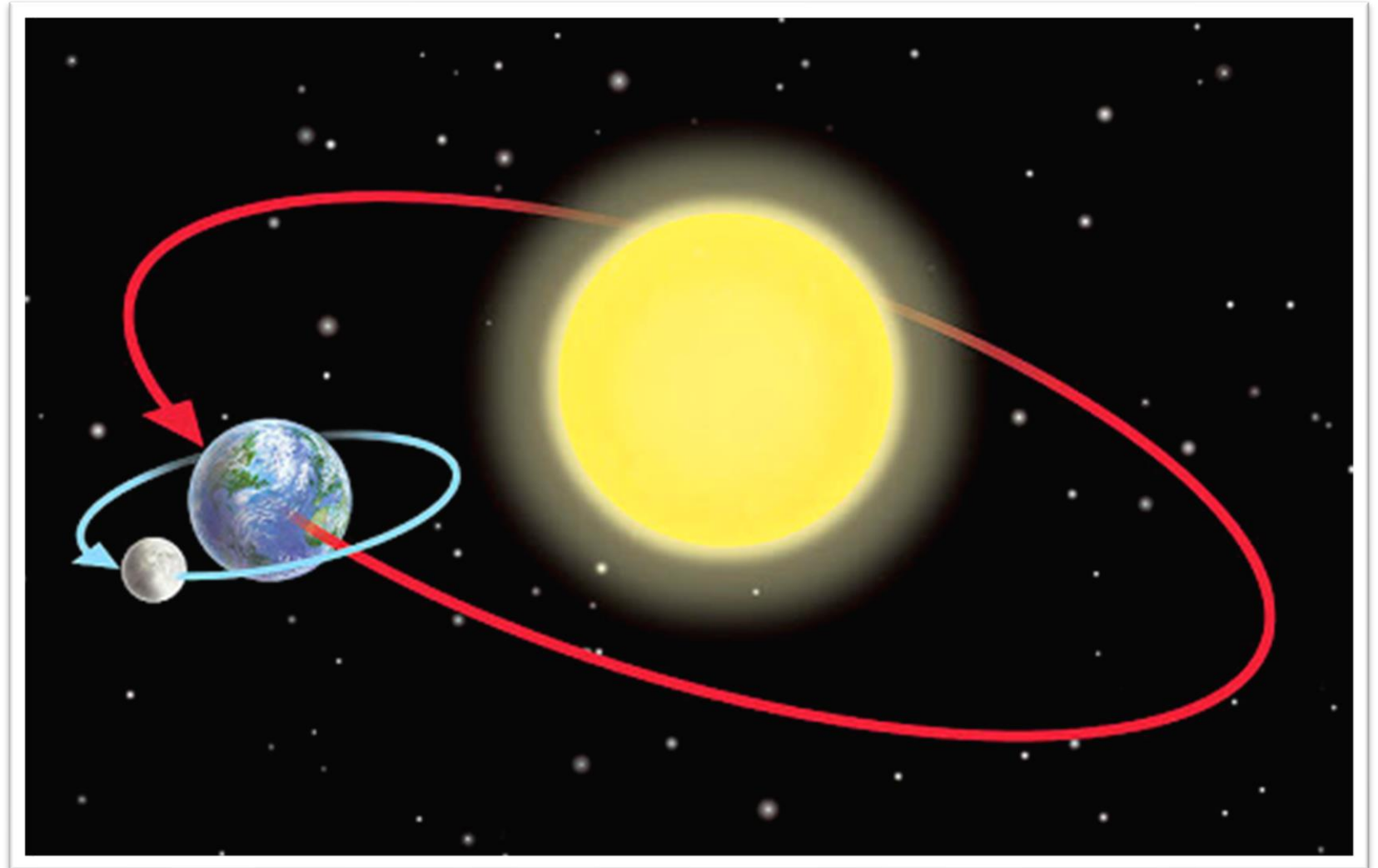
11. Kas yra Lietuvos himno (Tautiškos giesmės) autorius?

- A. Antanas Smetona
- B. Jonas Basanavičius
- C. Konstantinas Čiurlionis
- D. Vincas Kudirka



12. Per kiek laiko mūsų planeta Žemė apskrieja aplink Saulę?

- A. Per metus
- B. Per mėnesį
- C. Per parą
- D. Per savaitę



13. Kuris iš šių vandens gyvūnų sutinkamas Baltijos jūroje?

A.

B.

C.

D.



A



B



C



D

14. Dēl kurios priežasties sunyko šis miškas?

- A. Dēl smarkaus lietaus
- B. Dēl stipraus vējo
- C. Dēl rūgštaus lietaus
- D. Dēl Žemēs perkaitimo



15. Ko negalėtų padaryti dalis žmonių, jeigu Žemėje staiga pasibaigtų gamtinės dujos?

- A. Išplauti grindų
- B. Išsiurbti kilimo
- C. Palaistyti gėlių
- D. Pasigaminti maisto




16. Kuri rodyklė rodo vėjo kryptį?

A.

B.

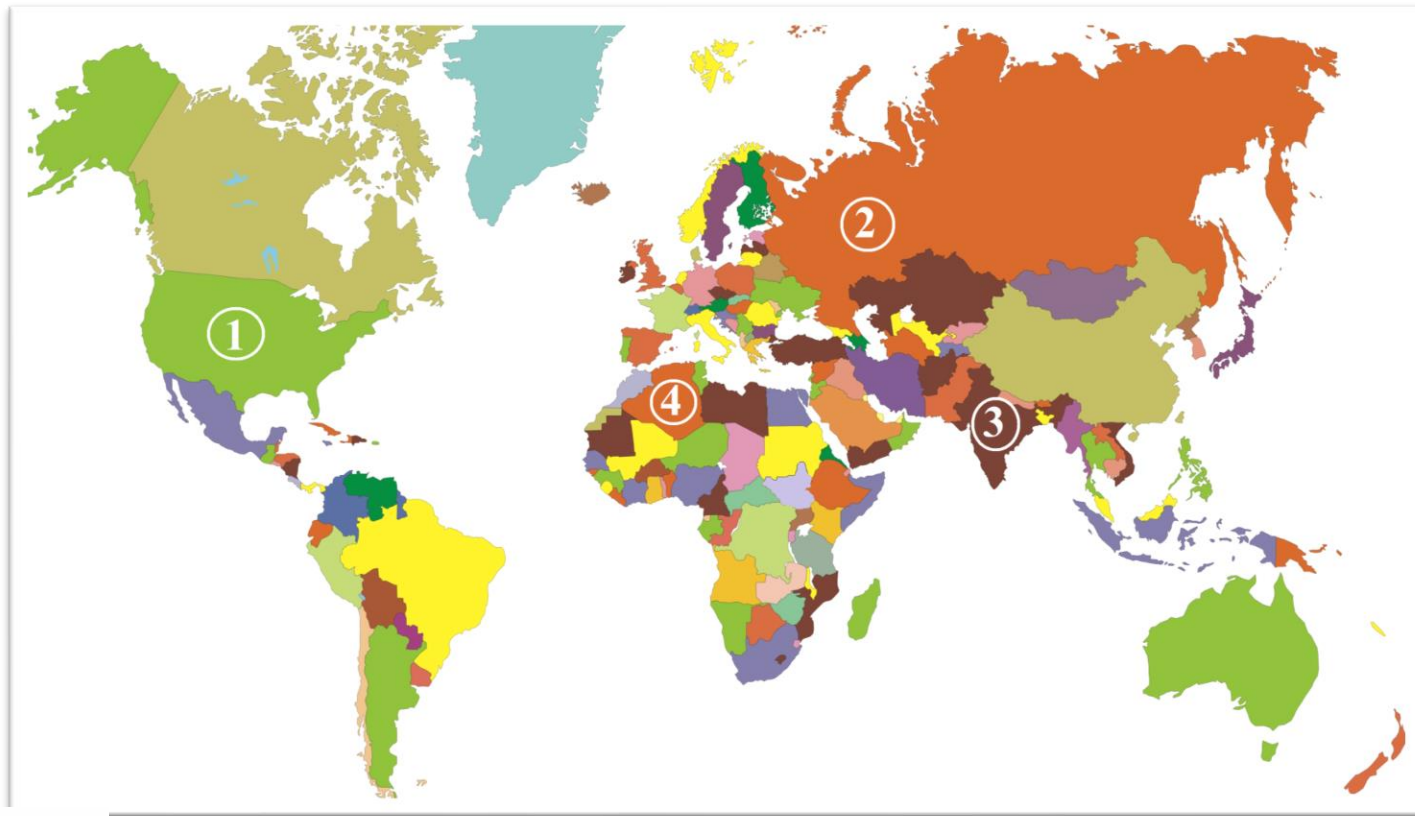
C.

D.



17. Pasaulio žemėlapyje skaičiais pažymėtos keturios valstybės.

Kurios šalies simbolius matote piešiniukuose?



A. 1

B. 2

C. 3

D. 4

18. Koks oro reiškinyms matomas nuotraukoje?

- A. Debesis
- B. Lietus
- C. Rasa
- D. Rūkas



19. Kuria raide žemėlapyje pažymėta Baltijos jūra?

- A.
- B.
- C.
- D.



20. Ką reiškia šis ženklas ant pakuočių?

- A. Ekologiškų produktų žymėjimo ženklas
- B. Prekę galima grąžinti
- C. Prekę greitai genda
- D. Prekę pagaminta iš perdirbamų medžiagų



Užduotys

3 klasei

2020 m. pasaulio pažinimo olimpiada



Olimpiados organizatorius: Lietuvos geografijos mokytojų asociacija

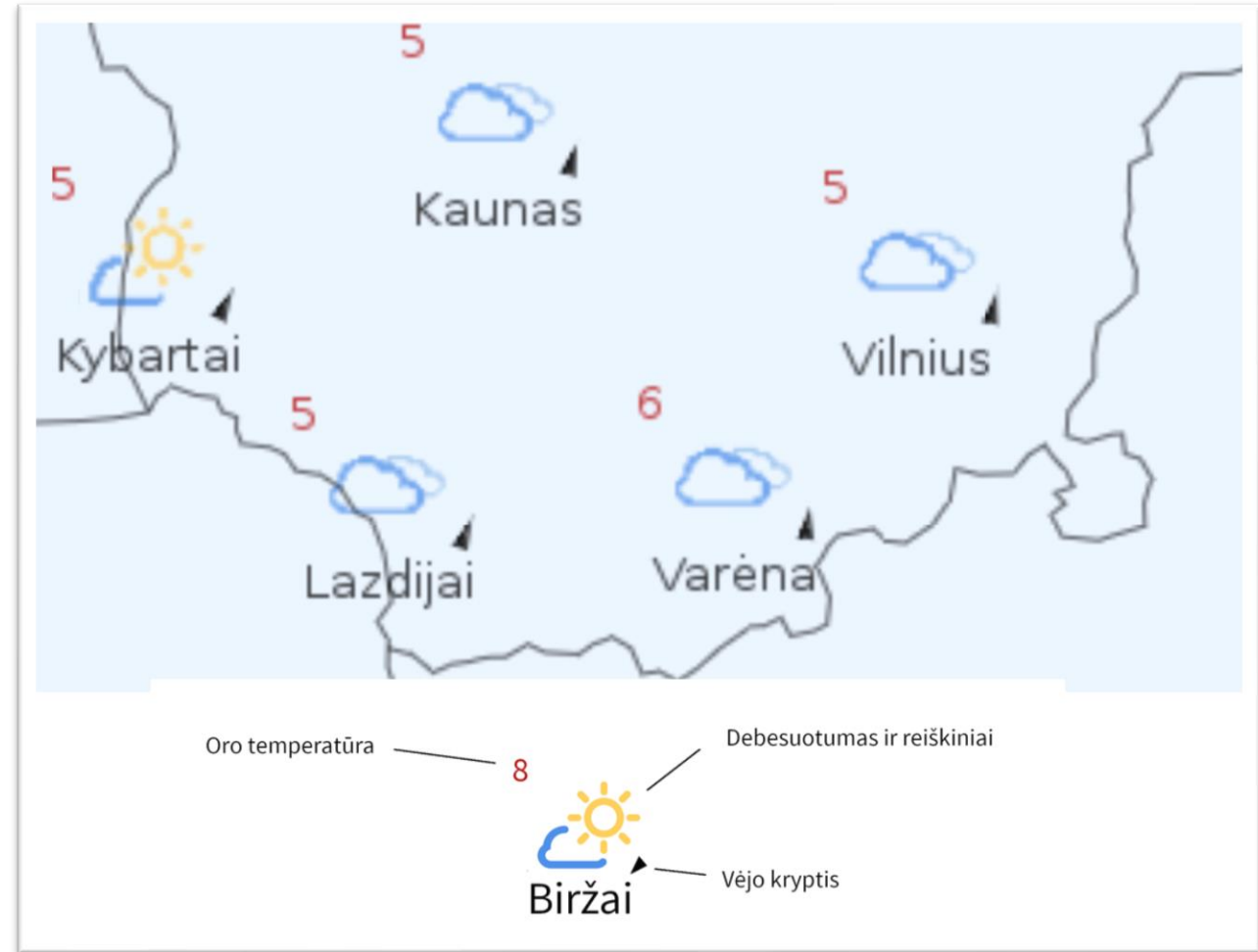
1. Kuriai augalų grupei priklauso šios Pajūrinės smiltlendrės?

- A. Grybams
- B. Krūmams
- C. Medžiams
- D. Žoliniams



2. Kuris atsakymas tiksliausiai apibūdina orus Lietuvos sostinėje?

- A. Šilta, debesuota, lyja
- B. Vėsu, debesuota, be kritulių
- C. Vėsu, debesuota su pragiedruliais, lyja
- D. Vėsu, saulėta, be kritulių



3. Pagal tautinius drabužius nustatykite, iš kurio Lietuvos etnografinio regiono yra šios merginos.



A. B. C. D.

4. Kuriame atsakyme teisingai išvardytos ypač svarbios šalys geležinkelio istorijoje?

- A. Anglija, Lietuva, JAV
- B. Anglija, Vokietija, Japonija
- C. Graikija, Japonija, Prancūzija
- D. Vokietija, Lenkija, Suomija



5. Prie kokių sąlygų yra prisitaikę dykumų augalai?

- A. Prie karščio ir didelės drėgmės
- B. Prie karščio ir drėgmės trūkumo
- C. Prie karščio ir tamsos
- D. Prie šalčio ir drėgmės trūkumo



6. Šis klevas yra saugomas gamtos paveldo objektas. Jo kamieno apimtis yra 310 cm. Koks šio medžio amžius?

- A. 26 m
- B. 77 m
- C. 124 m
- D. 316 m



7. Kuri iš žemėlapyje išvardytų šalių yra labiausiai nutolusi į šiaurę?

- A. Baltarusija
- B. Latvija
- C. Lietuva
- D. Lenkija




8. Kurioje gamtinėje aplinkoje gyvena Baltieji lokiai?

- A. Arktyje
- B. Atogrąžų miškuose
- C. Dykumose
- D. Savanose



9. Kurį mėnesį Lietuvoje visos naktys ilgėja?

- A. Birželį
- B. Kovą
- C. Sausį
- D. Spalį



10. Kurio iš šių augalų negalima priskirti grybams?

- A.
- B.
- C.
- D.



A



B



C



D

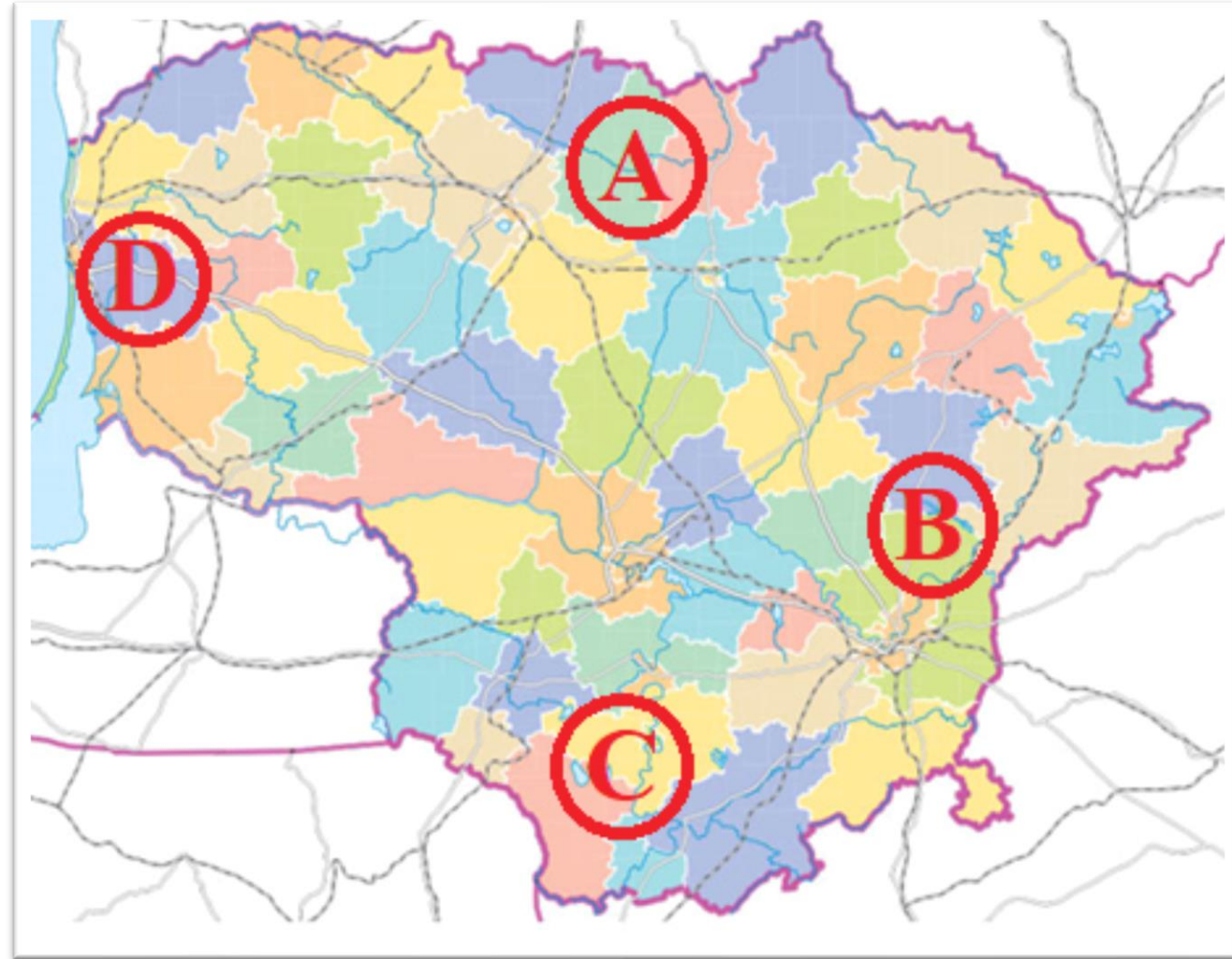
11. Kodėl pasaulio miškai vadinami Žemės plaučiais?

- A. Iš miškų gaunama mediena
- B. Miškai yra gyvūnų namai
- C. Miškai išskiria deguonį
- D. Miškai sunaudoja daugiausia Žemės vandens




12. Kuriam iš raidėmis pažymėtų Lietuvos regionų būna šilčiausios žiemos?

- A.
- B.
- C.
- D.



13. Kuris gyvūnas yra prisitaikęs gyventi aukštikalnėse?

- A.
- B.
- C.
- D.



A



B



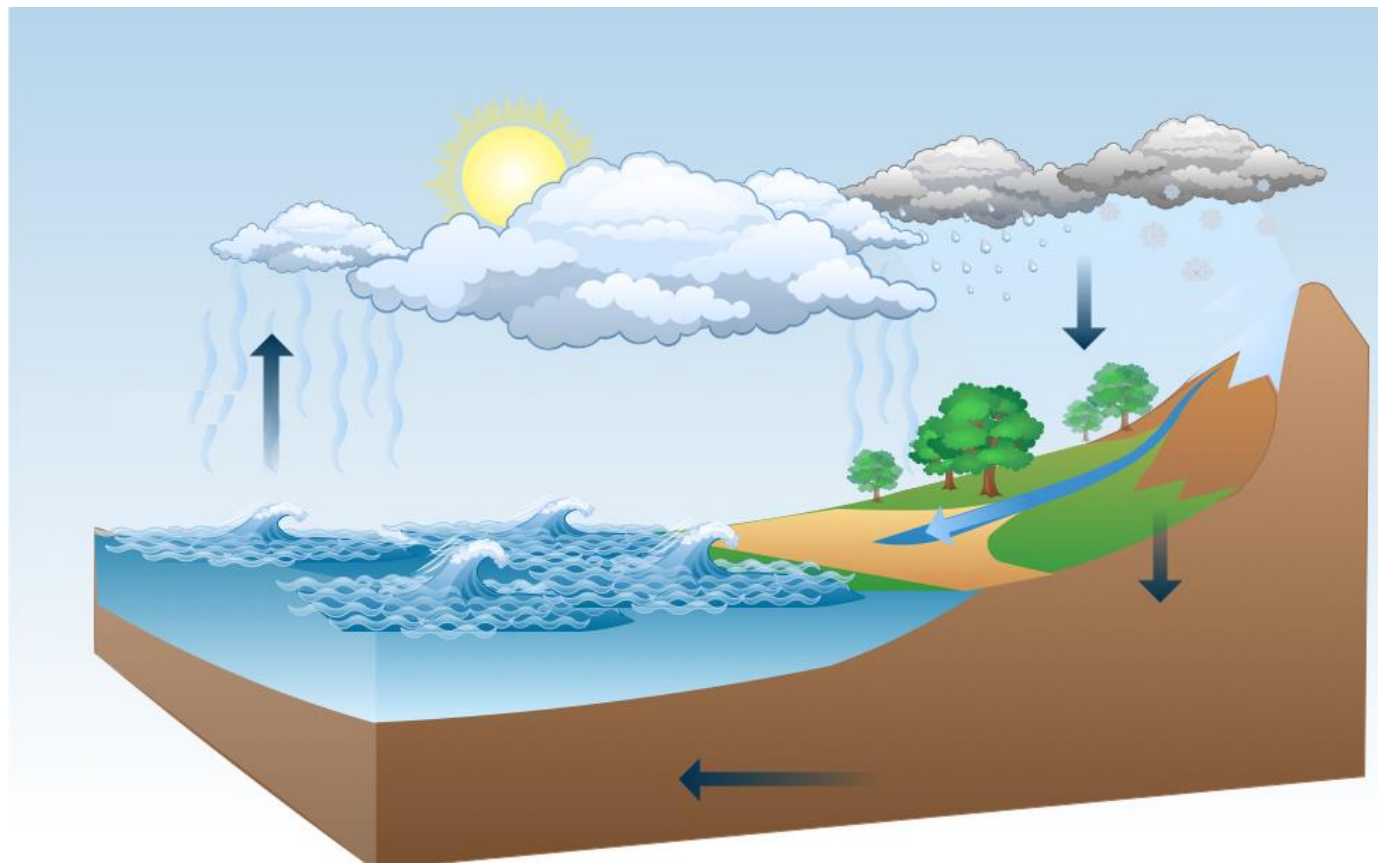
C



D

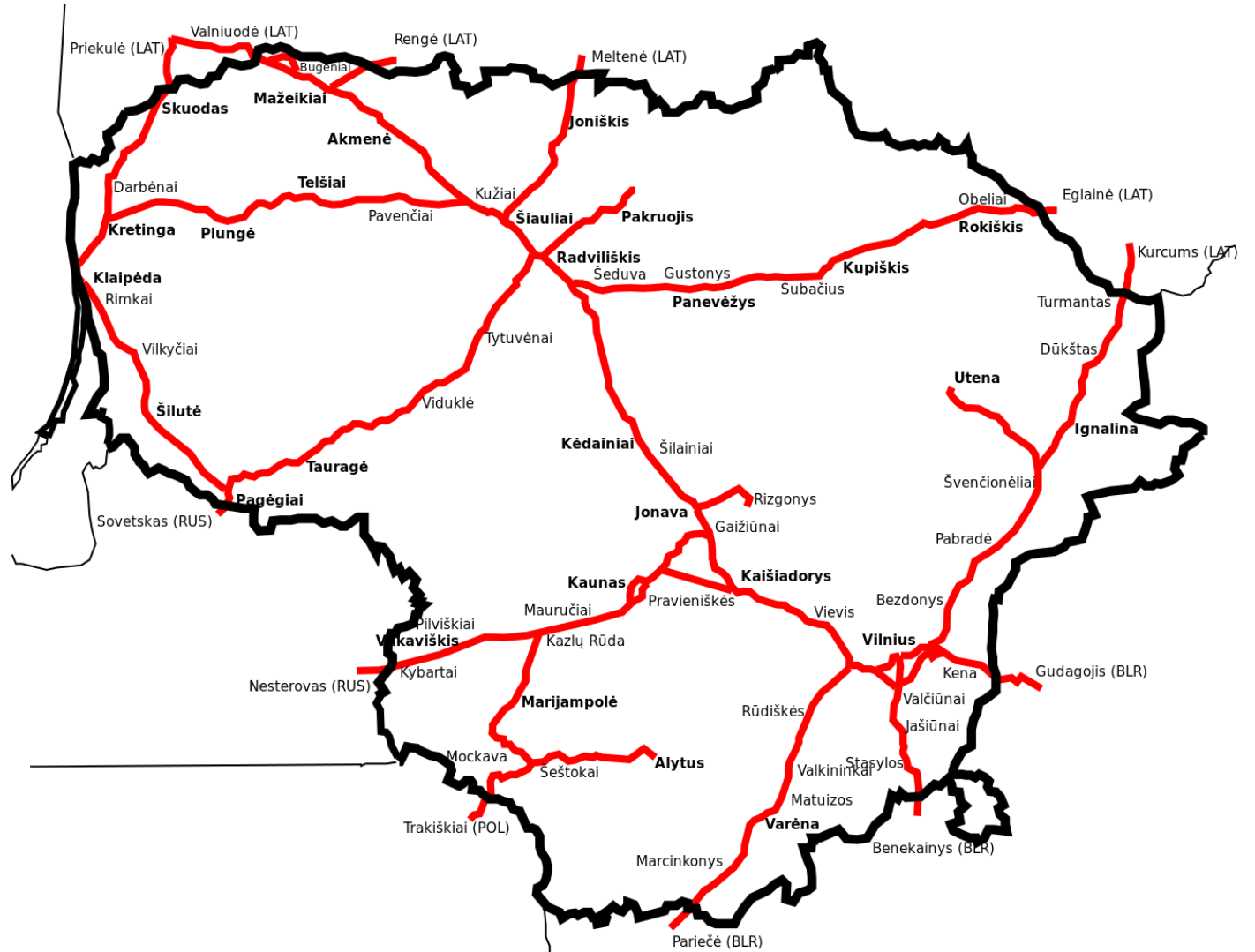
14. Kas vaizduojama šiame paveiksle rodyklėmis?

- A. Debesų susidarymas
- B. Oro judėjimas ratu
- C. Vandens apytakos ratas
- D. Vėjų susidarymas



15. Trečios klasės mokiniai iš Kauno keliauja traukiniu. Į kurį miestą jie negalės nuvykti?

- A. Į Klaipėdą
- B. Į Nidą
- C. Į Radviliškį
- D. Į Vilnių



16. Kuria raide pažymėta pietinė medžio pusė?

- A.
- B.
- C.
- D.



17. Iš ko gaminami guminiai batai?

- A. Iš akmens anglies
- B. Iš durpių
- C. Iš molio
- D. Iš naftos



18. Kurioje nuotraukoje yra klevo žiedai?

- A.
- B.
- C.
- D.



A



B



C



D

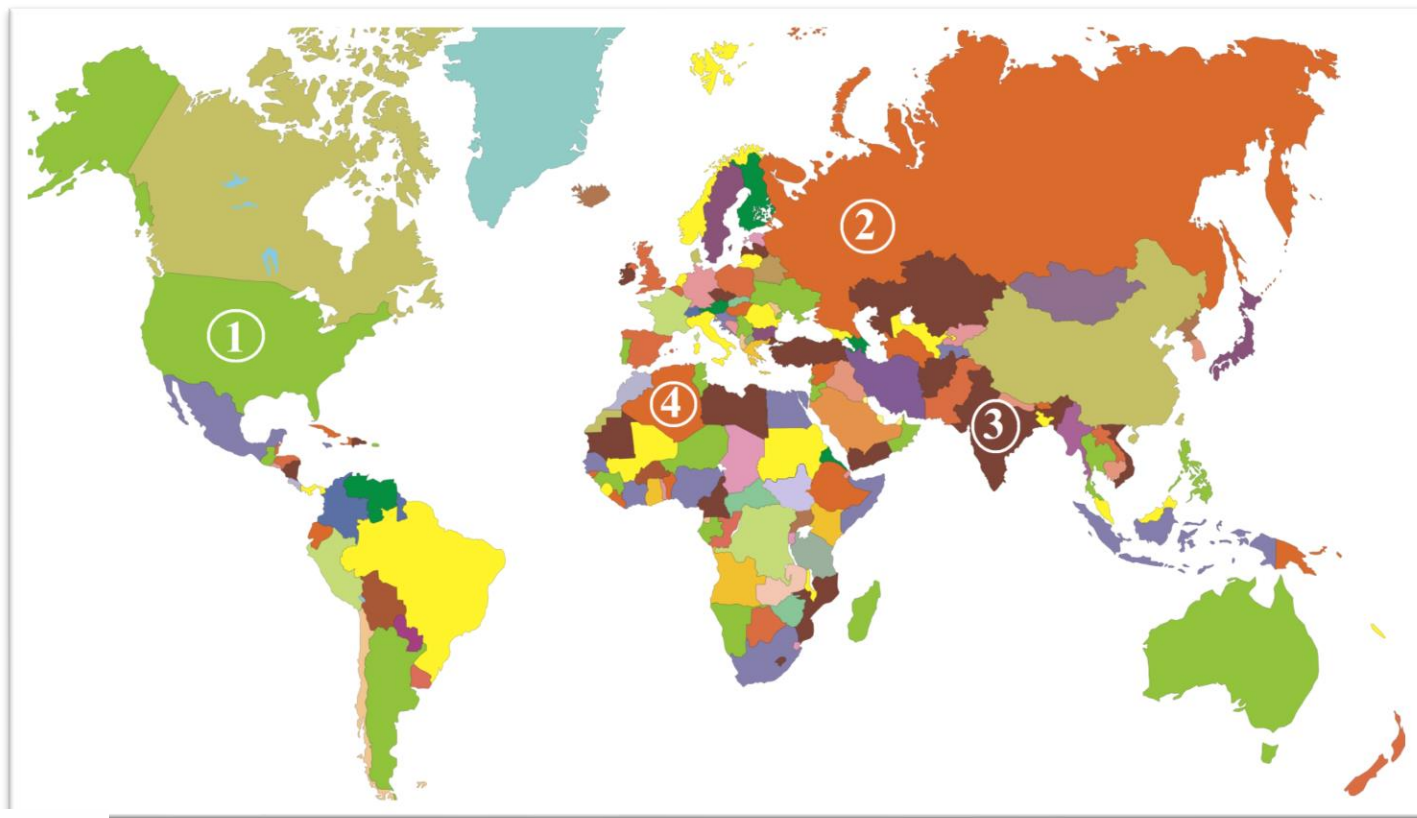
19. Dēl kurios priežasties sunyko šis miškas?

- A. Dēl smarkaus lietaus
- B. Dēl stipraus vējo
- C. Dēl rūgštaus lietaus
- D. Dēl Žemēs perkaitimo



20. Pasaulio žemėlapyje skaičiais pažymėtos keturios valstybės.

Kurios šalies simbolius matote piešiniukuose?



A. 1

B. 2

C. 3

D. 4

Užduotys 4 klasei

2020 m. pasaulio pažinimo olimpiada



Olimpiados organizatorius: Lietuvos geografijos mokytojų asociacija


1. Ką reiškia virš Prezidento rūmų plazdanti vėliava?

- A. Prezidentas dabar posėdžiauja
- B. Prezidentas išvykęs iš Lietuvos
- C. Prezidentas yra Lietuvoje
- D. Prezidentūroje svečiuojasi užsienio delegacija



2. Kuris gyvūnas yra prisitaikęs gyventi aukštikalnėse?

- A.
- B.
- C.
- D.



A



B



C



D

3. Kuris ženklas yra budizmo religijos simbolis?



A



B



C



D

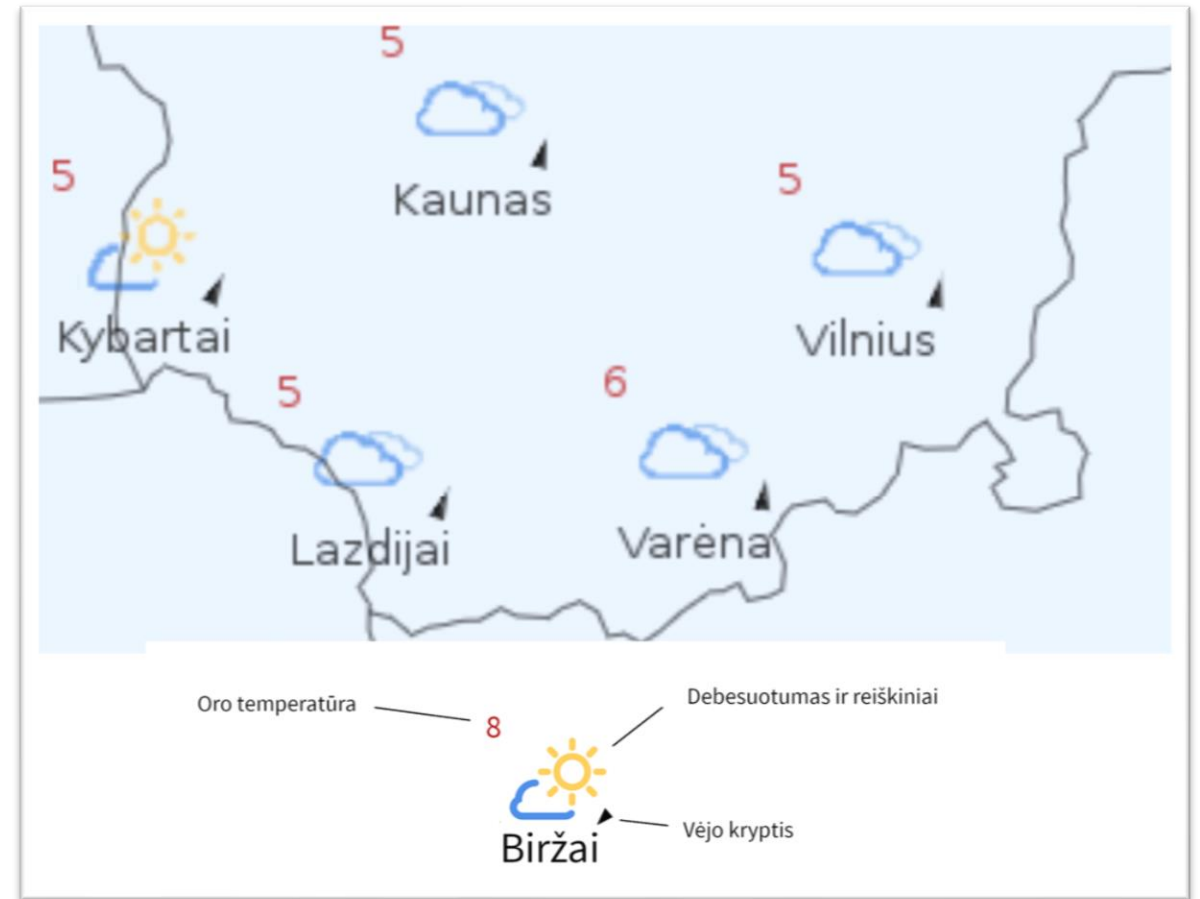
4. Kurios medžiagos dažniausiai naudojamos dangoraižių statybai?

- A. Betonas, molis, šiaudai
- B. Medis, stiklas, metalas
- C. Metalas, stiklas, betonas
- D. Stiklas, molis, medis



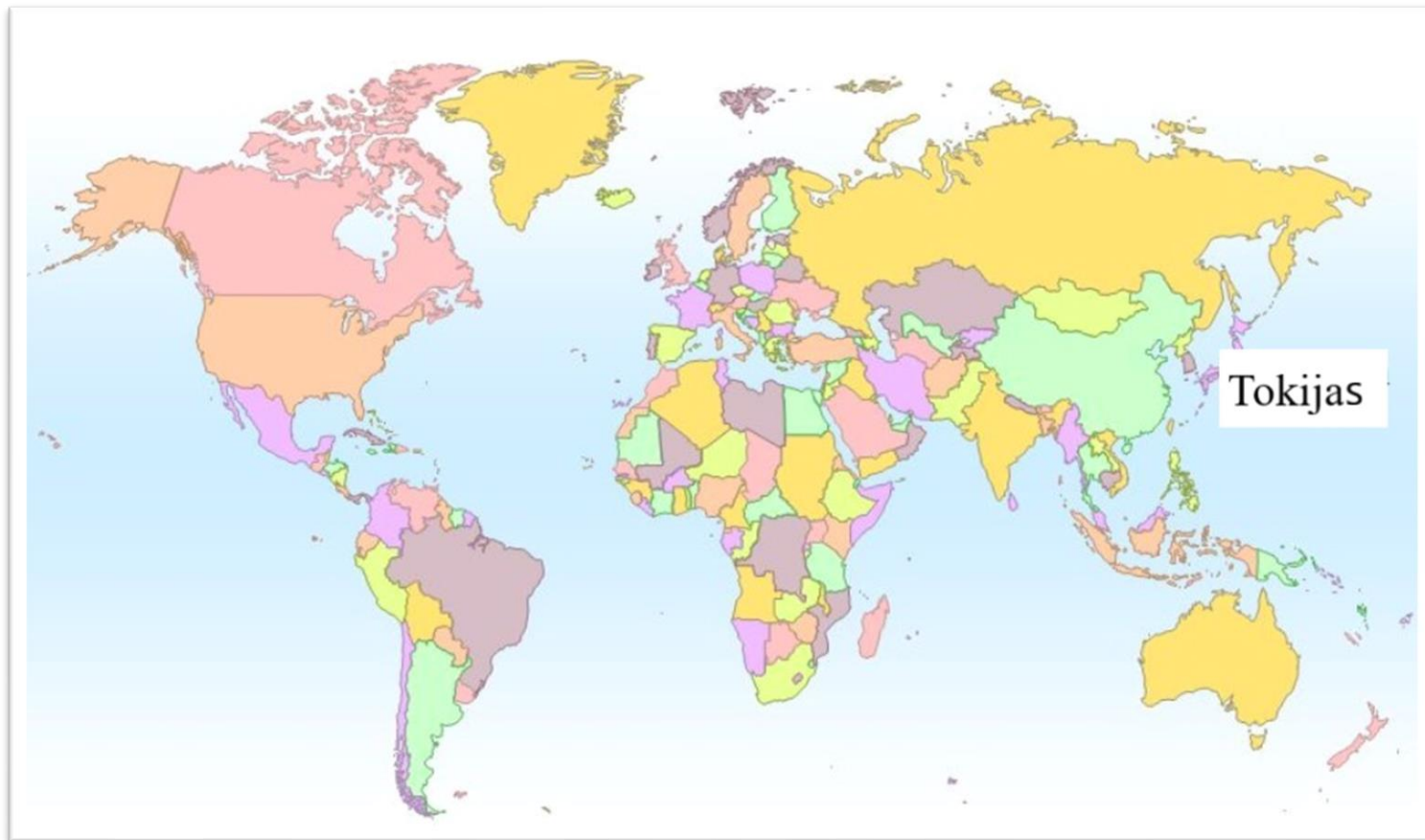
5. Kuris atsakymas tiksliausiai apibūdina orus Lietuvos sostinėje?

- A. Šilta, debesuota, lyja
- B. Vėsu, debesuota, be kritulių
- C. Vėsu, debesuota su pragiedruliais, lyja
- D. Vėsu, saulėta, be kritulių



6. Japonijos sostinė Tokijas yra didžiausias pasaulio miestas. Kuris atsakymas teisingai apibūdina jo padėtį pasaulyje?

- A. Į pietus nuo Lietuvos
- B. Į rytus nuo Lietuvos
- C. Į šiaurę nuo Lietuvos
- D. Į vakarus nuo Lietuvos



7. Šis operos ir baleto teatras bei tiltas yra Sidnėjaus vizitinė kortelė. Kaip vadinama tokia tilto konstrukcija?

- A. Akvedukas
- B. Arkinis tiltas
- C. Kabantysis tiltas
- D. Sijinis tiltas




8. Kuria pavasario švente garsėja Burbiškių dvaras?

- A. Ledo skulptūrų festivaliu
- B. Tulpių žydėjimo švente
- C. Vyšnių festivaliu
- D. Žibintų šviesų švente



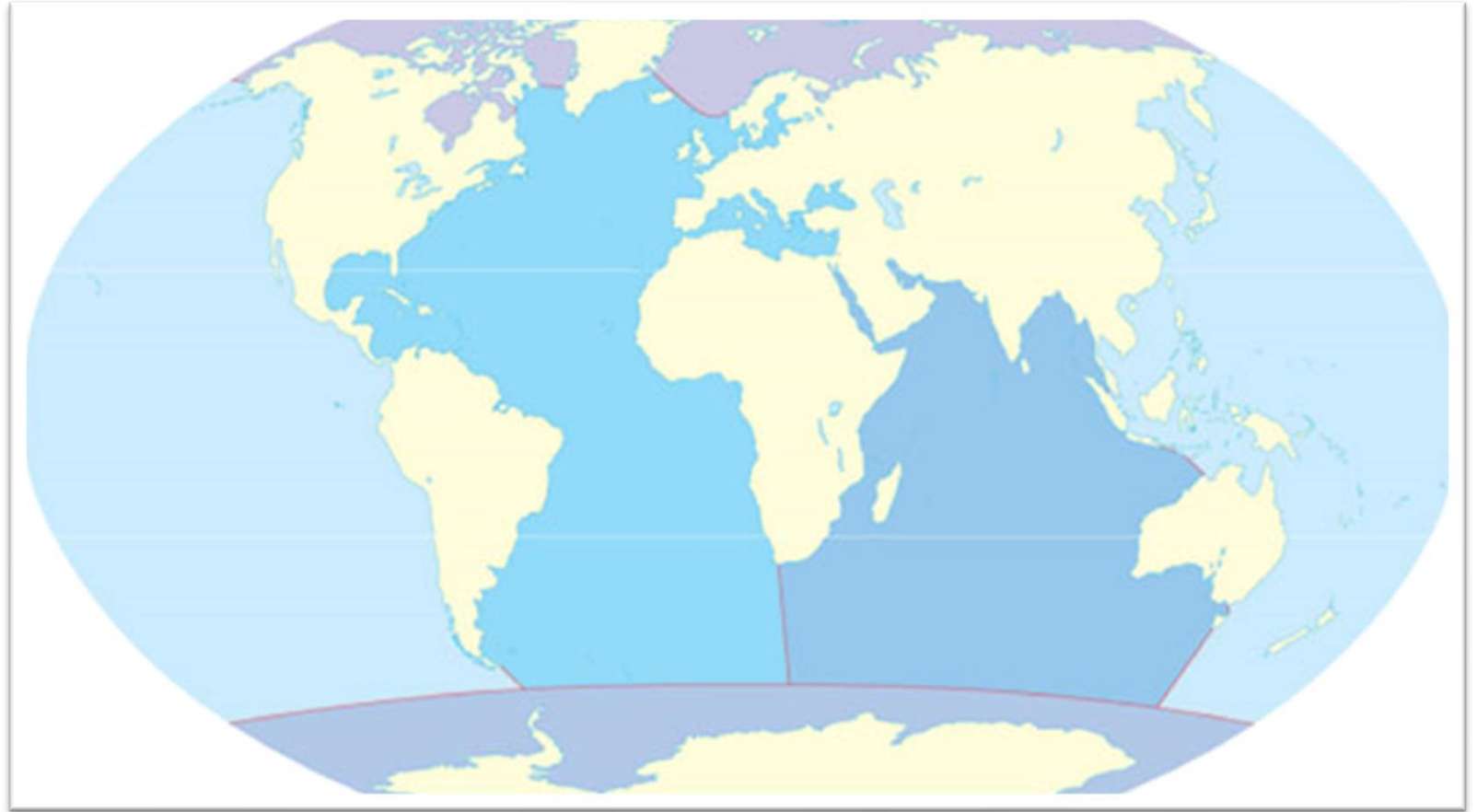
9. Kurį mėnesį Lietuvoje visos naktys ilgėja?

- A. Birželį
- B. Kovą
- C. Sausį
- D. Spalį



10. Kuris vandenynas skalauja Afriką iš rytų, o Australiją iš vakarų?

- A. Atlanto
- B. Indijos
- C. Pietų
- D. Ramusis



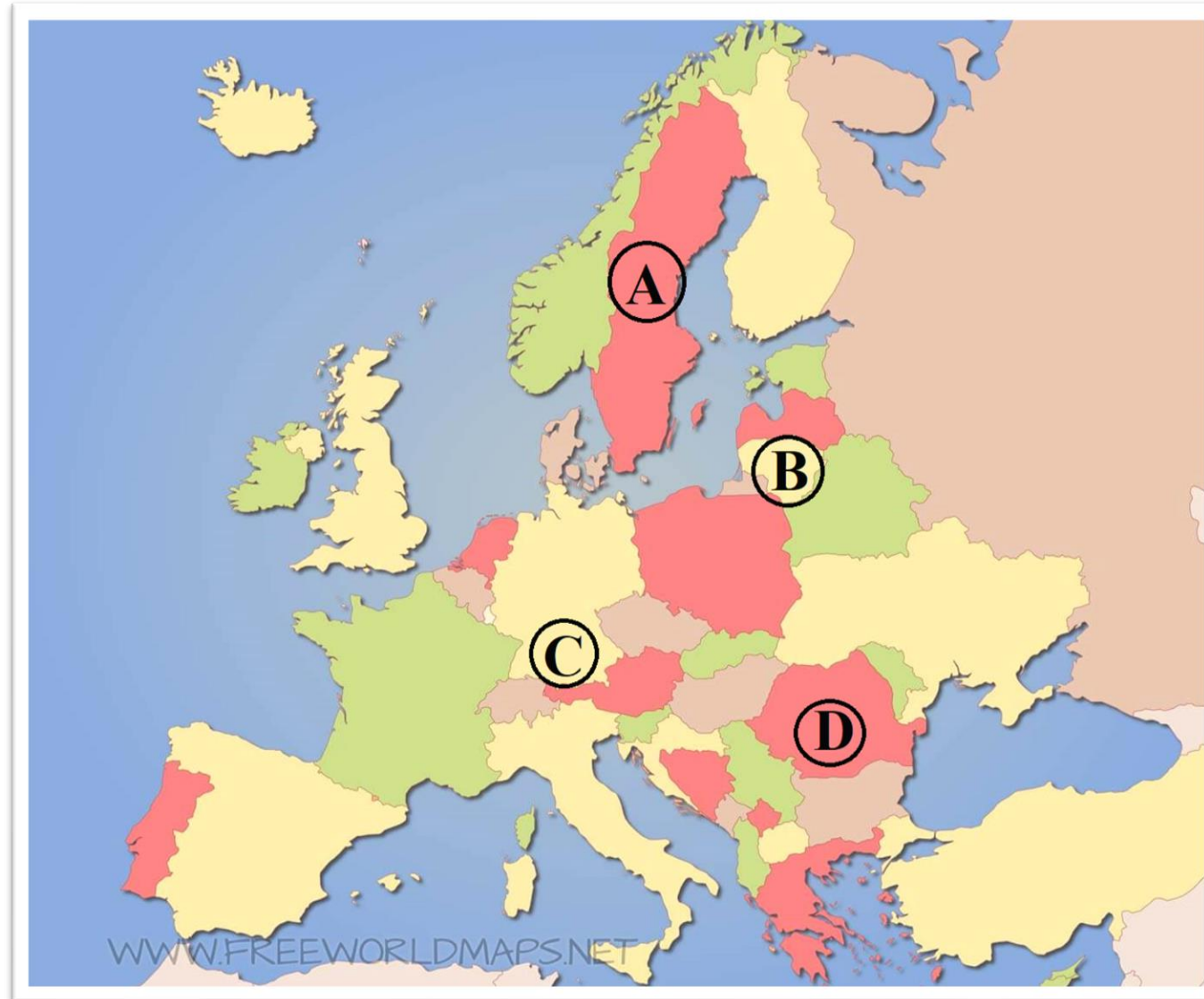
11. Malūnuose būdavo malami grūdai, karšiama vilna, pjaustomi medžių rąstai. Kieno vilną karšdavo malūnuose Lietuvoje?

- A. Alpakų
- B. Arklių
- C. Avių
- D. Kupranugarių



12. Kurioje iš raidėmis pažymėtų šalių yra Europos geografinis centras?

- A.
- B.
- C.
- D.



13. Prie kokių sąlygų yra prisitaikę dykumų augalai?

- A. Prie karščio ir didelės drėgmės
- B. Prie karščio ir drėgmės trūkumo
- C. Prie karščio ir tamsos
- D. Prie šalčio ir drėgmės trūkumo



14. Kaip vadinamas piešinyje vaizduojamas žmogaus ūkinės veiklos sukeltas reiškinys?

- A. Apsiniaukęs dangus
- B. Gaisro dūmai
- C. Karštas lietus
- D. Rūgštus lietus



15. Kuria raide pažymėta pietinė medžio pusė?

- A.
- B.
- C.
- D.



16. Kurios tarptautinės organizacijos ši vėliava?

- A. Jungtinės Taikos organizacijos
- B. Jungtinių Tautų organizacijos
- C. Tarptautinio Raudonojo Kryžiaus organizacijos
- D. Jungtinių Tautų Švietimo, mokslo ir kultūros organizacijos




17. Kada mokinio kelionė į mokyklą mažiausiai teršia aplinką?

- A. Kai važiuojama dviračiu
- B. Kai važiuojama viešuoju transportu
- C. Kai važiuojama mokykliniu autobusiuku
- D. Kai artimieji veža savo automobiliu



18. Kurios religijos maldos namai matyti nuotraukoje?

- A. Budizmo
- B. Induizmo
- C. Islamo
- D. Krikščionybės



19. Kuri žmonių veikla nėra kenksminga aplinkai?

- A. Kelių tiesimas
- B. Miškų kirtimas
- C. Užtvankų statymas
- D. Žolės pjovimas



20. Kodėl pasaulio miškai yra vadinami Žemės plaučiais?

- A. Iš miškų gaunama mediena
- B. Miškai yra gyvūnų namai
- C. Miškai išskiria deguonį
- D. Miškai sunaudoja daugiausia Žemės vandens



Užduotys 6 klasei

2020 m. geografijos olimpiada



1. Kuriame Lietuvos etnografiniame regione yra šie gamtos ir kultūros paveldo objektai?

- A. Aukštaitijos
- B. Dzūkijos
- C. Suvalkijos
- D. Žemaitijos



2. Žemėlapyje paryškintas didžiausias vandenynas. Kuris keliautojas jį pavadino Ramiuoju?

- A. Fernandas Magelanas
- B. Kristupas Kolumbas
- C. Markas Polas
- D. Vaskas da Gama



3. Geografijos mokslo pradininku laikomas Žemės spindulį apskaičiavęs senovės graikų mokslininkas.

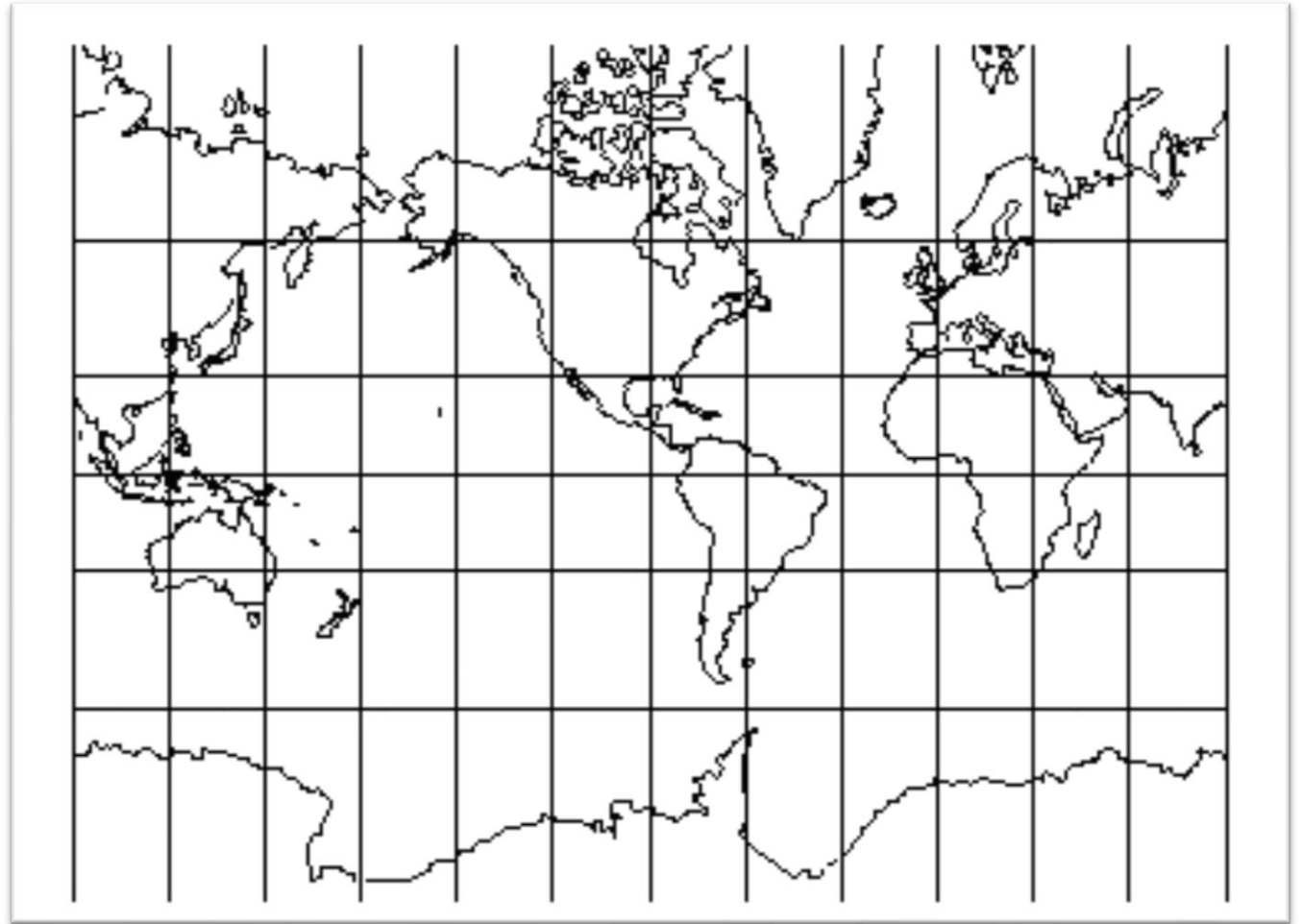
Kas jis buvo?

- A. Archimedas
- B. Eratostenas**
- C. Klaudijas Ptolemajas
- D. Pitagoras




4. Kurioje platumoje ir ilgumoje yra Islandijos sala?

- A. Pietų pl. ir rytų ilg.
- B. Pietų pl. ir vakarų ilg.
- C. Šiaurės pl. ir rytų ilg.
- D. Šiaurės pl. ir vakarų ilg.**



5. Kas registruojama šiuo prietaisu?

- A. Atmosferos slėgis
- B. Kritulių kiekis
- C. Vėjo stiprumas
- D. Žemės drebėjimo stiprumas**




6. Keli vandenynai (jų jūros) skalauja Azijos krantus?

- A. 1
- B. 2
- C. 3
- D. 4**



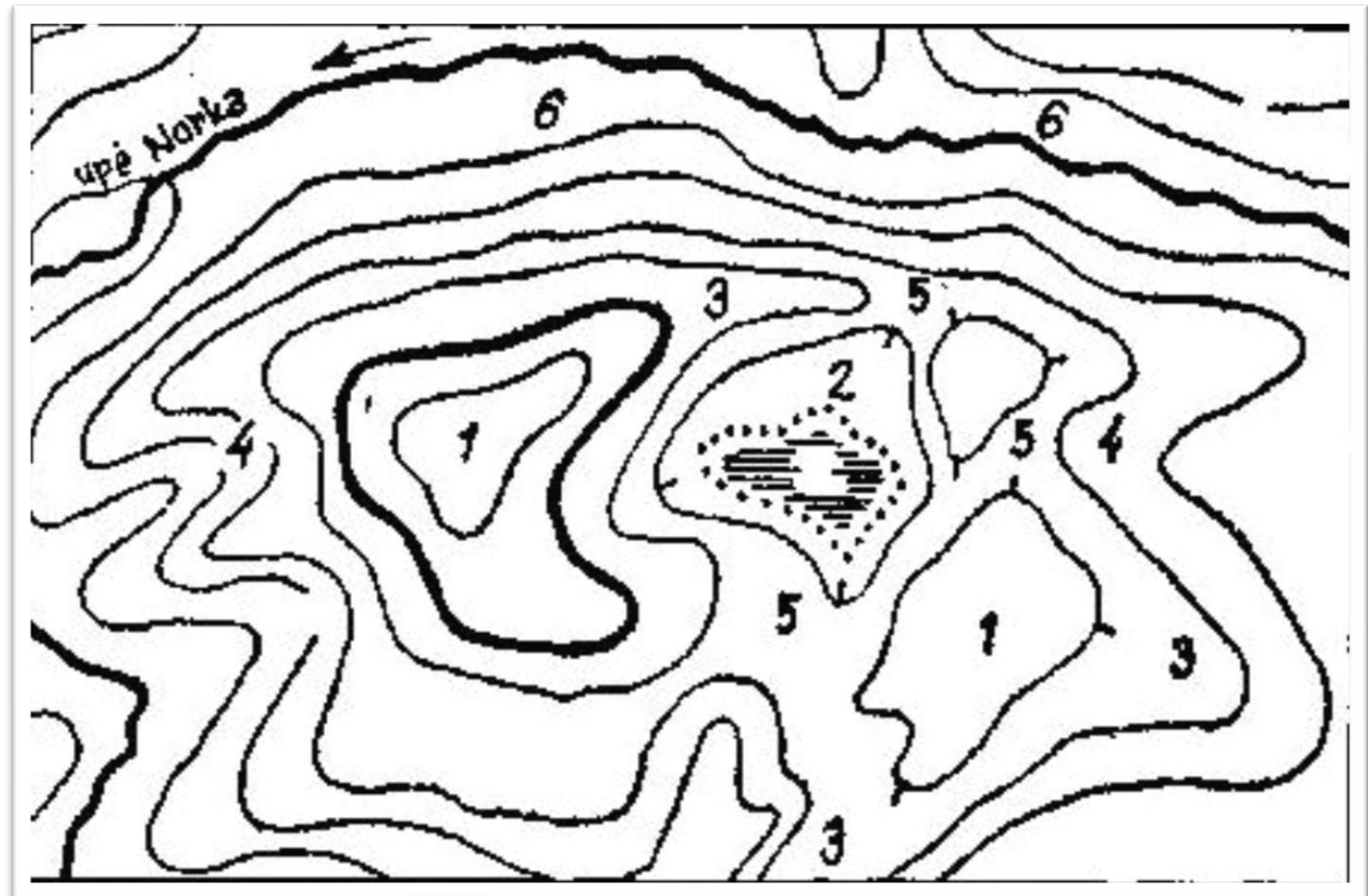
7. Giliausias gręžinys Žemėje yra Rusijoje. Koks jo gylis?

- A. 9 100 m
- B. 12 262 m**
- C. 15 000 m
- D. 25 505 m




8. Kokia paviršiaus forma topografiniame žemėlapyje pavaizduota skaičiumi 2?

- A. Dauba
- B. Balnakalnis
- C. Kalva
- D. Slėnis



9. Kurie sluoksniai sudaro vandenyninę Žemės pluta?

- A. Granitinis ir bazaltinis
- B. Nuosėdinis ir bazaltinis**
- C. Nuosėdinis ir granitinis
- D. Nuosėdinis ir vandeningasis




10. Kurių žemynų fragmentai matomi šiame žemėlapyje?

- A. Afrikos, Europos, Šiaurės Amerikos
- B. Afrikos, Azijos, Šiaurės Amerikos
- C. Antarktidos, Australijos, Azijos
- D. Afrikos, Pietų Amerikos, Šiaurės Amerikos**



11. Kuriam įvykiui paminėti išleistas šis pašto ženklas?

- A. Amerigo Vespučio kelionėms į Naująjį Pasaulį
- B. Ferdinando Magelano kelionei aplink pasaulį
- C. Kristupo Kolumbo kelionei**
- D. Vasko da Gamos kelionei į Indiją




12. Kuriame atsakyme teisingai pateiktas lygiagrečių apibūdinimas?

- A. Skirtingo ilgio, atstumas tarp linijų mažėja artėjant prie ašigalių
- B. Skirtingo ilgio, eina per Šiaurės ir Pietų ašigalius, vienodai nutolę viena nuo kitos
- C. Skirtingo ilgio, lygiagretūs su pusiauju apskritimai, vienodai nutolę vienas nuo kito**
- D. Vienodai nutolę vienas nuo kito, lygiagretūs su pradiniu dienovidiniu apskritimai



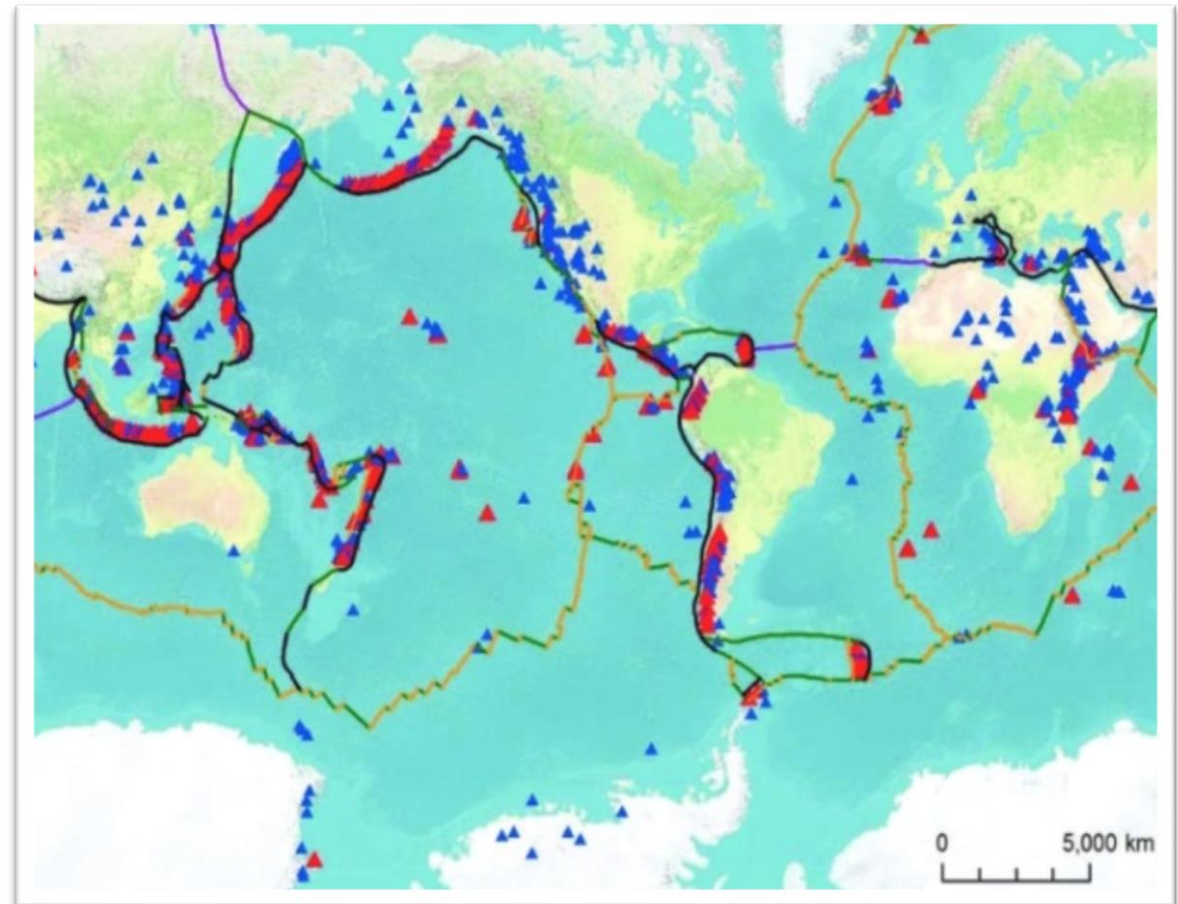
13. Kuri Žemės sfera patenka į apskritimo centrą?

- A. Atmosfera
- B. Biosfera**
- C. Hidrosfera
- D. Litosfera



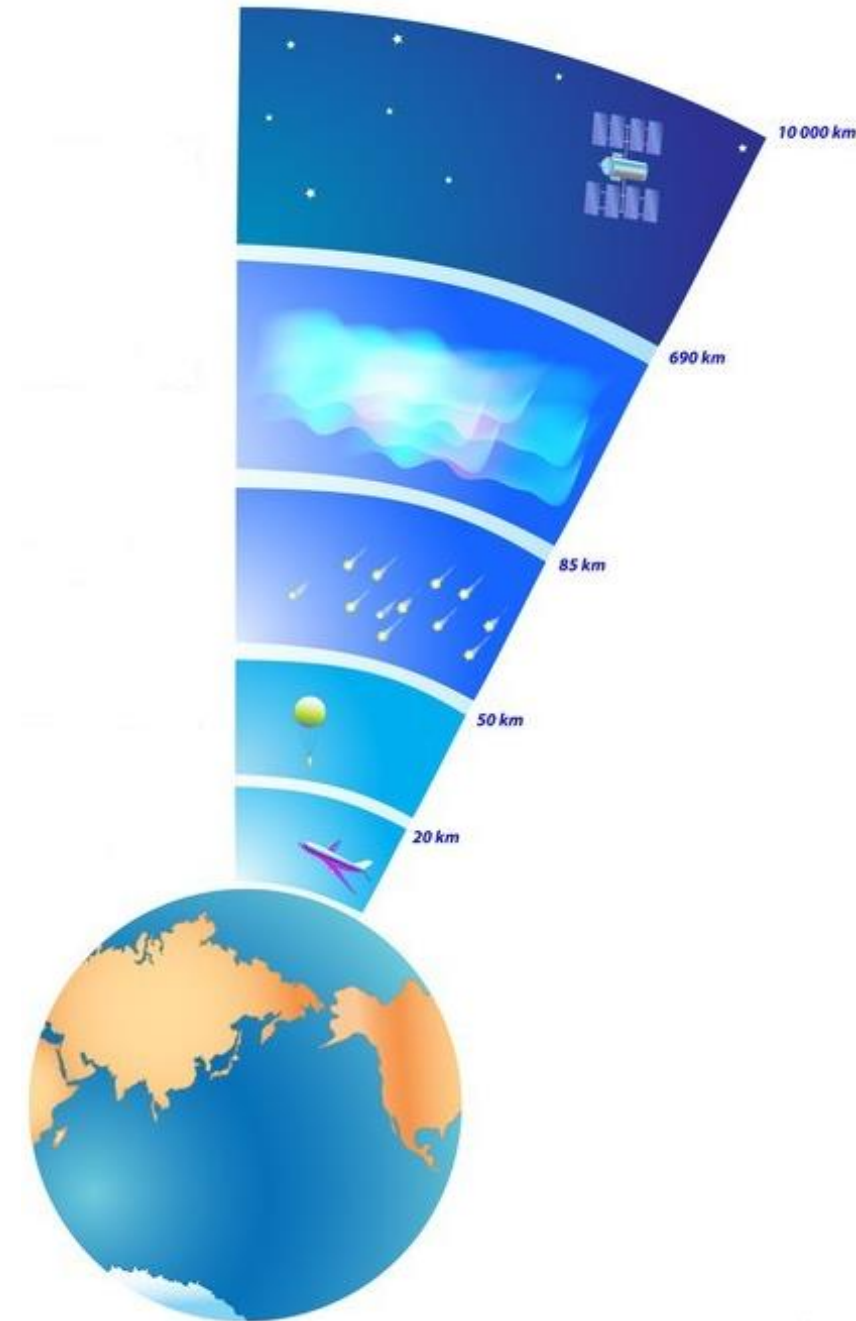
**14. Šiame regione įvyksta 90 % visų pasaulio žemės drebėjimų ir 81% pasaulio ugnikalnių išsiveržimų.
Koks šio regiono pavadinimas?**

- A. Ramiojo vandenyno Deganti sritis
- B. Ramiojo vandenyno Gaisrų žiedas
- C. Ramiojo vandenyno Ugnies juosta
- D. Ramiojo vandenyno Ugnies žiedas**



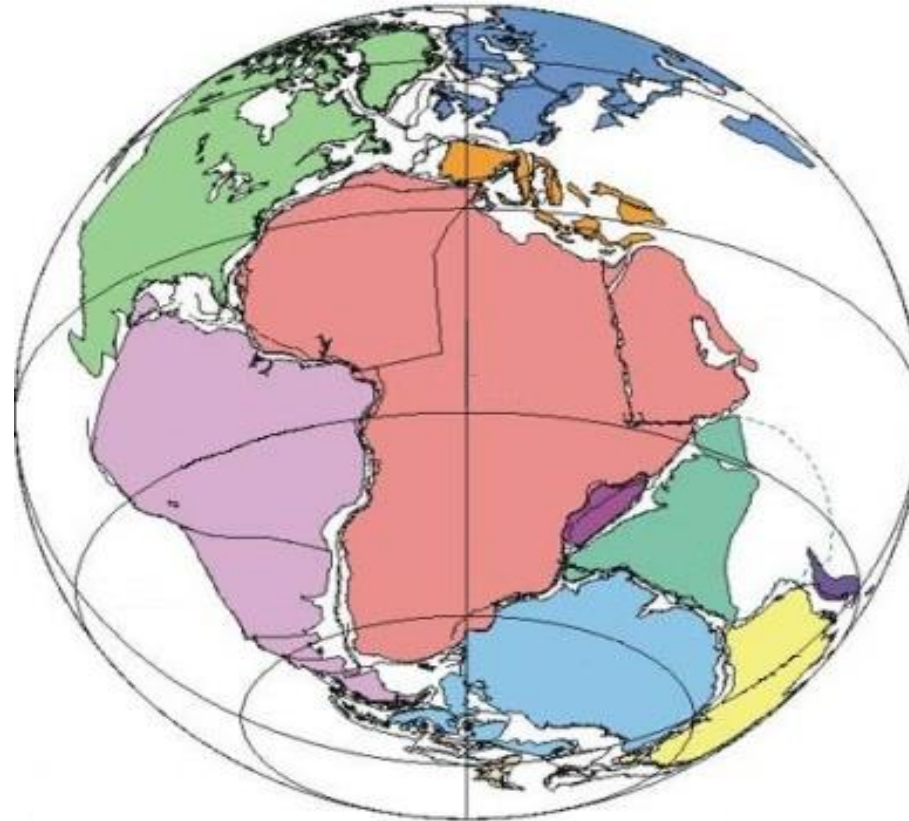
15. Kuriame atmosferos sluoksnyje susidaro Šiaurės pašvaistės?

- A. Egzosferoje
- B. Mezosferoje
- C. Stratosferoje
- D. Termosferoje**



17. Prieš 200 mln. metų Žemėje buvo vienas milžiniškas žemynas. Kaip jis vadinosi?

- A. Gondvana
- B. Laurazija
- C. Laurentija
- D. Pangėja**



18. Kas yra pagrindinis kosminės stoties energijos šaltinis?

- A. Anglis
- B. Dujos
- C. Nafta
- D. Saulės energija**



19. Kuris tai miestas, kurio simboliai pavaizduoti paveiksle?

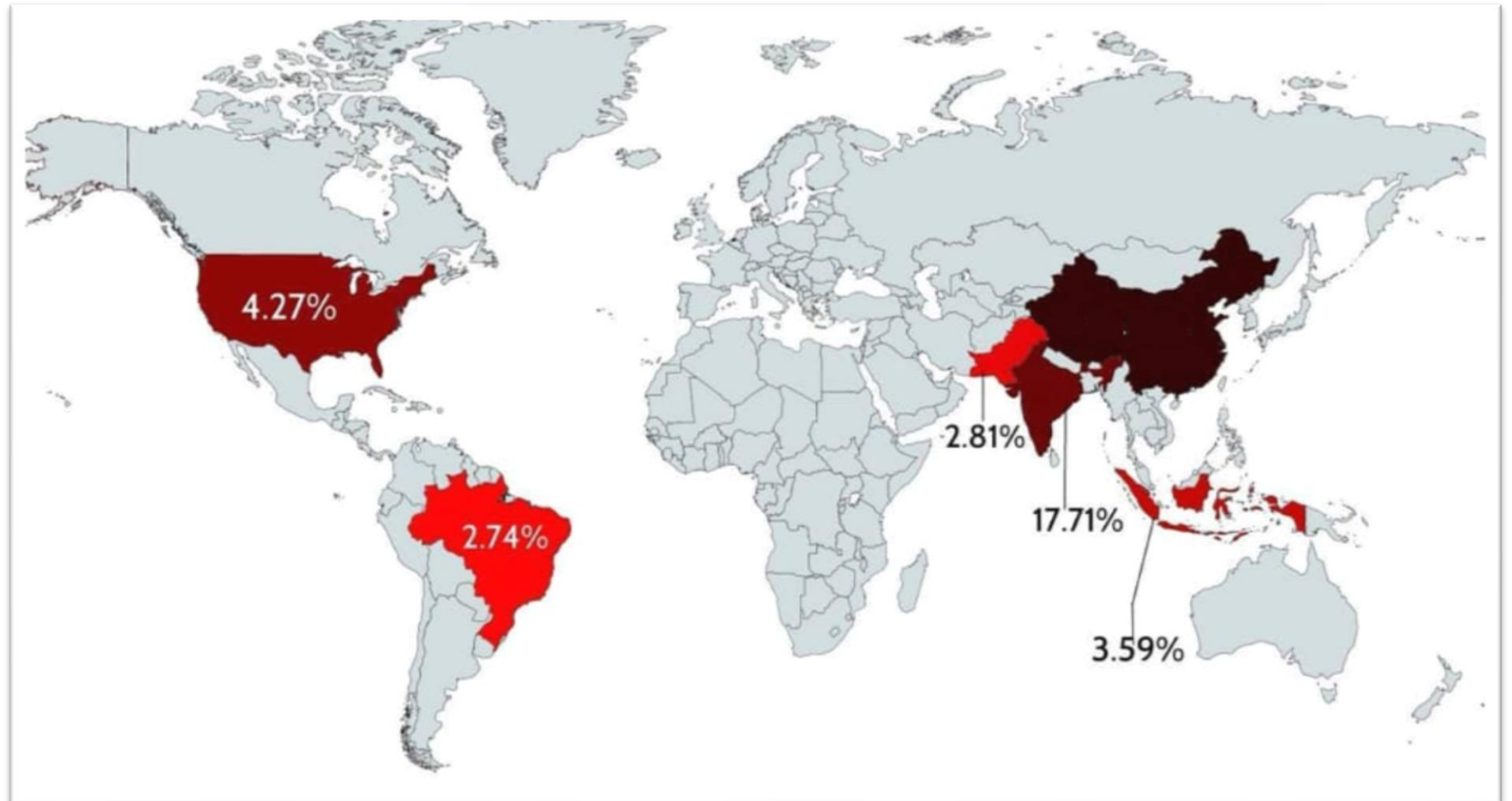
- A. Londonas
- B. Niujorkas**
- C. San Paulas
- D. Sidnėjus



20. Žemėlapyje išskirtose šalyse gyvena apie 50 % pasaulio gyventojų.

Kiek procentų pasaulio gyventojų gyvena Kinijoje?

- A. 10,7 %
- B. 15,2 %
- C. **18,6 %**
- D. 25,9 %



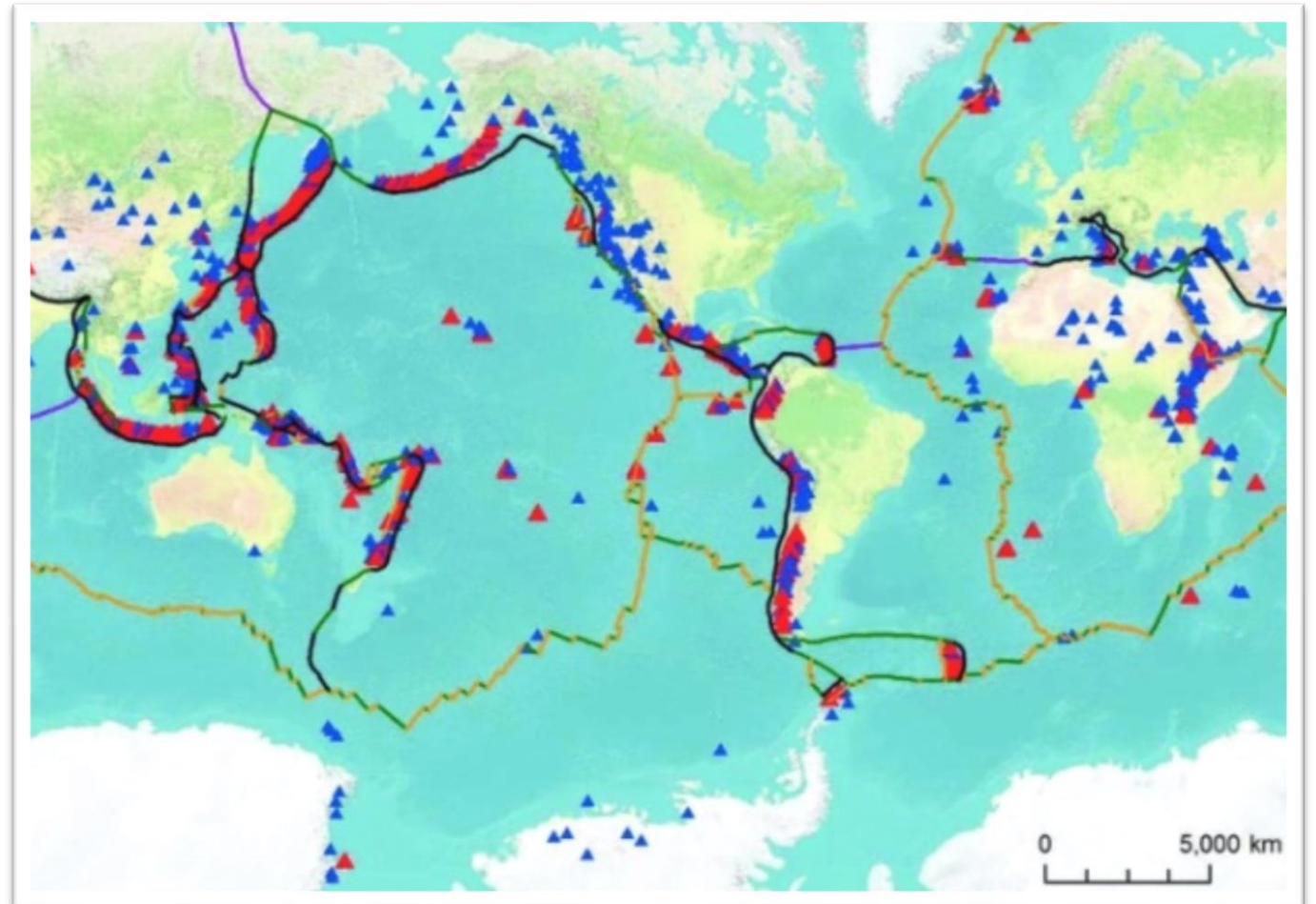
21. Kurio pusrutulio nevaizduoja šis žemėlapis?

- A. Rytų pusrutulio
- B. Pietų pusrutulio
- C. Šiaurės pusrutulio
- D. Vakarų pusrutulio



22. Kuriame žemyne ugnikalnių išsiveržimai ir žemės drebėjimai žmonėms nekelia problemų?

- A. Afrikoje
- B. Australijoje**
- C. Azijoje
- D. Pietų Amerikoje



**23. Geografiniu požiūriu ji priklauso Šiaurės Amerikai.
Vietiniai gyventojai šalį vadina „Kalaallit Nunaat“ (žmonių
šalis).**

Kuri tai sala?

A. Bafino

B. Grenlandija

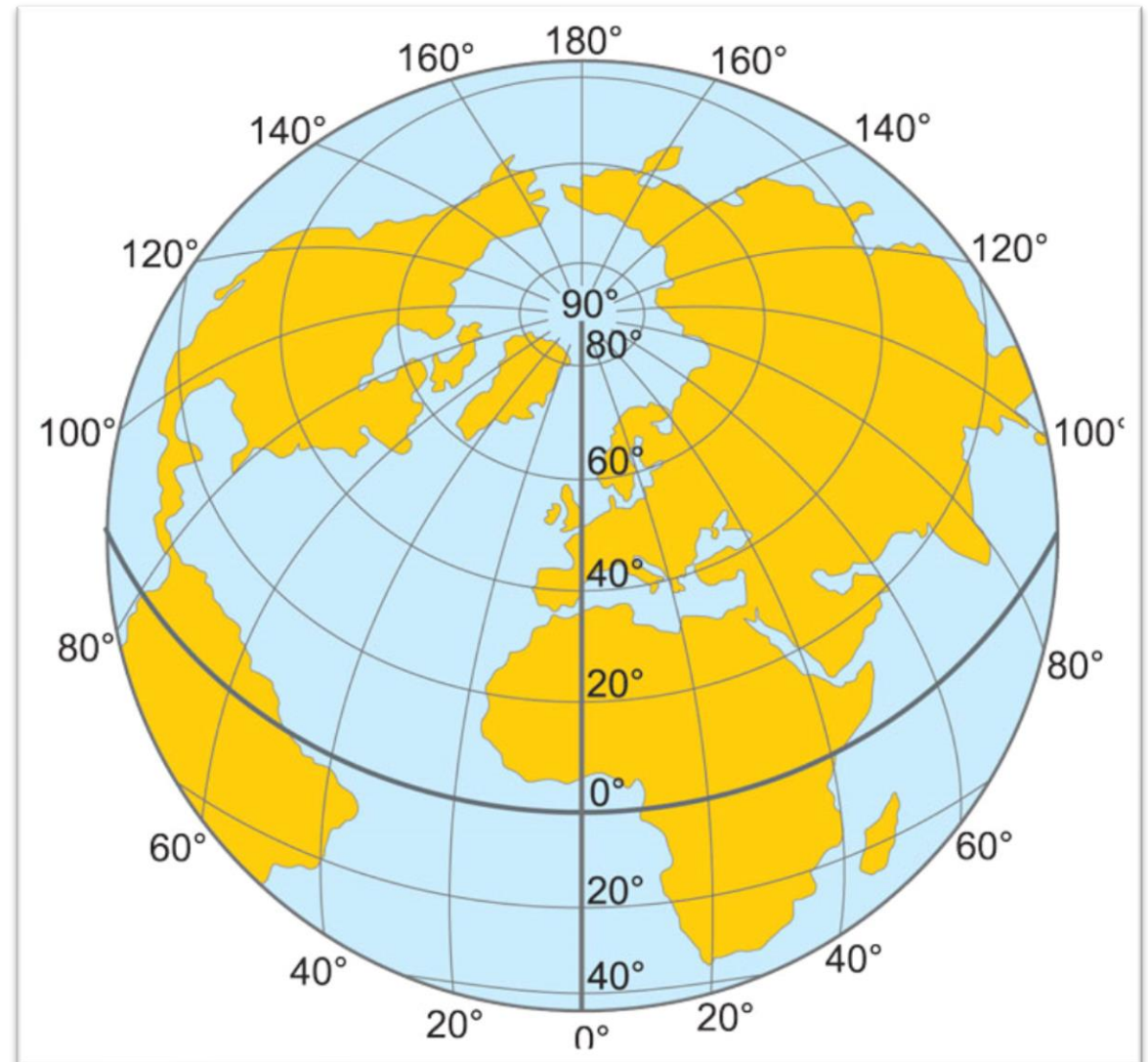
C. Islandija

D. Niufaundlandas



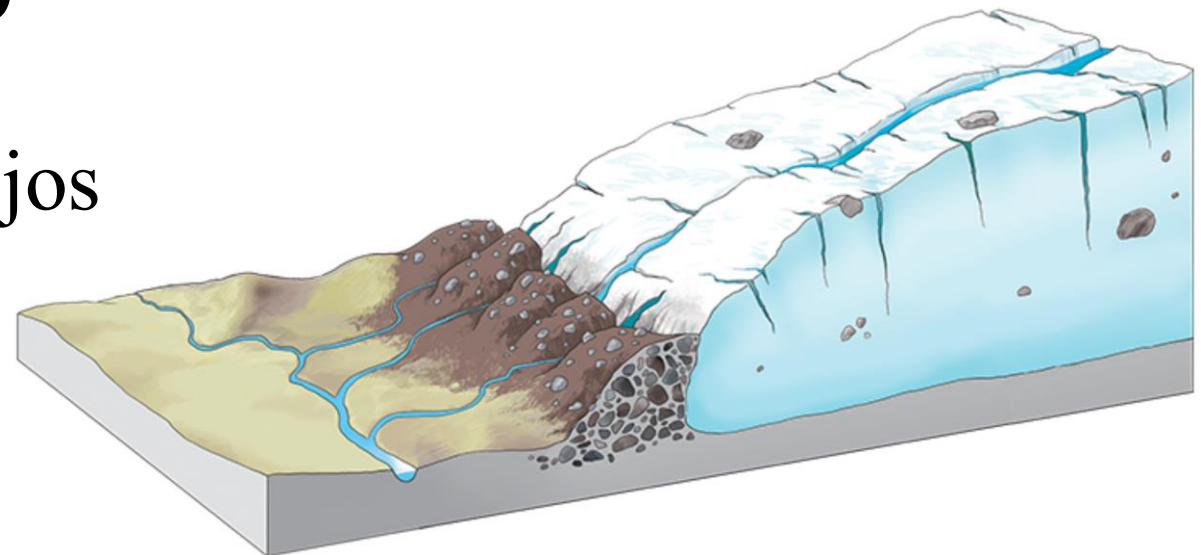
24. Kuris atsakymas teisingai apibūdina Lietuvos geografinę platumą ir ilgumą?

- A. Pietų platuma, rytų ilguma
- B. Pietų platuma, vakarų ilguma
- C. Šiaurės platuma, rytų ilguma**
- D. Šiaurės platuma, vakarų ilguma



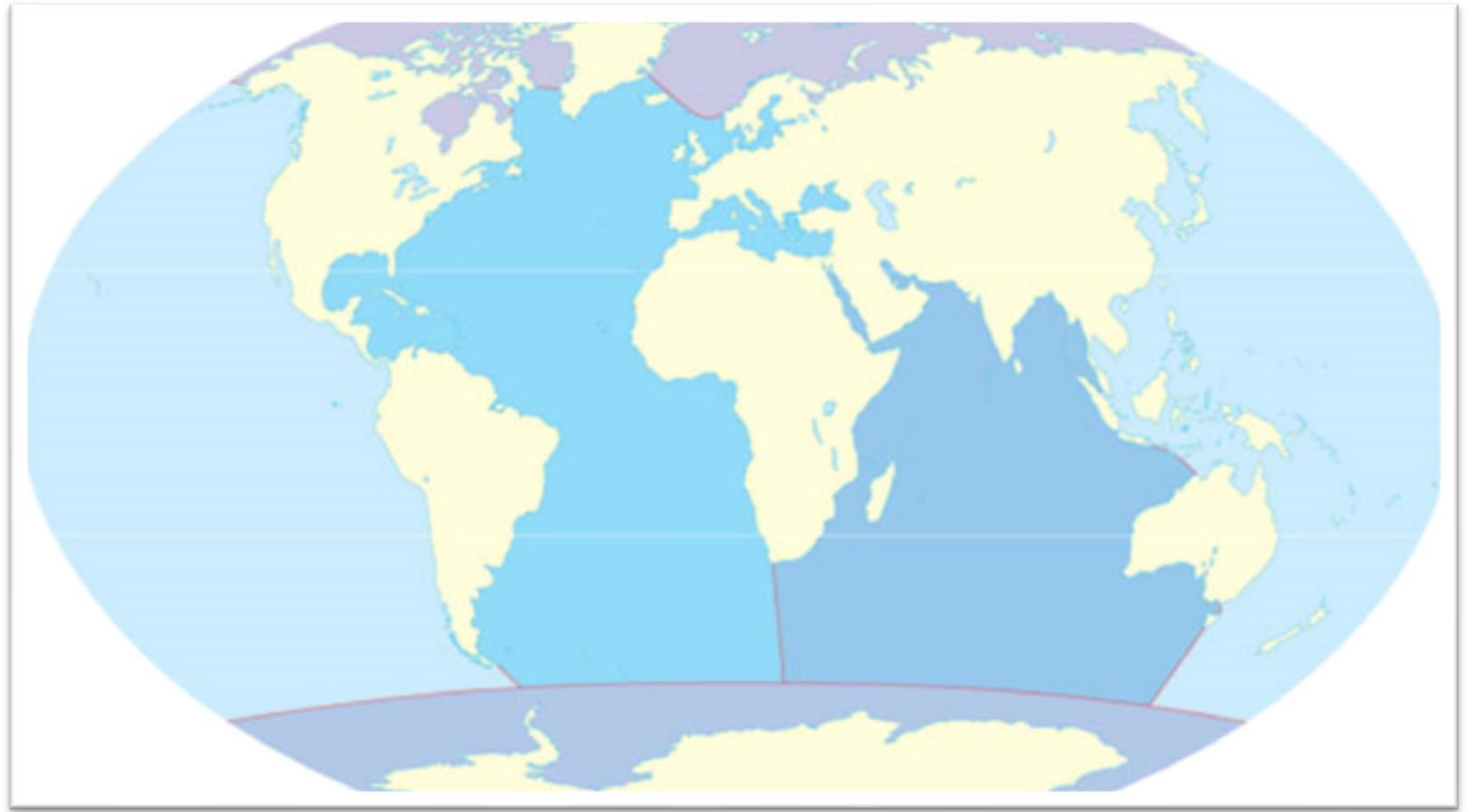
25. Mokinys pasakojo, kad dabartinį Lietuvos paviršių suformavo ledynai, atslinkę prieš 50 000 metų iš Skandinavijos pusiasalio. Tirpdamas ledynas suformavo gūbrius, kurie dabar sudaro Lietuvos aukštumas. Kokią klaidą pasakojime padarė mokinys?

- A. Lietuvos paviršių suformavo ledynas
- B. Ledynas atslinko prieš 50 000 m.**
- C. Ledynas atslinko iš Skandinavijos pusiasalio
- D. Ledynas suformavo aukštumas



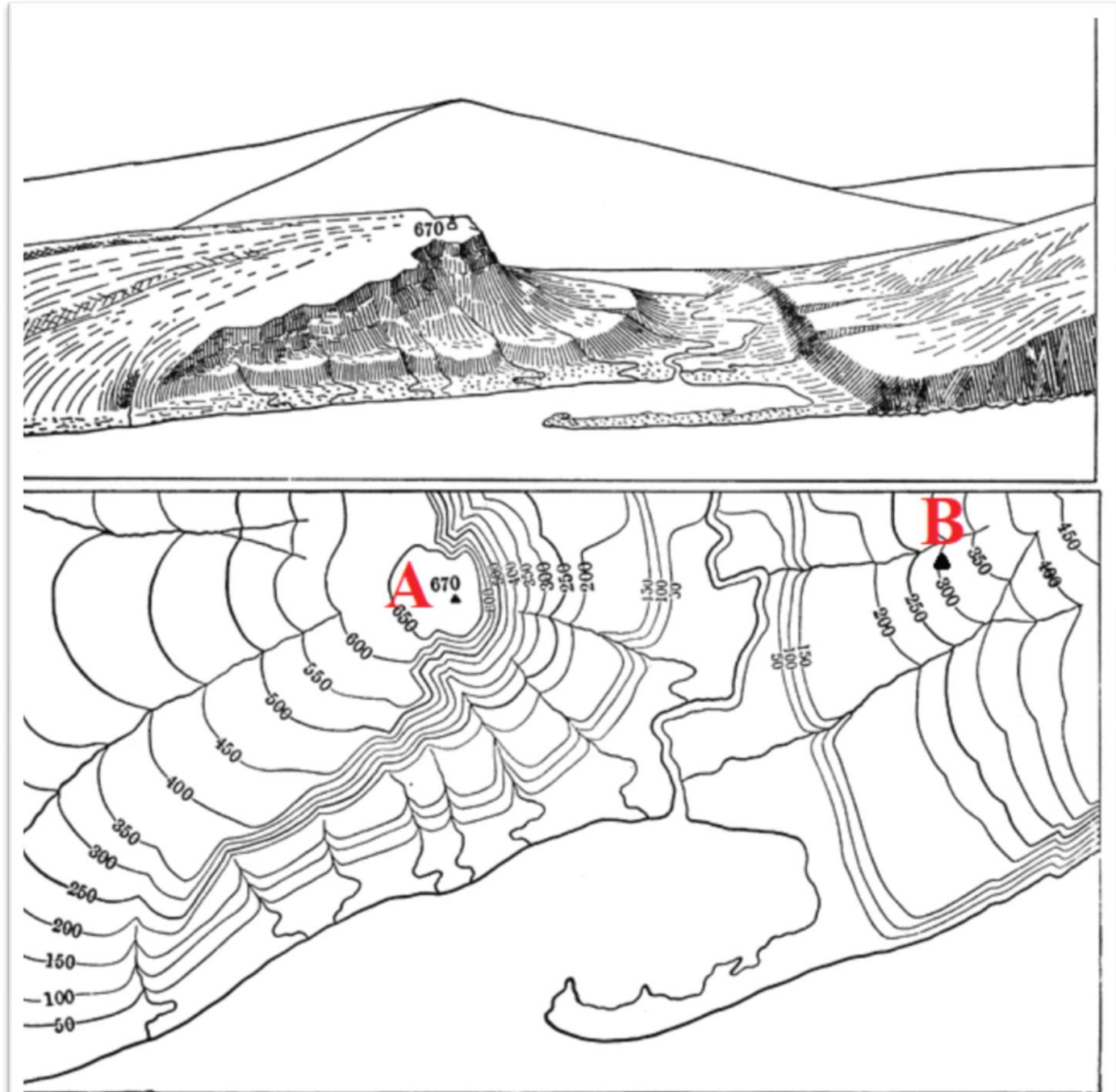
26. Kuris vandenynas skalauja Afriką iš rytų, o Australiją iš vakarų?

- A. Atlanto
- B. Indijos**
- C. Pietų
- D. Ramusis



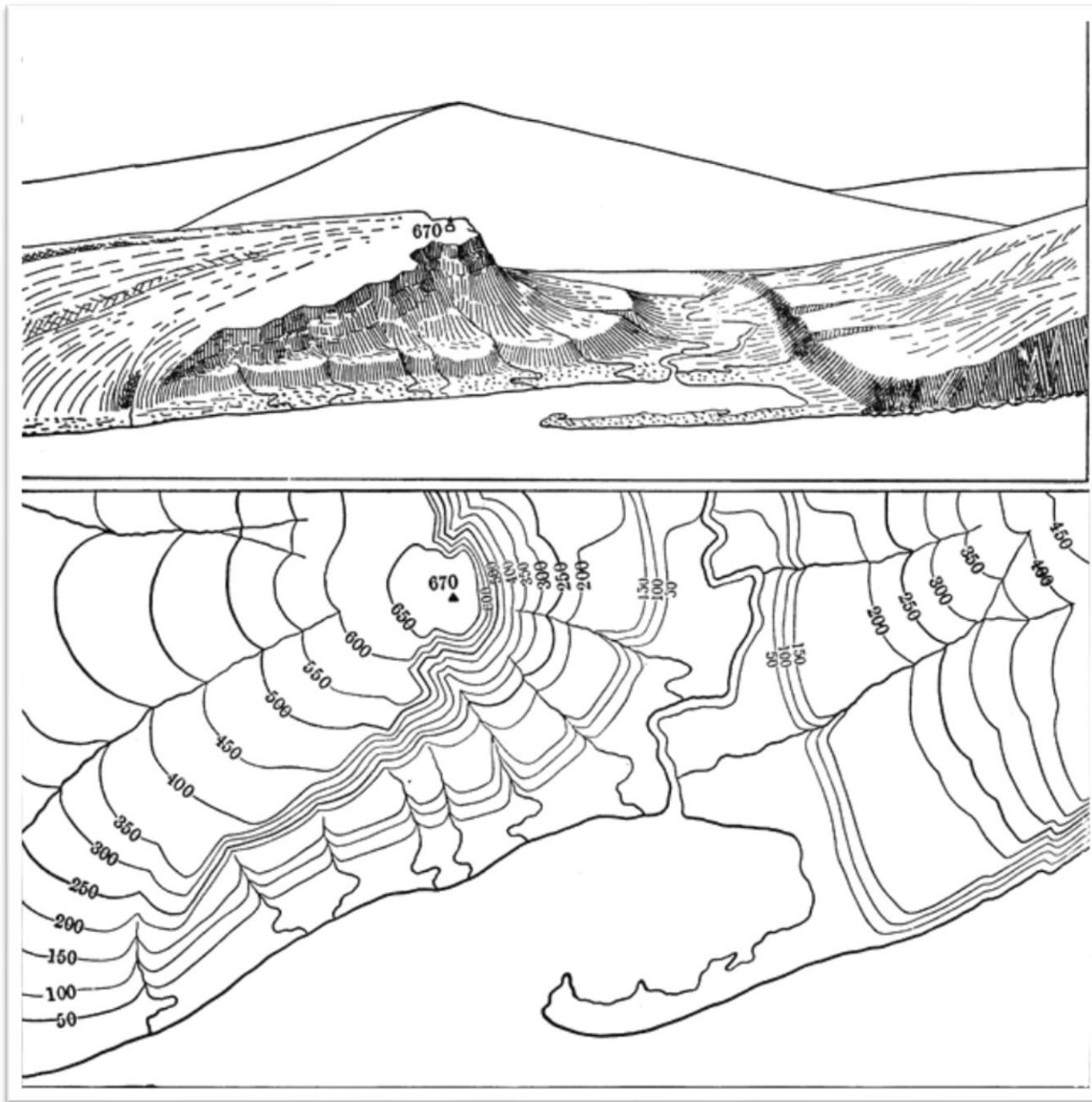
27. Apskaičiuokite A ir B taškų santykinį aukštį?

- A. 300 m
- B. 370 m
- C. 550 m
- D. 650 m



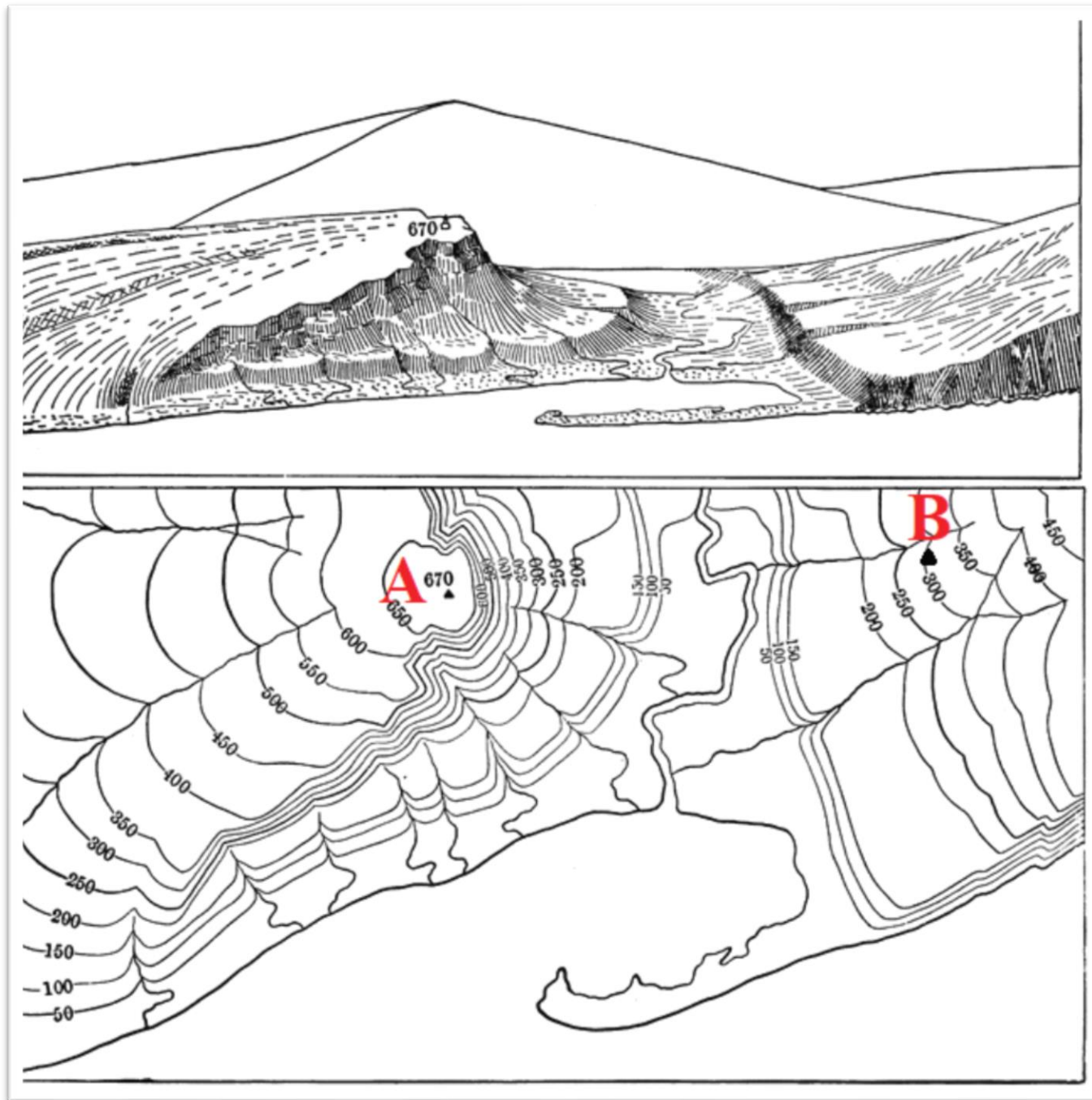
28. Nustatykite, iš kurios pusės lengviausia kopti į aukščiausią kalvą?

- A. Iš pietryčių
- B. Iš pietų
- C. Iš pietvakarių
- D. Iš rytų



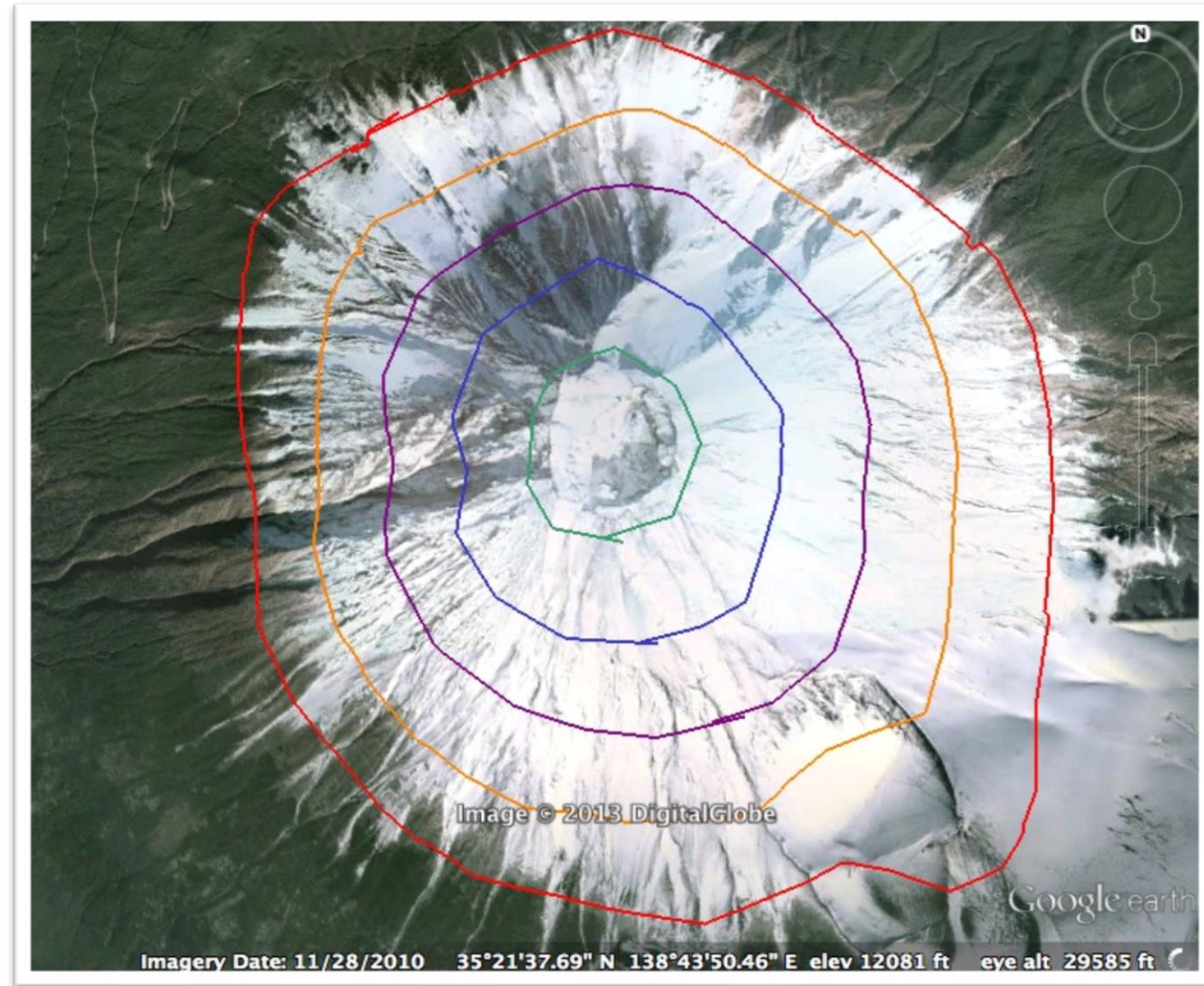
**29. Kopiant į B kalvą,
kuris aukščio ruožas
bus stačiausias?**

- A. 50 – 150**
- B. 150 – 200**
- C. 200 – 300**
- D. 300 – 450**



30. Ką vaizduoja linijos šioje palydovinėje nuotraukoje?

- A. Linijas, kuriomis šis kalnas būtų pavaizduotas žemėlapyje
- B. Mokslinių tyrimų ugnikalnio šlaituose kryptis
- C. Pėsčiųjų žygių maršrutus
- D. Ugnikalnio seisminio aktyvumo juostas



Užduotys 7 klasei

2020 m. geografijos olimpiada



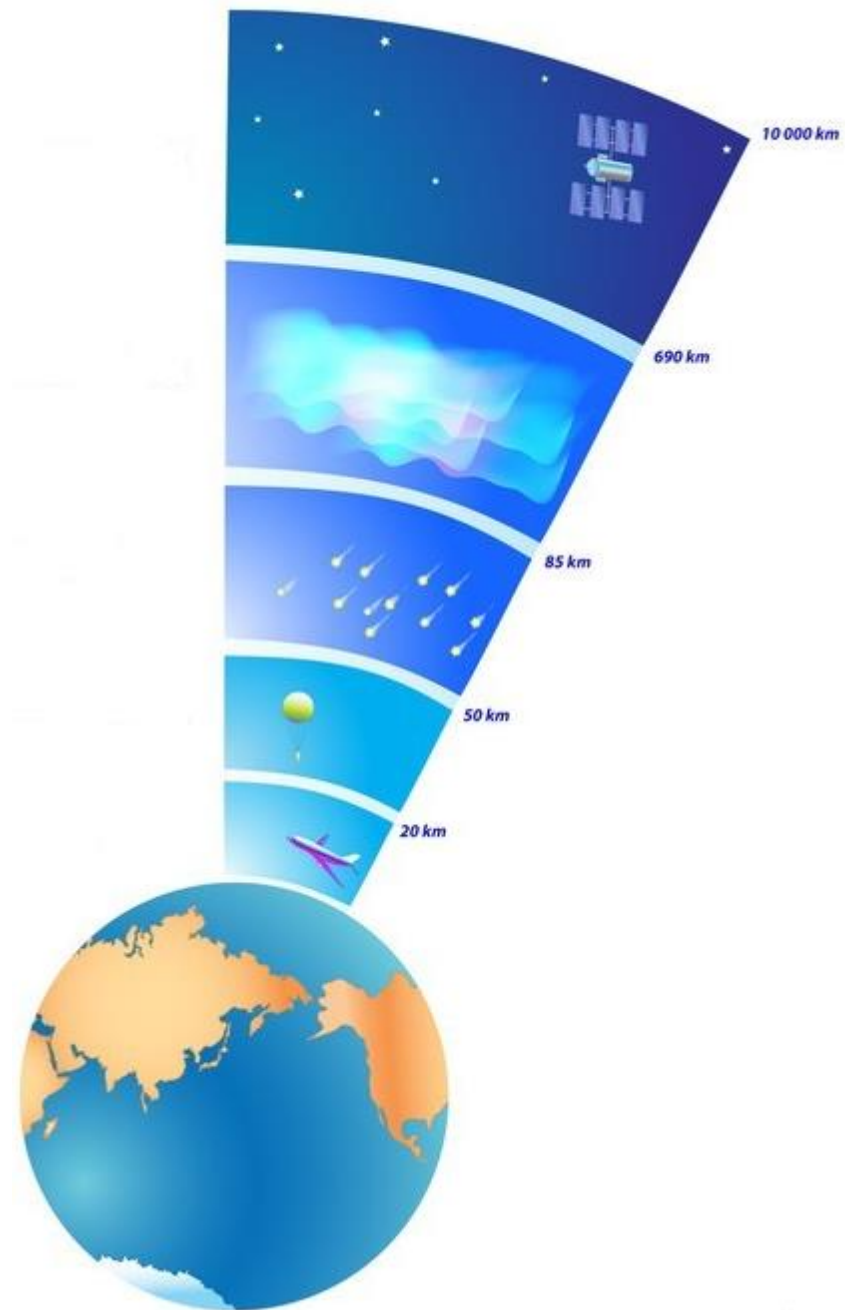
1. Kurios klajoklių tautos atstovas yra šioje nuotraukoje?

- A. Afarų
- B. Arabų
- C. Masajų
- D. Tuaregų**



2. Kuriame atmosferos sluoksnyje susidaro Šiaurės pašvaistės?

- A. Egzosferoje
- B. Mezosferoje
- C. Stratosferoje
- D. Termosferoje**



3. Vienas iš šių žinduolių deda kiaušinius. Kuris tai gyvūnas?

A. Ančiasnapis

B. Kengūra

C. Koala

D. Vombatas



4. Nuotraukoje Fulani genties moterys, turinčios Nigerijos pilietybę. Kurioje Afrikos dalyje jos gyvena?

- A. Centrinėje Afrikoje
- B. Pietų Afrikoje
- C. Rytų Afrikoje
- D. Šiaurės Afrikoje



**5. Šios upės išskirtinumas – daugybė jos vandenyse
tam tikrus ritualus atliekančių žmonių.
Kuri tai upė?**

- A. Amazonė
- B. Ganges**
- C. Jangdzė
- D. Nilas




**6. Ši daugiau nei 13 000 salų valstybė yra antroje vietoje po Brazilijos pagal drėgnųjų pusiaujo miškų plotą.
Kuri tai šalis?**

- A. Brunėjus
- B. Indonezija**
- C. Filipinai
- D. Malaizija



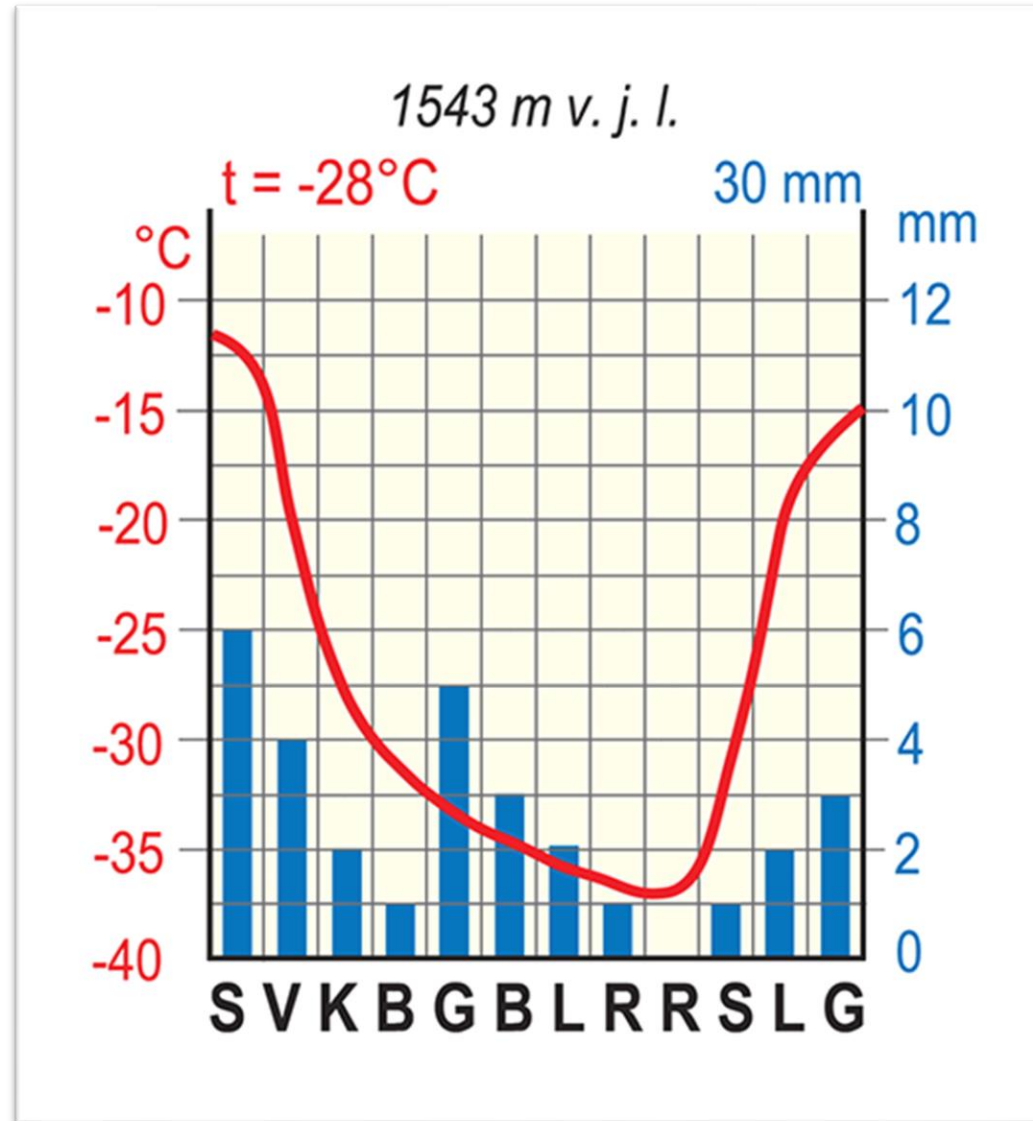
7. Kuriam įvykiui paminėti išleistas šis pašto ženklas?

- A. Amerigo Vespučio kelionėms į Naująjį Pasaulį
- B. Ferdinando Magelano kelionei aplink pasaulį
- C. Kristupo Kolumbo kelionei**
- D. Vasko da Gamos kelionei į Indiją



8. Kokia šios vietovės metų oro temperatūros amplitudė?

- A. 12 °C
- B. 25 °C**
- C. 37 °C
- D. 49 °C



9. Lesotas, Vatikanas ir San Marinas yra valstybės, kurias iš visų pusių supa tik viena šalis. Vatikaną ir San Mariną supa Italija. O kas supa Lesotą?

- A. Angola
- B. Botsvana
- C. Pietų Afrikos Respublika**
- D. Zimbabvė



10. Kurioje šalyje yra žemiausiai pasaulyje (393 m žemiau jūros lygio) besidriekiantis greitkelis?

- A. Egipte
- B. Izraelyje**
- C. JAV
- D. Jordanijoje



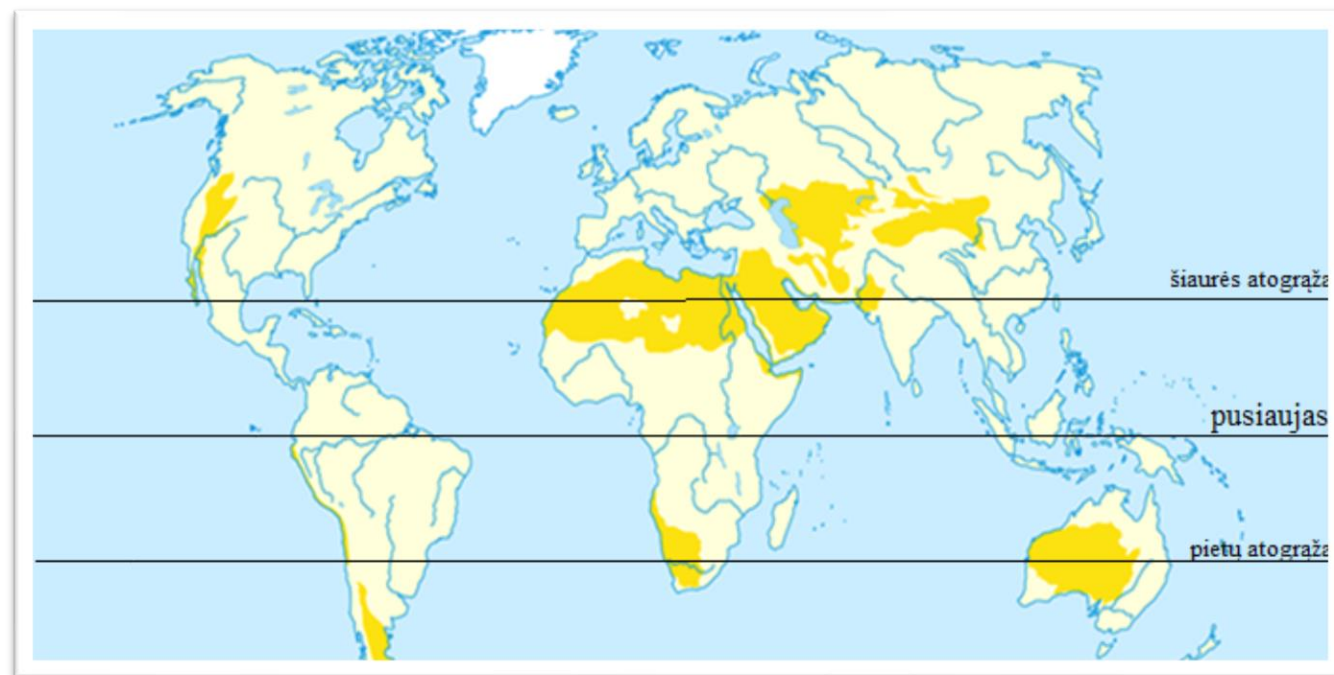
11. Iš kurio dykumos augalo pinami šie padėkliukai?

- A. Akacijų šakelių
- B. Datulių palmių lapų**
- C. Kokoso palmių riešutų plaušo
- D. Žilvitinio karklo vytelių



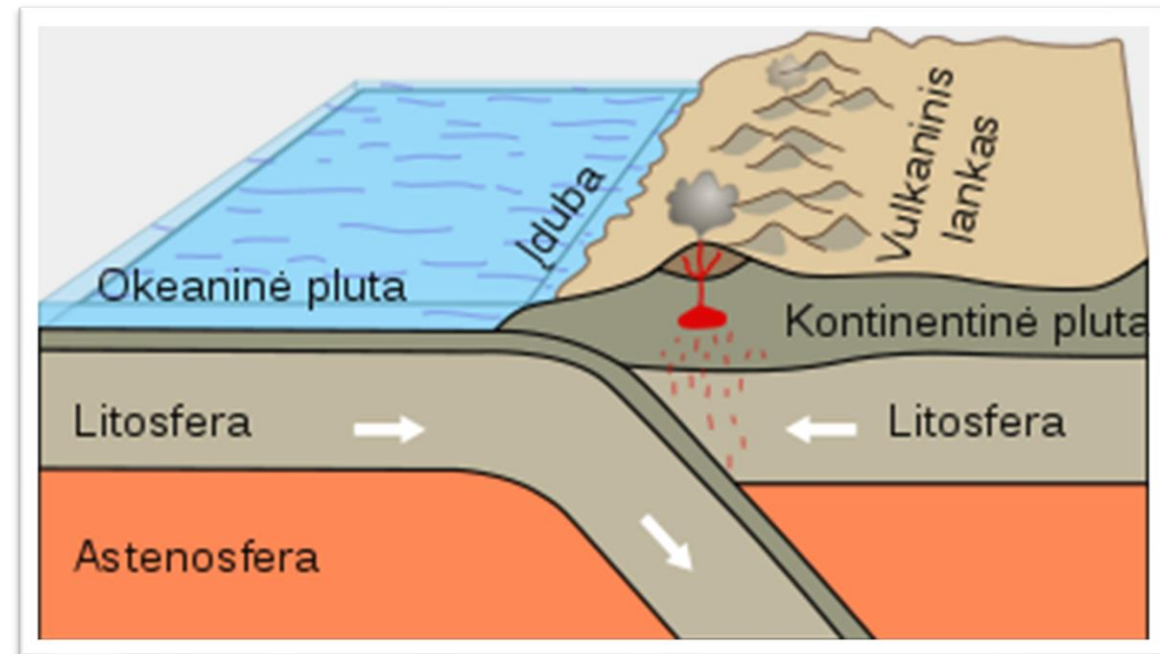
12. Kodėl karščiausios ir sausiausios pasaulio dykumos yra ties atogražomis?

- A. Atslenka karštos oro masės nuo pusiaujo
- B. Vyrauja aukštas slėgis, iškrinta labai mažai kritulių**
- C. Vyrauja aukštas slėgis, pučia vakarų vėjai
- D. Vyrauja žemas slėgis, pučia pasatai



13. Kuriame iš atsakymų išvardyti visi reiškiniai, vykstantys įsiremiančių litosferos plokščių pakraščiuose?

- A. Kyla kalnai, vyksta žemės drebėjimai
- B. Kyla kalnai, veržiasi ugnikalniai, formuojasi lygumos
- C. Kyla kalnai, veržiasi ugnikalniai, vyksta žemės drebėjimai**
- D. Vyksta žemės drebėjimai, veržiasi ugnikalniai



14. Kuriai geografini zoni būdingi šie gyvūnai?

- A. Atogrąžų miškams
- B. Kietalapių retmiškams
bei krūmynams
- C. Musoniniams miškams
- D. Savanoms ir
retmiškams



15. Kurioje Žemės vietoje šiuo laikotarpiu diena yra ilgiausia?

- A. Šiaurės ašigalyje**
- B. Ties pietų atogrąža**
- C. Ties pusiauju**
- D. Ties šiaurės atogrąža**



16. Palydovinėje nuotraukoje Nilo upės slėnis iš kosmoso. Nuo ko priklauso žaliuojančio upės slėnio plotis?


- A. Gyventojų skaičiaus
- B. Nilo potvynių masto
- C. Slėnio šlaitų aukščio**
- D. Upės meandrų dydžio



17. Šioje retai gyvenamoje šalyje pamokos nutolusiose vietovėse gyvenantiems vaikams vyksta internetu iš nuotraukoje matomos mokyklos.

Kurioje šalyje veikia tokia mokykla?

- A. Afganistane
- B. Alžyre
- C. Argentinoje
- D. Australijoje**



18. Kas yra pagrindinis kosminės stoties energijos šaltinis?

- A. Anglis
- B. Dujos
- C. Nafta
- D. Saulės energija**



19. Kurios šalies vizitine kortele yra tapęs Stalo kalnas?

A. Brazilijos

B. Saudo Arabijos

C. Meksikos










D. Pietų Afrikos



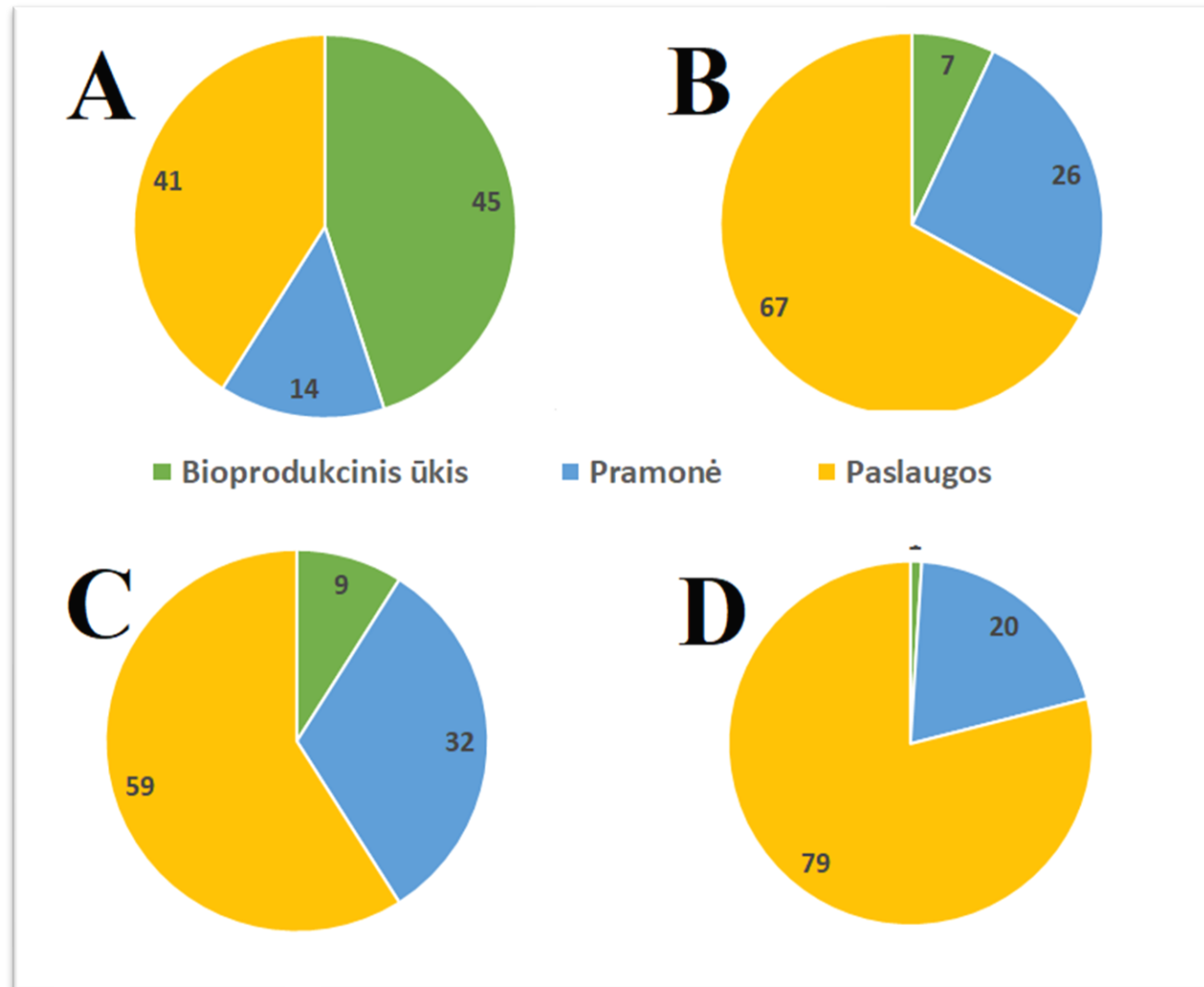
20. Sąrašė pateiktos šalys pagal salų skaičių.

Kuri šalis turėtų būti 4 vietoje?

- A. Danija
- B. Estija
- C. Kanada**
- D. Malaizija

1		Švedija	221,800
2		Suomija	188,000
3		Norvegija	55,000
4	?		52,455
5		Indonezija	17,508
6		Australija	8,222
7		Filipinai	7,107
8		Japonija	6,853
9		Jungtinė Karalystė	6,289
10		Graikija	6,000

21. Diagramos vaizduoja dirbančiųjų dalį ūkio sektoriuose. Kuri šalis ekonomiškai stipriausia?



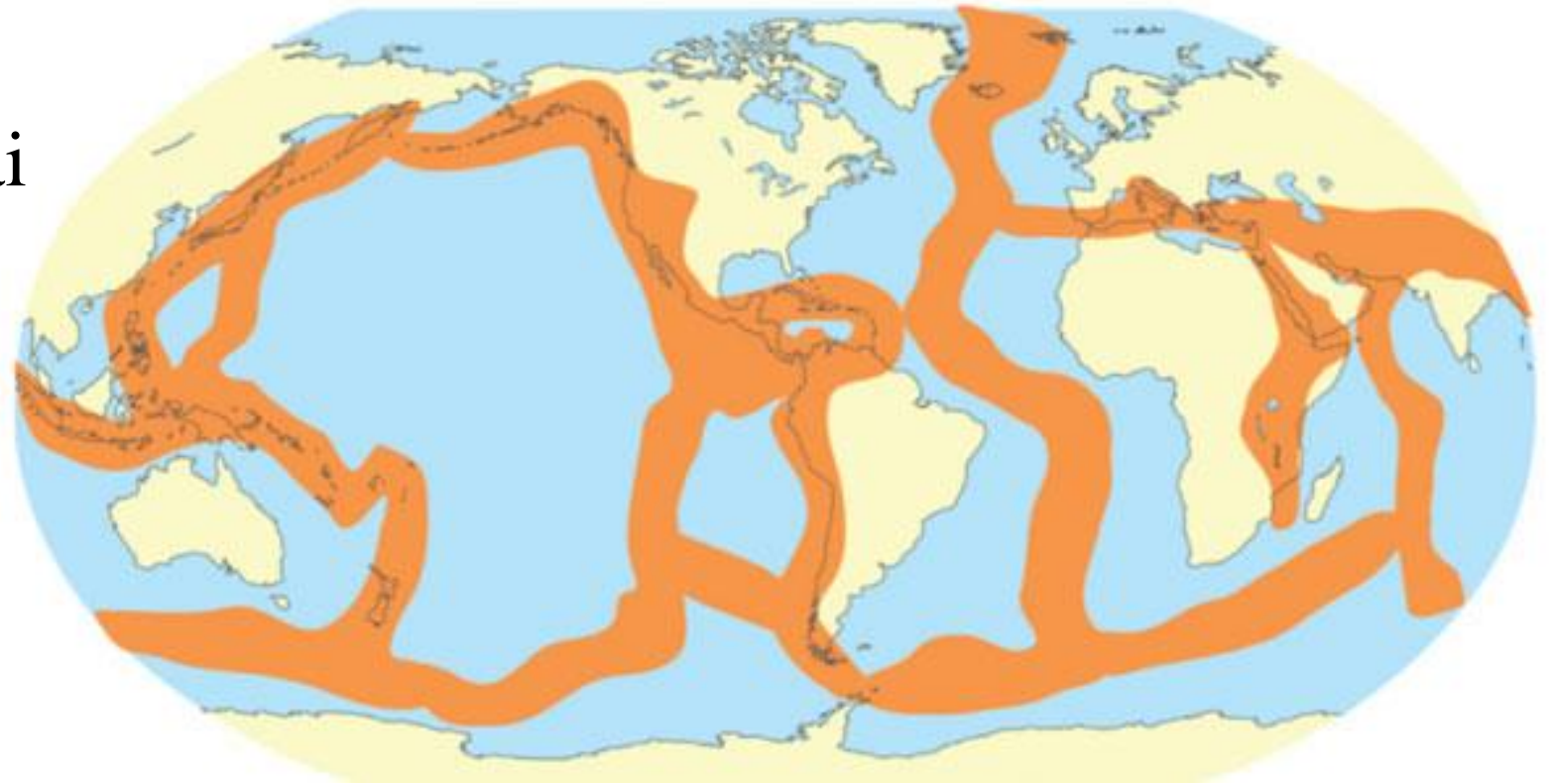
22. Kuriai genčiai/genčių grupei priklauso nuotraukoje užfiksuoti žmonės?

- A. Bantai
- B. Bušmėnai
- C. Pigmėjai
- D. Tuaregai



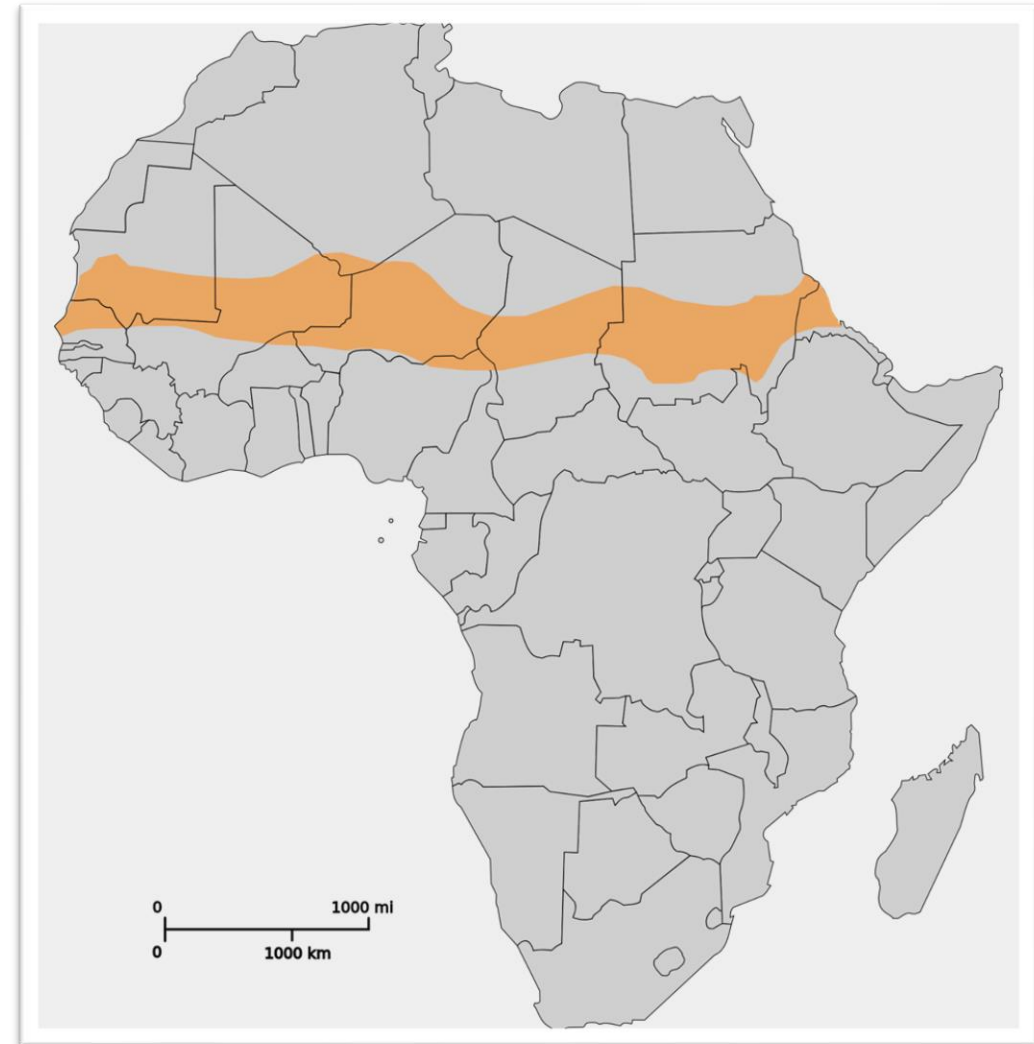
23. Kas pažymėta storomis oranžinėmis linijomis žemėlapyje?

- A. Geografinės kelionės
- B. Litosferos plokščių pakraščiai**
- C. Vandenynų srovės
- D. Žuvų migracijos keliai



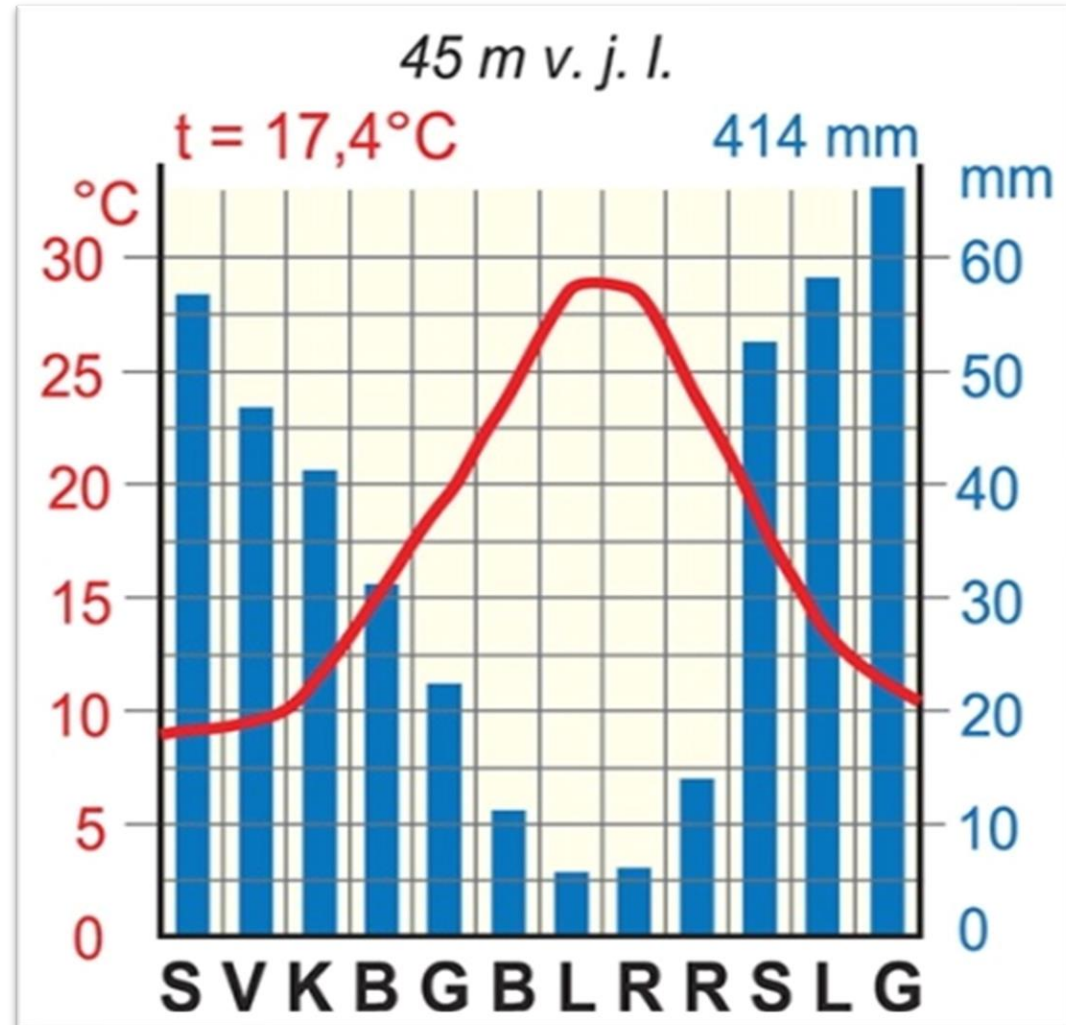
24. Kuriame atsakyme teisingai išvardytos į Sahelio juostą patenkančios valstybės?

- A. Alžyras, Nigerija, Zambija
- B. Čadas, Kongas, Mauritanija
- C. Etiopija, Egiptas, Nigeris
- D. Malis, Sudanas, Čadas**



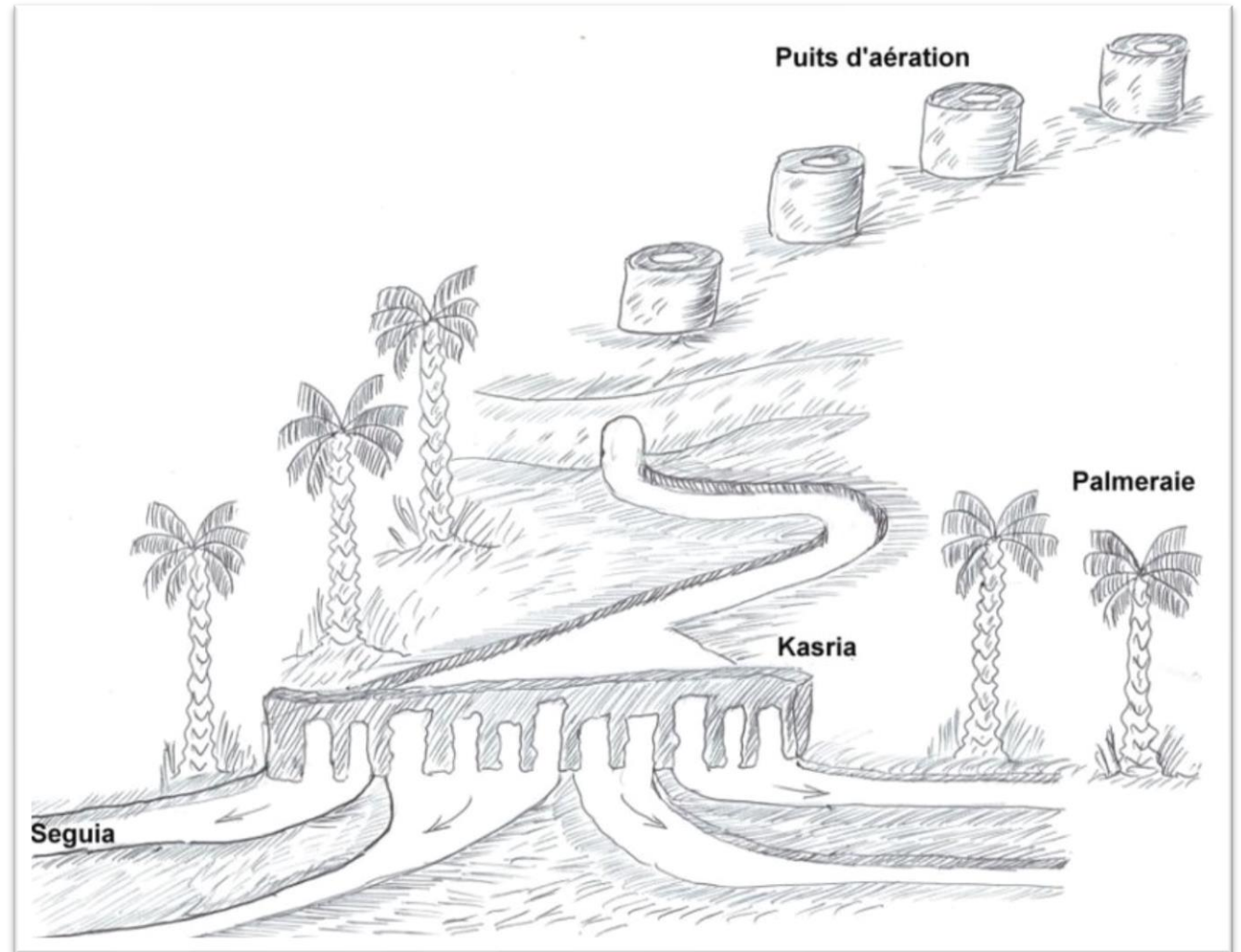
25. Kuriai klimato juostai būdinga ši klimatograma?

- A. Atogražų
- B. Paatogražių**
- C. Pusiaujo
- D. Subekvatorinei



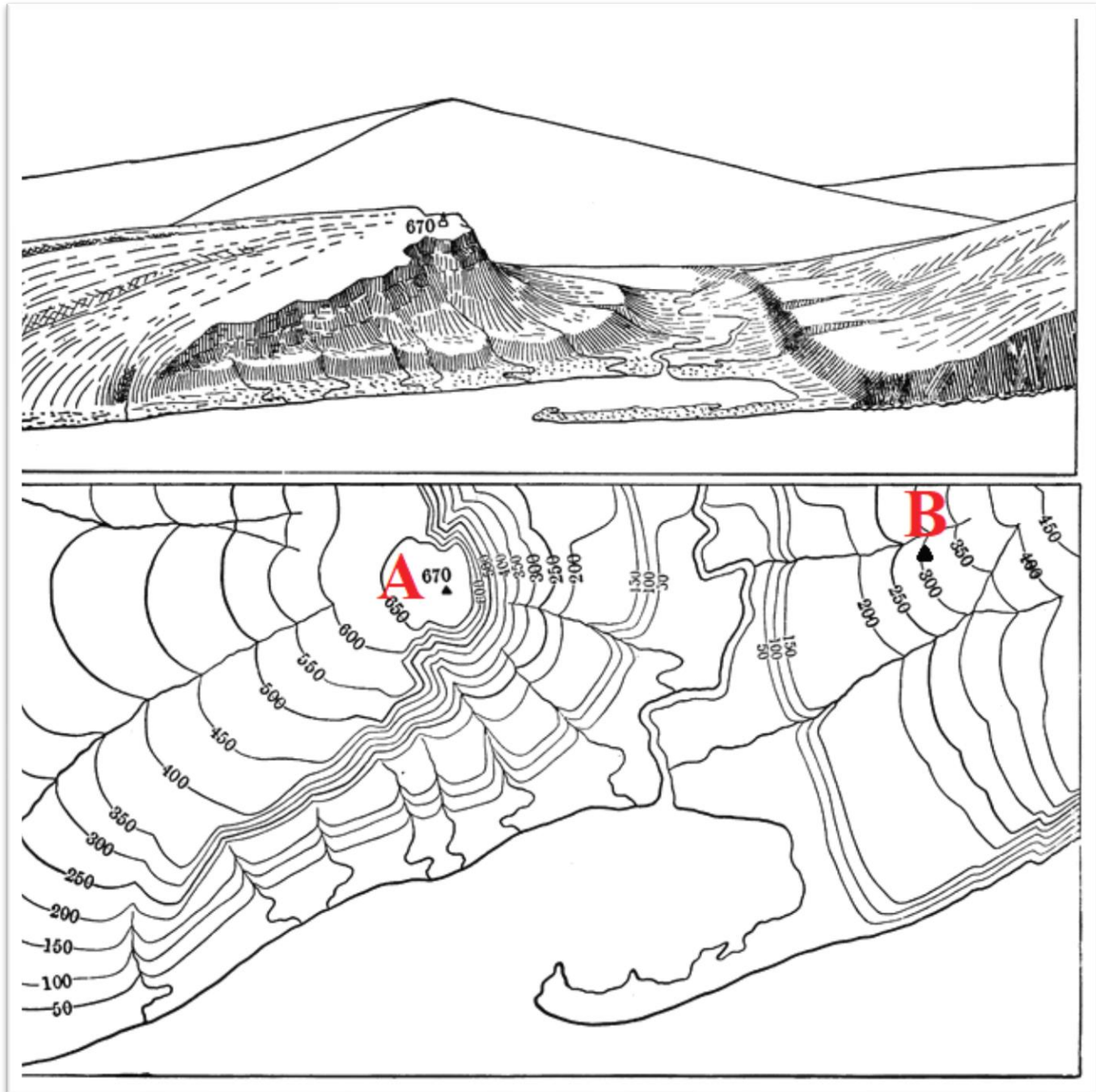
26. Kurio tipo oazė pavaizduota piešinyje?

- A. Fogaros
- B. Gruntinio vandens
- C. Požeminio vandens
- D. Upės



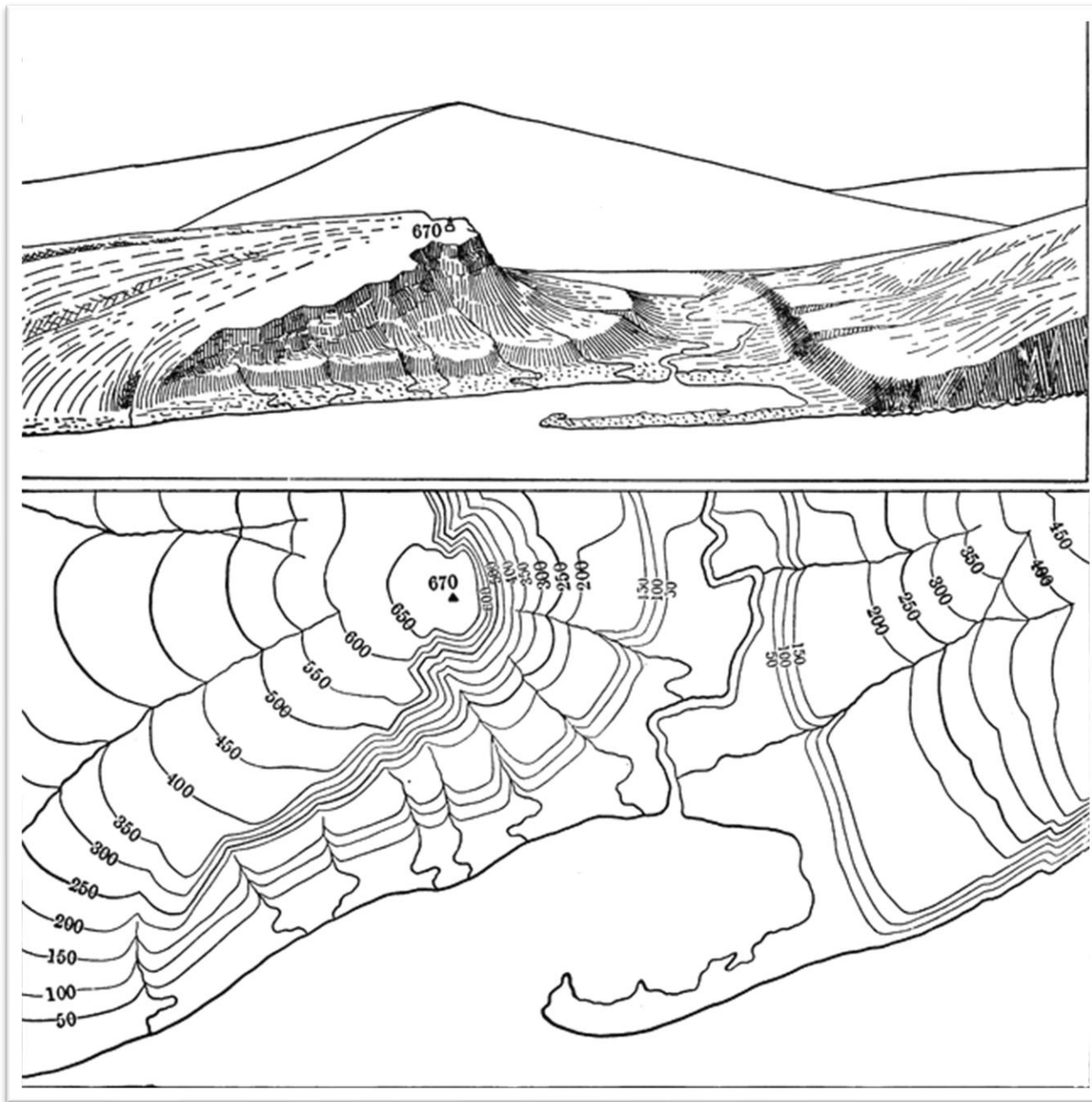
27. Apskaičiuokite A ir B taškų santykinį aukštį?

- A. 300
- B. 370
- C. 550
- D. 650



28. Nustatykite, iš kurios pusės lengviausia kopti į aukščiausią kalvą?

- A. Iš pietryčių
- B. Iš pietų
- C. Iš pietvakarių
- D. Iš rytų



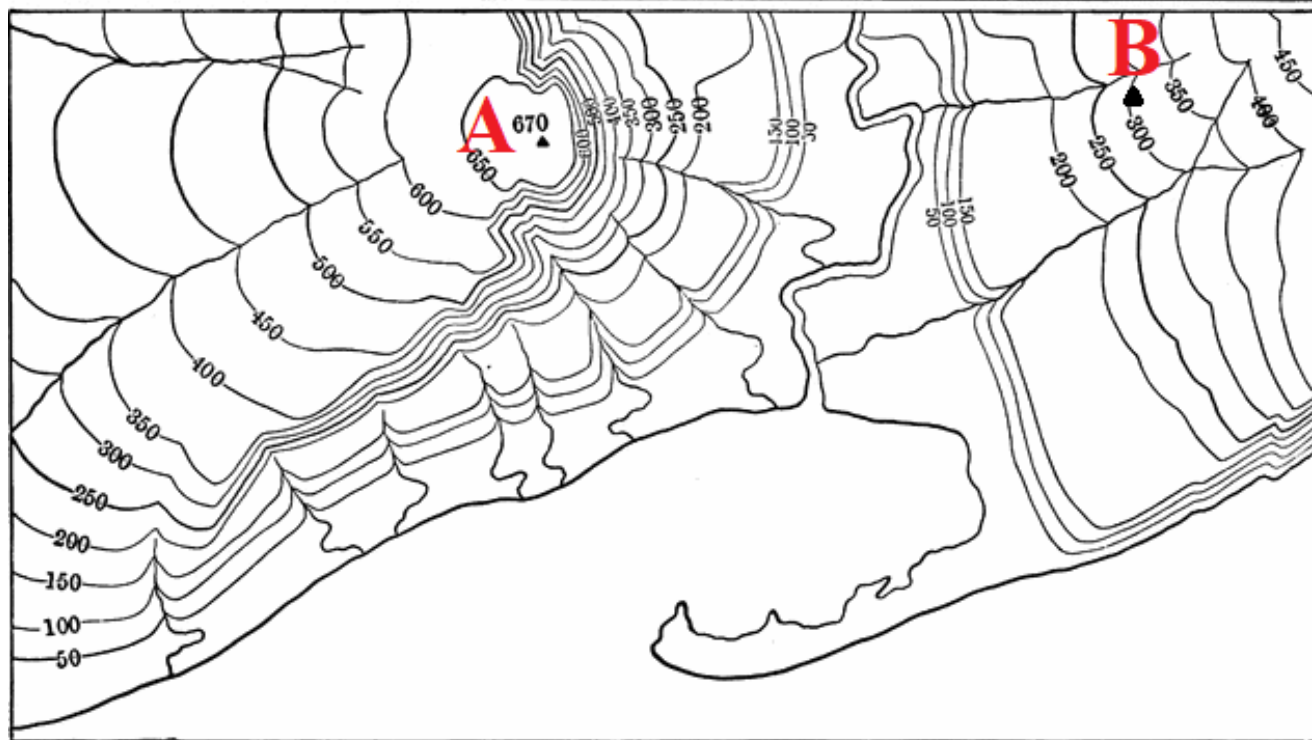
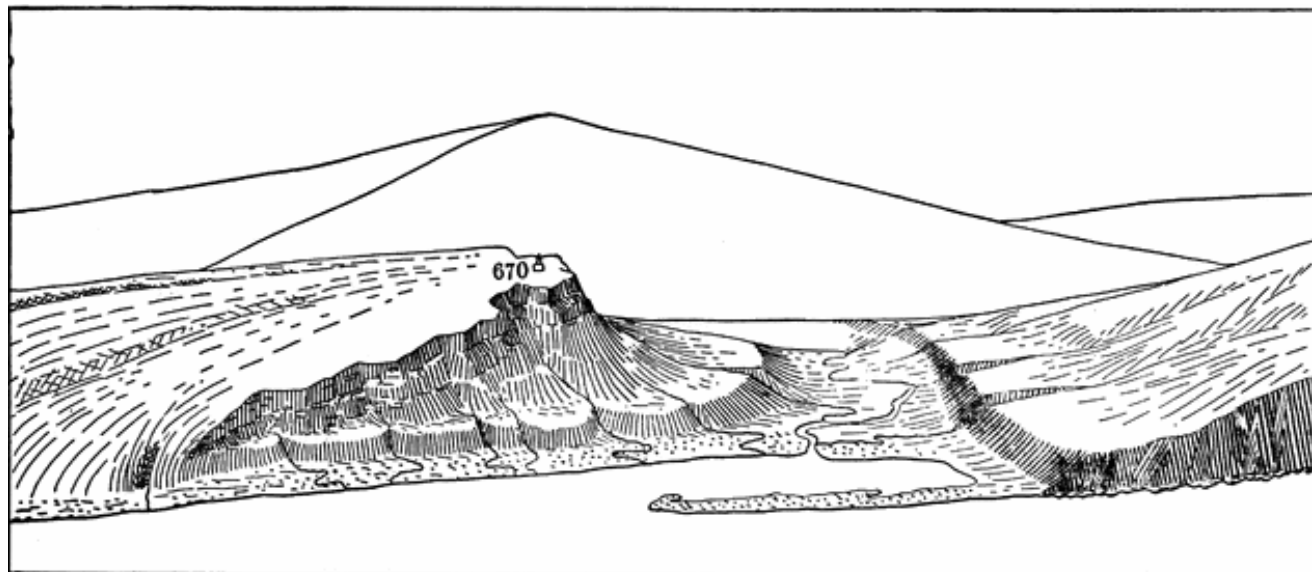
**29. Kopiant į B kalvą,
kuris aukščio ruožas
bus stačiausias?**

A. 50 – 150

B. 150 – 200

C. 200 – 300

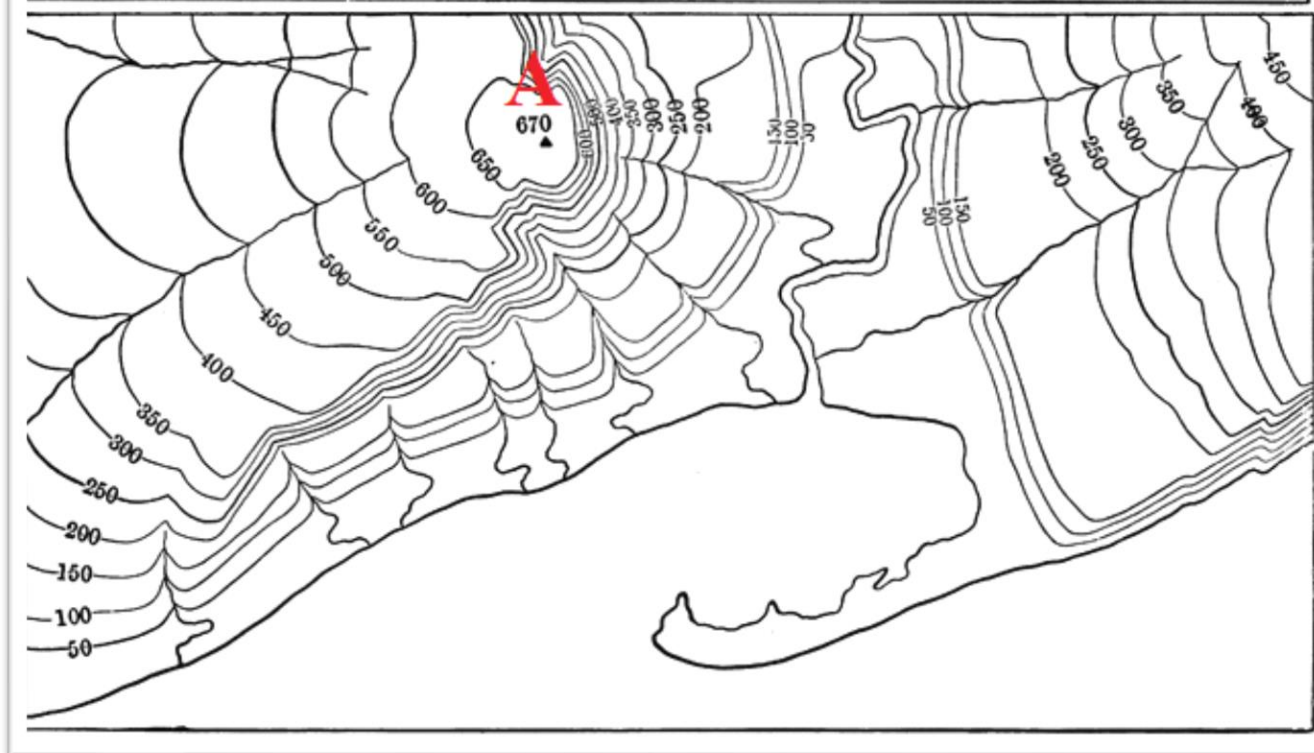
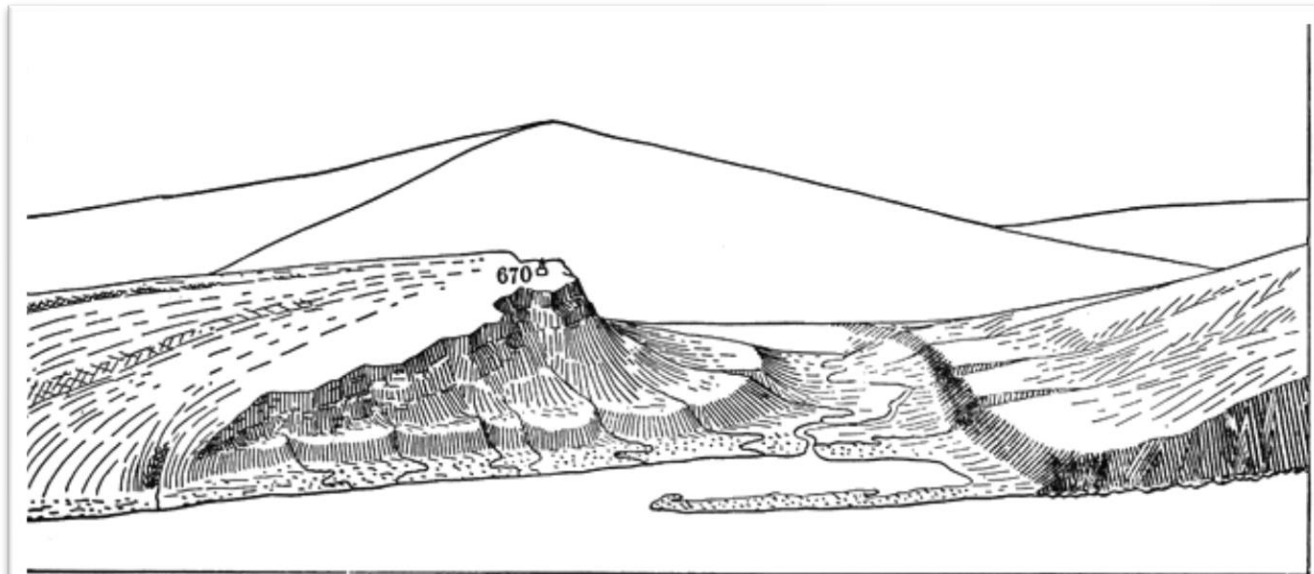
D. 300 – 450



30. A kalvos rytinis šlaitas pavaizduotas vingiuotomis horizontalėmis.

Koks procesas lėmė tokią šlaito formą?

- A. Ledyno veikla
- B. Stipraus vėjo veikla
- C. Vandens erozija**
- D. Žmogaus ūkinė veikla



Užduotys 8 klasei

2020 m. geografijos olimpiada



1. Nuotraukoje matyti šventyklų kompleksas vienoje iš Azijos valstybių, kurioje vyrauja budizmo religija ir kuri neretai vadinama šypsenu šalimi.

Kuri tai šalis?

- A. Iranas
- B. Japonija
- C. Kinija
- D. Tailandas**



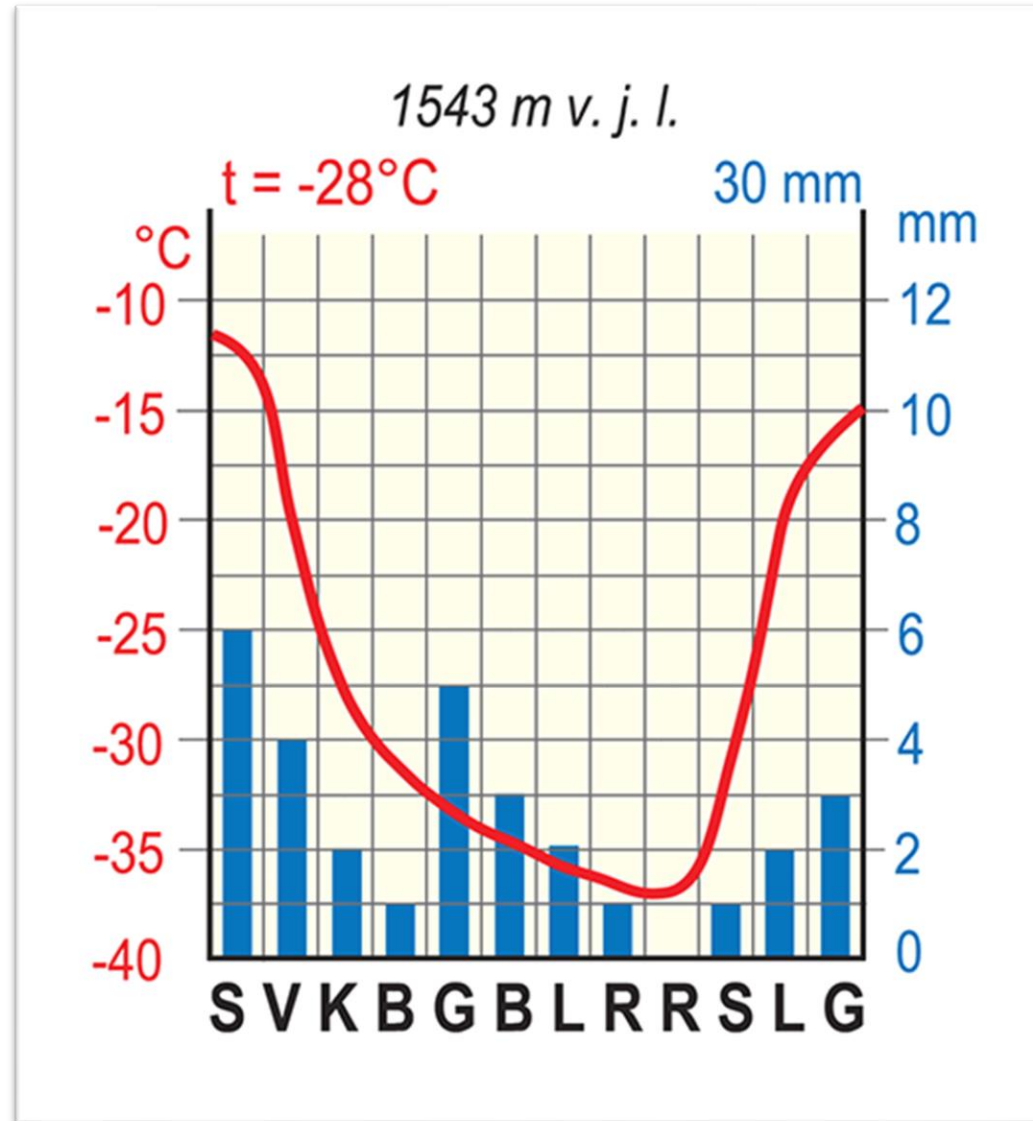
2. Kuris vandens telkinys nepatenka į šį palydovinį žemėlapi?

- A. Aralo ežeras
- B. Kaspijos jūra
- C. Raudonoji jūra**
- D. Viduržemio jūra



3. Kokia šios vietovės metų oro temperatūros amplitudė?

- A. 12 °C
- B. 25 °C**
- C. 37 °C
- D. 49 °C



4. Viena iš Europos valstybių turi sausumos sieną net su 9 kaimynėmis.

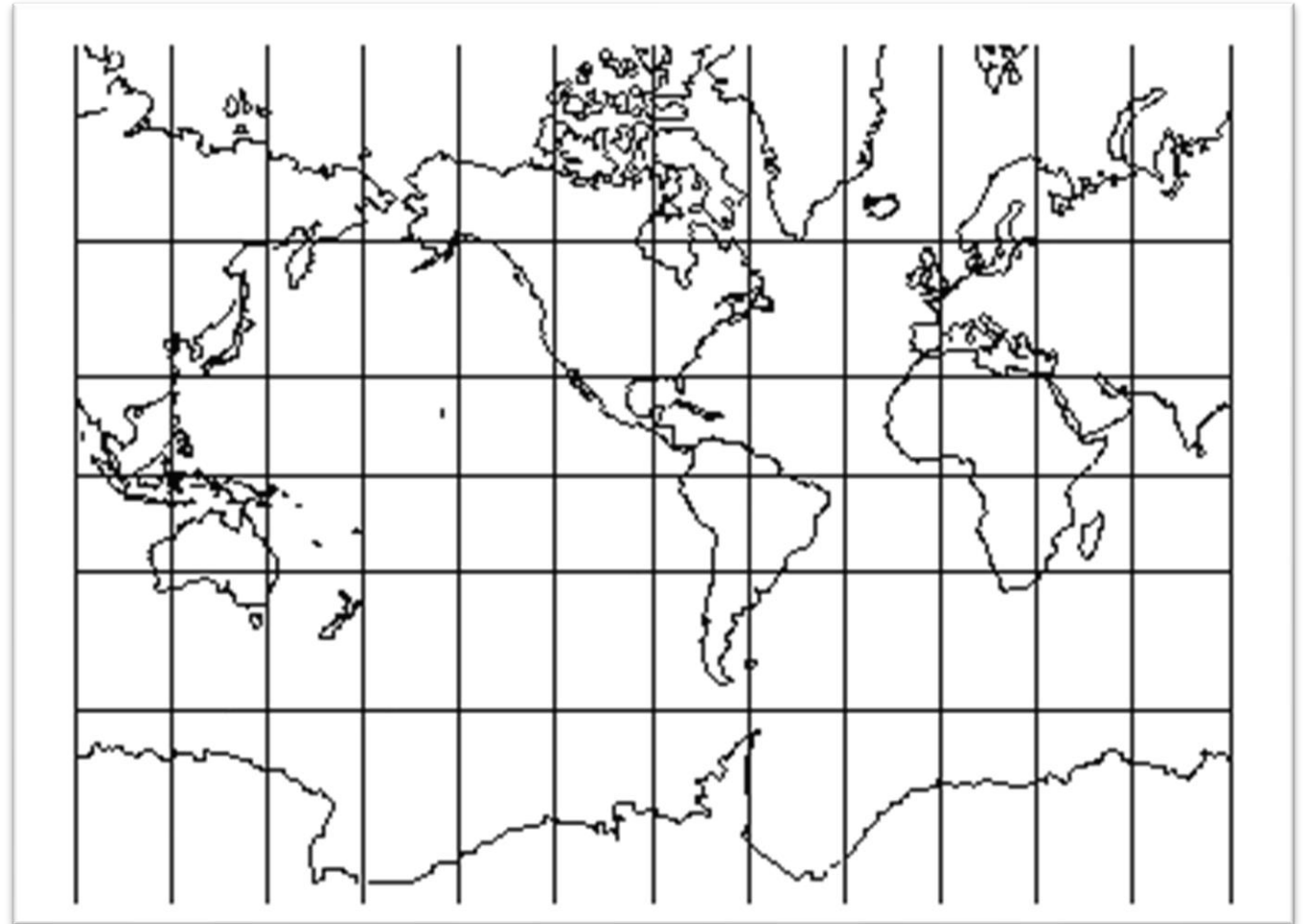
Kuri tai valstybė?

- A. Austrija
- B. Šveicarija
- C. Vengrija
- D. Vokietija**



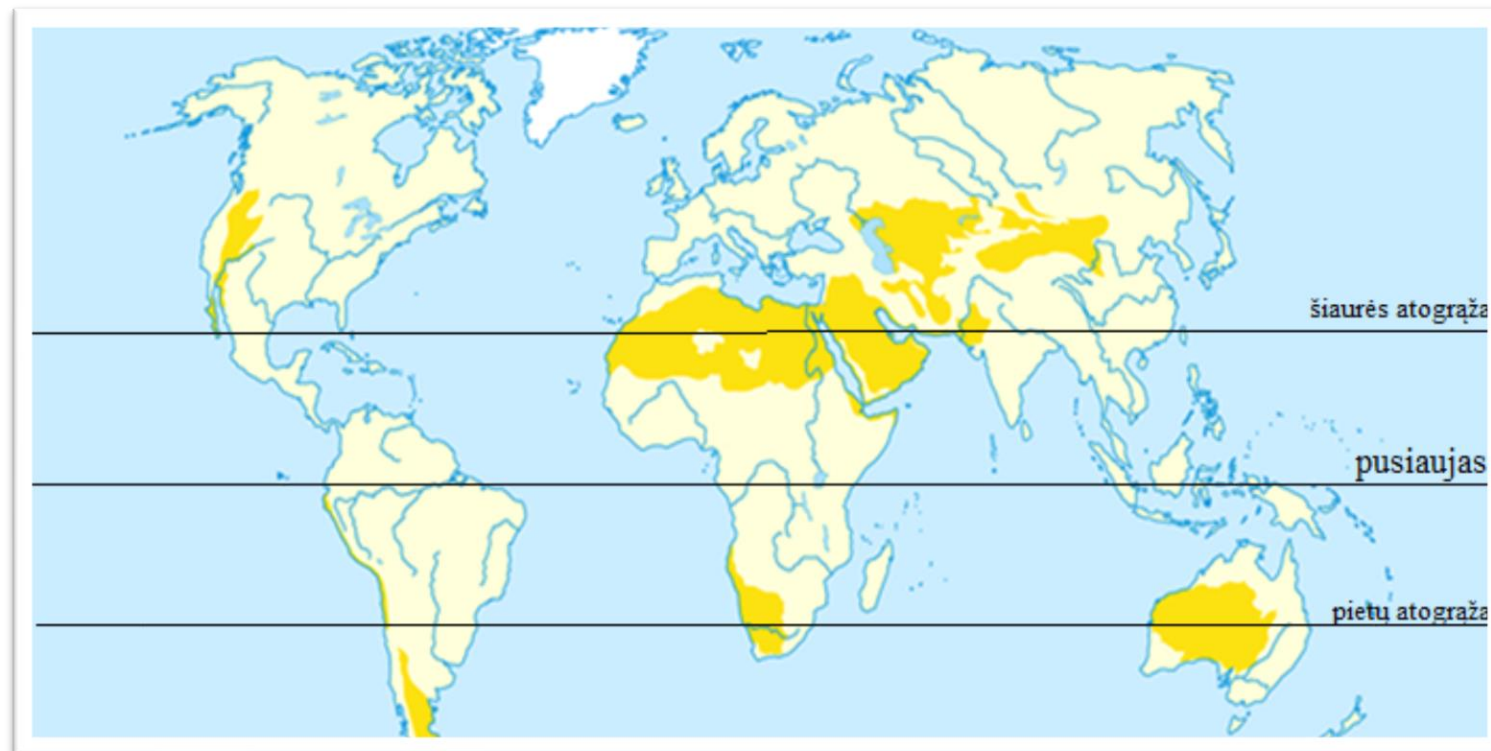
5. Kurioje platumoje ir ilgumoje yra Islandijos sala?

- A. Pietų pl. ir rytų ilg.
- B. Pietų pl. ir vakarų ilg.
- C. Šiaurės pl. ir rytų ilg.
- D. Šiaurės pl. ir vakarų ilg.**



6. Kuri geografinė zona pavaizduota kartoschemoje?

- A. Dykumos
- B. Pusdykumės
- C. Savanos
- D. Stepės



**7. Šios upės išskirtinumas – daugybė jos vandenyse
tam tikrus ritualus atliekančių žmonių.
Kuri tai upė?**

- A. Amazonė
- B. Ganges**
- C. Jangdzė
- D. Nilas



8. Kaip vadinamas nuotraukoje matomas kranto tipas?

- A. Dalmatiškasis
- B. Riasinis
- C. Šcherinis
- D. Vatinis**



9. Tai viena iš žemumų šalių, esanti Vakarų Europoje. Tai kraštas, kurio 40 % teritorijos atkovota iš jūros.

Kuri tai valstybė?

- A. Belgija
- B. Danija
- C. Nyderlandai**
- D. Vokietija



10. Kuriame atsakyme teisingai pateiktas lygiagrečių apibūdinimas?

- A. Skirtingo ilgio, atstumas tarp linijų mažėja artėjant prie ašigalių
- B. Skirtingo ilgio, eina per Šiaurės ir Pietų ašigalius, vienodai nutolę viena nuo kitos
- C. Skirtingo ilgio, lygiagretūs su pusiauju apskritimai, vienodai nutolę vienas nuo kito**
- D. Vienodai nutolę vienas nuo kito, lygiagretūs su pradiniu dienovidiniu apskritimai



11. Kurioje šalyje pirmiausia išpopuliarėjo unikali nakvynės paslauga viešbutis – kapsulė?

- A. Japonijoje
- B. JAV
- C. Kinijoje
- D. Turkijoje



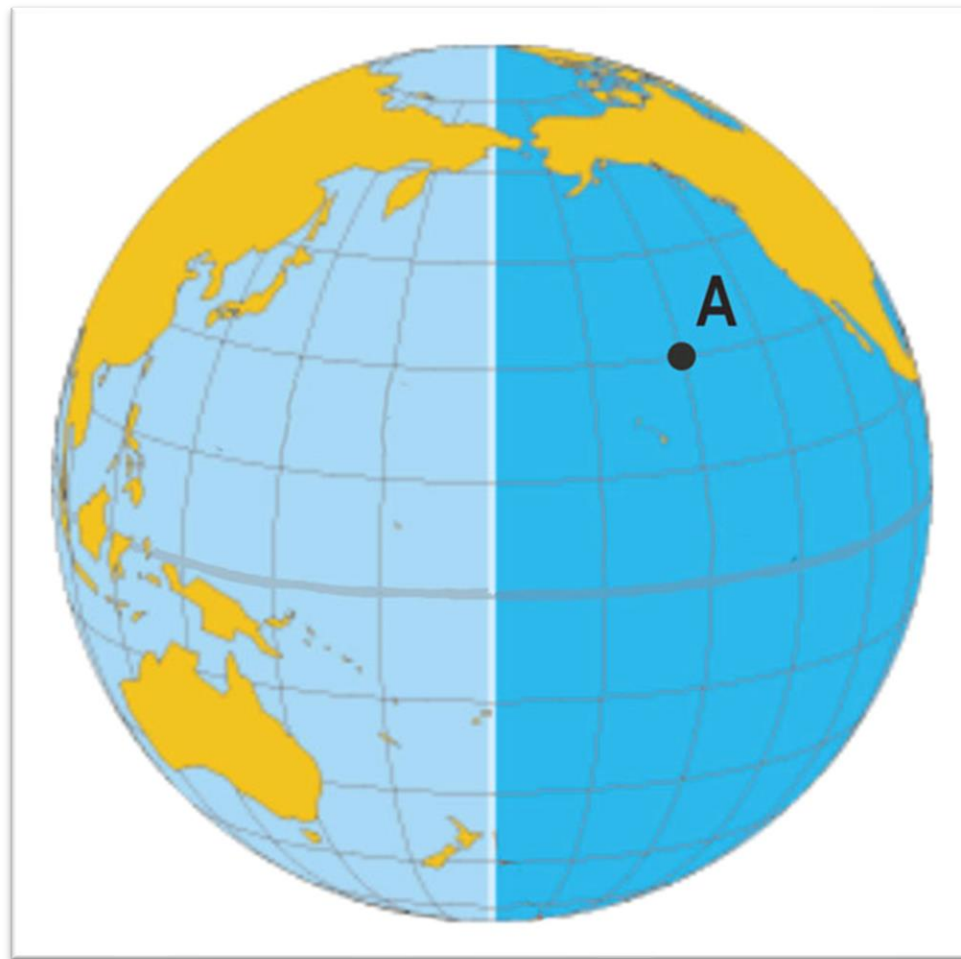
12. Kadaise tai buvo mažas žvejų kaimelis ir vadinosi Edo. Dabar tai didžiulis megapolis. Kuris pasaulio miestas įamžintas nuotraukoje?

- A. Bankokas
- B. Mumbajus
- C. Šanchajus
- D. Tokijas**



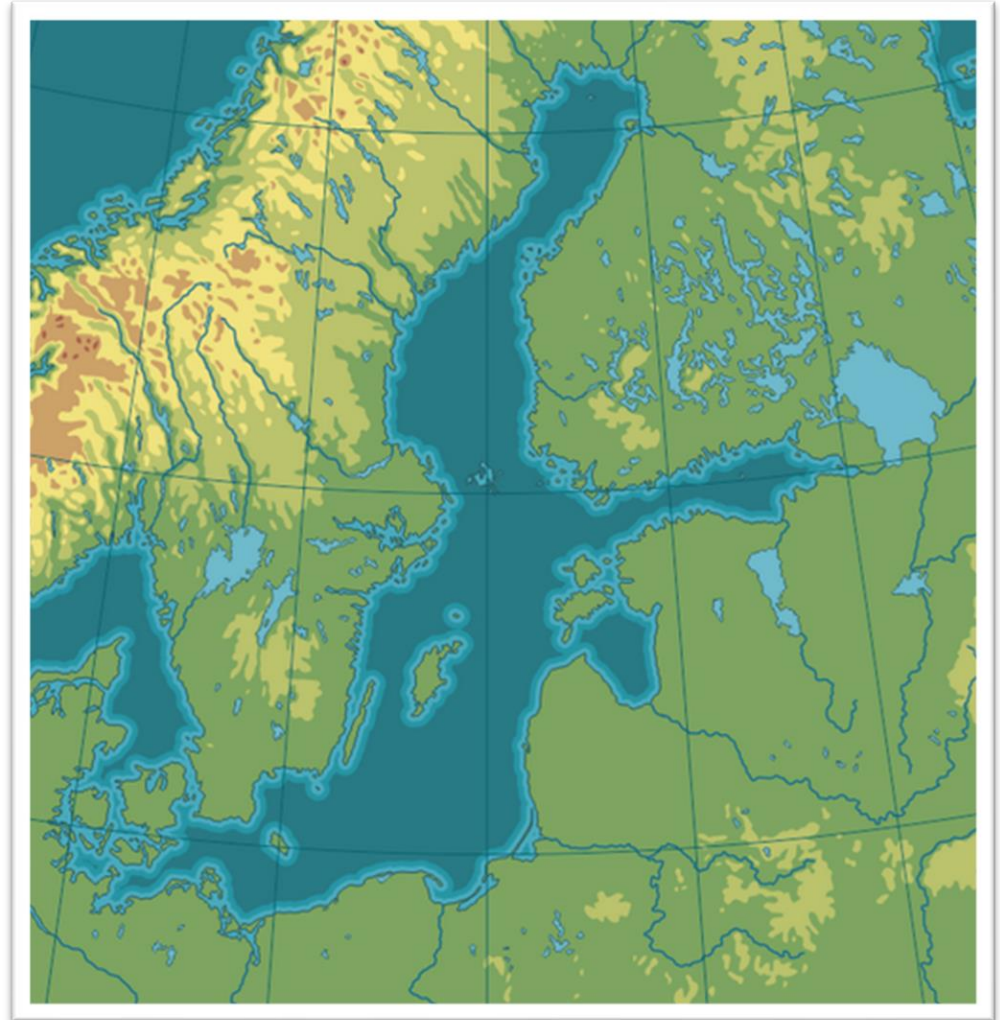
13. Nustatyk taško A geografines koordinates.

- A. 30° š. pl. ir 30° r. ilg.
- B. 30° š. pl. ir 30° v. ilg.
- C. 30° š. pl. ir 120° r. ilg.
- D. 30° š. pl ir 150° v. ilg.**



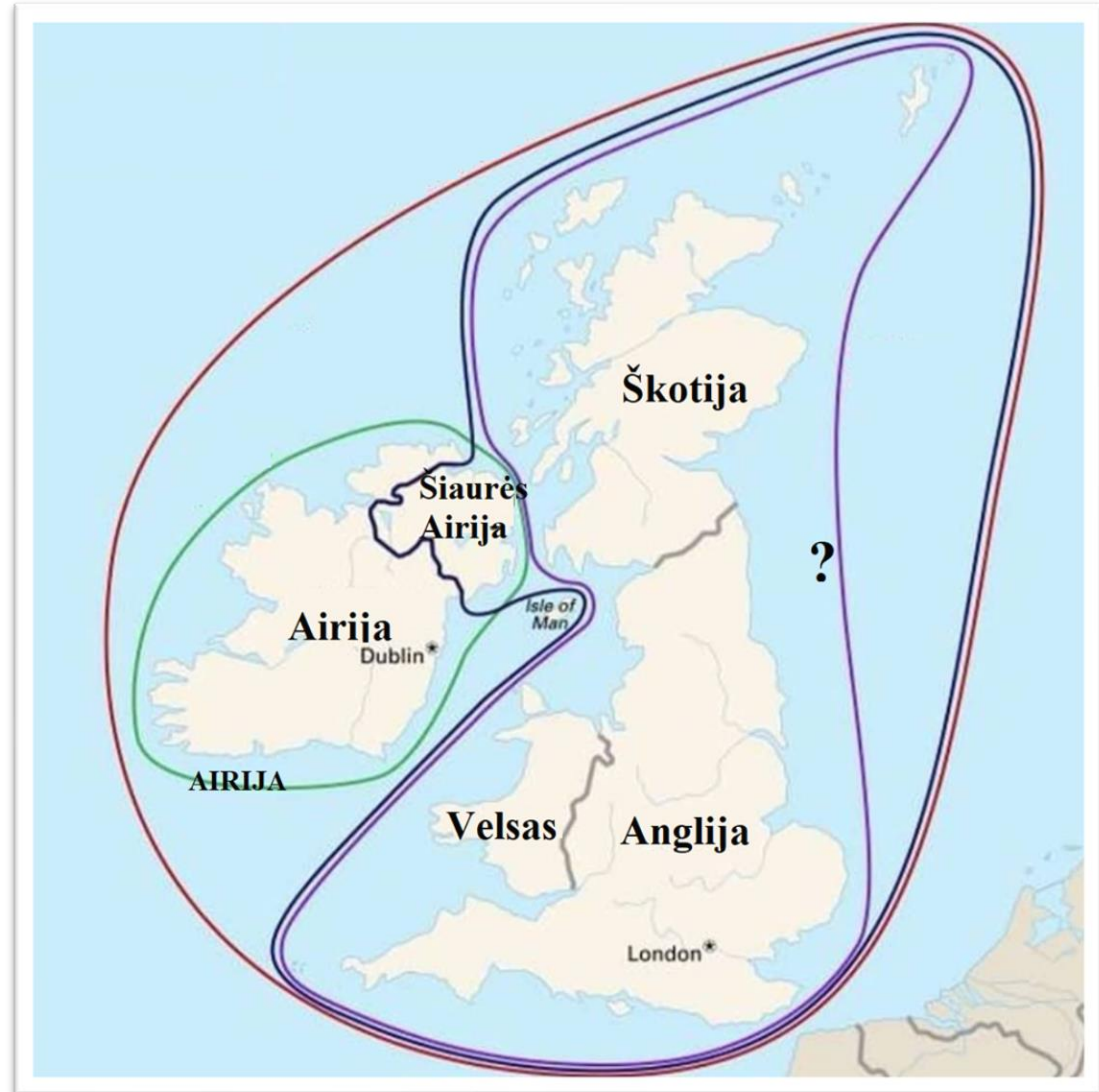
14. Kurios salos yra tik Baltijos jūroje?

- A. Alandų, Fryzų, Gotlando
- B. Bornholmo, Gotlando, Saremos**
- C. Elando, Farerų, Saremos
- D. Farerų, Fryzų, Špicbergeneno



15. Kaip vadinama teritorija, apvesta violetine linija ir pažymėta klausuku?

- A. Airijos ir Britanijos salos
- B. Britų salos
- C. Didžioji Britanija**
- D. Jungtinė Didžiosios Britanijos ir Šiaurės Airijos Karalystė

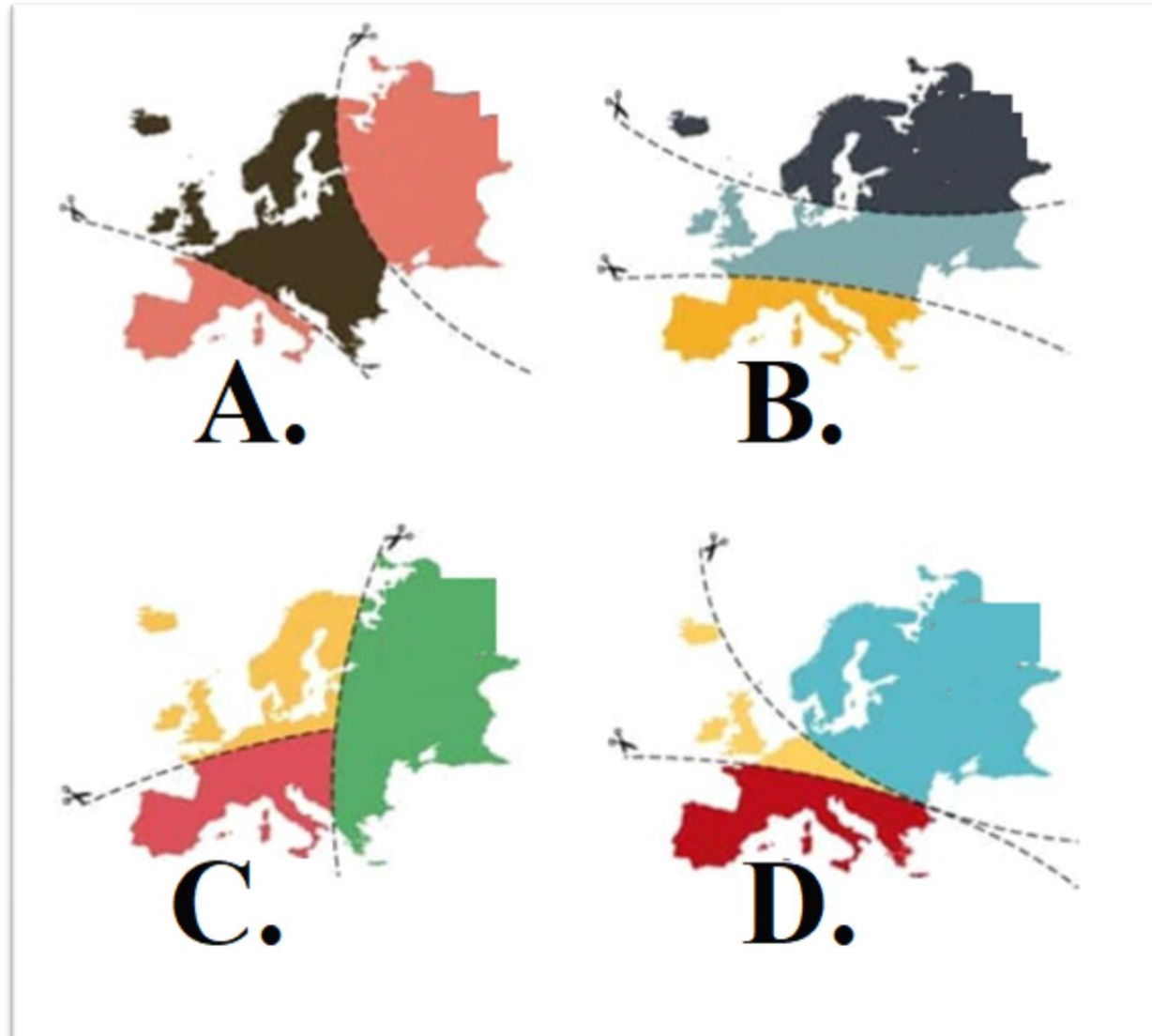


16. Kuriame dirvožemyje auginamos vynuogės Lansarotės saloje, Ispanijoje?

- A. Juodžemyje
- B. Raudonžemyje
- C. Smėlžemyje
- D. Vulkaniniame**



17. Kuris žemėlapis apytiksliai vaizduoja religijų (katalikų, protestantų ir ortodoksų) pasiskirstymą Europoje?



**18. Išspręskite vėliavų uždavinį.
Kurios šalies vėliavą gausime sudėję Danijos ir Suomijos
vėliavas?**

- A. Islandijos
- B. Jungtinės Karalystės
- C. Norvegijos**
- D. Švedijos



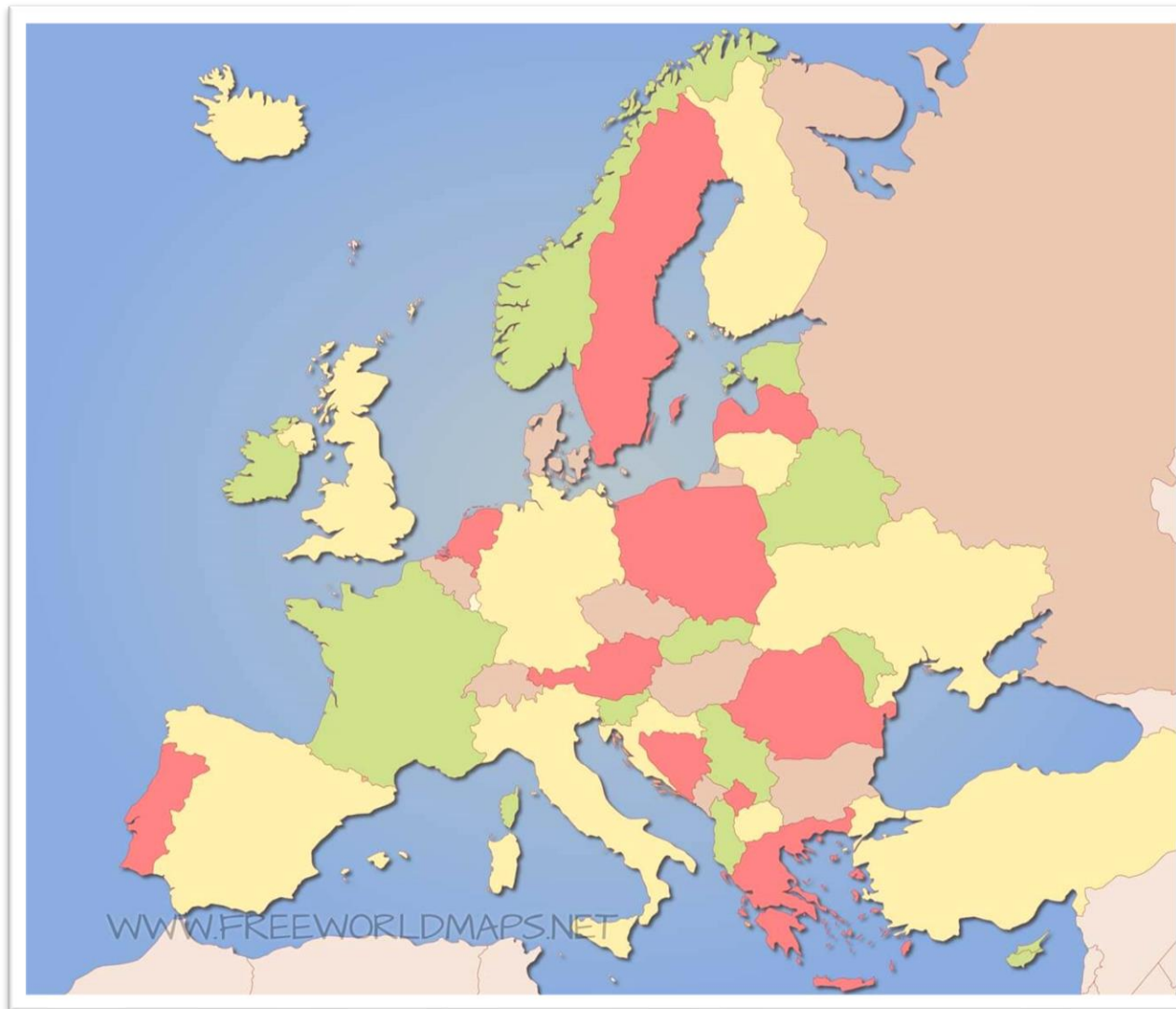
20. Kiek valstybių šiuo metu sudaro Europos Sąjungą?

- A. 25
- B. 27**
- C. 28
- D. 30



21. Kuriai valstybei subyrėjus susikūrė Makedonija ir Kosovas?

- A. Austrijos-Vengrijos imperijai
- B. Jugoslavijai**
- C. Osmanų imperijai
- D. Tarybų Sąjungai



**22. Kurioje šalyje ir kuriuo metų laiku galima stebėti šį
įspūdingą atmosferos reiškinį?**

- A. Antarktidoje, sausio mėn.
- B. Islandijoje, gegužės mėn.
- C. Kanadoje, liepos mėn.
- D. Norvegijoje, gruodžio mėn.**



23. Kuriame atsakyme teisingai išvardytos vidinės Europos valstybės?

- A. Andora, Monakas, Baltarusija
- B. Baltarusija, Moldova, Lichtenšteinas**
- C. Čekija, Liuksemburgas, Albanija
- D. Slovakija, Ukraina, Vengrija



24. Lentelėje išvardyti miestai, kuriuose yra daugiausia tiltų.

Kuris miestas turėtų būti įrašytas penktoje vietoje?

- A. Londonas
- B. Stokholmas
- C. Talinas
- D. Venecija**

1. HAMBURGAS	2299 tiltų
2. AMSTERDAMAS	1286 tiltų
3. NIUJORKAS	788 tiltų
4. PITSBURGAS	447 tiltų
5. ?	408 tiltų

25. Kurioje Kinijos ekonominėje srityje išsivystymo lygis yra aukščiausias?

- A. Rytų
- B. Šiaurės
- C. Vakarų
- D. Vidurio



26. Ši vidinė jūra jungia Juodąją su Egėjo jūra ir atskiria Turkijos azijinę dalį nuo europinės.

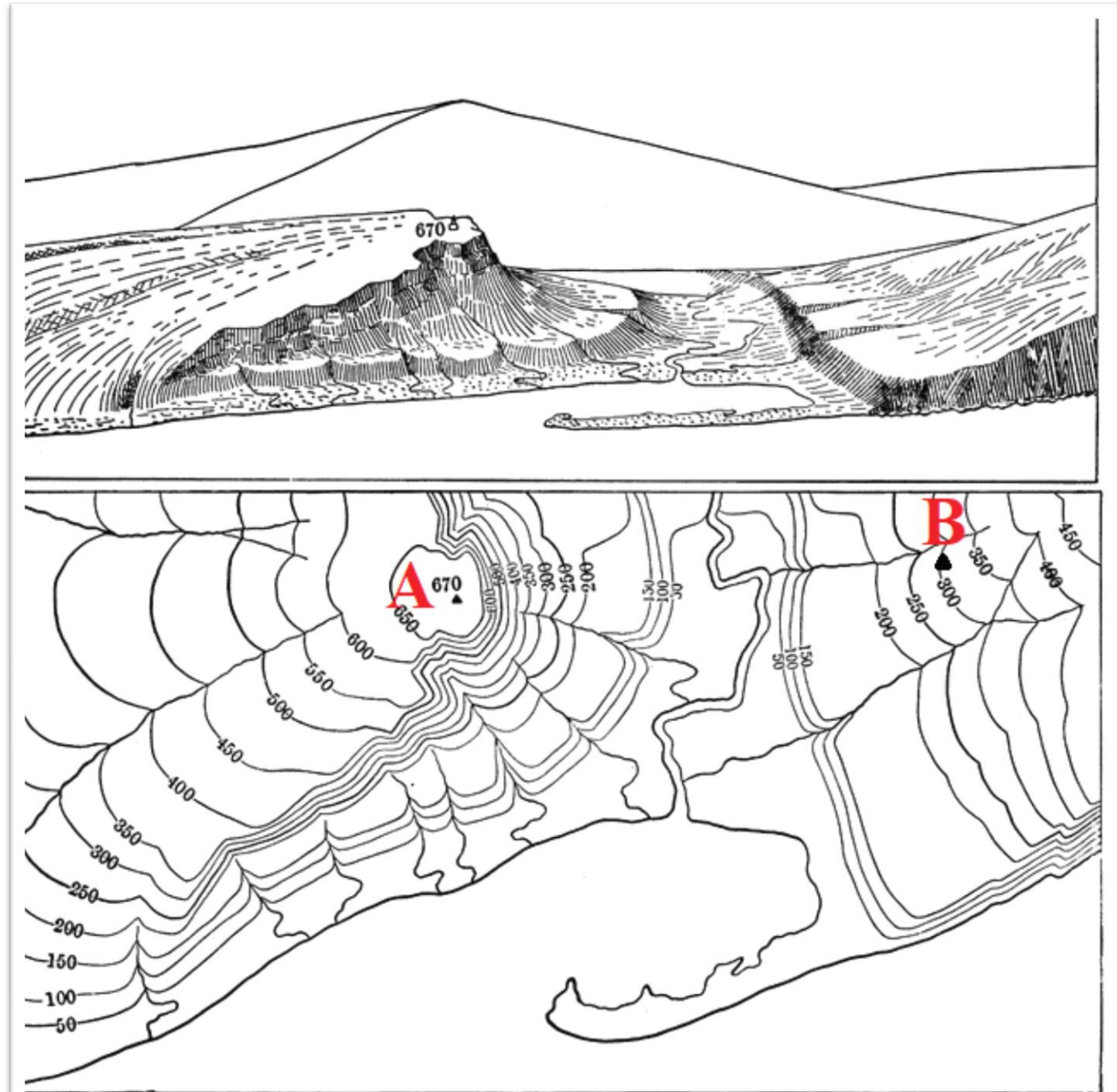
Kaip ji vadinasi?

- A. Egėjo jūra
- B. Granito jūra
- C. Juodoji jūra
- D. Marmuro jūra**



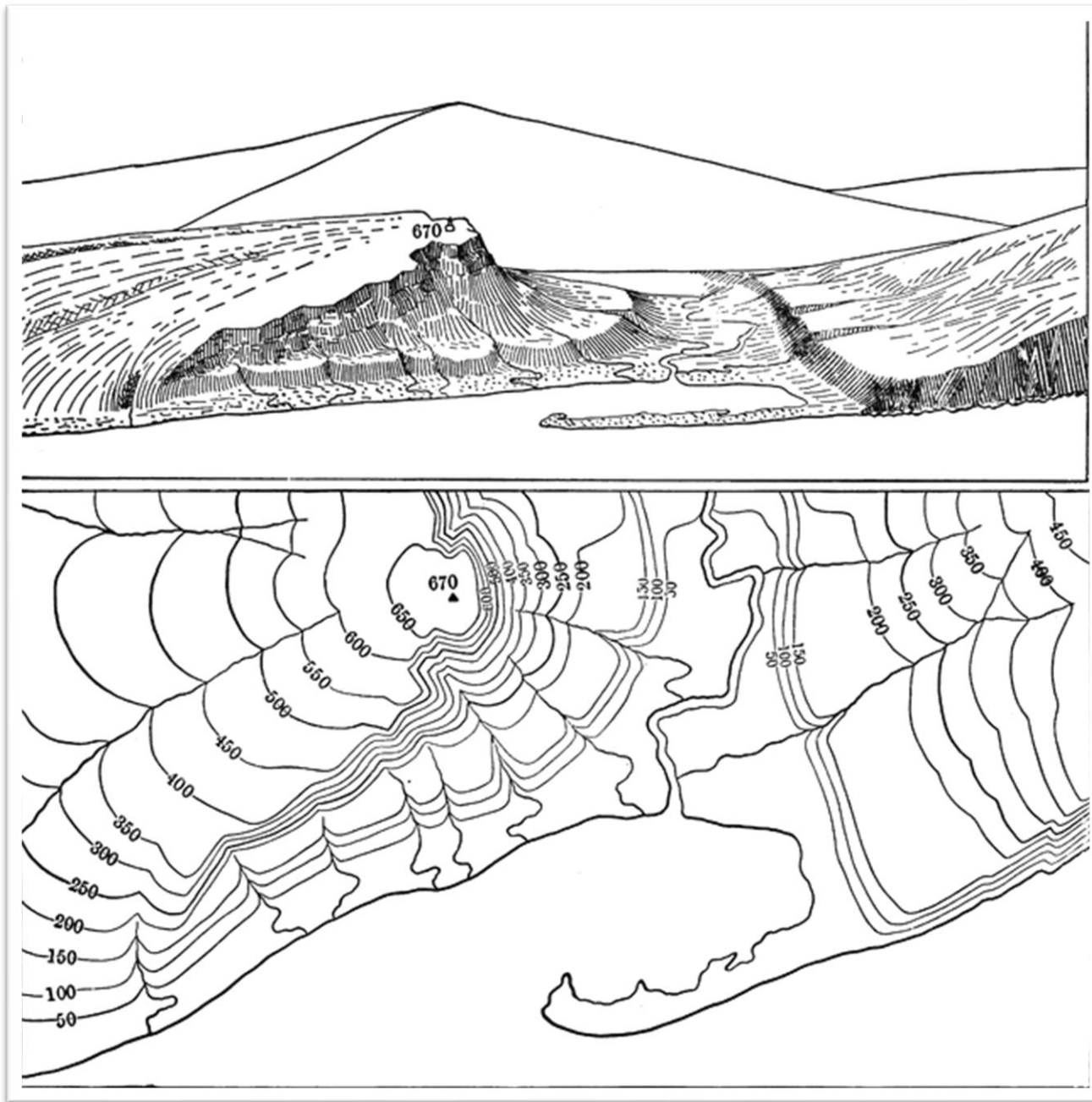
27. Apskaičiuokite A ir B taškų santykinį aukštį?

- A. 300 m
- B. 370 m
- C. 550 m
- D. 650 m



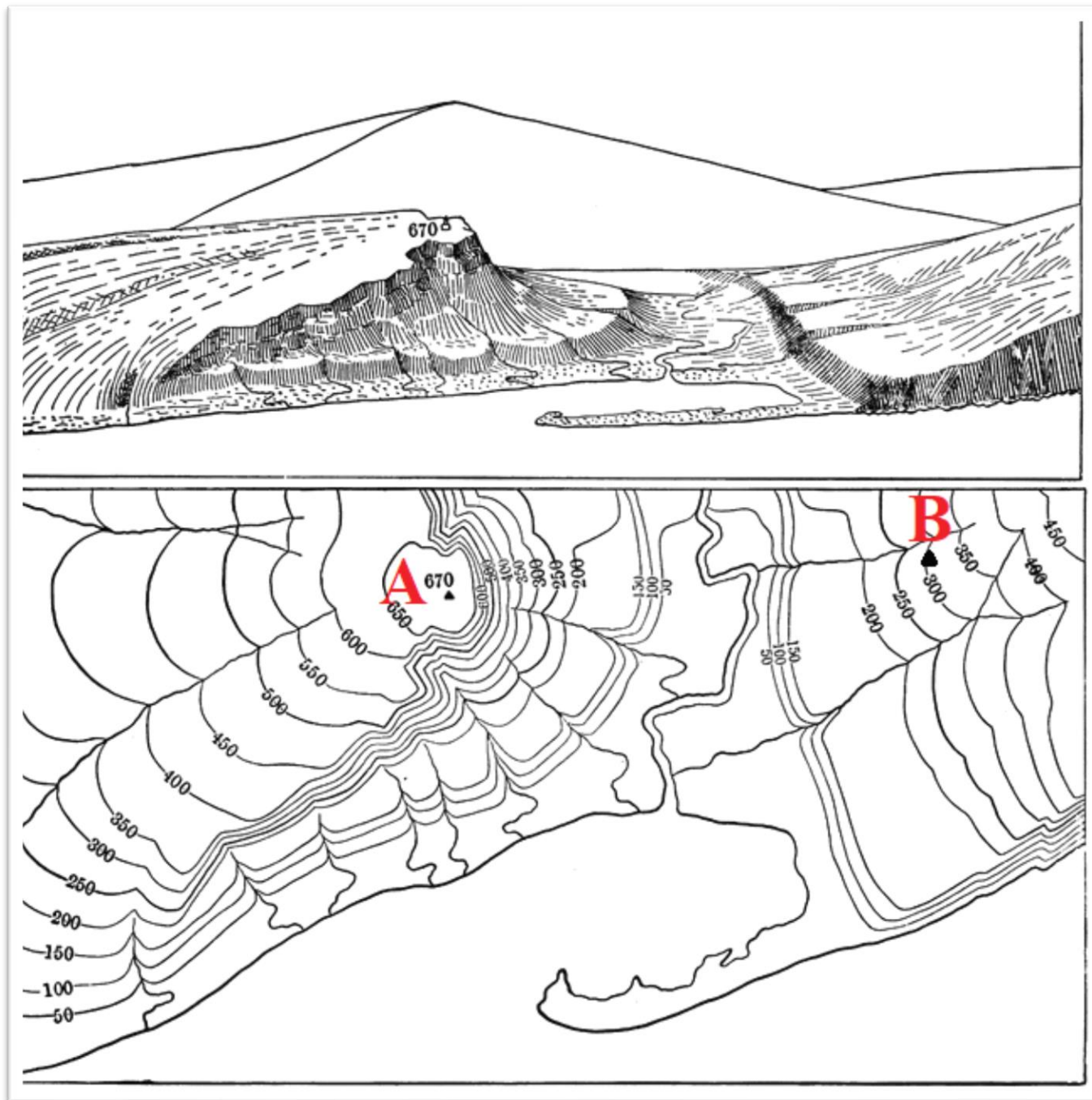
28. Nustatykite, iš kurios pusės lengviausia kopti į aukščiausią kalvą?

- A. Iš pietryčių
- B. Iš pietų
- C. Iš pietvakarių
- D. Iš rytų



**29. Kopiant į B kalvą,
kuris aukščio ruožas
bus stačiausias?**

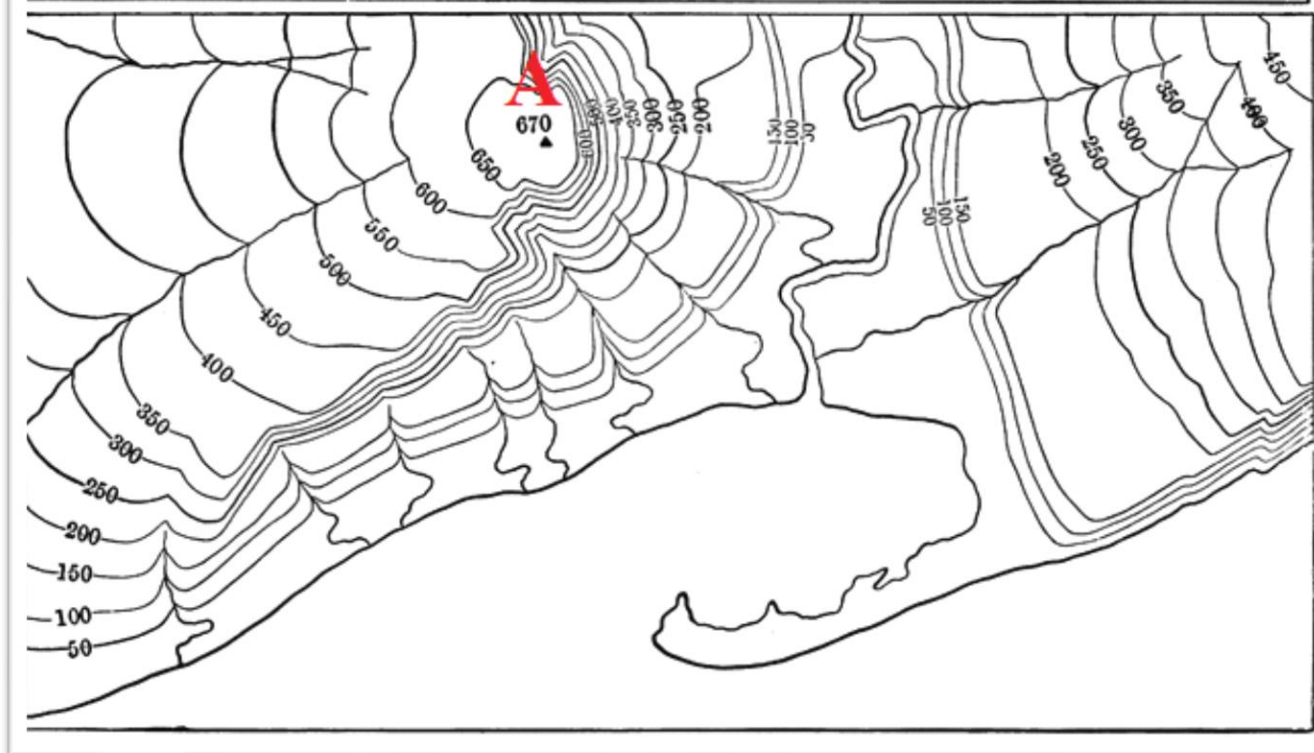
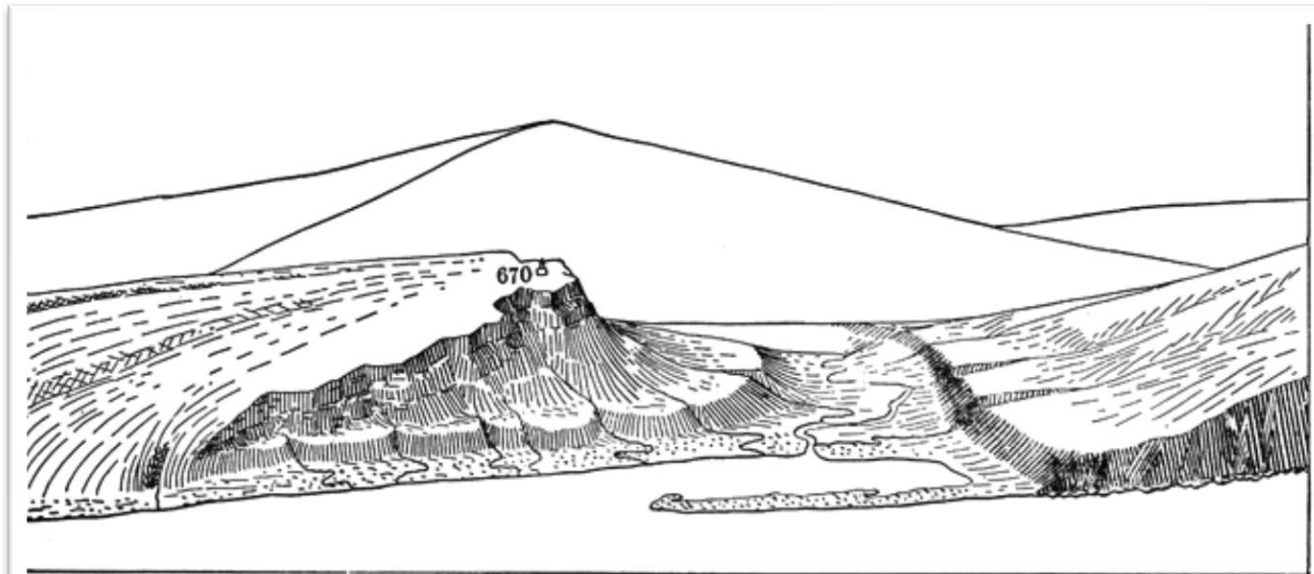
- A. 50 – 150**
- B. 150 – 200**
- C. 200 – 300**
- D. 300 – 450**



30. A kalvos rytinis šlaitas pavaizduotas vingiuotomis horizontalėmis.

Koks procesas lėmė tokią šlaito formą?

- A. Ledyno veikla
- B. Stipraus vėjo veikla
- C. Vandens erozija**
- D. Žmogaus ūkinė veikla



Užduotys 9 klasei

2020 m. geografijos olimpiada



1. Kaip vadinamas geologinis procesas, suformavęs šią reljefo formą?

- A. Akumuliacija
- B. Eroziija
- C. Karstas**
- D. Nuošliauža



**2. Aerofoto nuotraukoje matoma upių santaka.
Kuriame upės krante yra raudonai apvestas vandens telkinys?**

- A. Dešiniajame**
- B. Kairiajame**
- C. Rytiniame**
- D. Vakariniam**



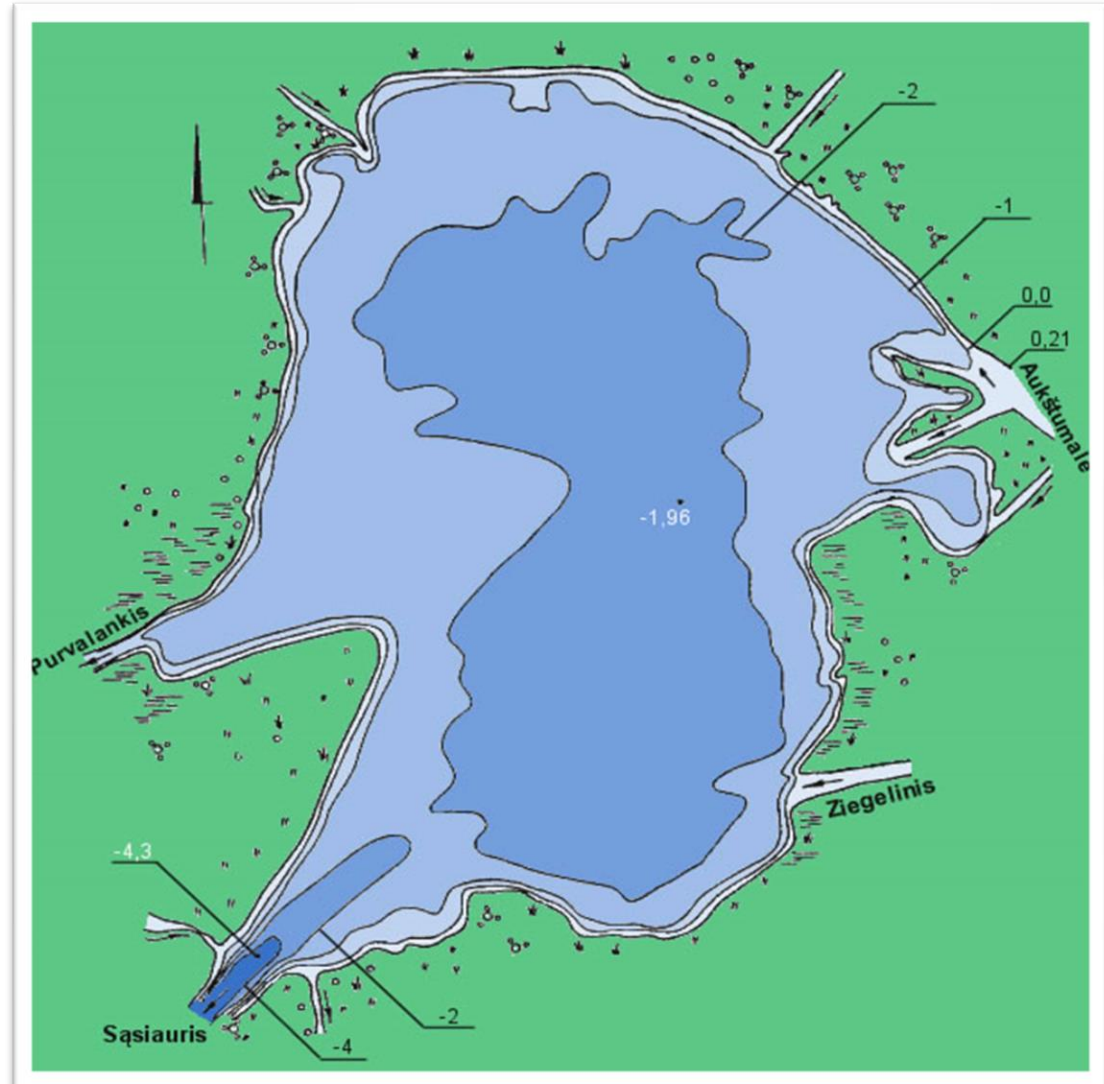
4. Kaip vadinamas toks kaimo gyvenvietės tipas?

- A. Branduolinis
- B. Gatvinis**
- C. Kupetinis
- D. Padrikasis



5. Kokios kilmės yra Krokų Lankos ežeras?

- A. Dubakloninis
- B. Lagūninis**
- C. Ledo luisto guolio
- D. Liekaninis



6. Kada užliejama upės salpa?

- A. Per pavasario potvynius, kuriuos sukelia tirpstantis sniegas
- B. Per poplūdžius, kuriuos sukelia staigios liūtys
- C. Per potvynius, kuriuos sukelia ledų sangrūdos
- D. Visi aukščiau išvardyti variantai**



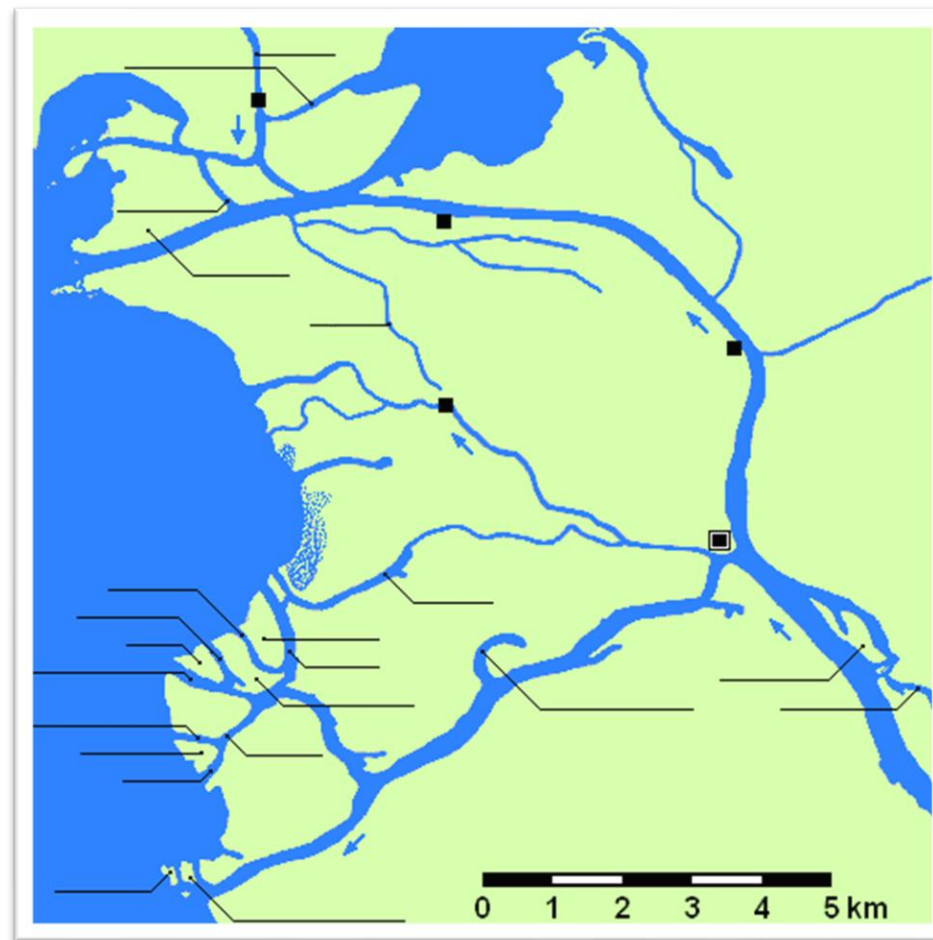
7. Kuria kalba šneka daugiausia žmonių pasaulyje?

- A. Anglų
- B. Hindi
- C. Ispanų
- D. Kinų (mandarinų)**

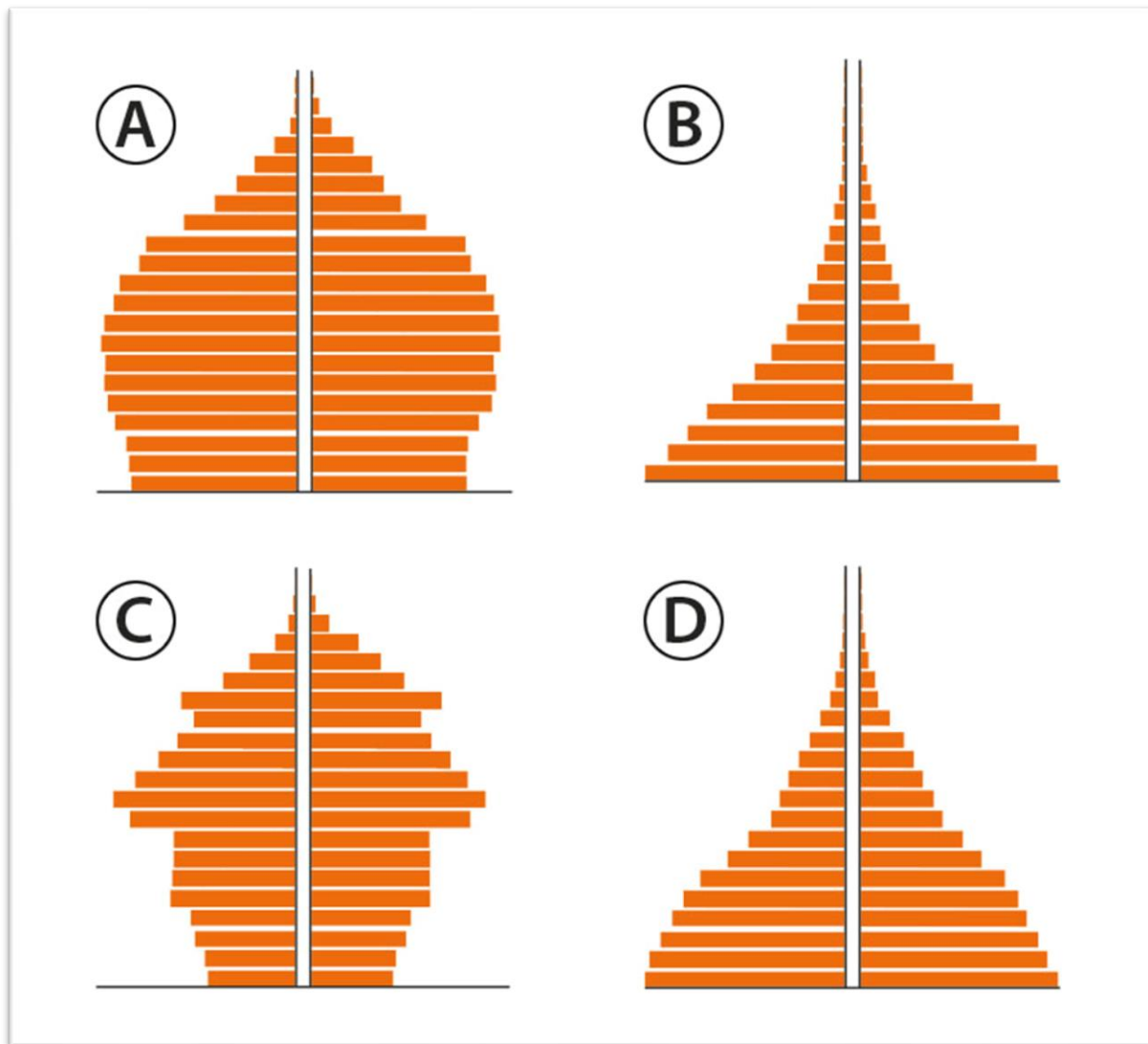


8. Kuria kryptimi Nemuno deltoje didėja Lietuvos teritorija?

- A. Į pietus
- B. Į rytus
- C. Į šiaurę
- D. Į vakarus**



9. Kuri piramidė vaizduoja Lietuvos gyventojų pasiskirstymą pagal amžių ir lytį?



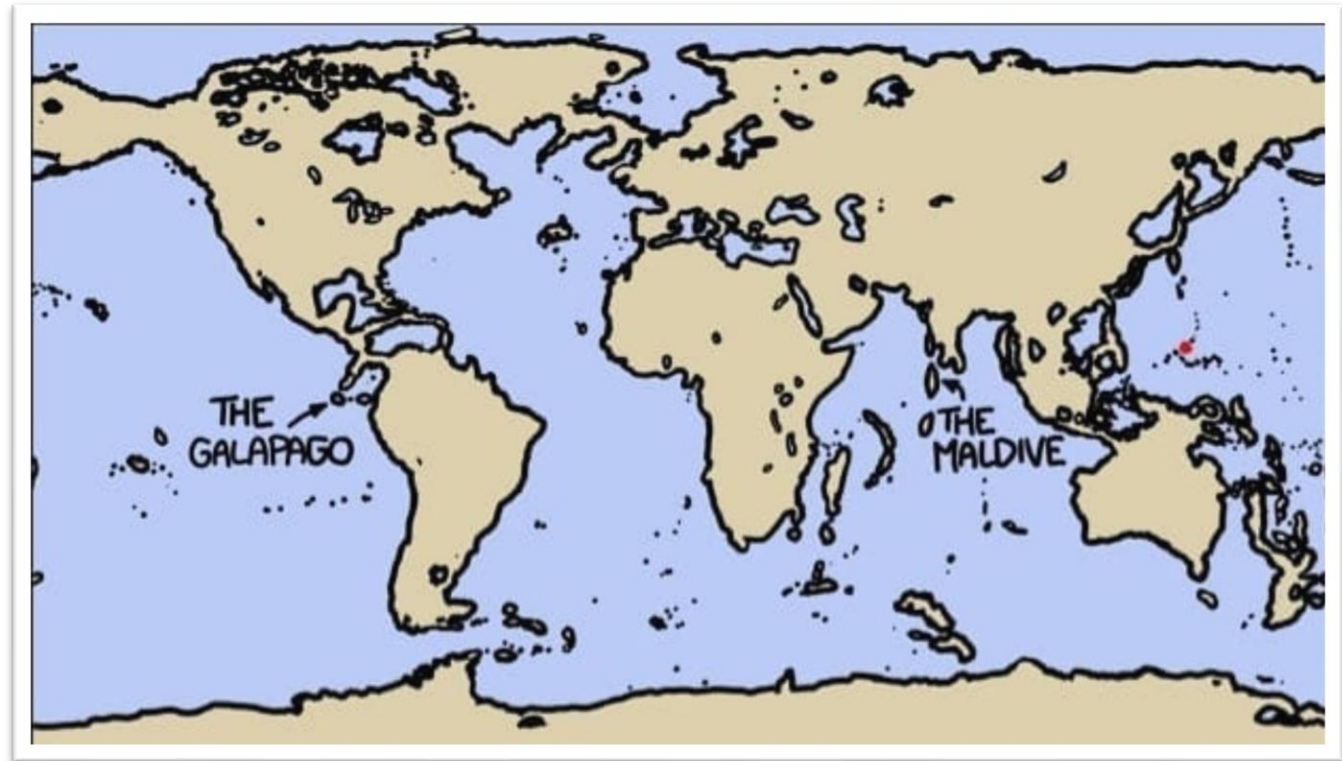
10. Kaip vadinamas kranto tipas, pavaizduotas nuotraukoje?

- A. Dalmatiškasis
- B. Riasinis
- C. Šcherinis
- D. Vatinis**



11. Žemėlapyje pasaulio vaizdas vandens lygiui nukritus 2 kilometrus. Kokią klaidą padarė dailininkas?

- A. Žemėlapyje neturi būti Baltijos jūros
- B. Žemėlapyje neturi būti Viduržemio jūros
- C. Žemėlapyje neturėjo susijungti Azija ir Šiaurės Amerika
- D. Žemėlapyje neturėjo susijungti Azija ir Australija



12. Kurios upės aukštupio nėra Lietuvos teritorijoje?

- A. Mūšos
- B. Neries
- C. Šventosios
- D. Ventos



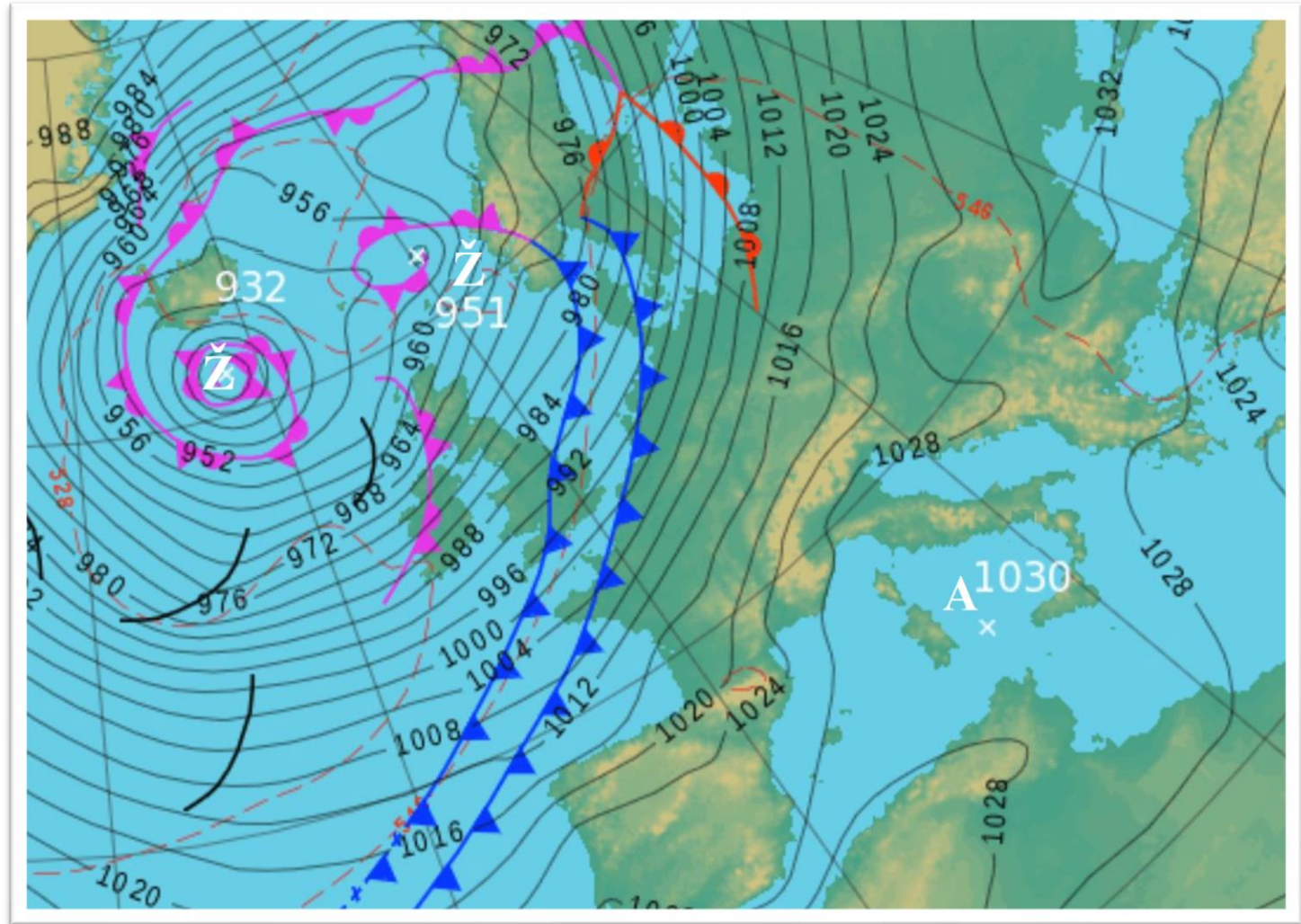
13. Kuršių nerijoje vyrauja parabolinės kopos, kurioms būdinga pasagos forma. Kuria kryptimi dažniausiai nukreipti jų ragai?

- A. Į pietus
- B. Į rytus
- C. Į šiaurę
- D. Į vakarus**




14. Kurioje Europos valstybėje nelyja sinoptiniame žemėlapyje užfiksuotu momentu?

- A. Italijoje
- B. Norvegijoje
- C. Prancūzijoje
- D. Vokietijoje



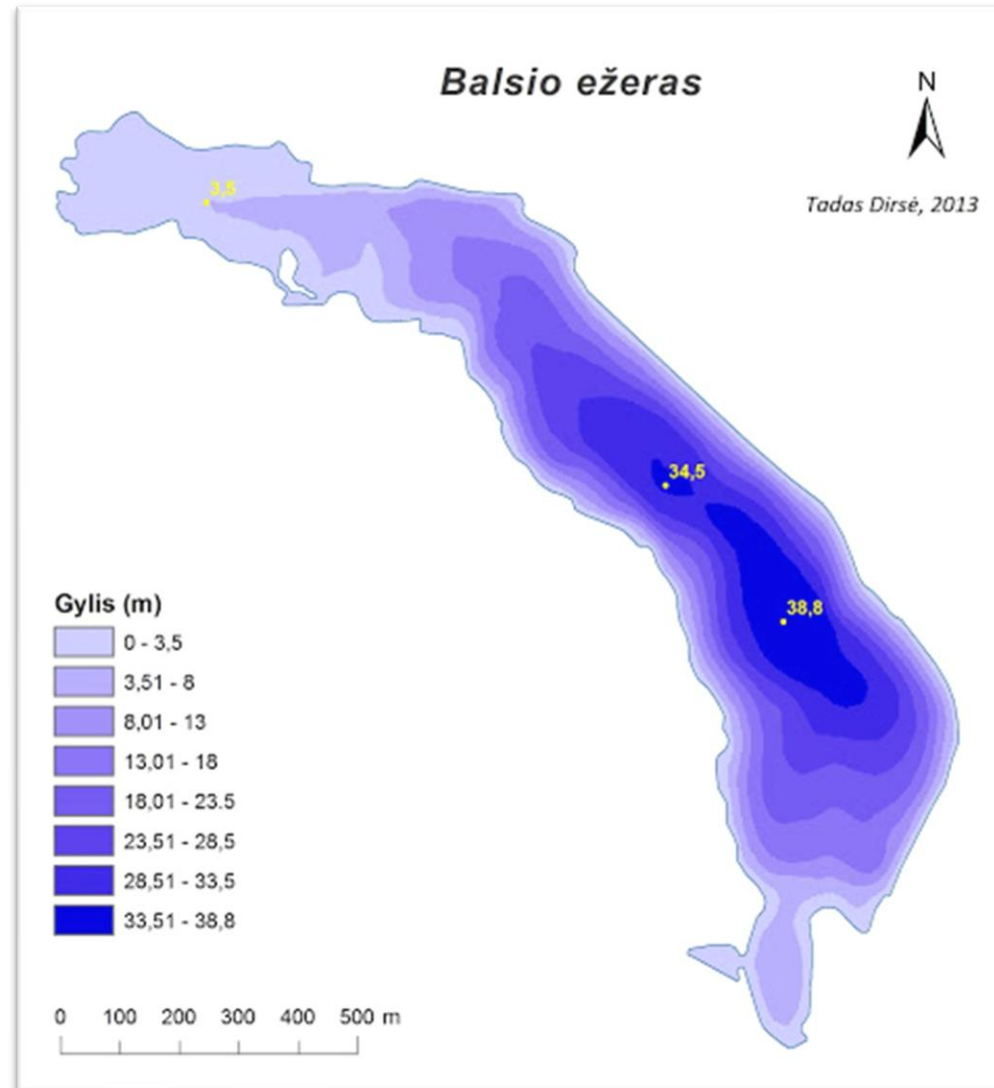
15. Išspręskite vėliavų uždavinį. Kurios šalies vėliavą gausime, jei sudėsime Danijos ir Suomijos vėliavas?

- A. Islandijos
- B. Jungtinės Karalystės
- C. Norvegijos
- D. Švedijos



16. Kuriems ledyninės kilmės ežerams būdingi šie požymiai: gilūs, stačiašlaičiai, panašūs į upes?

- A. Dubakloniniam**
- B. Ledo guolio**
- C. Termokarstiniam**
- D. Užtvenktiniam**



17. Kas suformavo šias reljefo formas?

- A. Ledyno veikla
- B. Vandens veikla
- C. Vėjo veikla
- D. Žmogaus veikla



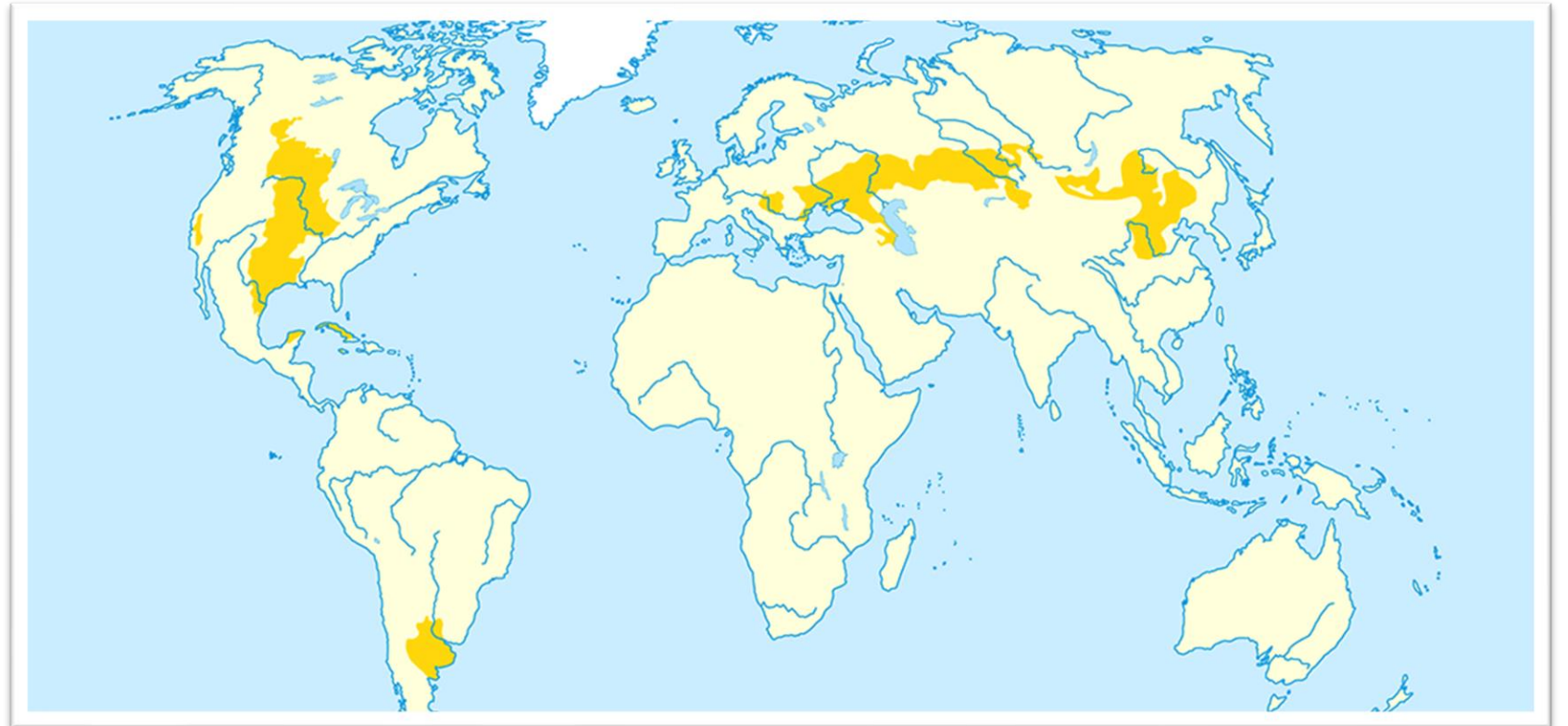
18. Kuriame atsakyme teisingai pateiktas lygiagrečių apibūdinimas?

- A. Skirtingo ilgio, atstumas tarp linijų mažėja artėjant prie ašigalių
- B. Skirtingo ilgio, eina per Šiaurės ir Pietų ašigalius, vienodai nutolę viena nuo kitos
- C. Skirtingo ilgio, lygiagretūs su pusiauju apskritimai, vienodai nutolę vienas nuo kito**
- D. Vienodai nutolę vienas nuo kito, lygiagretūs su pradiniu dienovidiniu apskritimai



19. Kuri geografinė zona pavaizduota kartoschemoje?

- A. Dykumos
- B. Pusdykumės
- C. Savanos
- D. Stepės**



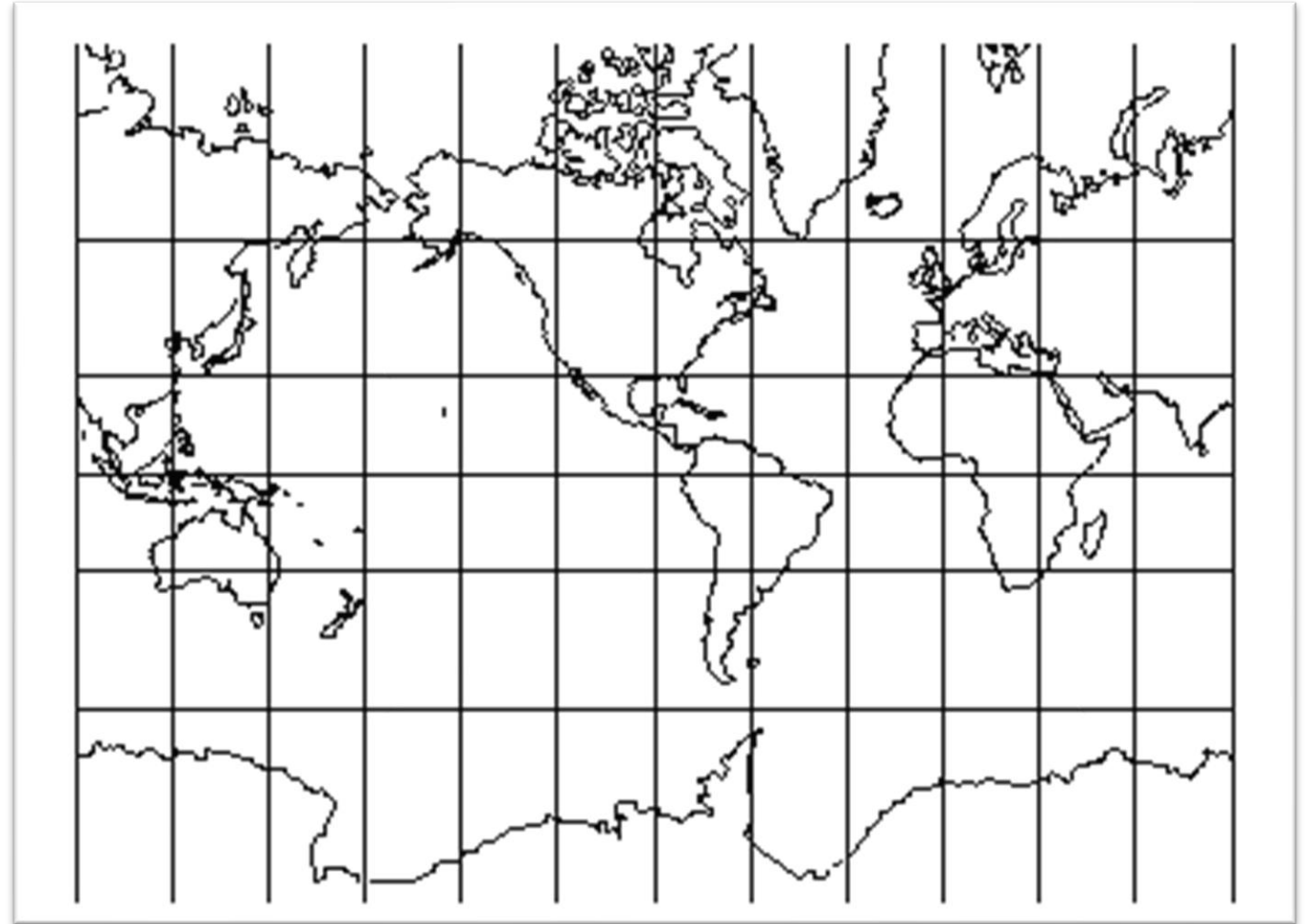
**20. Kurioje šalyje ir kuriuo metų laiku galima stebėti šį
įspūdingą atmosferos reiškinių?**

- A. Antarktidoje, sausio mėn.
- B. Islandijoje, gegužės mėn.
- C. Kanadoje, liepos mėn.
- D. Norvegijoje, gruodžio mėn.**



21. Kurioje platumoje ir ilgumoje yra Madagaskaro sala?

- A. Pietų pl. ir rytų ilg.
- B. Pietų pl. ir vakarų ilg.
- C. Šiaurės pl. ir rytų ilg.
- D. Šiaurės pl. ir vakarų ilg.



22. Kurios iškasenos išgaunamos Šaltiškių karjere?

- A. Dolomitas
- B. Klintis
- C. Molis**
- D. Sapropelis



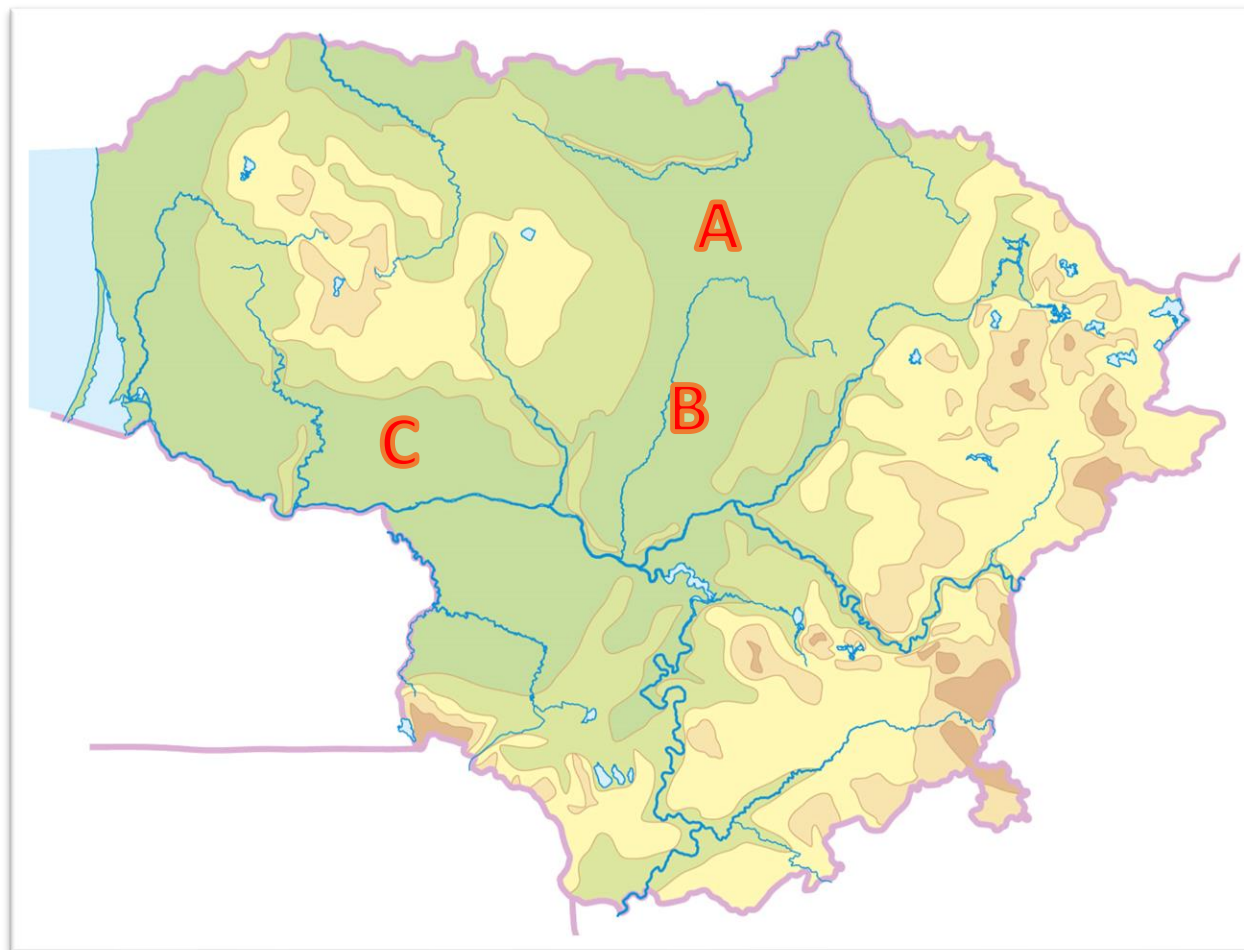
23. Nuotraukoje matomas tam tikras kranto tipas. Kurios spalvos sutartiniu ženklu jis pažymėtas žemėlapyje?

- A. Oranžinės
- B. Mėlynos
- C. Raudonos
- D. Žalios



24. Pasirink atsakymą, kuriame eilės tvarka įvardytos žemėlapyje raidėmis A–C pažymėtos Lietuvos žemumos.

- A. Mūšos-Nemunėlio, Nevėžio, Karšuvos
- B. Pajūrio, Karšuvos, Žiemgalos
- C. Ventos vidurupio, Mūšos-Nemunėlio, Karšuvos
- D. Žiemgalos, Nevėžio, Užnemunės



**25. Tai oficialios ceremonijos akimirka, kai imperatorius Naruhito paskelbė įžengęs į Chrizantemų sostą.
Kurioje valstybėje vyko ši senovinio Chrizantemų sosto perėmimo ceremonija?**

- A. Japonijoje**
- B. Filipinuose
- C. Kambodžoje
- D. Malaizijoje



26. Kas vaizduojama šiame Baltijos jūros žemėlapyje?

- A. Gylis
- B. Druskingumas**
- C. Temperatūra
- D. Užterštumas



27. Kurie trys vienas greta kito esantys ežerai matomi šioje nuotraukoje iš oro?

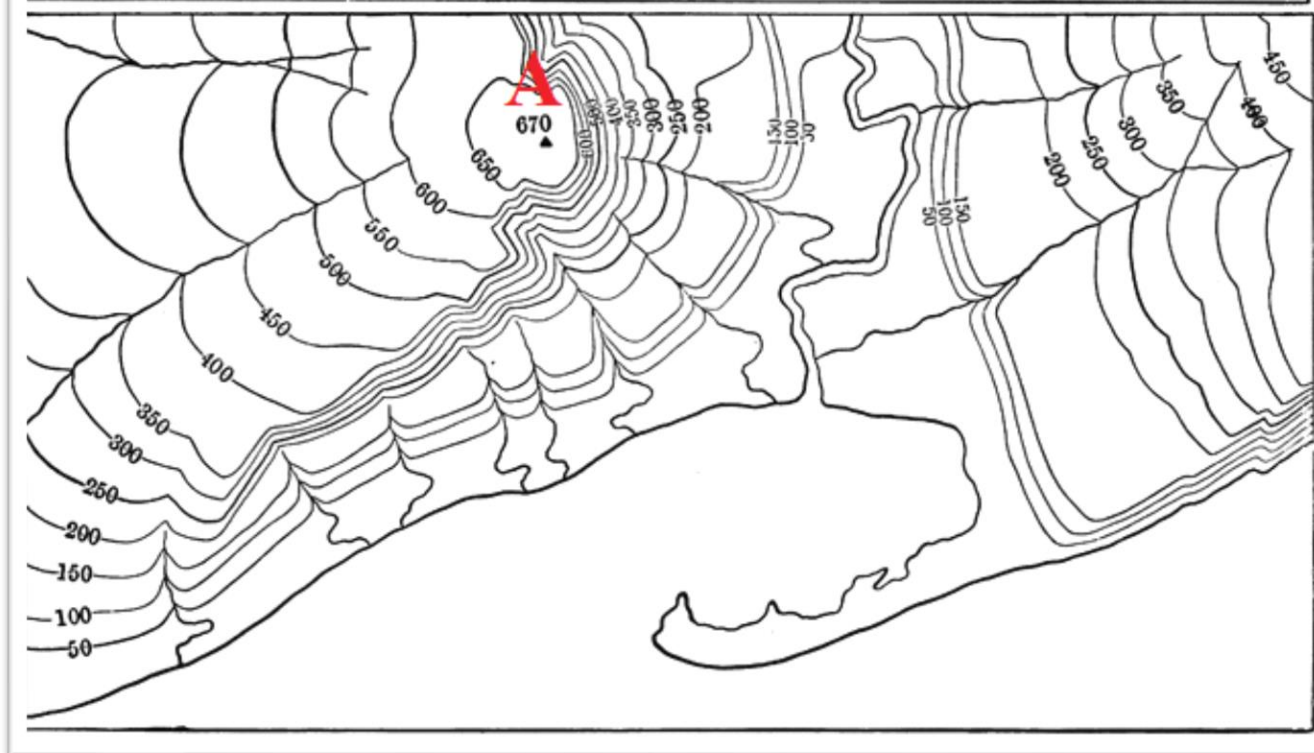
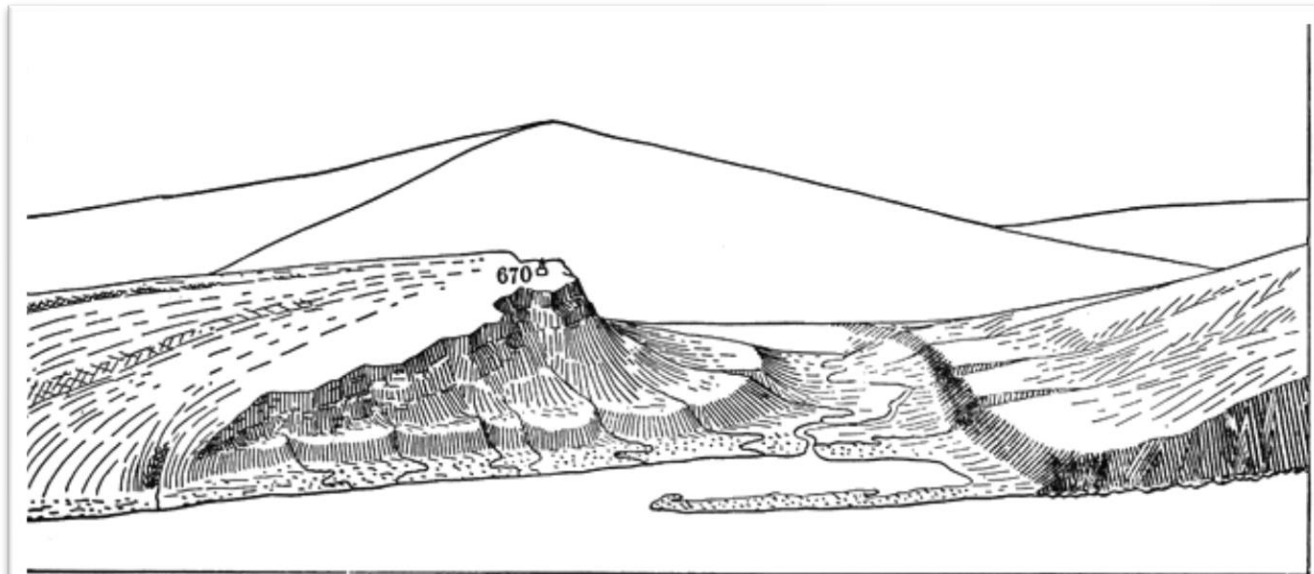
- A. Asalnai, Dringis, Lūšiai
- B. Asveja, Sartai, Tauragnas
- C. Baltieji Lakajai, Juodieji Lakajai, Siesartis
- D. Dusia, Metelys, Obelija**



28. A kalvos rytinis šlaitas pavaizduotas vingiuotomis horizontalėmis.

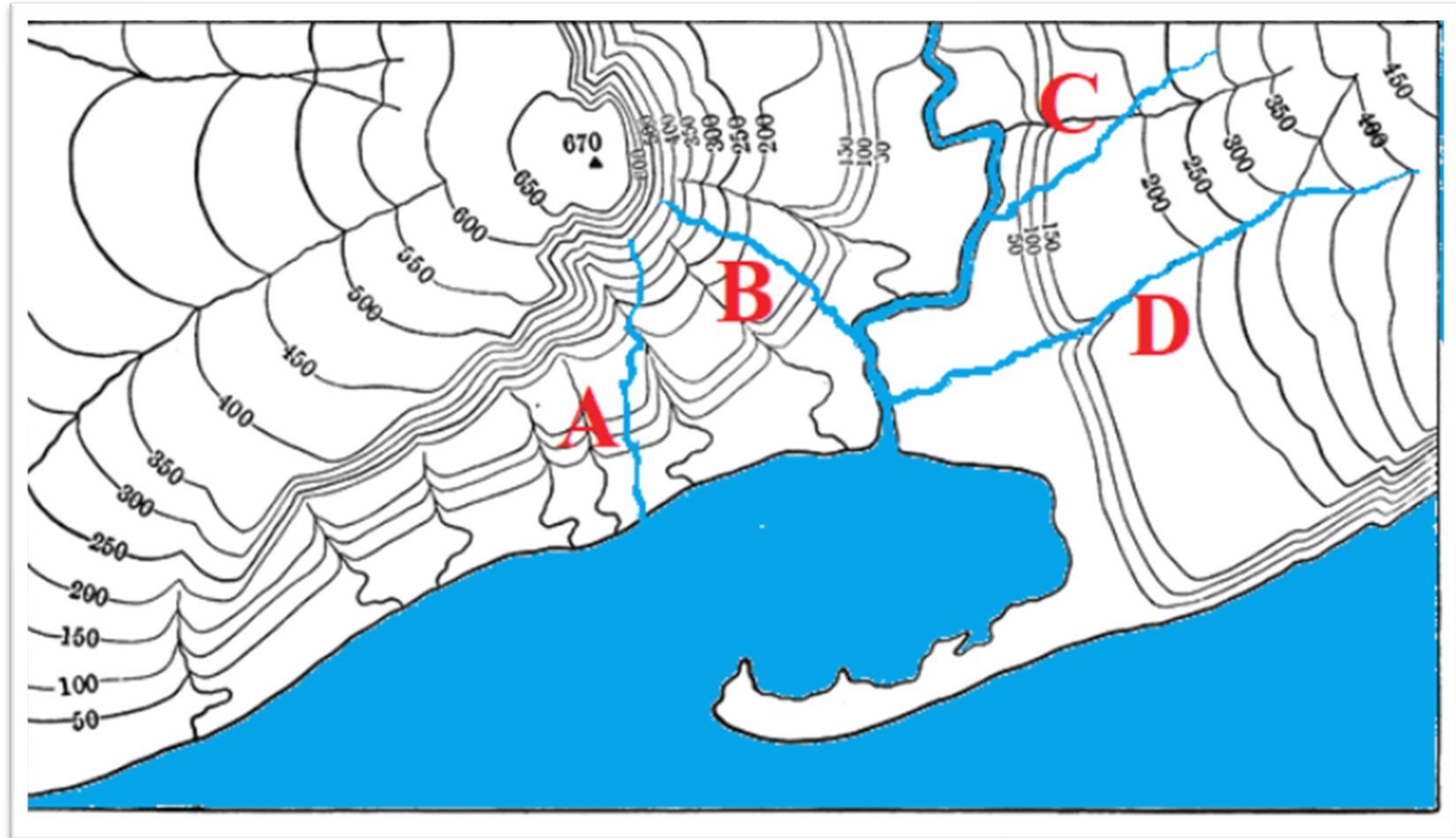
Koks procesas lėmė tokią šlaito formą?

- A. Ledyno veikla
- B. Stipraus vėjo veikla
- C. Vandens erozija**
- D. Žmogaus ūkinė veikla



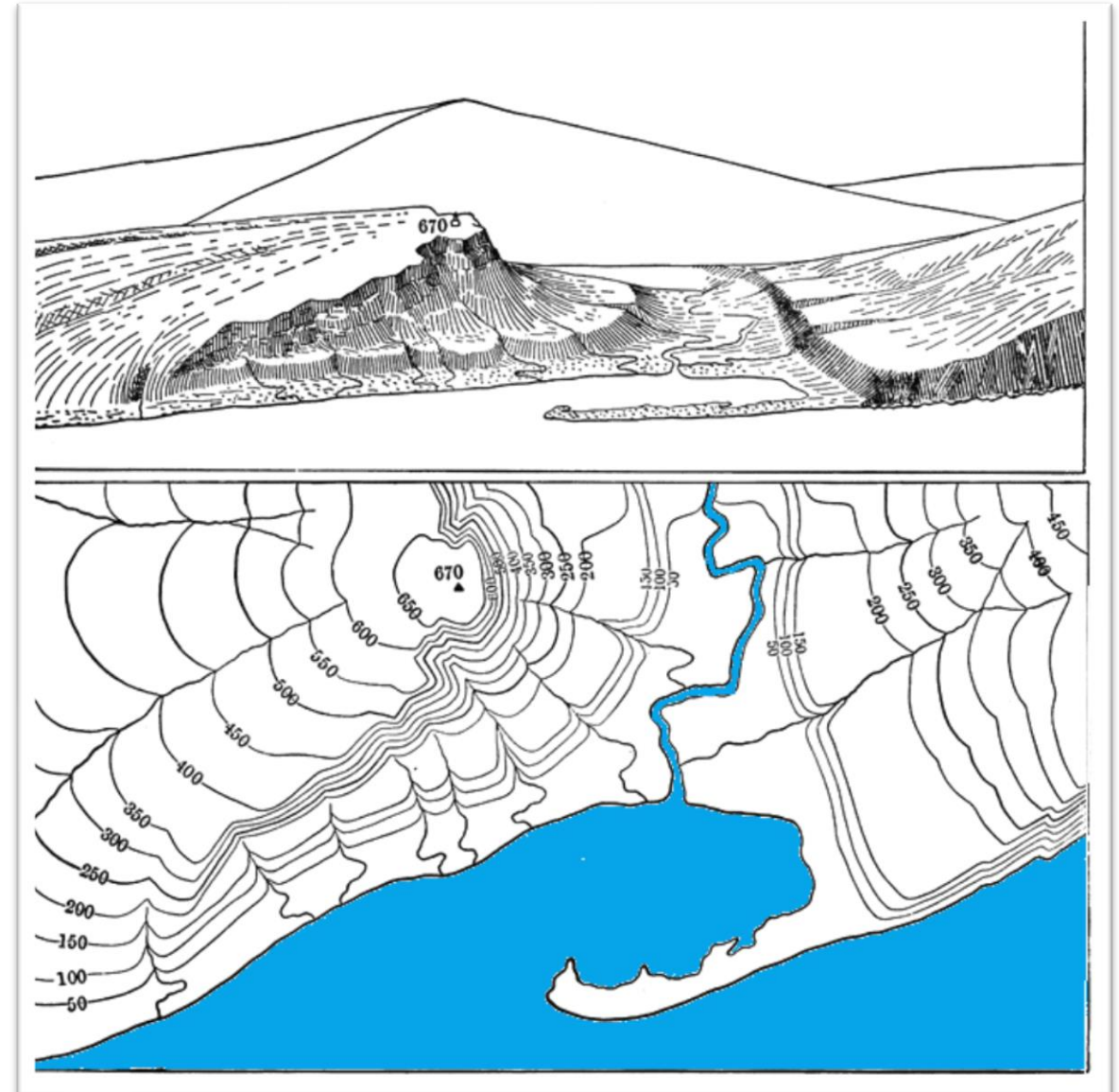
29. Kuriuo atveju – A, B, C ar D raide pažymėta tikroji upės vaga?

- A.
- B.
- C.
- D.



30. Kuris teiginys teisingas apie topografiniame plane matomos nerijos susiformavimą?

- A. Tai buvusios sausumos ruožas
- B. Tai dirbtinės kilmės sausuma, skirta išoriniam uostui statyti
- C. Tai priekrantės srovės akumuliacinės veiklos rezultatas**
- D. Tai upės sąnašų suklostyta sekluma

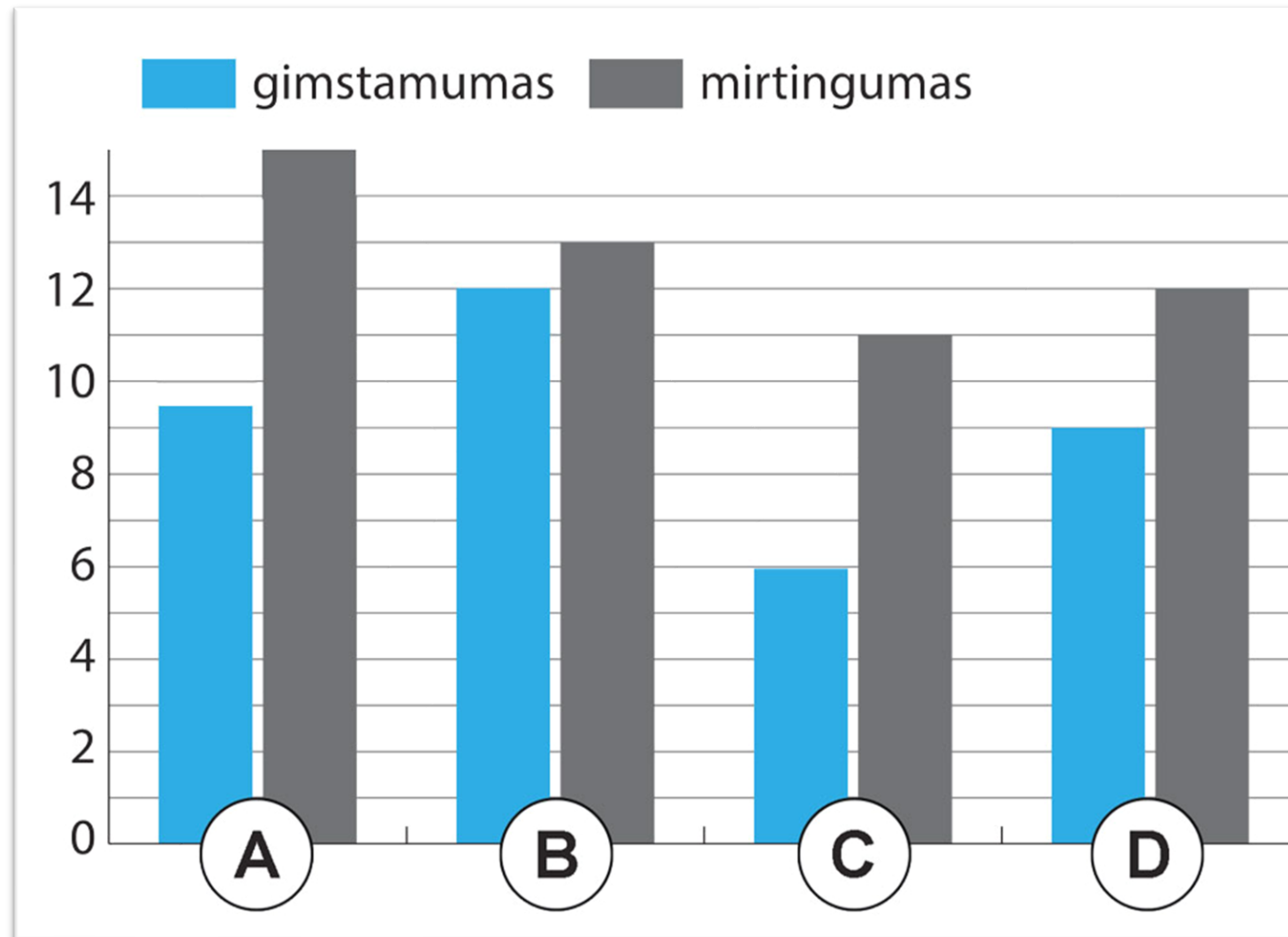


Užduotys 10 klasei

2020 m. geografijos olimpiada












1. Kurie stulpeliai atitinka Lietuvos pastarųjų metų demografinius rodiklius?



2. Sąrašė pateiktos šalys pagal salų skaičių.

Kuri šalis turėtų būti 4 vietoje?

- A. Danija
- B. Estija
- C. Kanada**
- D. Malaizija

1		Švedija	221,800
2		Suomija	188,000
3		Norvegija	55,000
4	?		52,455
5		Indonezija	17,508
6		Australija	8,222
7		Filipinai	7,107
8		Japonija	6,853
9		Jungtinė Karalystė	6,289
10		Graikija	6,000

3. Europos žemėlapyje matyti didžiausios toje valstybėje kapitalo įmonės logotipas. Kurios įmonės logo turėtų būti Lietuvos kontūre?

- A. Girteka logistik
- B. Maxima LT**
- C. Orlen Lietuva
- D. Sanitex



4. Kurioje šalyje užfiksuota ši anglimis kūrenama elektrinė?

- A. Lietuvoje
- B. Mongolijoje**
- C. Norvegijoje
- D. Paragvajuje



5. Kuris plačiai pasaulyje paplitęs produktas yra „kaltas“ dėl pusiaujo miškų naikinimo Indonezijoje?

- A. Cukranendrių cukrus
- B. Kukurūzai
- C. Palmių aliejus**
- D. Sojų pupelės



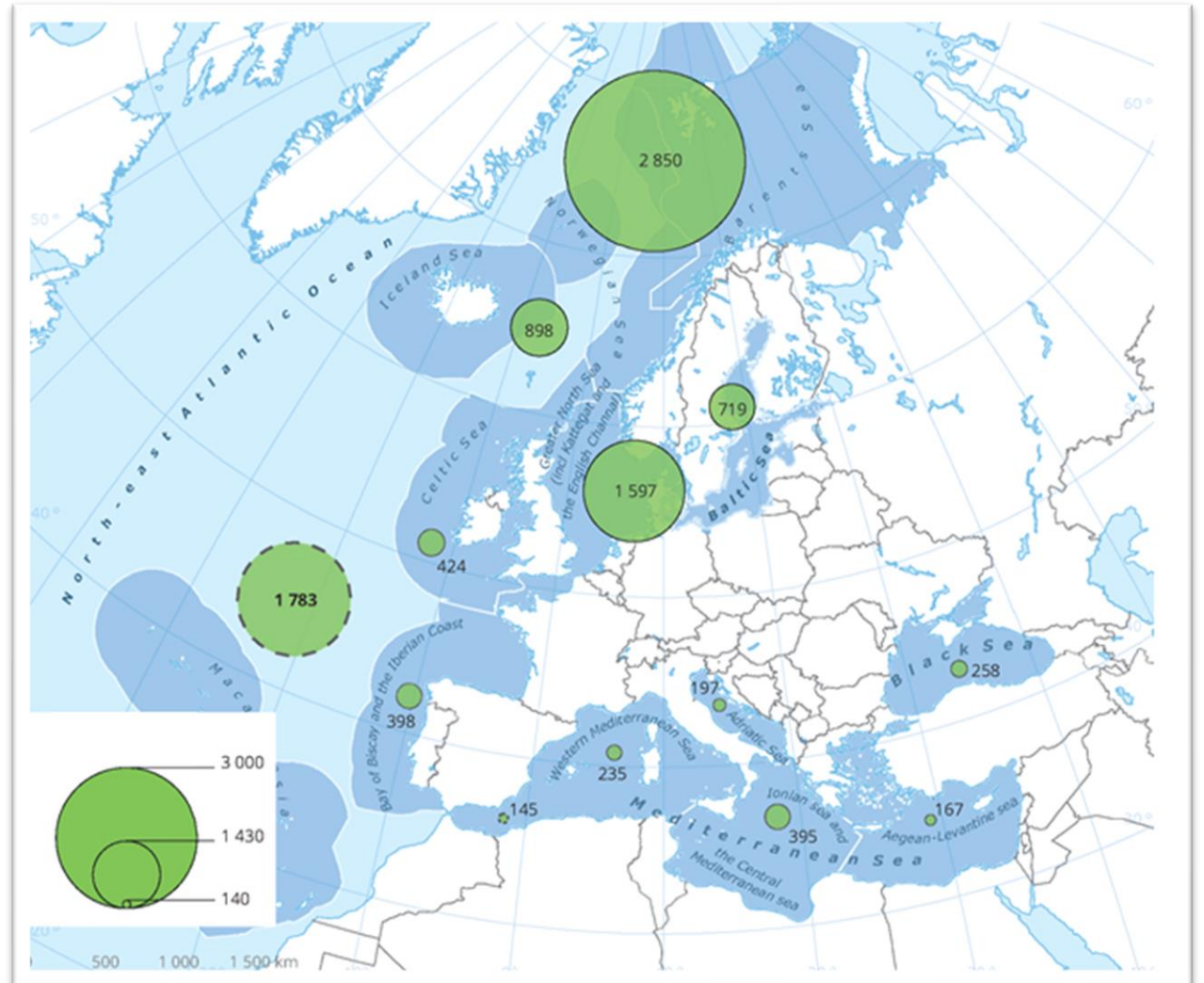
6. Kuri žemės ūkio kultūra matoma nuotraukoje?

- A. Avižos
- B. Kviečiai
- C. Ryžiai**
- D. Sorgai



7. Ką parodo žaliuose skrituliuose ar greta jų parašyti skaičiai?

- A. Audringų valandų skaičių
- B. Išgaunamos naftos kiekį
- C. Uostų skaičių
- D. Žvejybos laimikių apimtis



8. Kuris planinės ekonomikos požymis matomas nuotraukoje?

- A. Įmonės negali laisvai prekiauti
- B. Ribojamas vartojimas, būdingas deficitas**
- C. Valstybė planuoja gamybos poreikius ir apimtį
- D. Valstybės gamybos priemonių nuosavybė

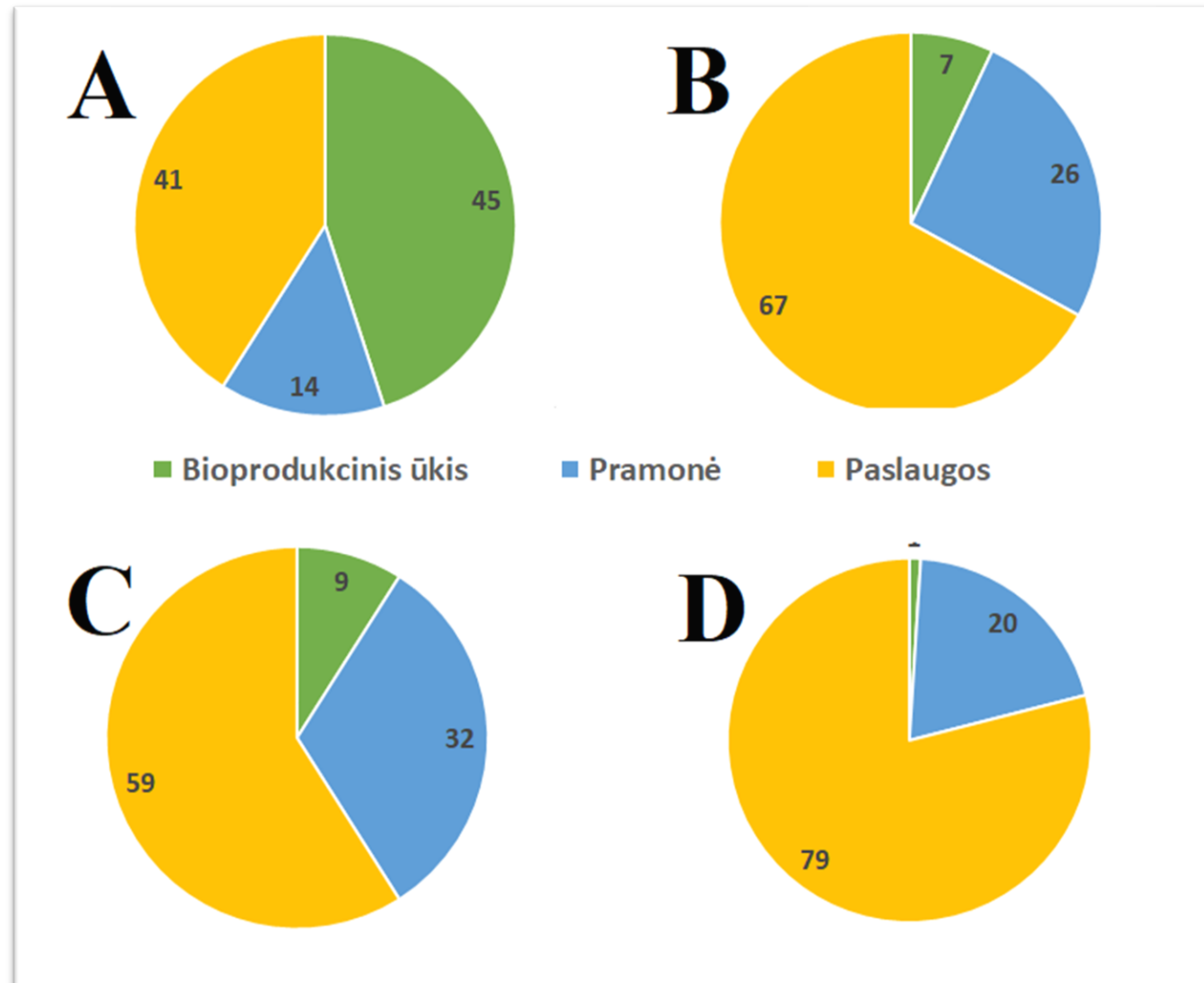


9. Su kuriuo pasaulio ūkio raidos etapu siejama automobilių Ford T gamyba?

- A. Su Didžiaisiais geografiniais atradimais
- B. Su gamybos automatizavimu**
- C. Su kompiuterizacija
- D. Su pramonės perversmu



10. Kurioje diagramoje parodytas žmonių užimtumas ūkio sektoriuose Brazilijoje?



11. Kuri iš paslaugų rūšių yra teikiama tik tikslinei vartotojų grupei – įmonėms?

- A. Buhalterinės apskaitos paslauga
- B. Draudimo paslauga
- C. Medicininės priežiūros paslauga
- D. Transporto paslauga




12. Kodėl mokslo ir technologijų centrai dažniausiai statomi priemiesčių teritorijose?

- A. Į užmiestį krovininiais automobiliais lengviau atgabenti žaliavas
- B. Mokslininkų didesnės pajamos, todėl didesnė jų dalis gyvena priemiesčių zonose
- C. Neužstatyta apylinkių žemė reikalinga galimai plėtrai ateityje**
- D. Tokiuose centruose dirba labai daug žmonių, todėl reikalingos didelės automobilių stovėjimo aikštelės




13. Kurios įmonės potencialiai gali įsikurti mokslo ir technologijų parke?

- A. Biotechnologijų įmonės
- B. Juodosios metalurgijos įmonės
- C. Komunalinių paslaugų įmonės
- D. Mineralinių žaliavų gavybos įmonės



14. Kuri sausumos transporto rūšis yra pati greičiausia?

- A. Automobilių
- B. Geležinkelių
- C. Lėktuvų
- D. Vamzdynų



15. Lesotas, Vatikanas ir San Marinas yra valstybės, kurias iš visų pusių supa tik viena šalis. Vatikaną ir San Mariną supa Italija.

Kas supa Lesotą?

- A. Angola
- B. Botsvana
- C. Pietų Afrikos Respublika**
- D. Zimbabvė



16. Kuri iš žemės ūkio inovacijų taikoma vis plačiau?

- A. Duomenų rinkimas dronais
- B. Irigacinė sistema
- C. Organinių trąšų naudojimas
- D. Žemdirbystė ant namų stogų



17. Kuris veiksnys yra dykumėjimo priežastis?

A. Gyventojų skaičiaus augimas

B. Gyvulių bandų gausinimas

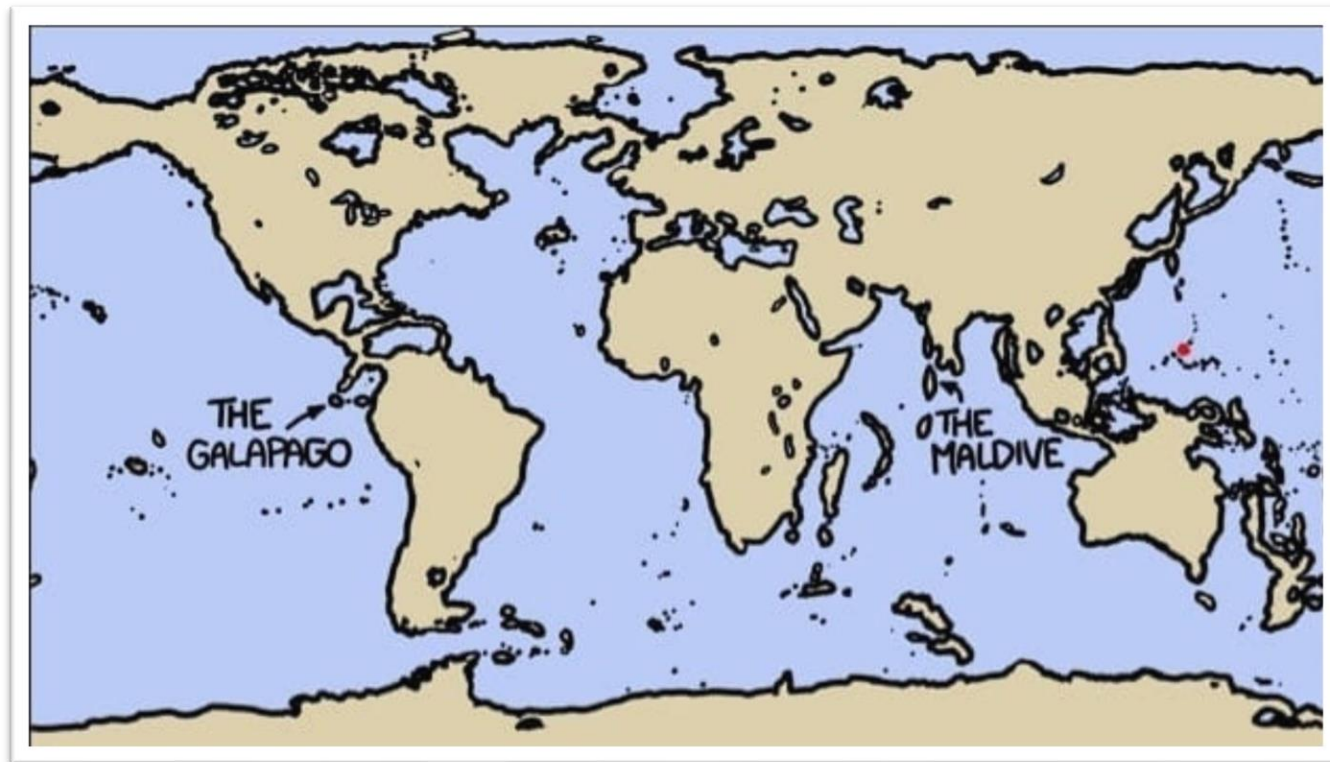
C. Klajoklių kėlimasis į kitas teritorijas

D. Visi išvardyti veiksniai



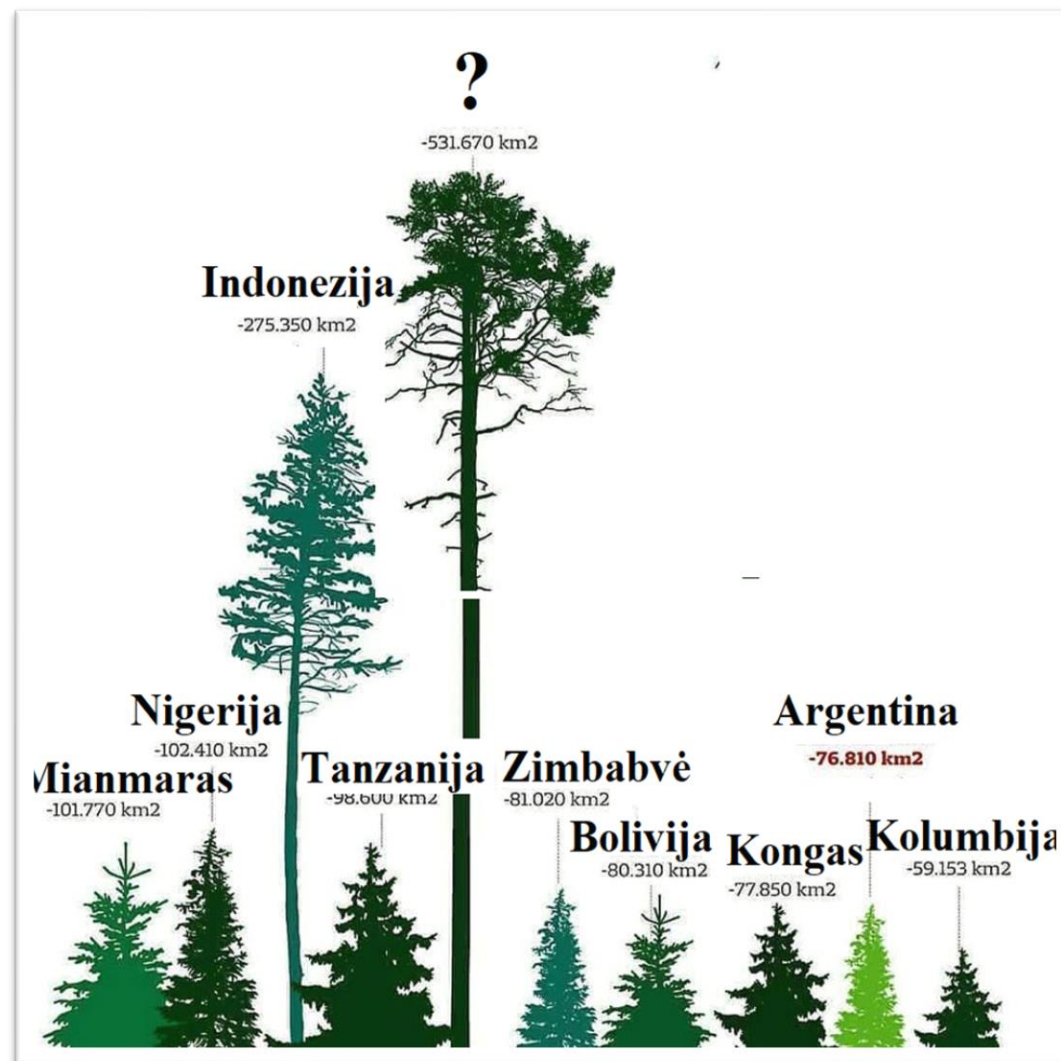
18. Žemėlapyje pasaulio vaizdas vandens lygiui nukritus 2 kilometrus. Kokią klaidą padarė dailininkas?

- A. Žemėlapyje neturi būti Baltijos jūros
- B. Žemėlapyje neturi būti Viduržemio jūros
- C. Žemėlapyje neturėjo susijungti Azija ir Šiaurės Amerika
- D. Žemėlapyje neturėjo susijungti Azija ir Australija



19. Iliustracijoje pateiktas daugiausia miškų per paskutinius 25 metus iškirtusių šalių dešimtukas?
Kuri šalis yra pirmoje vietoje?

- A. Brazilija
- B. Kanada
- C. Malaizija
- D. Rusija



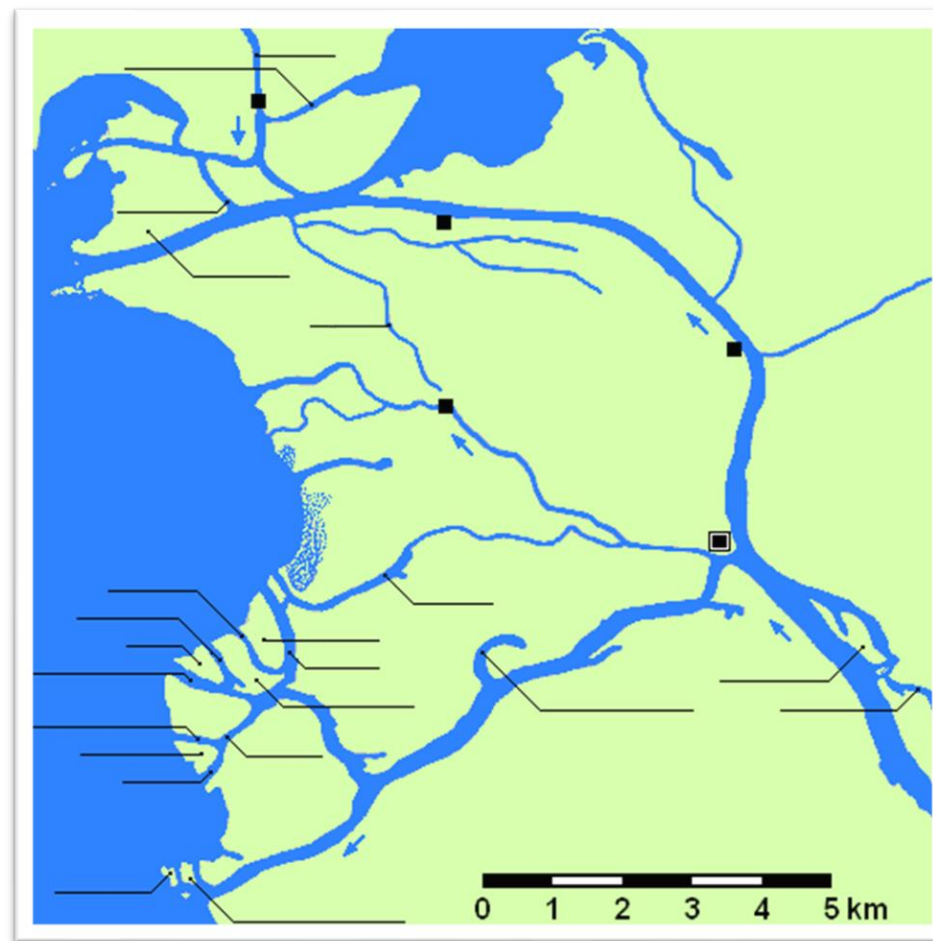
20. Kaip vadinamas toks kaimo gyvenvietės tipas?

- A. Branduolinis
- B. Gatvinis**
- C. Kupetinis
- D. Padrikasis



21. Kuria kryptimi Nemuno deltoje didėja Lietuvos teritorija?

- A. Į pietus
- B. Į rytus
- C. Į šiaurę
- D. Į vakarus**




**22. Kurioje šalyje ir kuriuo metų laiku galima stebėti šį
įspūdingą atmosferos reiškinį?**

- A. Antarktidoje, sausio mėn.
- B. Islandijoje, gegužės mėn.
- C. Kanadoje, liepos mėn.
- D. Norvegijoje, gruodžio mėn.**

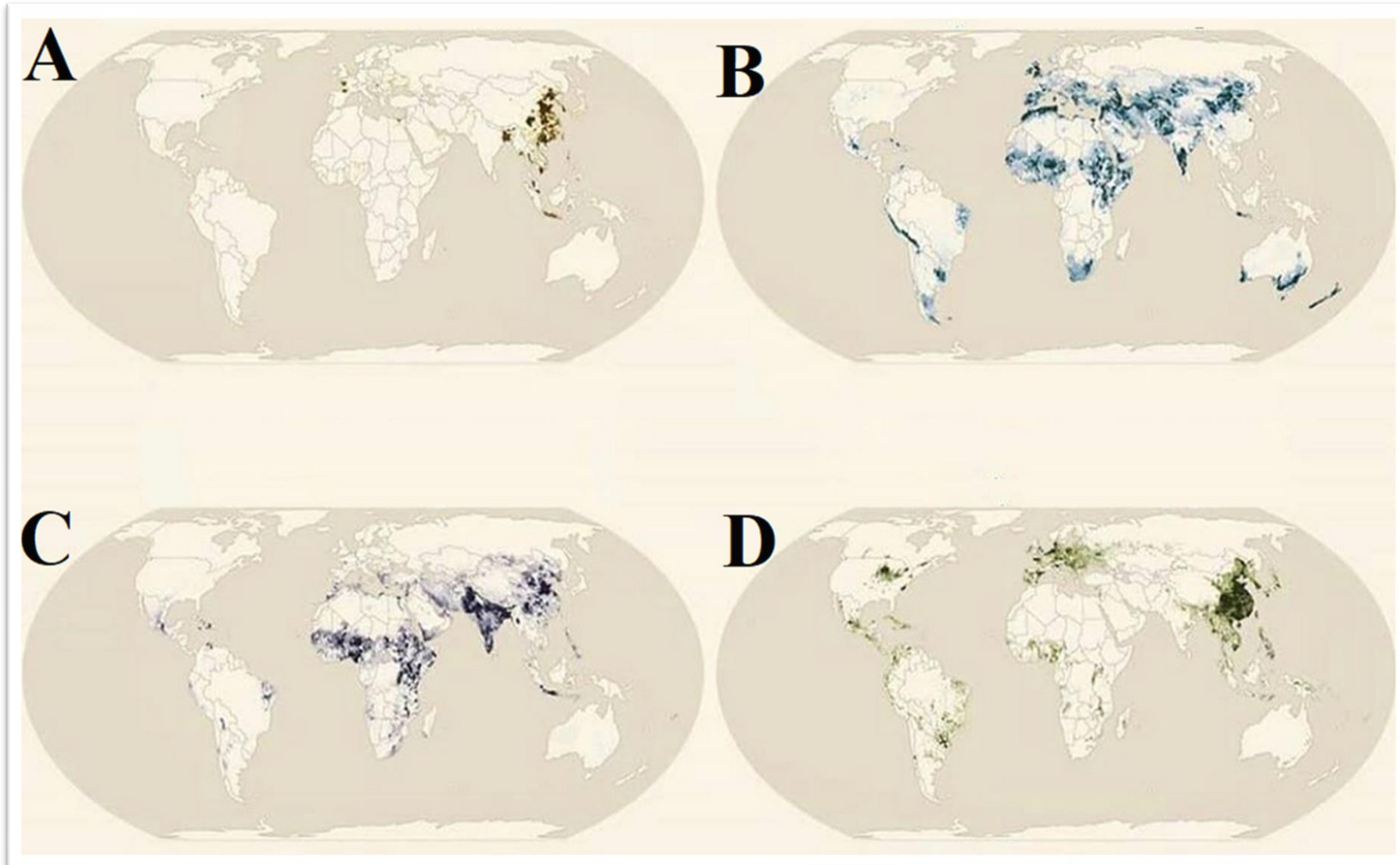


23. Kuriame upės krante stovi raudonai apvestas pastatas?

- A. Dešiniajame
- B. Kairiajame**
- C. Rytiniame
- D. Vakariniam




24. Kuriame žemėlapyje atspindi kiaulienos mėsos produkcijos pasiskirstymas pasaulyje?



25. Iš kurio augalo neįmanoma pagaminti cukraus?



A.



B.



C.



D.

26. Kurioje iš šių valstybių mažiausiai tenka ariamos žemės vienam gyventojui?

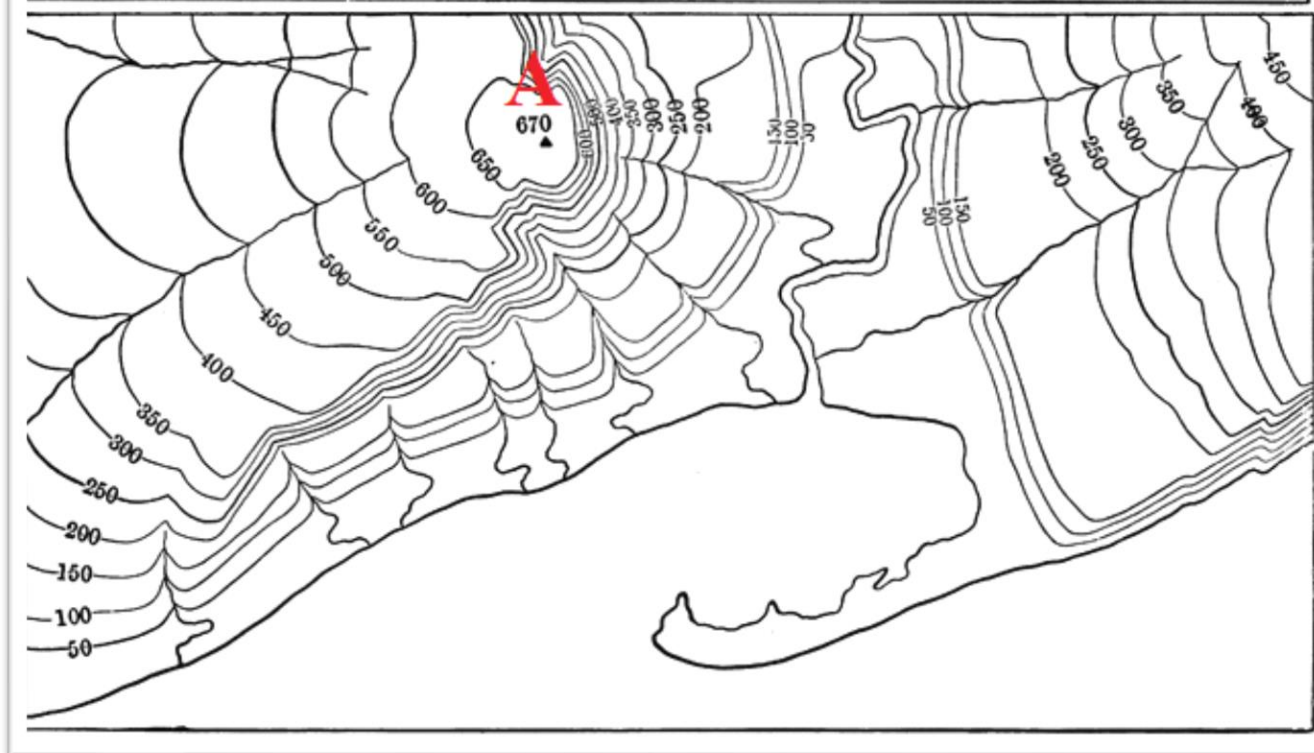
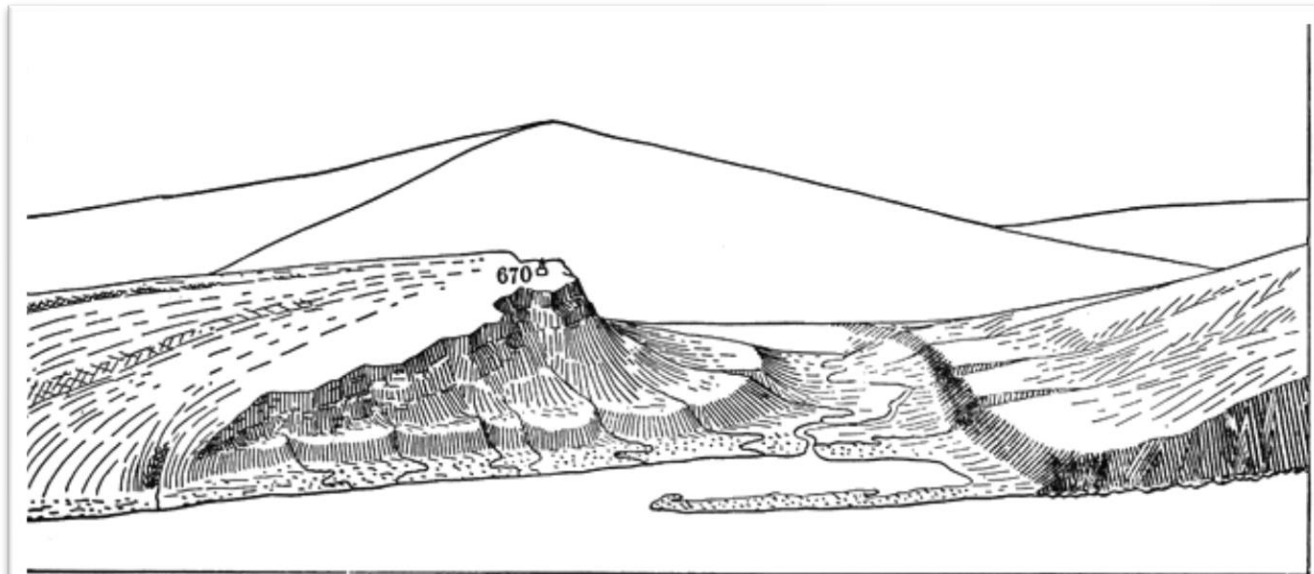
- A. Indonezijoje
- B. Japonijoje**
- C. Kazachstane
- D. Tailande



27. A kalvos rytinis šlaitas pavaizduotas vingiuotomis horizontalėmis.

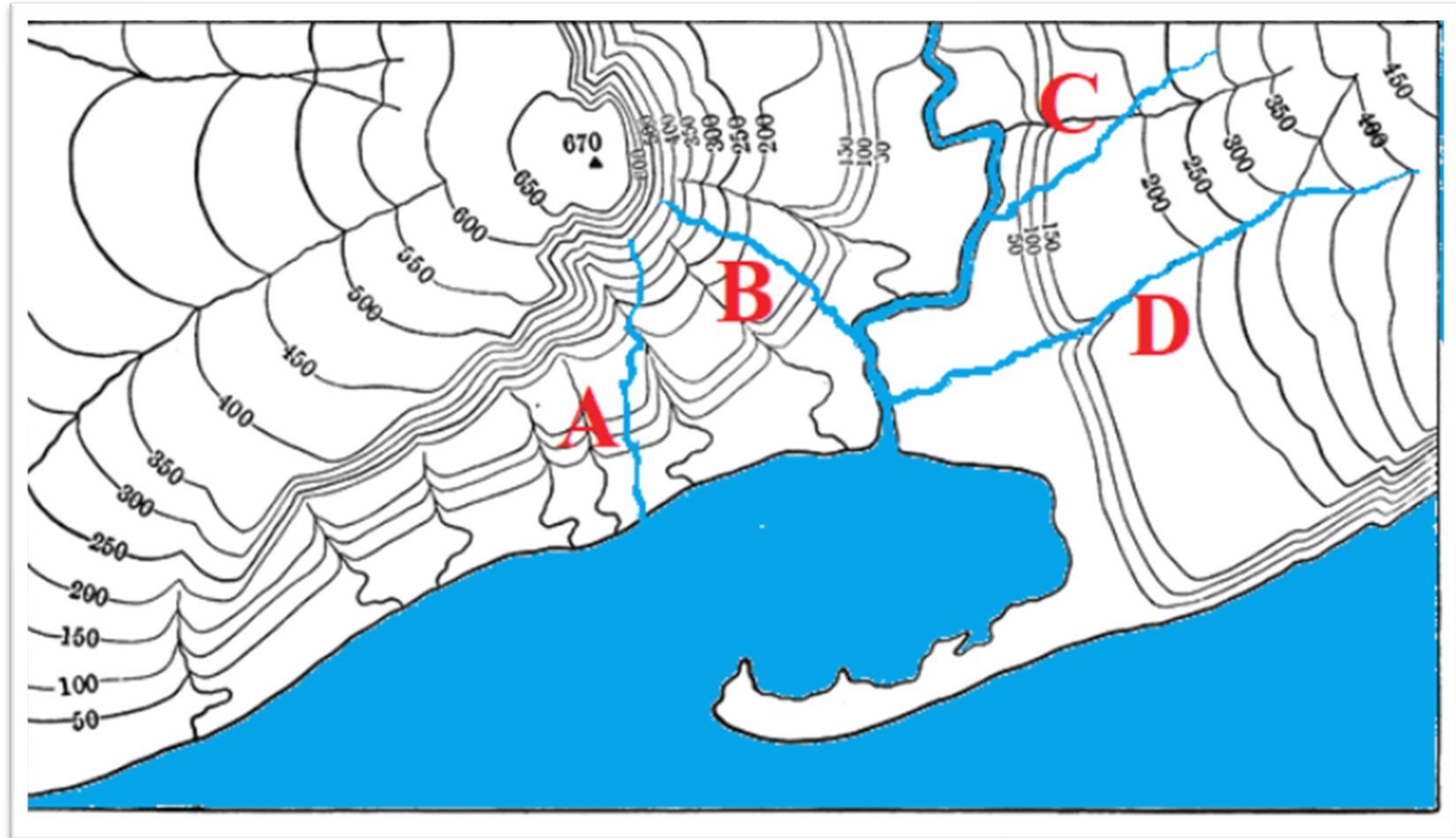
Koks procesas lėmė tokią šlaito formą?

- A. Ledyno veikla
- B. Stipraus vėjo veikla
- C. Vandens erozija**
- D. Žmogaus ūkinė veikla



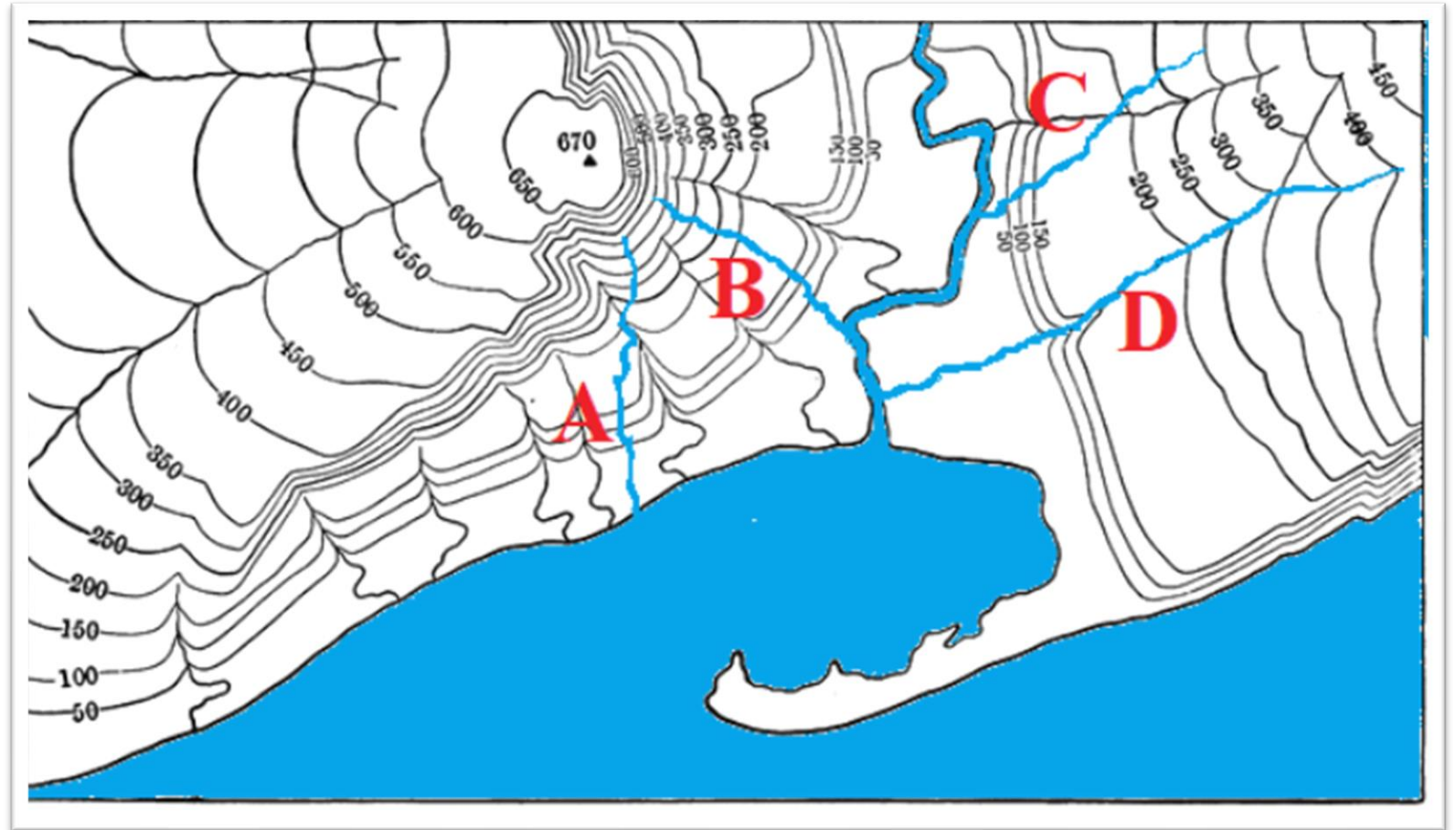
28. Kuriuo atveju – A, B, C ar D raide pažymėta tikroji upės vaga?

- A.
- B.
- C.
- D.



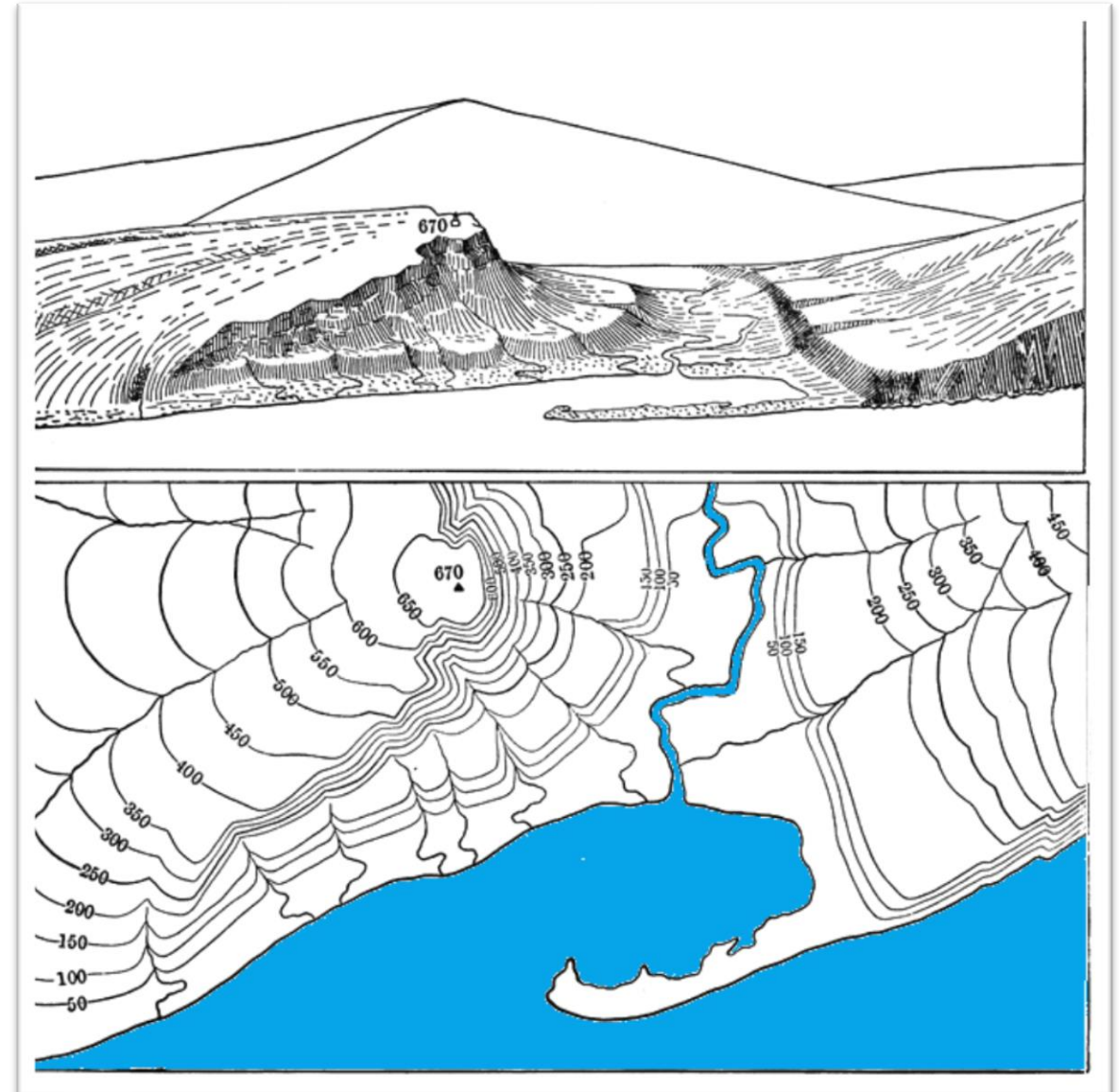
29. Kuris azimutas iš B upės ištakos į A upės žiotis yra tiksliausias?

- A. 15°
- B. 50°
- C. 185°
- D. 275°



30. Kuris teiginys teisingas apie topografiniame plane matomos nerijos susiformavimą?

- A. Tai buvusios sausumos ruožas
- B. Tai dirbtinės kilmės sausuma, skirta išoriniam uostui statyti
- C. Tai priekrantės srovės akumuliacinės veiklos rezultatas**
- D. Tai upės sąnašų suklostyta sekluma



Užduotys 11 klasei

2020 m. geografijos olimpiada



1. Nuotraukoje matomas tam tikras kranto tipas. Kurios spalvos sutartinis ženklas jis pažymėtas žemėlapyje?

- A. Oranžinės
- B. Mėlynos
- C. Raudonos
- D. Žalios



2. Kaip vadinamos šios reljefo formos?

A. Drumlinai

B. Kopos

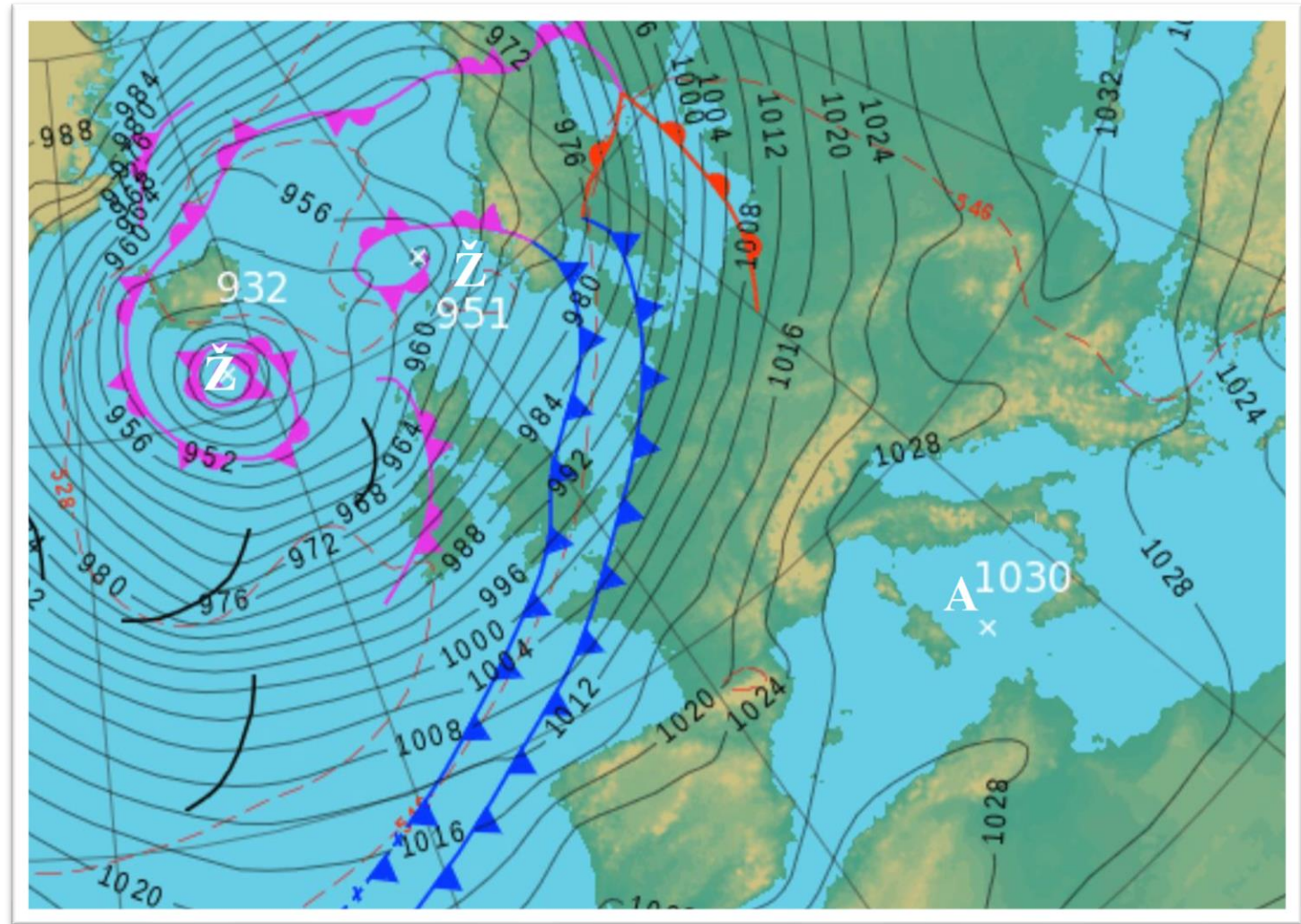
C. Kupstai

D. Ozai



3. Kurioje Europos valstybėje nelyja sinoptiniame žemėlapyje užfiksuotu momentu?

- A. Italijoje
- B. Norvegijoje
- C. Prancūzijoje
- D. Vokietijoje



**4. Kalno viršūnės šlaite per ilgą laiką susidaro ledyno išgremžta taurės pavidalo gili įduba.
Kaip ji vadinama?**

- A. Kara**
- B. Ketera**
- C. Ledyno liežuvis**
- D. Morena**



5. Aplinkos ministerijos duomenimis, apie 50 % azoto į Baltijos jūrą per Lietuvos upių baseinus patenka iš žemės ūkio naudmenų.

Kurioje Lietuvos upėje didžiausia azoto koncentracija?

- A. Minijoje
- B. Merkyje
- C. Nevėžyje
- D. Šventojoje



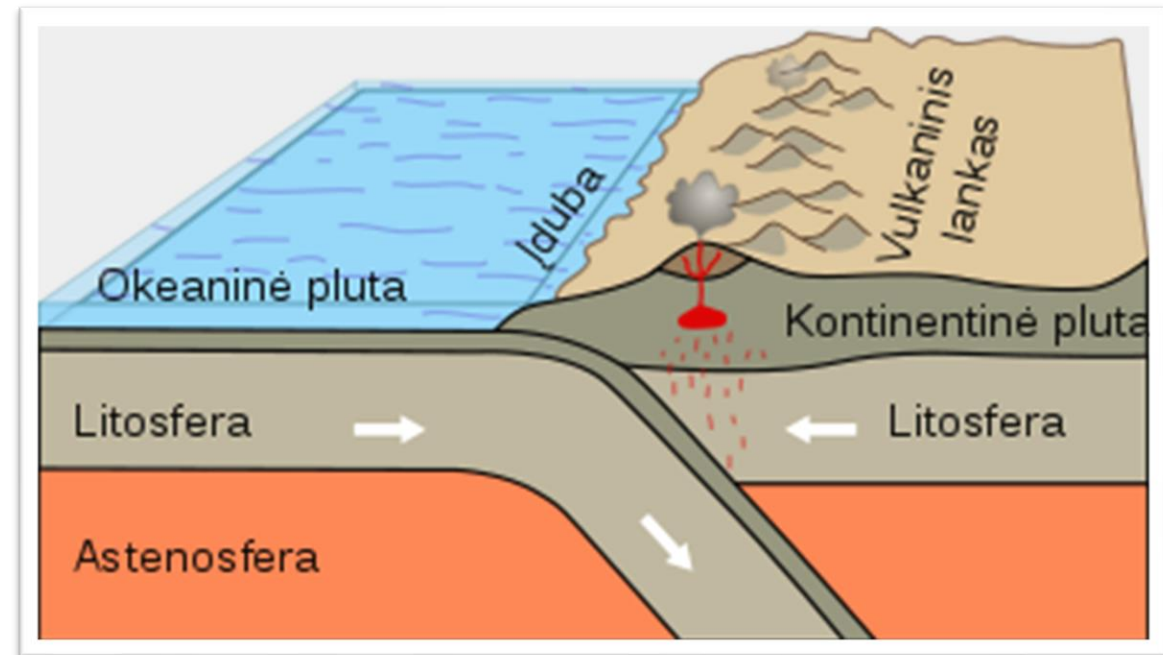
6. Kaip vadinamas nuotraukoje matomas kranto tipas?

- A. Dalmatiškasis
- B. Riasinis
- C. Šcherinis
- D. Vatinis**



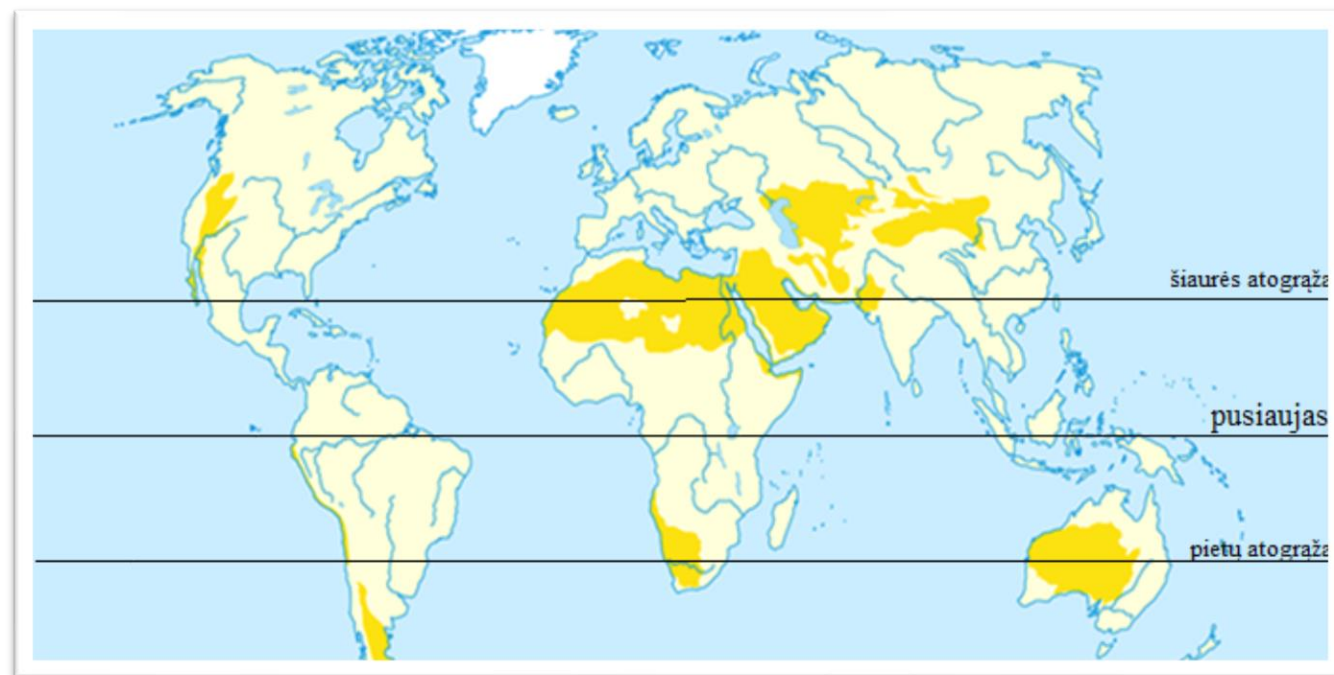
7. Kuriame iš atsakymų išvardyti visi reiškiniai, vykstantys įsiremiančių litosferos plokščių pakraščiuose?

- A. Kyla kalnai, vyksta žemės drebėjimai
- B. Kyla kalnai, veržiasi ugnikalniai, formuojasi lygumos
- C. Kyla kalnai, veržiasi ugnikalniai, vyksta žemės drebėjimai**
- D. Vyksta žemės drebėjimai, veržiasi ugnikalniai





8. Kodėl karščiausios ir sausiausios pasaulio dykumos yra ties atogražomis?

- A. Atslenka karštos oro masės nuo pusiaujo
- B. Vyrauja aukštas slėgis, iškrinta labai mažai kritulių**
- C. Vyrauja aukštas slėgis, pučia vakarų vėjai
- D. Vyrauja žemas slėgis, pučia pasatai



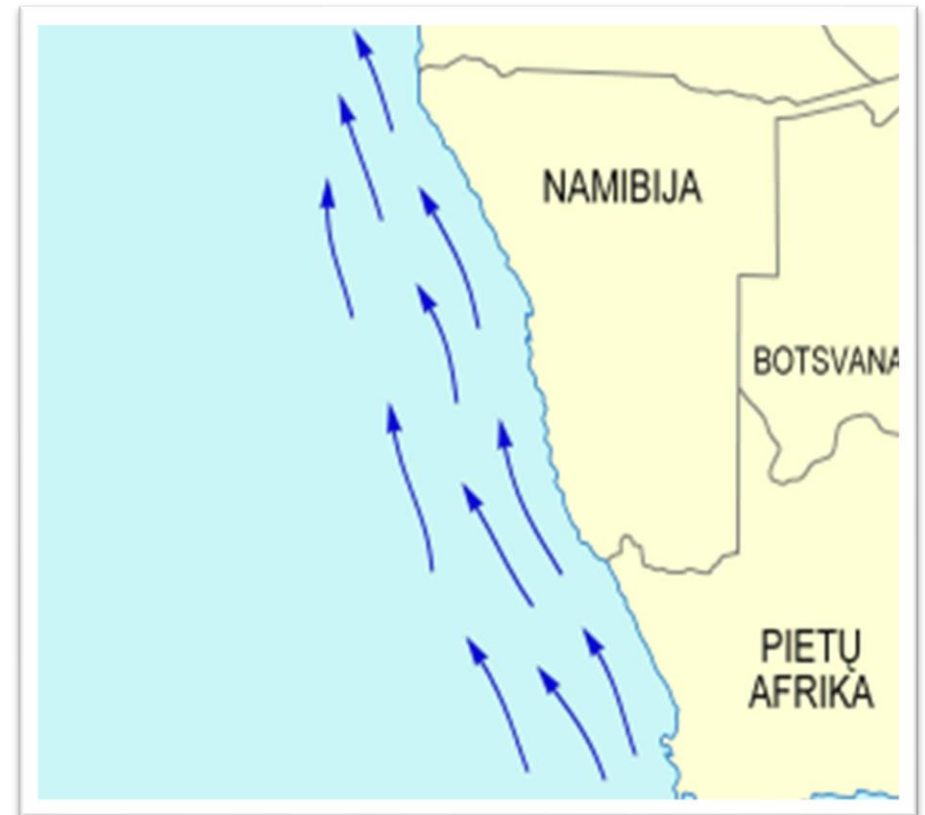
9. Kurių tai garsių pasaulyje ežerų maketai?

- A. Baikalo ir Titikakos
- B. Balatono ir Viktorijos ežero
- C. Niasos ežero ir Mičigano ežero
- D. Tanganikos ežero ir Aukštutinio ežero



10. Kaip vadinama žemėlapyje pažymėta vandenyno srovė ir kokią įtaką ji daro šios Afrikos dalies pakrantės klimatui?

- A. Šaltoji Bengelos srovė lemia dykumų susidarymą šioje pakrantėje
- B. Šaltoji Bengelos srovė lemia didžiulį kritulių kiekį Namibijos pakrantėje
- C. Šaltoji Humbolto srovė sušvelnina klimatą žemyno pakrantėje
- D. Šiltoji Bengelos srovė lemia dykumų susidarymą šioje pakrantėje



11. Kaip vadinama aeronuotraukoje matoma žiotyse išplatėjusi upės vaga?

- A. Delta
- B. Estuarija**
- C. Įlanka
- D. Salpa



12. Žemėlapyje pasaulio vaizdas vandens lygiui nukritus 2 kilometrus. Kokią klaidą padarė dailininkas?

- A. Žemėlapyje neturi būti Baltijos jūros
- B. Žemėlapyje neturi būti Viduržemio jūros
- C. Žemėlapyje neturėjo susijungti Azija ir Šiaurės Amerika
- D. Žemėlapyje neturėjo susijungti Azija ir Australija



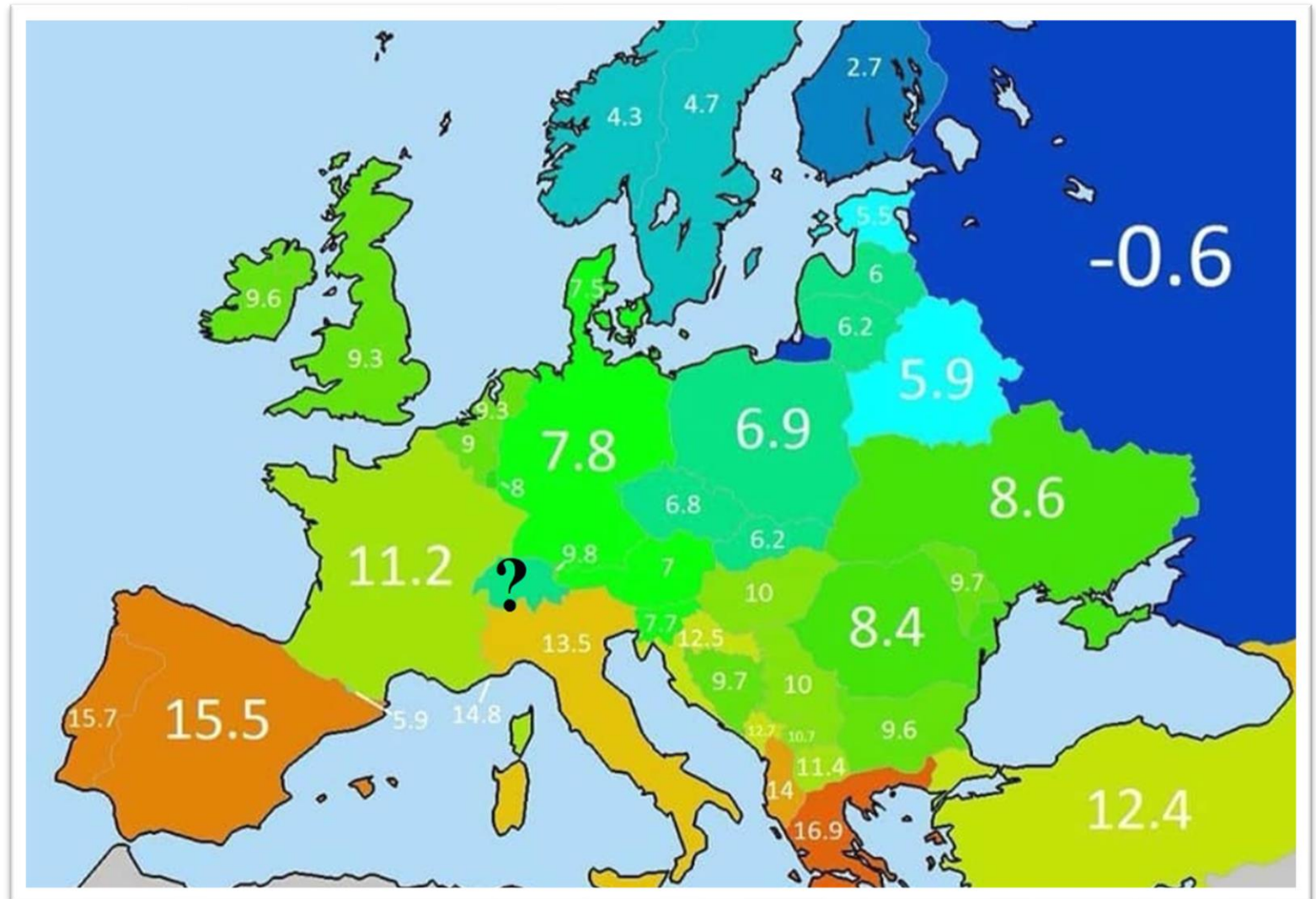
13. Mokslininkai teigia, kad prieš 100 mln. metų Antarktidą dengė tankūs atogražų miškai. Kokios gamtos sąlygos tuo metu vyravo šiame žemyne?

- A. Aukšta oro temperatūra ir didelis kritulių kiekis
- B. Aukšta oro temperatūra ir mažas kritulių kiekis
- C. Žema oro temperatūra ir didelis kritulių kiekis
- D. Žema oro temperatūra ir mažas kritulių kiekis



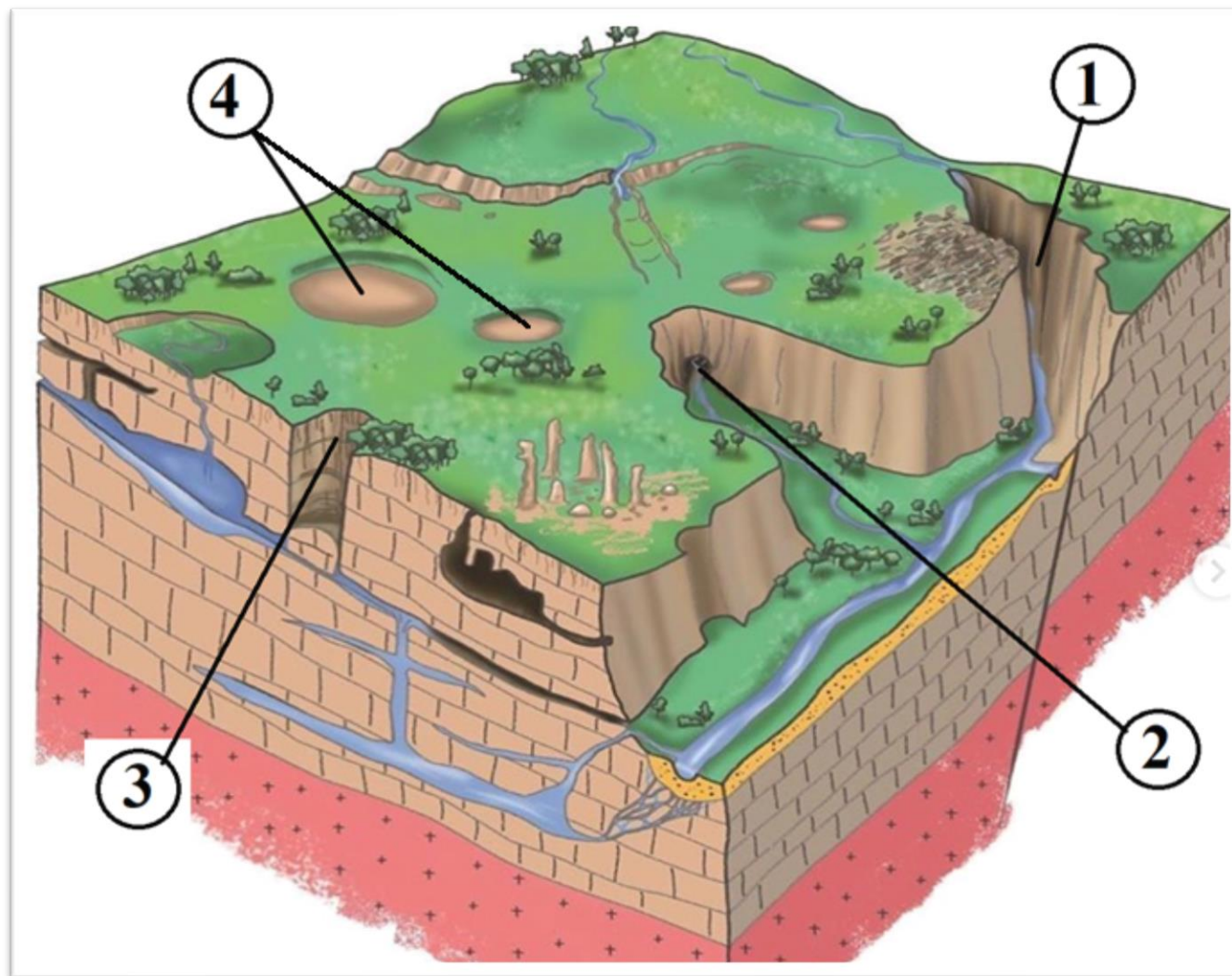
14. Kokia vidutinė oro temperatūra būdinga Šveicarijai?

- A. 6 °C
- B. 10 °C
- C. 12 °C
- D. 14 °C



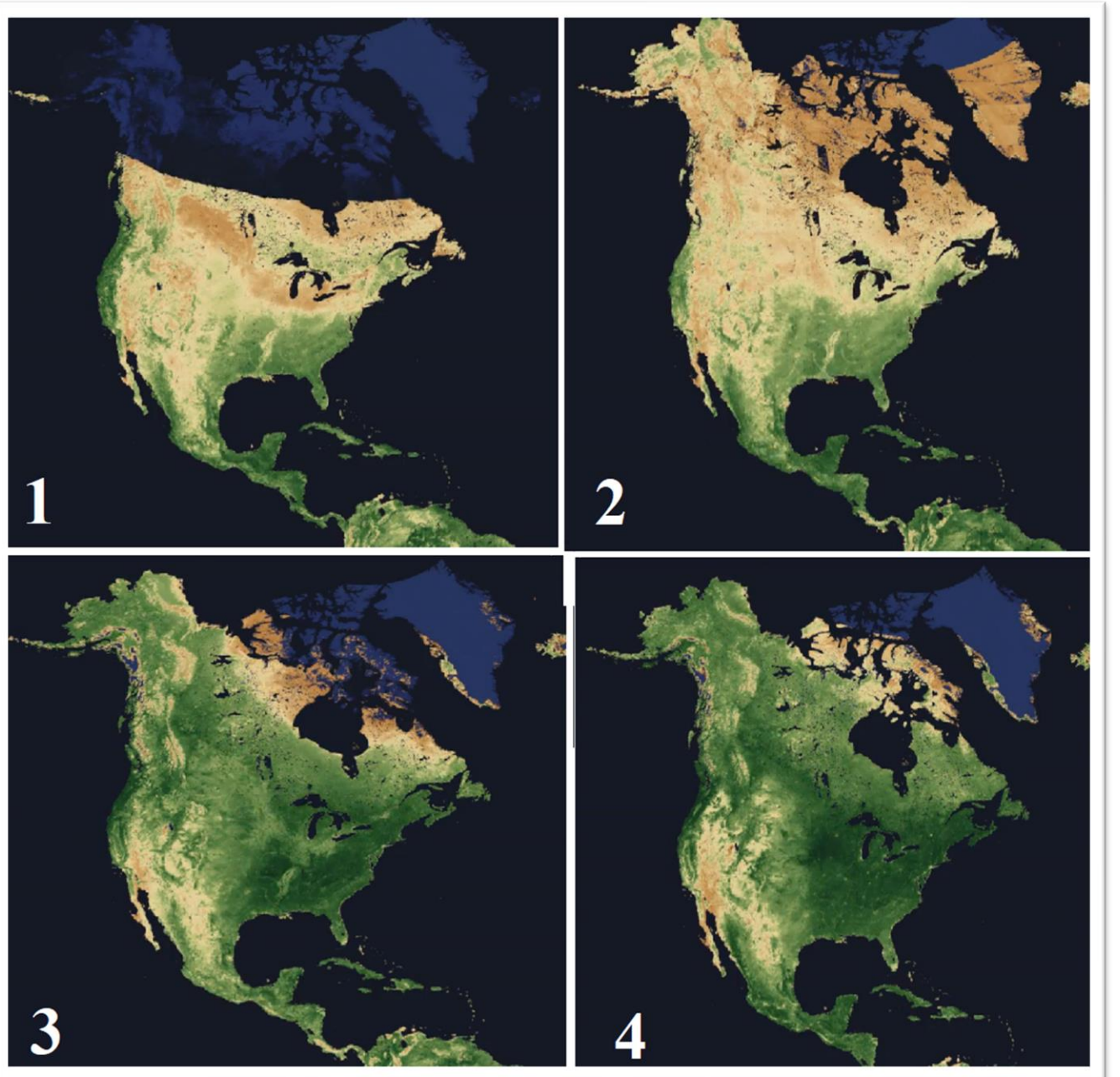
15. Kuris skaičius rodo karstinio reljefo formą – doliną?

- A. 1
- B. 2
- C. 3
- D. 4




16. Kuriame Šiaurės Amerikos žemėlapyje vaizduojama augalų vegetacija rugpjūčio mėnesį?

- A. 1
- B. 2
- C. 3
- D. 4



17. Kuriame upės krante stovi raudonai apvestas pastatas?

- A. Dešiniajame
- B. Kairiajame**
- C. Rytiniame
- D. Vakariniam



18. Kuri asmenybė įnešė svarų indėlį Didžiųjų geografinių atradimų laikotarpiu?

- A. Afredas Vėgeneris
- B. Gerardas Merkatorius**
- C. Roaldas Amundsenas
- D. Žakas Pikaras



19. Kuriame mieste gruodžio mėnesį poliarinės nakties trukmė yra ilgiausia?



- A. Murmanske
- B. Stalbovoy
- C. Poliarinės nakties nėra
- D. Poliarinė naktis visuose miestuose trunka 24 val.**

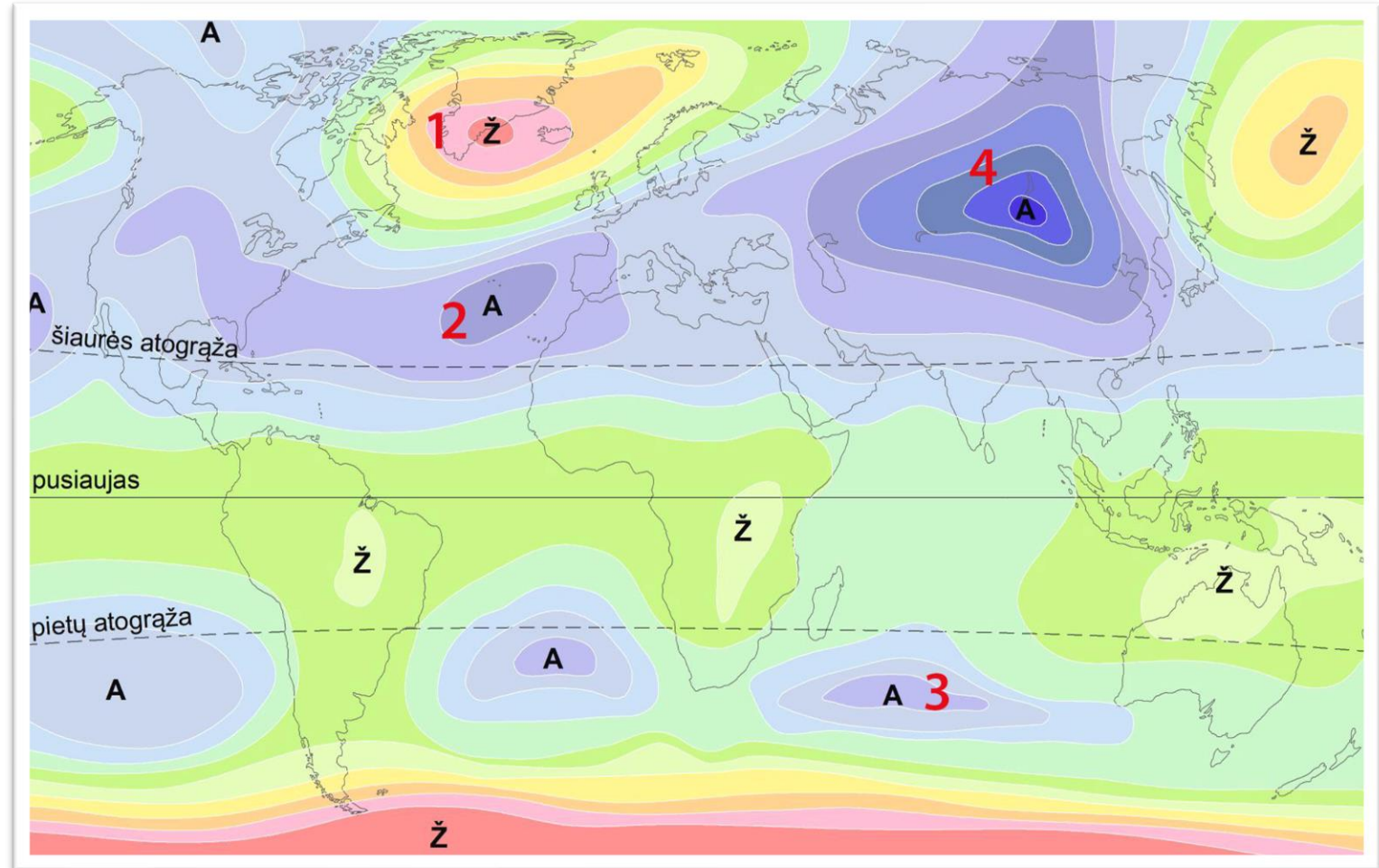
20. Kaip vadinami debesys, iš kurių krinta konvekciniai krituliai?

- A. Kamuoliniai
- B. Kamuoliniai lietaus**
- C. Lietaus sluoksniniai
- D. Plunksniniai




21. Pasaulio žemėlapyje vaizduojamas slėgio centrų pasiskirstymas sausio mėnesį. Kurioje skaičiumi pažymėtoje vietoje liepos mėnesį slėgio pokyčiai bus didžiausi?

- A. 1
- B. 2
- C. 3
- D. 4



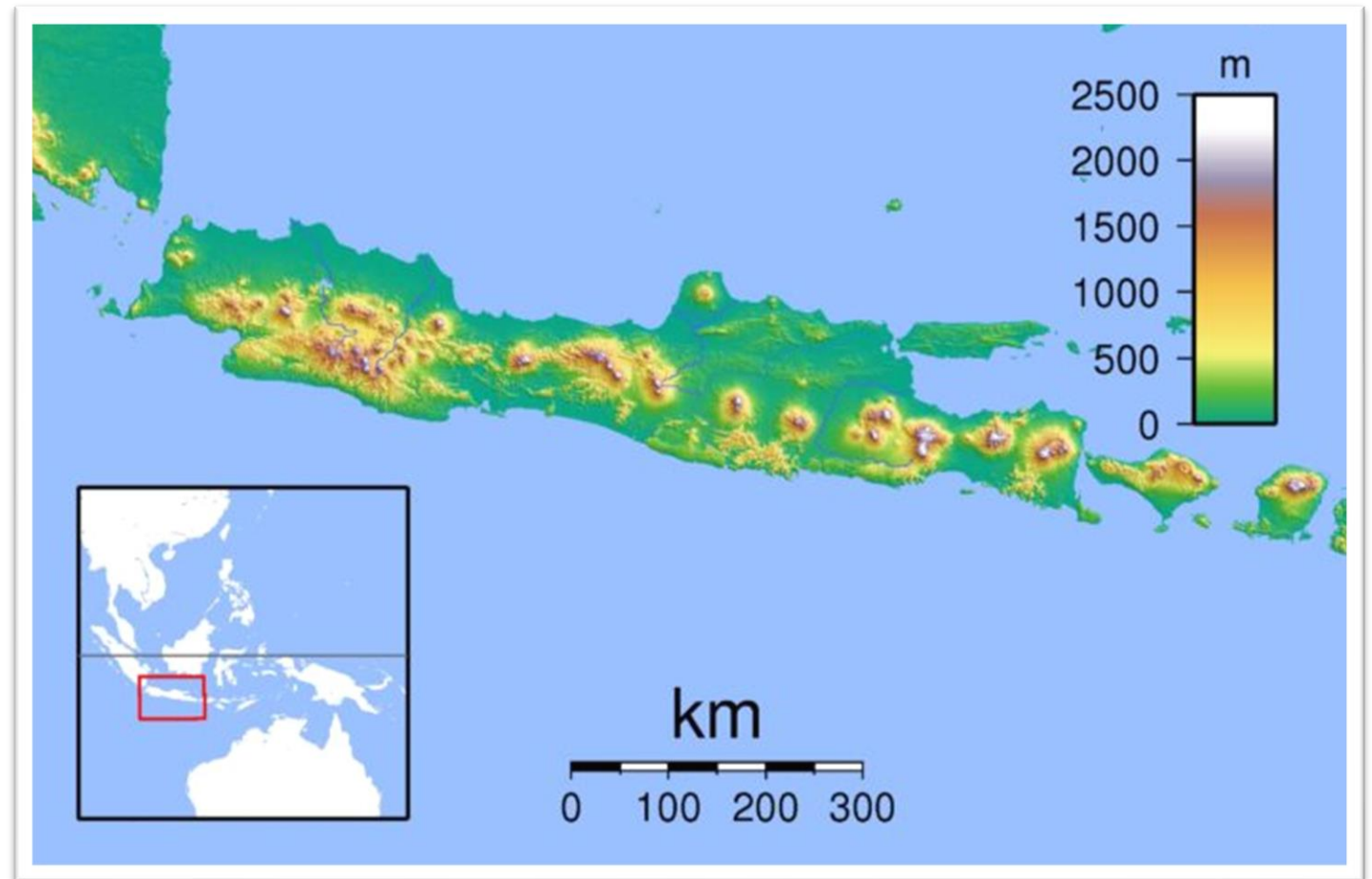
22. Kokios kilmės yra šis geologinis darinys Jungtinėse Amerikos valstijose?

- A. Eolinės
- B. Luistinės
- C. Raukšlinės
- D. Vulkaninės**



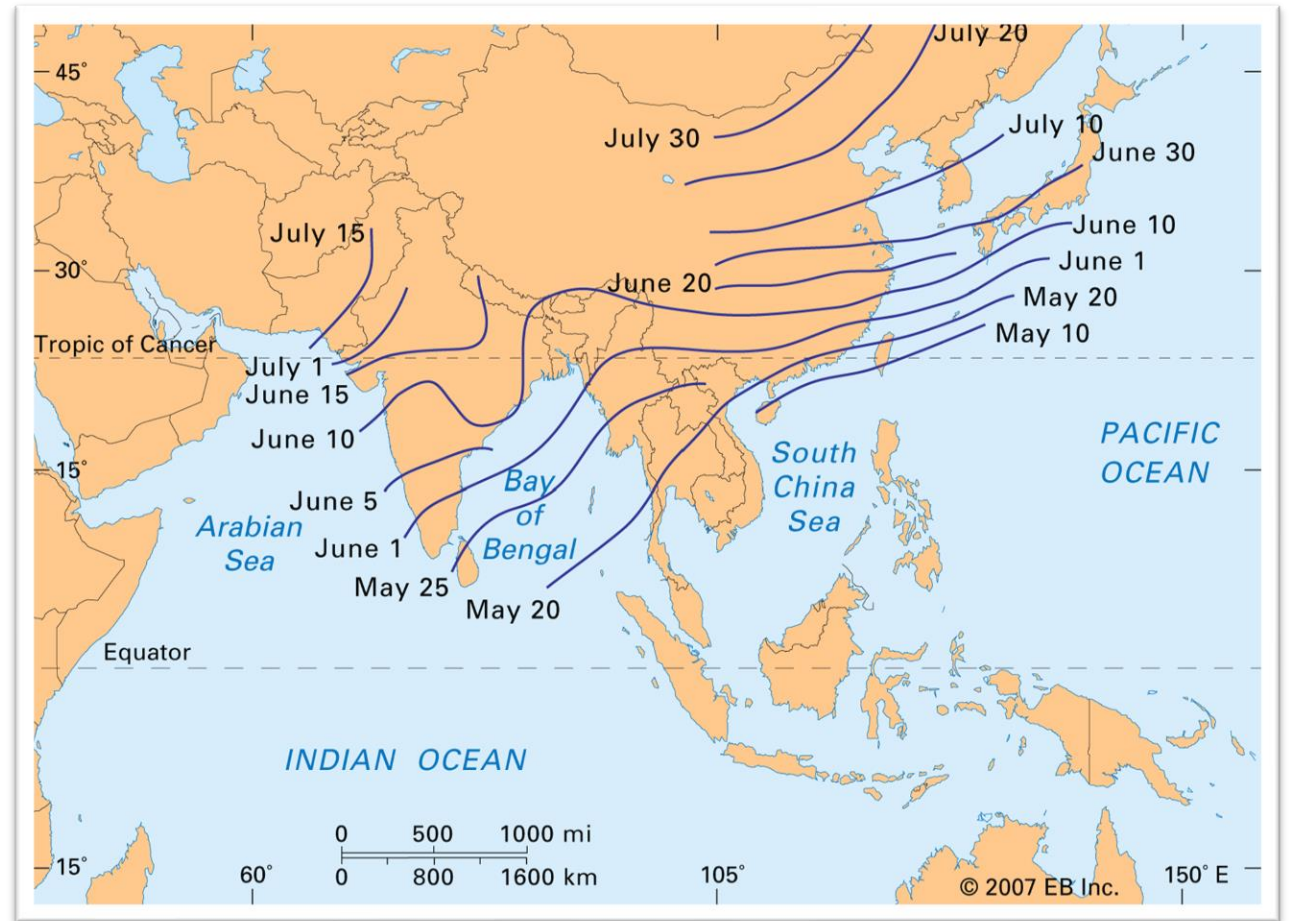
23. Kuris atsakymas, aiškinantis dėsninę ugnikalnių išsidėstymą Javos saloje, yra tiksliausias?

- A. Per salą driekiasi Ramiojo vandenyno Ugnies žiedas
- B. Po šia sala yra didžiulis magmos židinyš
- C. Po šia vulkanine sala yra Indijos-Australijos plokštės pakraštys**
- D. Sala yra dviejų litosferos plokščių pakraštyje



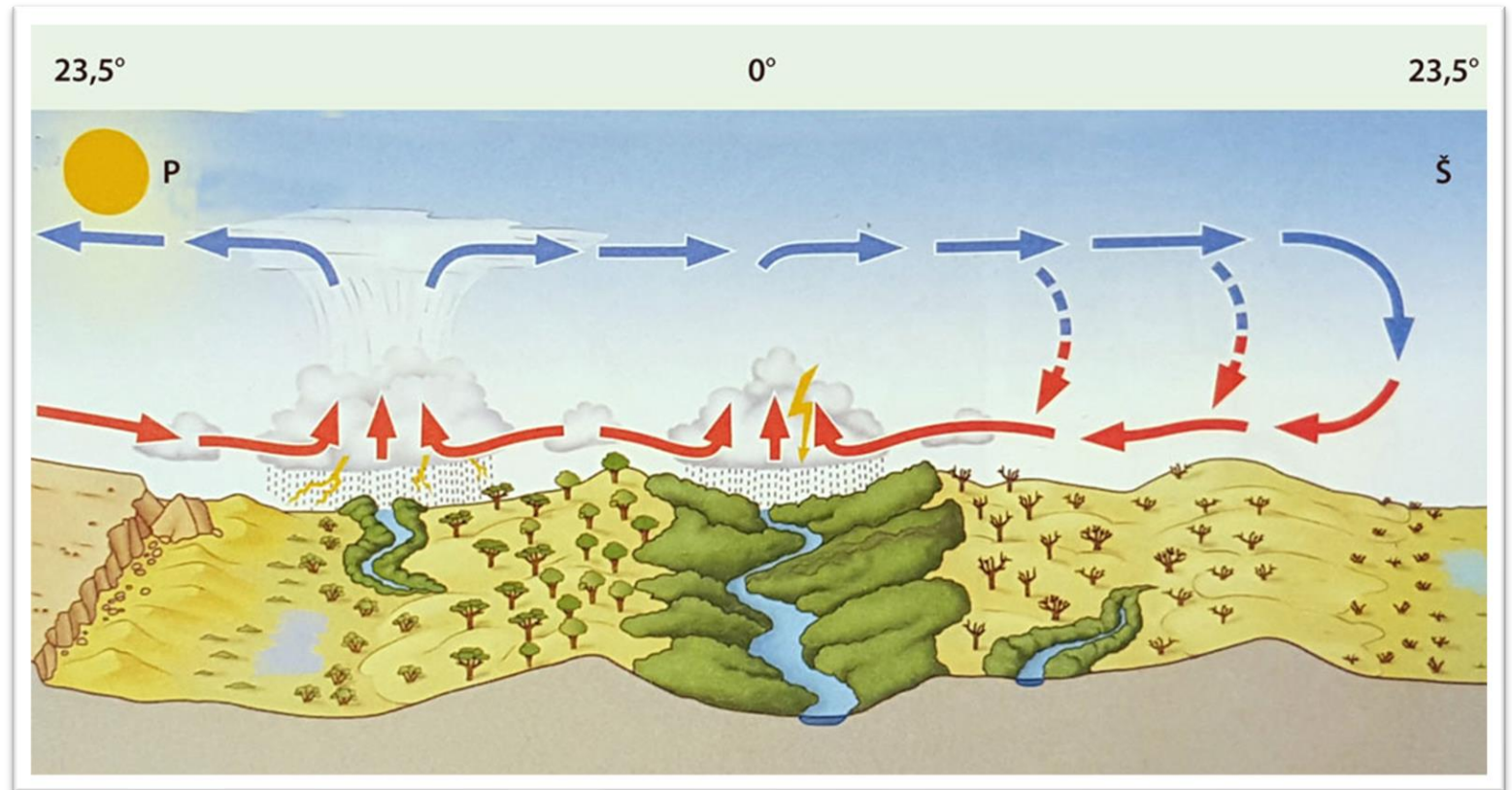
24. Ką reiškia datos šiame klimato žemėlapyje?

- A. Kritulių kiekio maksimumą
- B. Vasaros musono pradžios laiką**
- C. Vienodos oro temperatūros izotermas
- D. Žiemos musono pradžios laiką



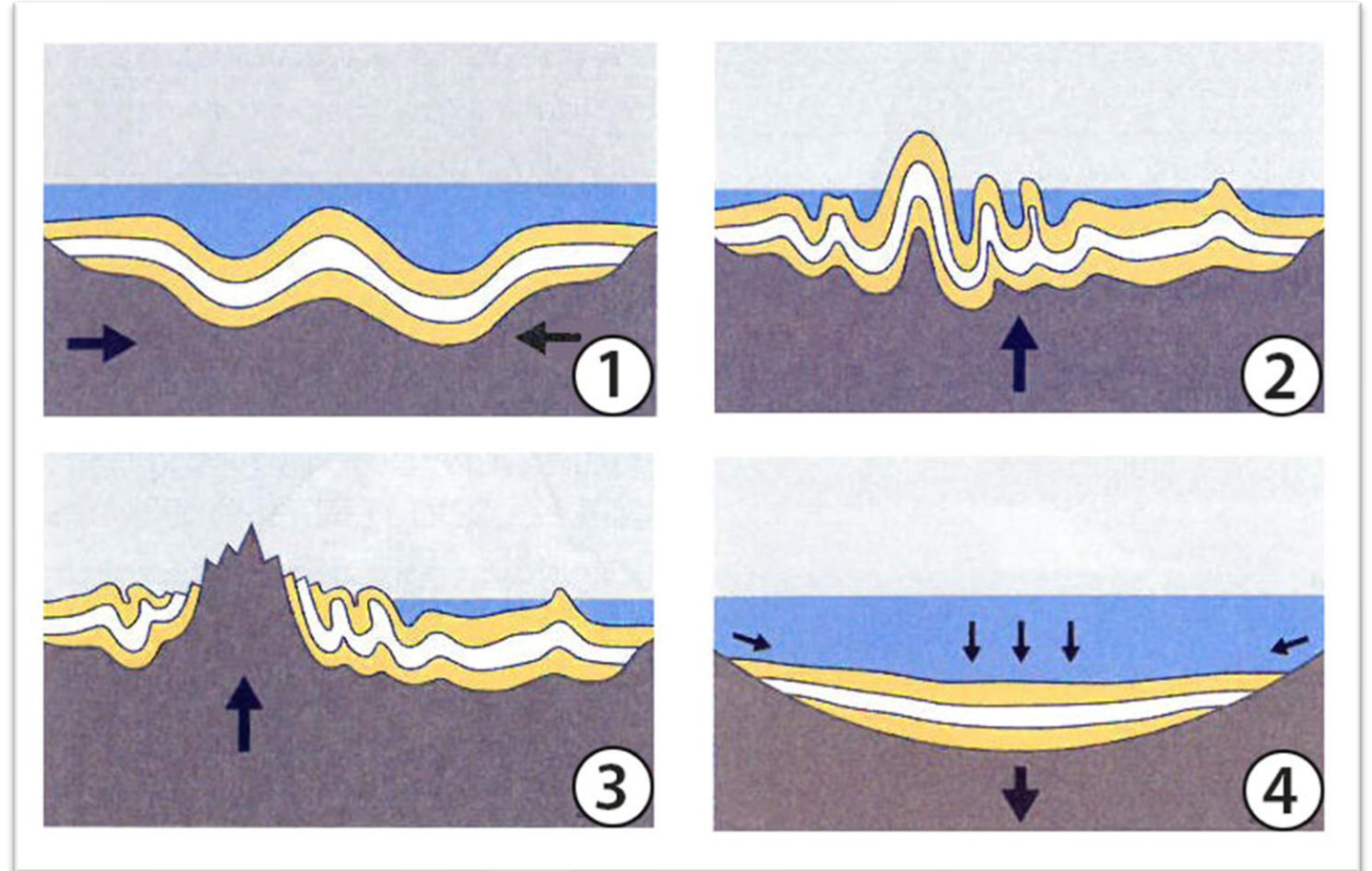
25. Kurį metų mėnesį vyksta tokia oro masių cirkuliacija tarp pusiaujo ir atogrąžų?

- A. Birželio mėn.
- B. Gruodžio mėn.**
- C. Kovo mėn.
- D. Rugsėjo mėn.



26. Kuriame atsakyme teisingai nurodytas raukšlinių kalnų susidarymo eiliškumas?

- A. 1, 2, 3, 4
- B. 1, 4, 2, 3
- C. 4, 3, 1, 2
- D. 4, 1, 2, 3**



27. Kuriame atsakyme teisingai nurodytas Alpių kalnų vertikalusis zoniškumas?

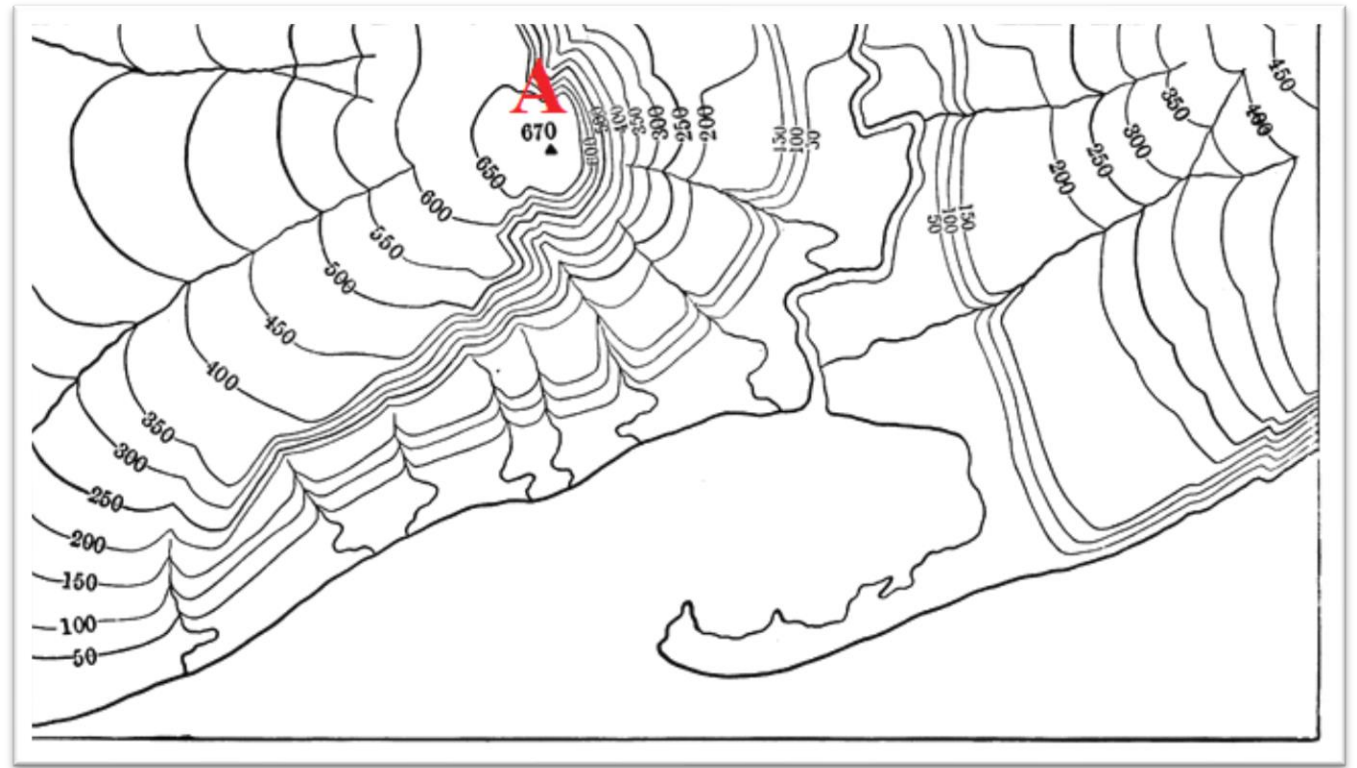
- A. 1, 2, 3, 4
- B. 2, 1, 4, 3
- C. 3, 4, 1, 2
- D. 4, 3, 2, 1



28. A kalvos rytinis šlaitas pavaizduotas vingiuotomis horizontalėmis.

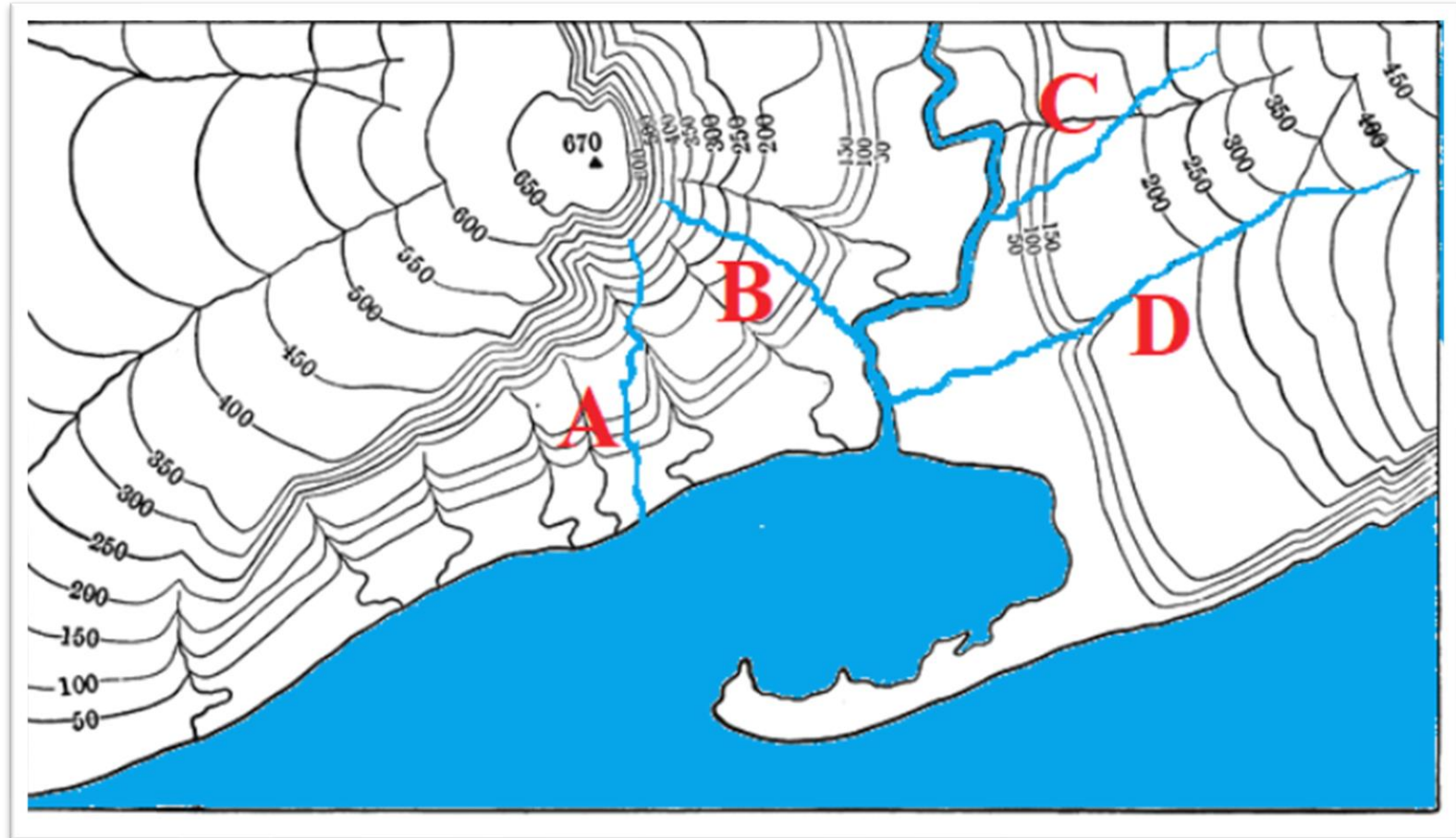
Koks procesas lėmė tokią šlaito formą?

- A. Ledyno veikla
- B. Stipraus vėjo veikla
- C. Vandens erozija**
- D. Žmogaus ūkinė veikla



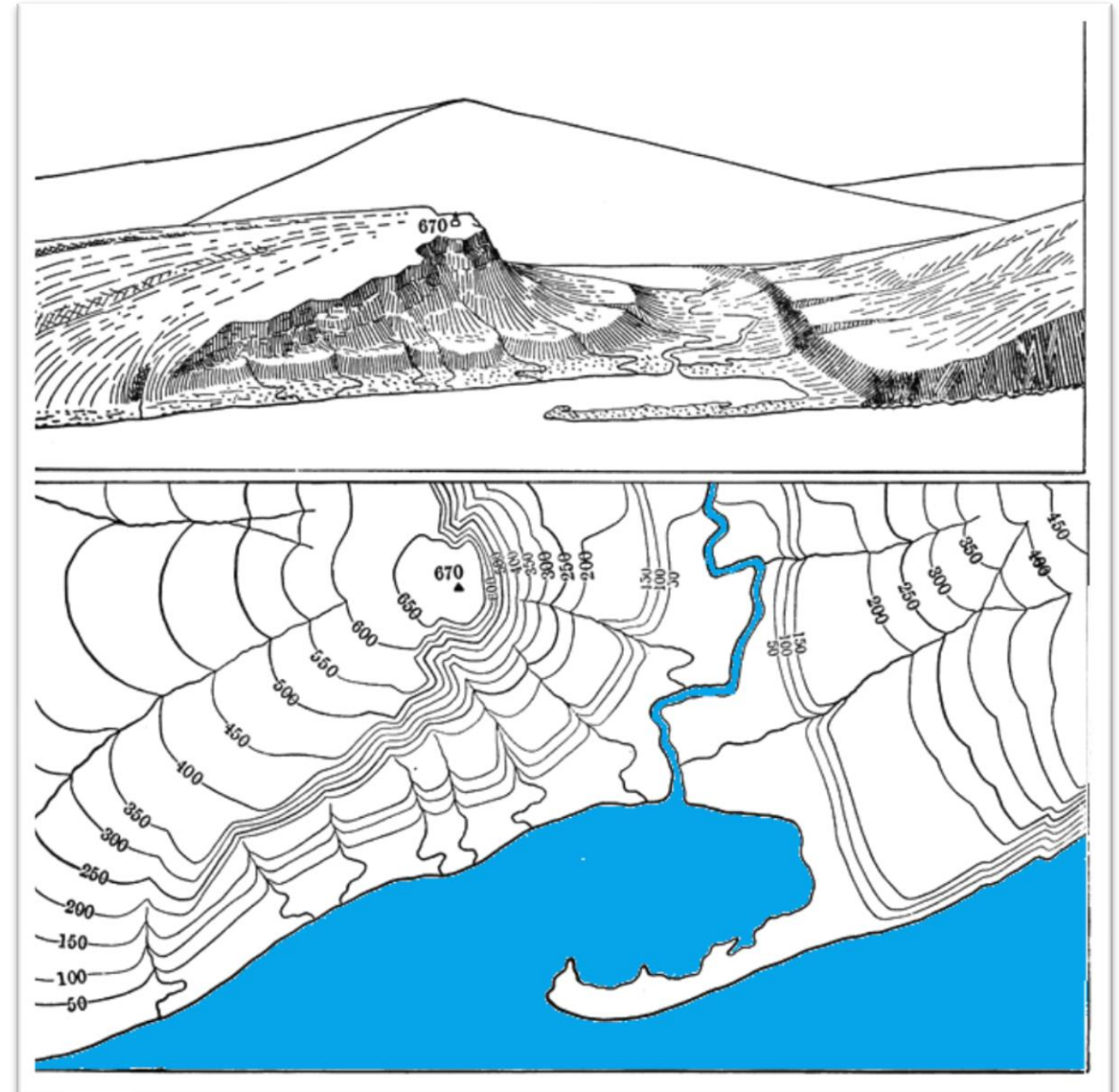
29. Kuriuo atveju – A, B, C ar D raide pažymėta tikroji upės vaga?

- A.
- B.
- C.
- D.



30. Kuris teiginys teisingas apie topografiniame plane matomos nerijos susiformavimą?

- A. Tai buvusios sausumos ruožas
- B. Tai dirbtinės kilmės sausuma, skirta išoriniam uostui statyti
- C. Tai priekrantės srovės akumuliacinės veiklos rezultatas**
- D. Tai upės sąnašų suklostyta sekluma



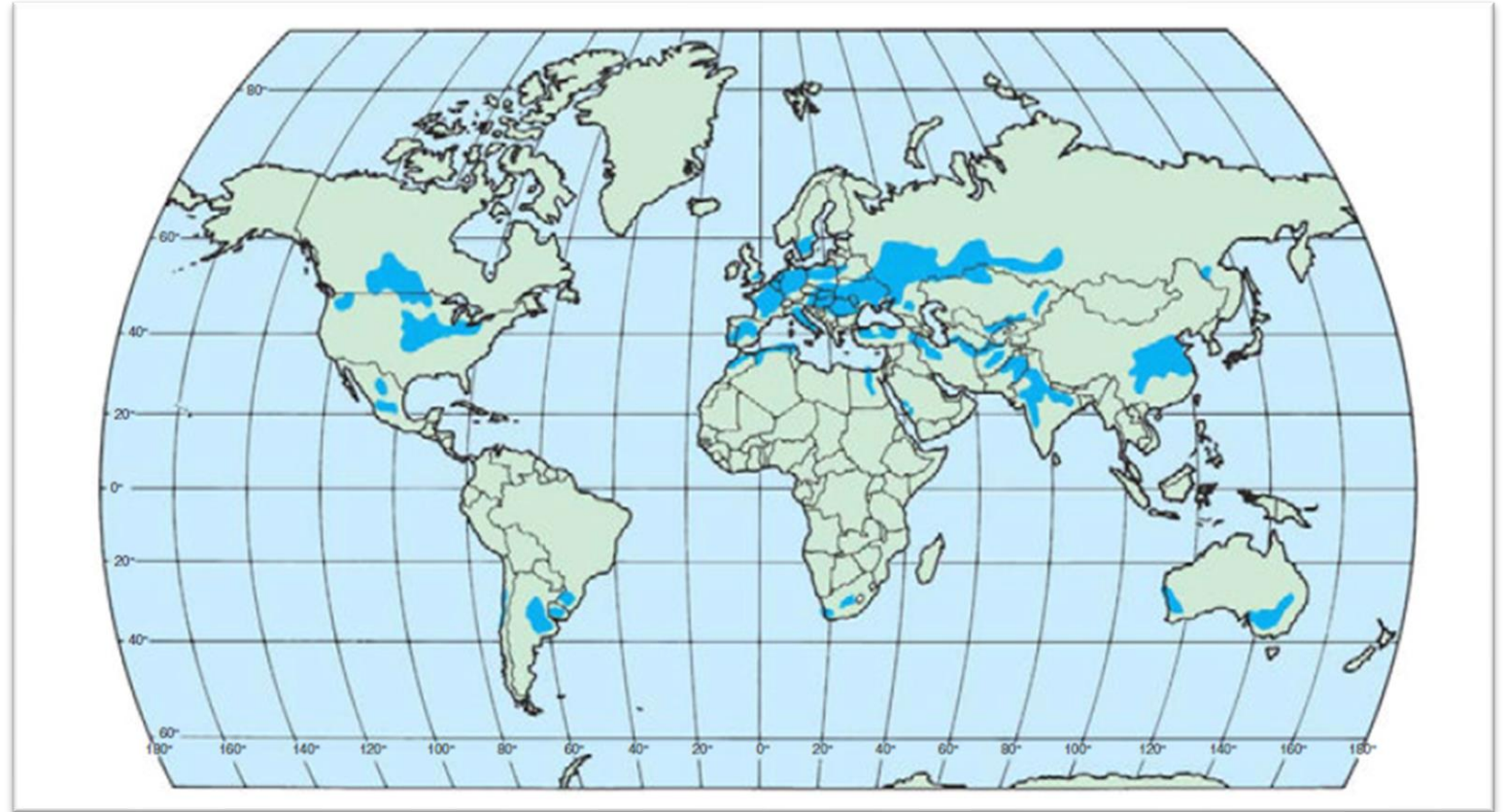
Užduotys 12 klasei

2020 m. geografijos olimpiada




1. Pasaulio žemėlapyje pažymėti vienos iš žemės ūkio kultūrų auginimo arealai. Kurios?

- A. Kviečių
- B. Kukurūzų
- C. Ryžių
- D. Sojų



2. Kuriame upės krante stovi raudonai apvestas pastatas?

- A. Dešiniajame
- B. Kairiajame**
- C. Rytiniame
- D. Vakariniam



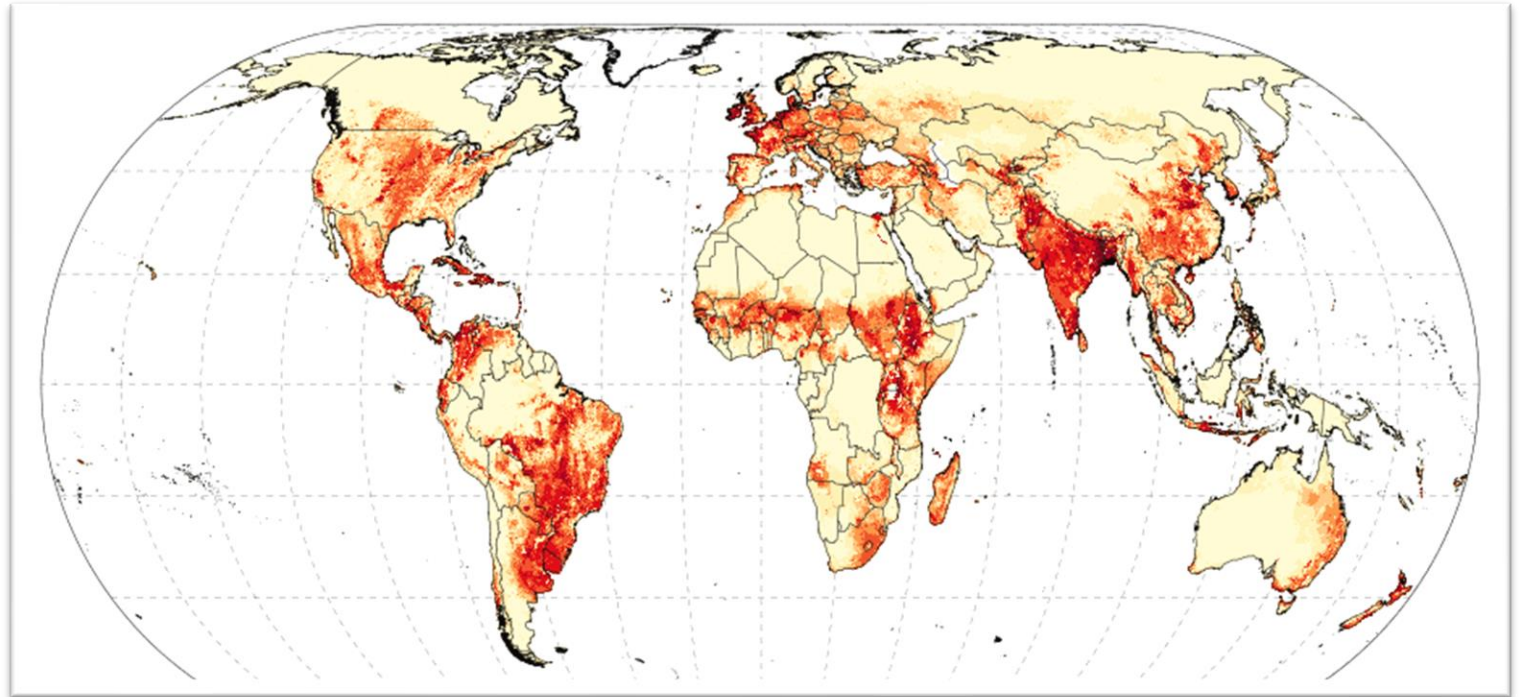
3. Kuri iš žemės ūkio inovacijų taikoma vis plačiau?

- A. Duomenų rinkimas dronais
- B. Irigacinė sistema
- C. Organinių trąšų naudojimas
- D. Žemdirbystė ant namų stogų



4. Kurios gyvulininkystės šakos pasiskirstymas matomas žemėlapyje?

- A. Avininkystės
- B. Galvijininkystės**
- C. Kiaulininkystės
- D. Paukštininkystės



5. Kuris teiginys tinka apibūdinti natūrinį žemės ūkį?

- A. Jam plėtoti skiriama daug investicijų, naudojama moderni technika, įvairios trąšos
- B. Paplitęs daugiausia stiprios ekonomikos šalyse
- C. Produkcija auginama šeimos ar bendruomenės poreikiams**
- D. Vyrauja žemės ūkio specializacija



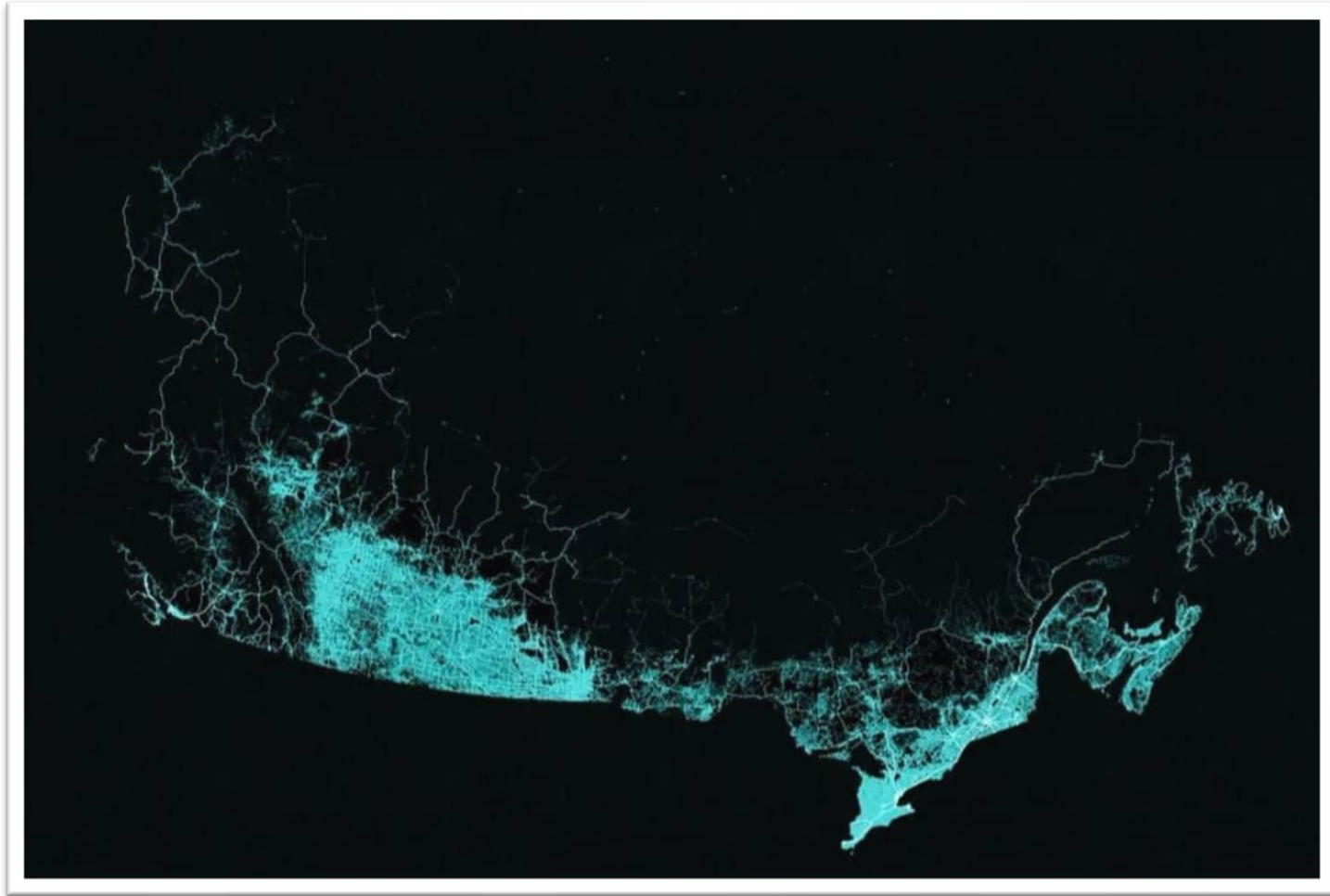
6. Kas vaizduojama šiame neįprastame pasaulio žemėlapyje?

- A. Pasaulio regionai, kurie išliks pakilus vandens lygiui
- B. Pasaulio regionai, kurie labiausiai bus užteršti po 80 metų
- C. Pasaulio regionai, kuriuose vidutinė gyvenimo trukmė ilgesnė nei 78,9 metai**
- D. Pasaulio regionai, kuriuose vyksta intensyvioji žemdirbystė

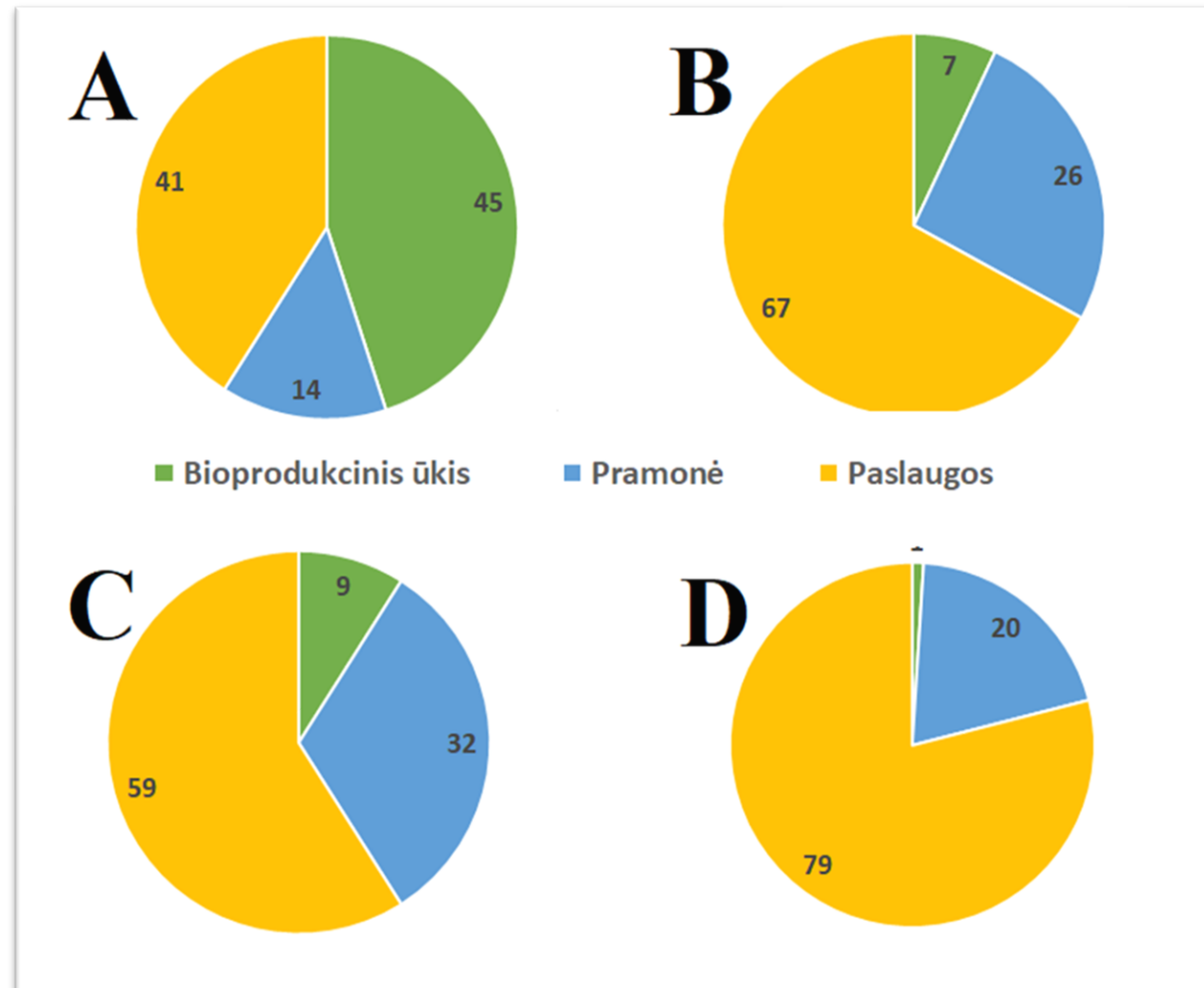


7. Kurios šalies kelių sistemą vaizduoja šis žemėlapis?

- A. JAV
- B. Kanados**
- C. Mongolijos
- D. Rusijos



8. Kurioje diagramoje parodyta Danijos ūkio struktūra pagal užimtumą ūkio sektoriuose?



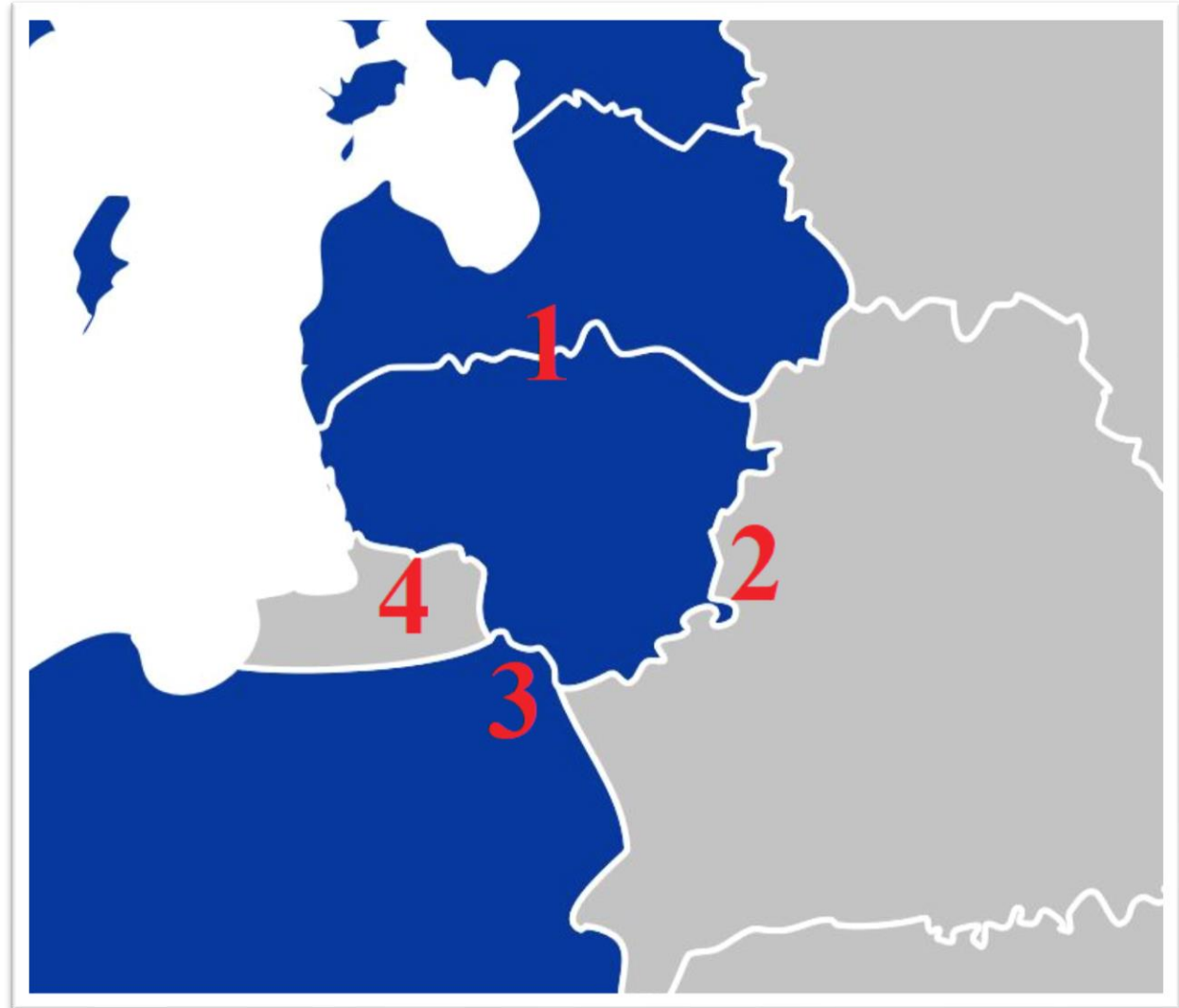
9. Kaip nekilnojamojo turto (NT) kainas veikia mokslo centrų ir technologijos įmonių kūrimas?

- A. NT kainos auga, nes atvyksta didesnes pajamas gaunantys darbuotojai
- B. NT kainos nesikeičia, nes miestuose jos ir taip aukštos
- C. NT kainos svyruoja, nes tokiose įmonėse vyksta sparti dirbančiųjų kaita
- D. NT kainos mažėja, nes tokiose įmonėse dirba mažai žmonių



10. Valstybių sienos skirstomos pagal jų apsaugos griežtumą. Kuriuose ruožuose Lietuva turi griežtai saugomą sieną?

- A. 1 ir 2
- B. 2 ir 4**
- C. 2 ir 3
- D. 1 ir 4



11. Tai oficialios ceremonijos akimirka, kai imperatorius Naruhito paskelbė įžengęs į Chrizantemų sostą. Kurioje valstybėje vyko ši senovinio Chrizantemų sosto perėmimo ceremonija?

- A. Japonijoje**
- B. Filipinuose
- C. Kambodžoje
- D. Malaizijoje



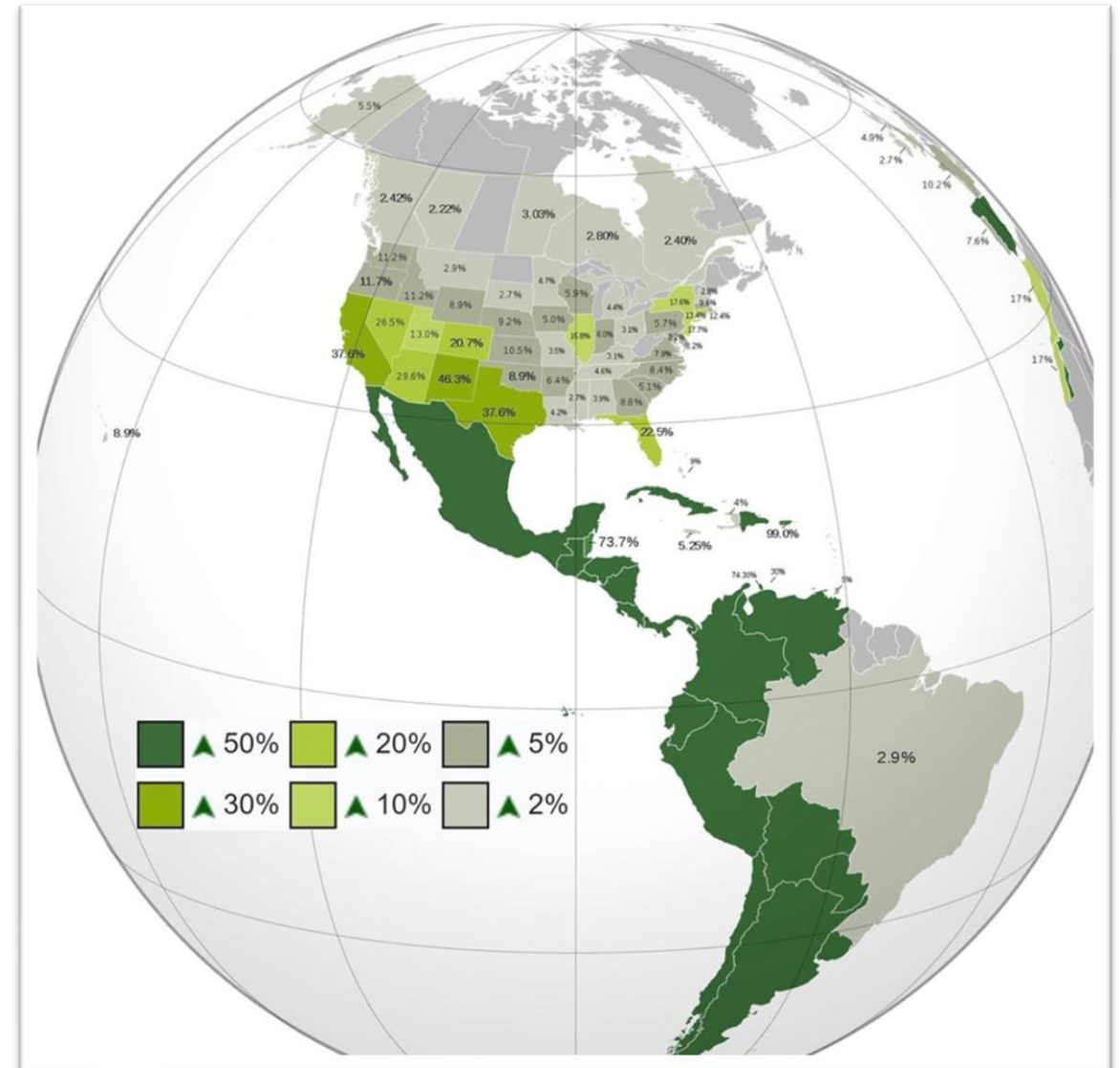
12. Kuris iš šių socialinės ir ekonominės galios rodiklių priklauso nuo valstybės gyventojų skaičiaus?

- A. Bendrasis vidaus produktas
- B. Gydytojų skaičius 1000-čiui gyventojų
- C. Natūralusis gyventojų prieaugis
- D. Žmonių socialinės raidos indeksas



13. Ką parodo procentiniai skaičiai Šiaurės ir Pietų Amerikos žemynuose?

- A. Ispaniškai kalbančių žmonių dalį
- B. Išlikusių indėnų dalį
- C. Kalnų dalį teritorijose
- D. Žemės ūkyje dirbančių žmonių dalį



14. Europos žemėlapyje matyti didžiausios toje valstybėje kapitalo įmonės logotipas. Kurios įmonės logo turėtų būti Lietuvos kontūre?

- A. Girteka logistik
- B. Maxima LT**
- C. Orlen Lietuva
- D. Sanitex



15. Masdaro projekte suplanuotas beatliekis miestas, naudojantis tik atsinaujinančius energijos šaltinius. Kurioje šalyje jis statomas?

- A. Australijoje
- B. JAE**
- C. JAV
- D. Pietų Korėjoje



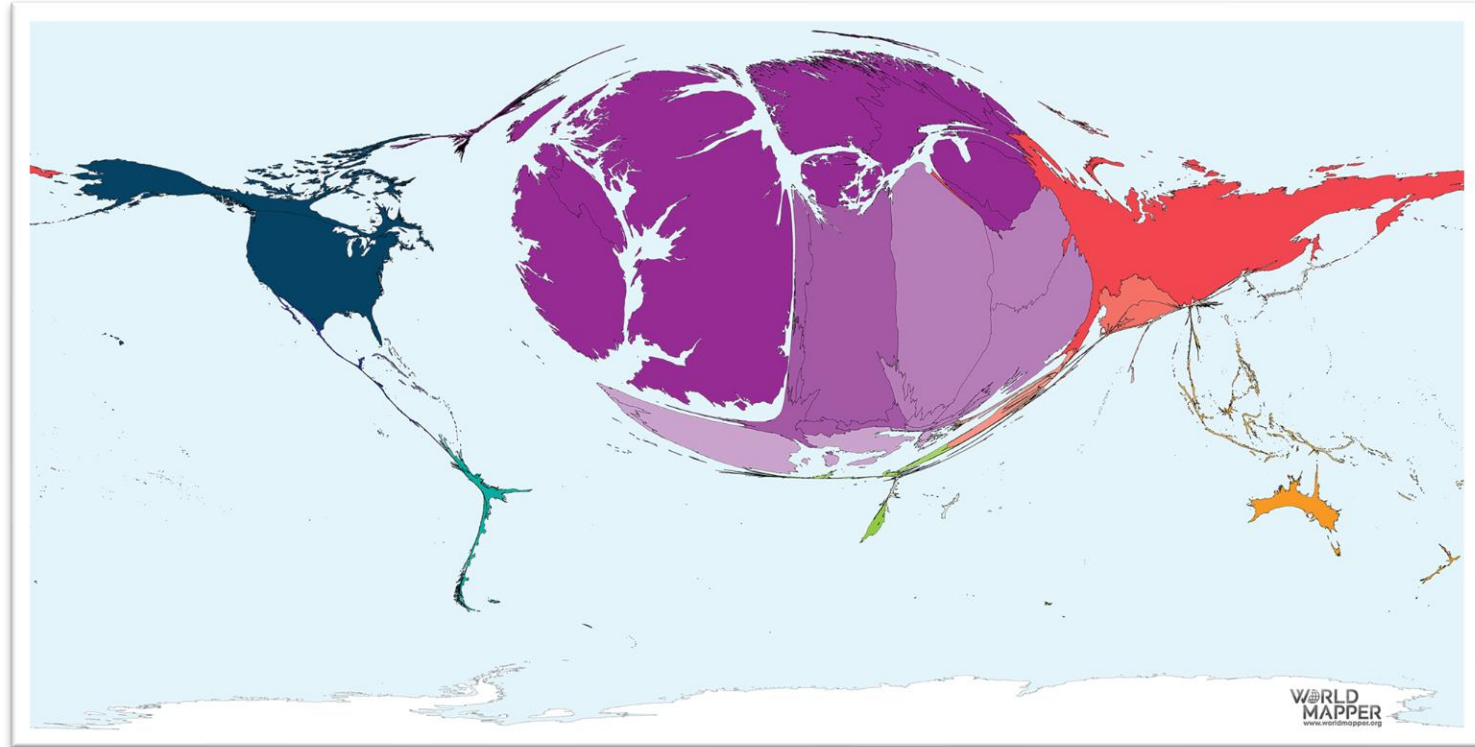
16. Išspręskite vėliavų uždavinį. Kurios teritorijos vėliavą gausime sudėję Lenkijos ir Japonijos vėliavas?

- A. Farerų
- B. Grenlandijos**
- C. Kanarų
- D. Laplandijos



17. Ką vaizduoja šis neįprastu būdu sudarytas žemėlapis?

- A. Emigraciją iš Lietuvos nuo 1990 metų
- B. Lietuvių poilsinių kelionių kryptis 2018 metais
- C. Užsienio produkcijos importą į Lietuvą
- D. Užsienio šalių darbuotojų skaičių Lietuvos įmonėse

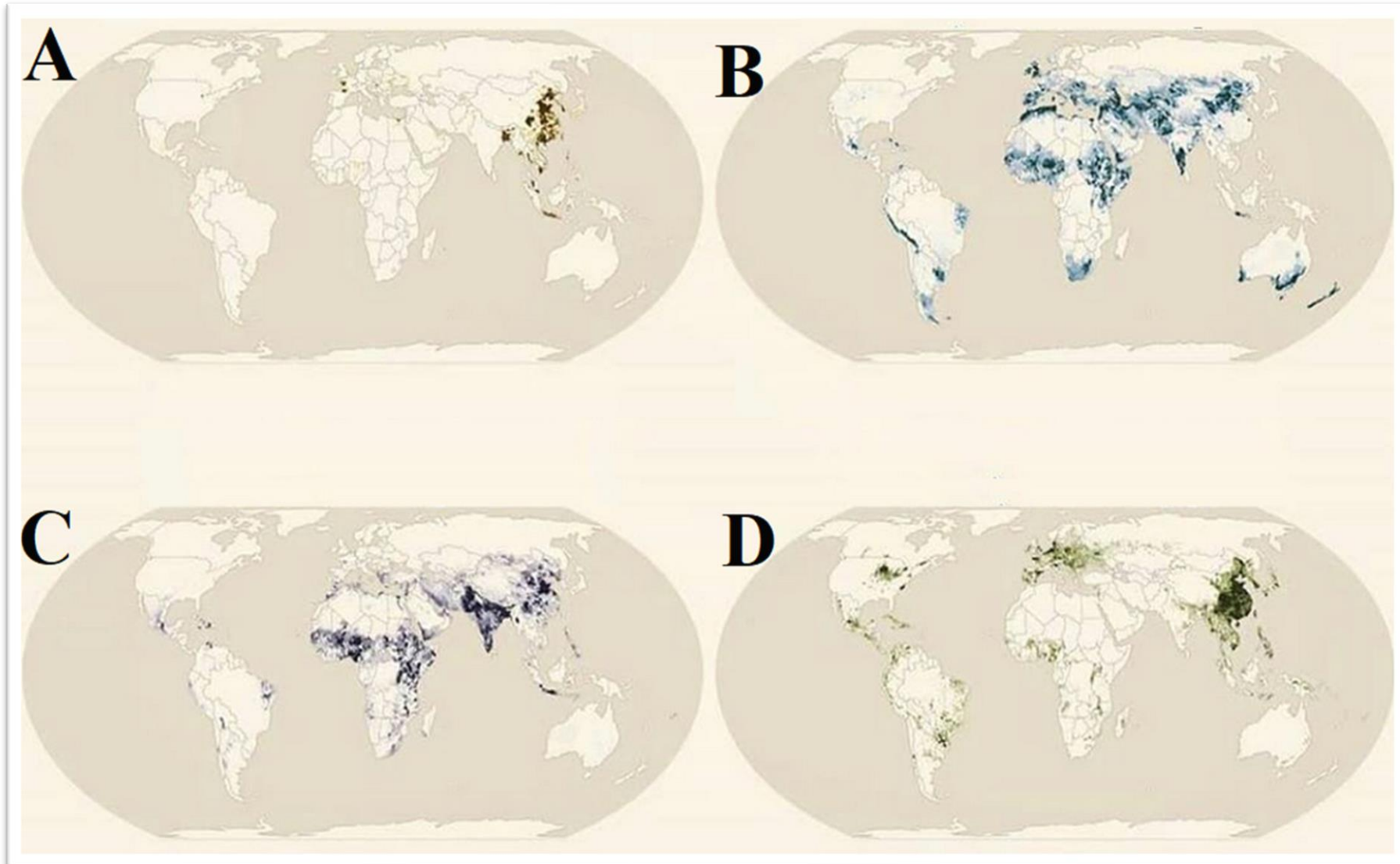


18. Kodėl mokslo ir technologijų centrai dažniausiai statomi priemiesčių teritorijose?

- A. Į užmiestį krovininiais automobiliais lengviau atgabenti žaliavas
- B. Mokslininkų didesnės pajamos, todėl didesnė jų dalis gyvena priemiesčių zonose
- C. Neužstatyta apylinkių žemė reikalinga galimai plėtrai ateityje**
- D. Tokiuose centruose dirba labai daug žmonių, todėl reikalingos didelės automobilių stovėjimo aikštelės



19. Kuriame žemėlapyje atspindi kiaulienos mėsos produkcijos pasiskirstymas pasaulyje?



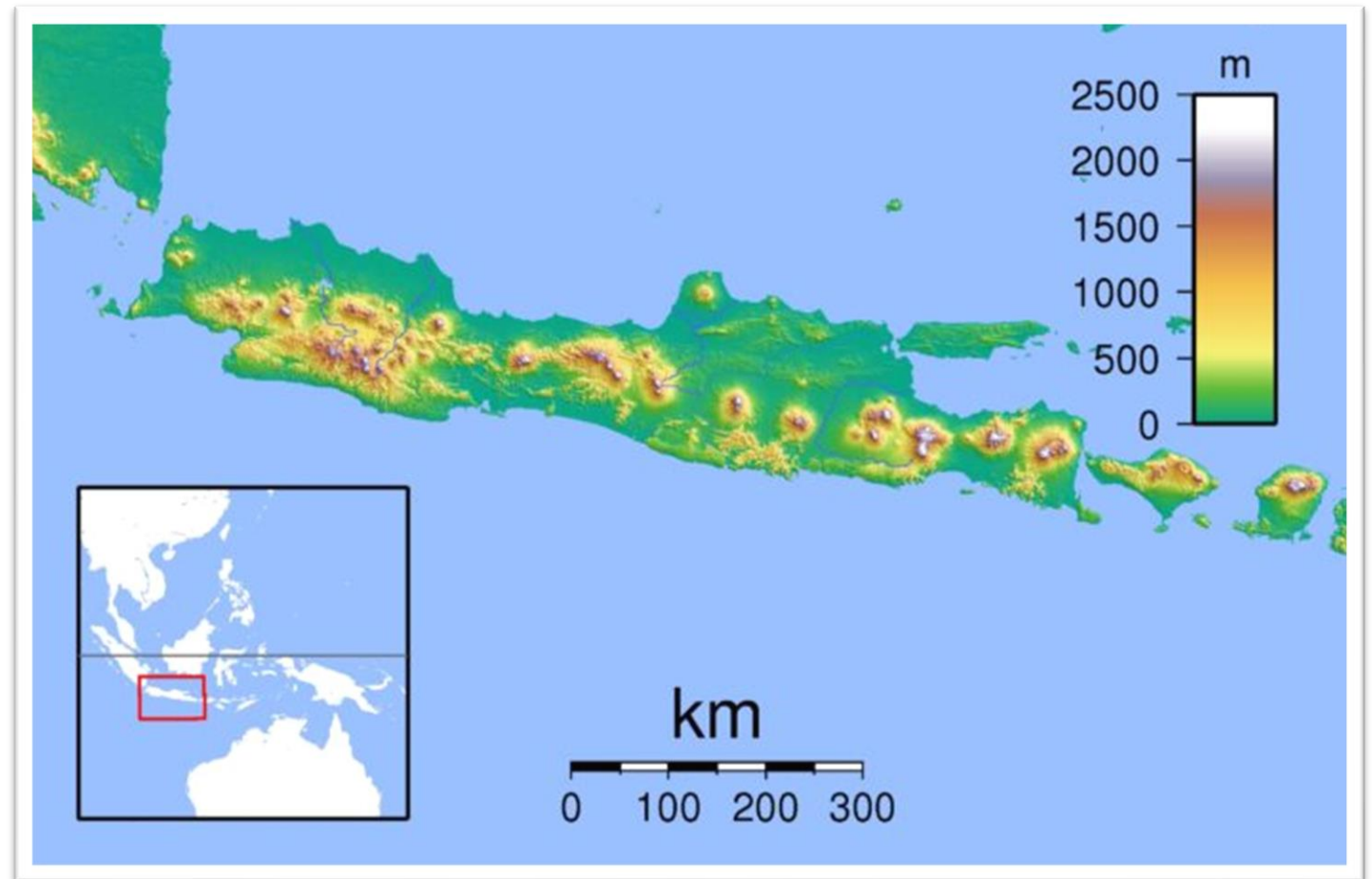
20. Kuris plačiai pasaulyje paplitęs produktas yra „kaltas“ dėl pusiaujo miškų naikinimo Indonezijoje?

- A. Cukranendrių cukrus
- B. Kukurūzai
- C. Palmių aliejus**
- D. Sojų pupelės



21. Kuris atsakymas, aiškinantis dėsninę ugnikalnių išsidėstymą Javos saloje, yra tiksliausias?

- A. Per salą driekiasi Ramiojo vandenyno Ugnies žiedas
- B. Po šia sala yra didžiulis magmos židiny
- C. Po šia vulkanine sala nyra Indijos-Australijos plokštės pakraštys**
- D. Sala yra dviejų litosferos plokščių pakraštyje

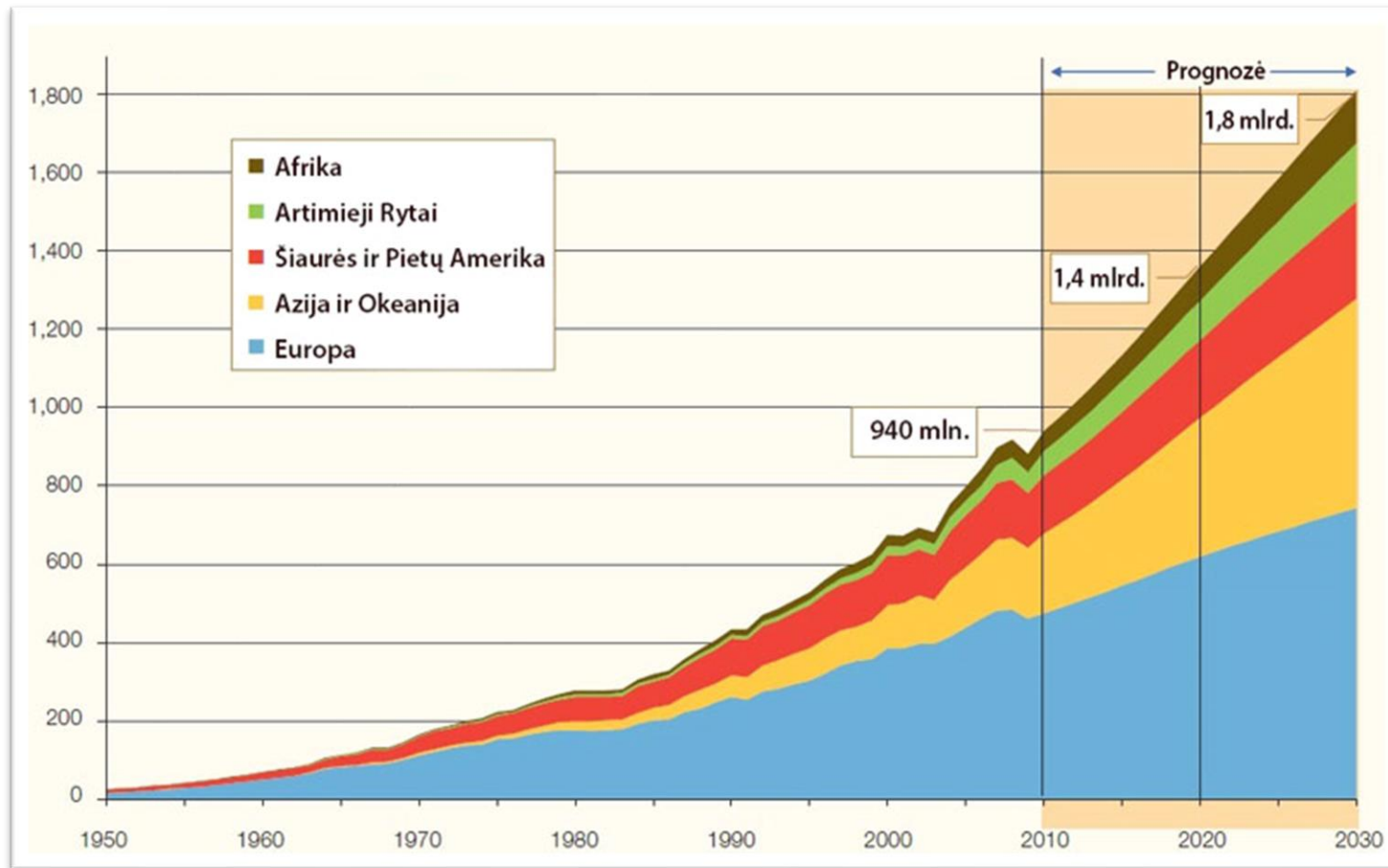


22. Kuris planinės ekonomikos požymis matomas nuotraukoje?

- A. Įmonės negali laisvai prekiauti
- B. Ribojamas vartojimas, būdingas deficitas**
- C. Valstybė planuoja gamybos poreikius ir apimtis
- D. Valstybės gamybos priemonių nuosavybė



23. Ką vaizduoja šis grafikas?



- A. Atvykstančiųjų turistų skaičiaus didėjimą regionuose
- B. Gyventojų skaičiaus didėjimą žemynuose ir regionuose
- C. Mineralinių išteklių naudojimo energetikai augimą regionuose
- D. Vėjo energetikos augimo potencialą


24. Kurios žemės ūkio kultūros derliaus nuėmimo akimirka užfiksuota šiame paveiksle?

- A. Cukranendrių
- B. Kukurūzų
- C. Medvilnės
- D. Sojų



25. Kurios Lietuvos elektrinės kompiuterinis modelis čia pavaizduotas?

- A. Elektrėnų šiluminės elektrinės
- B. Kauno hidroelektrinės
- C. Klaipėdos jau neveikiančios geoterminės elektrinės
- D. Kruonio hidroakumuliacinės elektrinės**



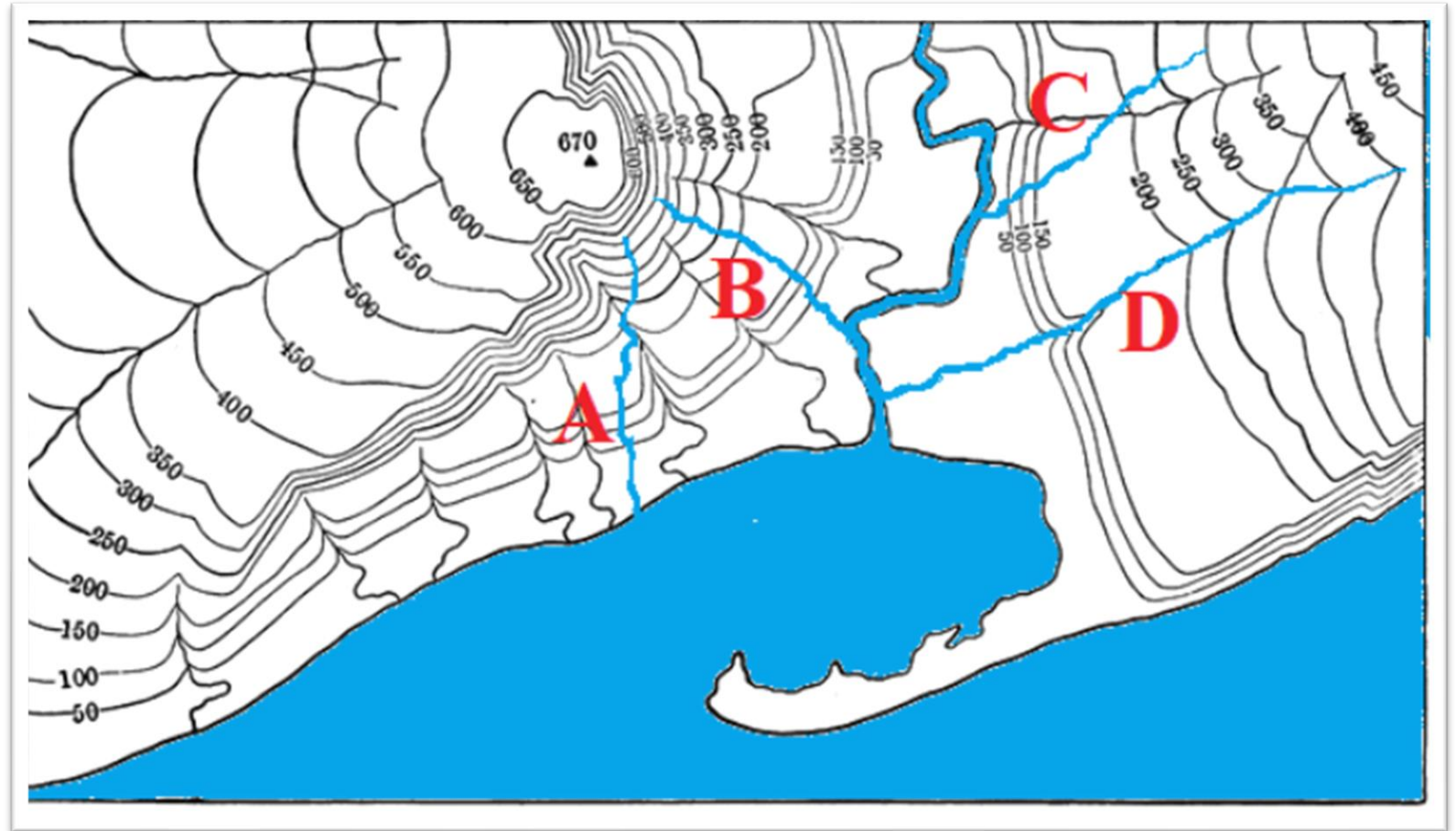
26. Ką vaizduoja kartoschemoje raudonai apibraukta teritorija?

- A. Islamo grupuotės įtaką regione
- B. Kurdų gyvenamą teritoriją**
- C. Technogeninės nelaimės taršos mastą
- D. Turkijos karo pajėgų veiklos zoną



27. Kuris azimutas iš B upės ištakų į A upės žiotis yra tiksliausias?

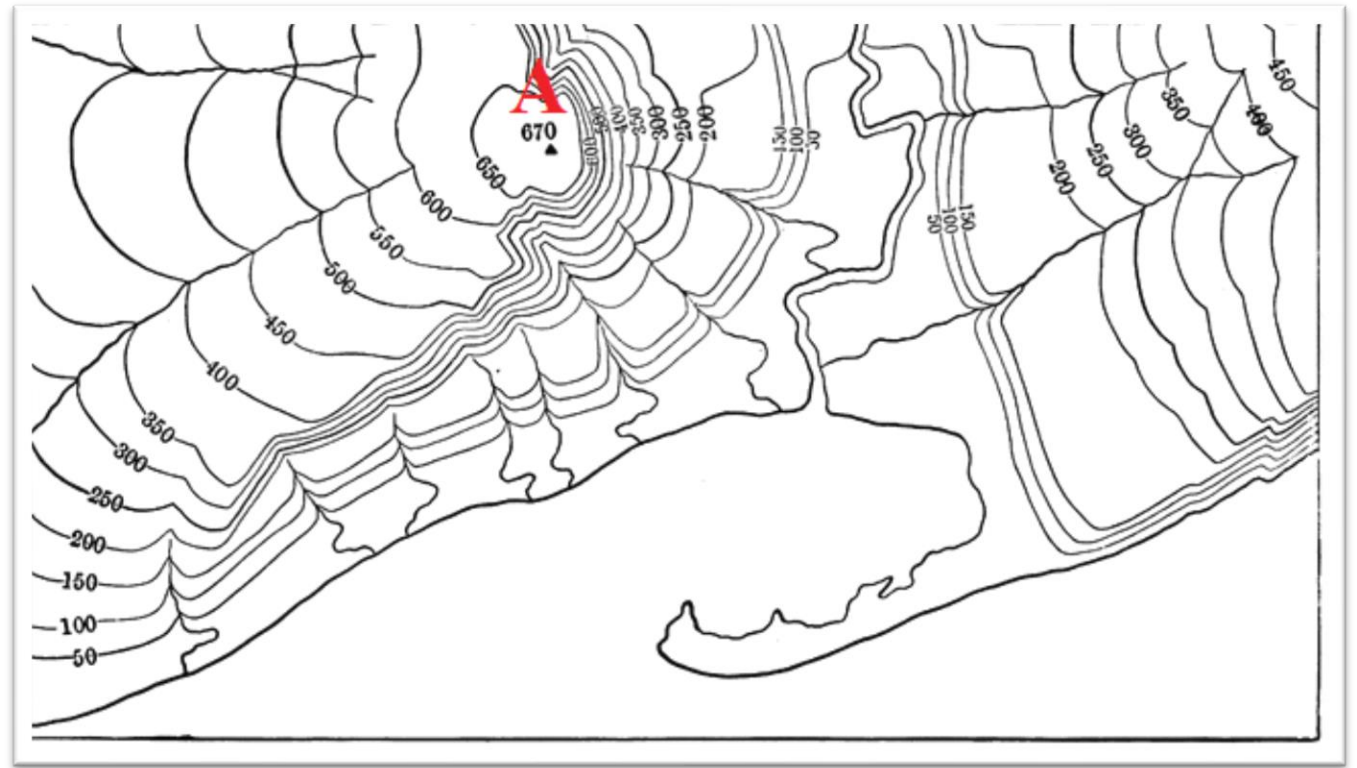
- A. 15°
- B. 50°
- C. 185°
- D. 275°



28. A kalvos rytinis šlaitas pavaizduotas vingiuotomis horizontalėmis.

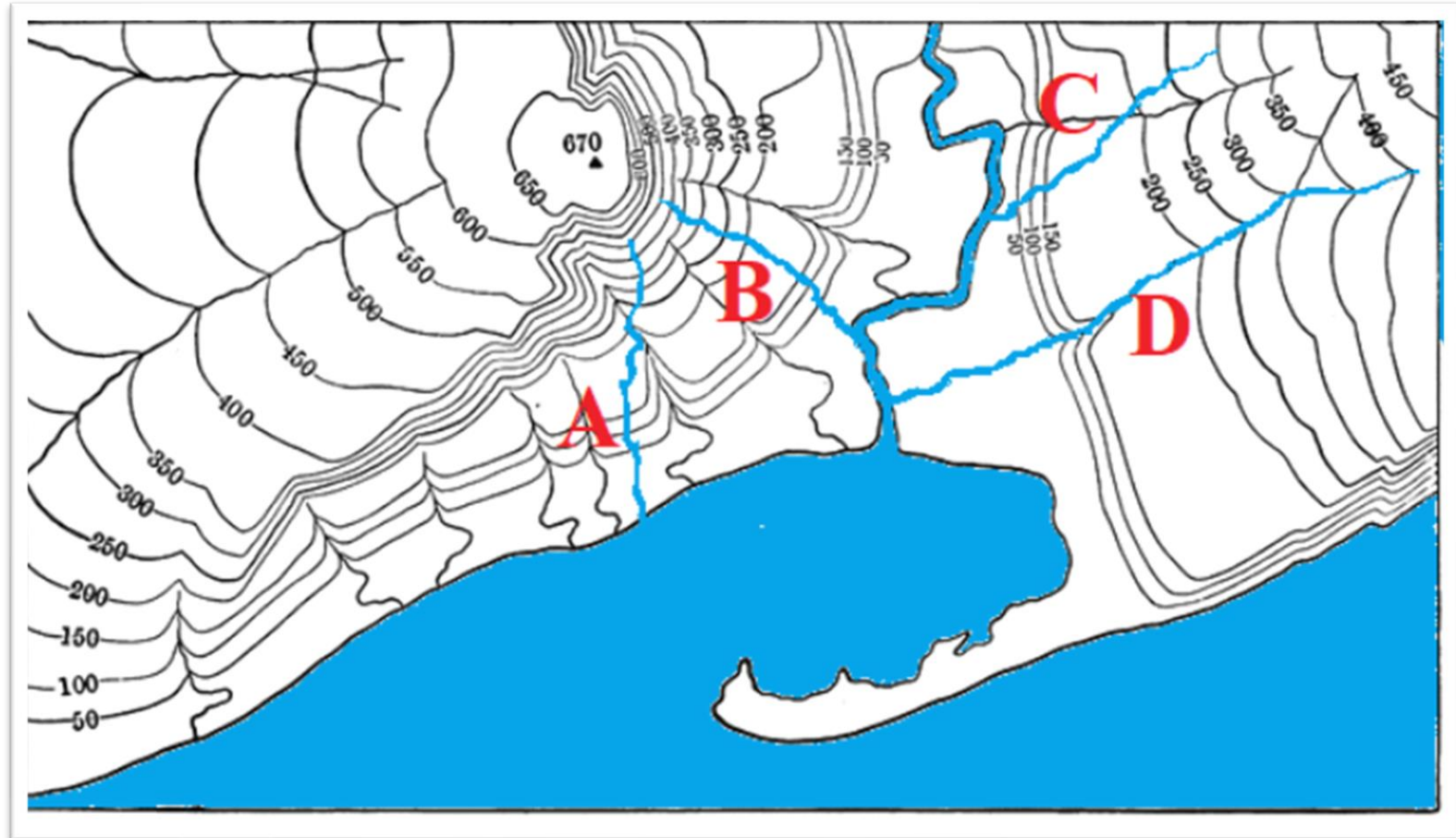
Koks procesas lėmė tokią šlaito formą?

- A. Ledyno veikla
- B. Stipraus vėjo veikla
- C. Vandens erozija**
- D. Žmogaus ūkinė veikla



29. Kuriuo atveju – A, B, C ar D raide pažymėta tikroji upės vaga?

- A.
- B.
- C.
- D.



30. Kuris teiginys teisingas apie topografiniame plane matomos nerijos susiformavimą?

- A. Tai buvusios sausumos ruožas
- B. Tai dirbtinės kilmės sausuma, skirta išoriniam uostui statyti
- C. Tai priekrantės srovės akumuliacinės veiklos rezultatas**
- D. Tai upės sąnašų suklostyta sekluma

